

제 4 교시

사회탐구 영역 (사회·문화)

성명		수험번호				2			
----	--	------	--	--	--	---	--	--	--

1. 밑줄 친 ㉠~㉣과 같은 현상의 일반적인 특징에 대한 설명으로 옳은 것은?

최근 지진으로 ㉠ 지하수와 토양 모래층이 섞이며 지반이 진흙탕처럼 물러지는 현상이 논에서 발견됐다. 이러한 현상에 대해 정부는 ㉡ 합동 조사단의 분석 결과 우려할 수준은 아니라고 발표했다. 전문가는 “액상화 지수가 높게 측정된 논은 가을 수확 후 ㉢ 건조한 날씨에 표층부가 단단하게 굳은 것으로 여름이었다면 문제될 일이 아니다.”라고 말했다. 또한 ㉣ “지하수 배수 작업과 지반 보강으로 대비할 수 있다.”고 하였다.

- ① ㉠과 같은 현상은 ㉡과 같은 현상과 달리 가치 함축적이다.
- ② ㉡과 같은 현상은 ㉢과 같은 현상과 달리 당위 법칙을 따른다.
- ③ ㉢과 같은 현상은 ㉣과 같은 현상과 달리 개연성으로 설명된다.
- ④ ㉣과 같은 현상은 ㉠과 같은 현상과 달리 확실성의 원리가 적용된다.
- ⑤ ㉠, ㉢과 같은 현상은 ㉡, ㉣과 같은 현상과 달리 보편성과 특수성이 공존한다.


2. 사회 불평등 현상을 바라보는 갑, 을의 관점에 대한 설명으로 옳은 것은?

사회적 희소가치의 배분 방식이 특정 집단에 의해 불공정하게 결정되었다고 생각해.

실시간 뉴스 00신문

소득 상위 20% 가구가 하위 20% 가구보다 소득이 10배 더 많아

사회적 희소가치가 개인마다 수행하는 사회적 역할의 중요도에 따라서 차등적으로 배분된 결과라고 생각해.



- ① 갑의 관점은 사회적 희소가치의 분배가 균등해질수록 사회적 효율성이 낮아진다고 본다.
- ② 을의 관점은 사회 불평등 현상을 보편적이고 불가피하다고 본다.
- ③ 갑의 관점은 을의 관점과 달리 직업의 중요도가 사회 전체의 필요에 의해 결정된다고 본다.
- ④ 을의 관점은 갑의 관점에 비해 부모의 계층이 자녀의 사회적 성공에 미치는 영향력이 크다고 본다.
- ⑤ 갑, 을의 관점 모두 개인의 성취동기가 사회적 지위 변동에 미치는 영향력을 간과한다는 한계가 있다.

3. 다음 표는 자료 수집 방법의 일반적인 특징을 분류한 것이다. (가)~(라)에 해당하는 내용을 <보기>에서 고른 것은? [3점]

자료 수집 방법	면접법	질문지법	참여 관찰법
특징	(가), (나)	(가), (다)	(나), (라)

— <보 기> —

ㄱ. (가) - 연구 대상자와의 언어적 상호 작용이 필수적이다.
 ㄴ. (나) - 연구 대상을 심층적으로 파악하기에 용이하다.
 ㄷ. (다) - 비구조화·비표준화된 자료 수집 방법이다.
 ㄹ. (라) - 예상치 못한 상황에 대한 통제가 용이하다.

- ① ㄱ, ㄴ ② ㄱ, ㄷ ③ ㄴ, ㄷ ④ ㄴ, ㄹ ⑤ ㄷ, ㄹ

4. 사회 집단의 유형 A~D에 대한 설명으로 옳은 것은? (단, A~D는 각각 공동 사회, 이익 사회, 1차 집단, 2차 집단 중 하나이다.)

○ 결합 의지에 따라 A, B로 구분된다.
 ○ 접촉 방식에 따라 C, D로 구분된다.
 ○ 가족은 일반적으로 B, C로 분류된다.

- ① A는 구성원에 대한 비공식적 통제가 일반적이다.
- ② B는 구성원들의 선택 의지에 따라 인위적으로 형성된다.
- ③ C의 구성원 간에는 전인격적 인간관계가 주로 나타난다.
- ④ A, D 모두 현대 사회에서 중요성과 비중이 감소하고 있다.
- ⑤ 일반적으로 회사는 A와 C, 학교는 B와 D로 분류된다.

5. 밑줄 친 ㉠~㉣에 대한 설명으로 옳은 것은? [3점]

<갑국 내 소수 민족 A의 문화에 대한 보고서>

1. 현황
 소수 민족 A는 갑국 내 자치구에서 고유의 ㉠ 문자와 언어를 사용하고 있다. ㉡ 모계 중심의 가족 제도를 가지고 있으며 전통의상을 고수하고 있다.

2. 문화적 변화
 갑국 ㉢ 문화가 일부 유입되는 과정에서 ㉣ 갑국 문화의 유입을 반대하는 민족 내 일부 사람들의 저항이 있었다. 이에 소수 민족 A는 ㉤ 자신들의 전통 문화를 창조적으로 계승하여 갑국 문화와 차별화를 추구하고 있다.

- ① ㉠을 통해 문화 요소의 전달과 축적이 가능하다.
- ② ㉡은 물질문화에 해당한다.
- ③ ㉢은 좁은 의미로 사용되었다.
- ④ ㉣은 반문화가 전체 문화로 변화된 사례이다.
- ⑤ ㉤은 문화 지체 현상에 해당한다.

6. 밑줄 친 ㉠ ~ ㉣에 대한 설명으로 옳은 것은? [3점]

연구자 갑은 청소년의 ㉠ 다문화 수용성에 ㉡ 이중 언어 교육이 미치는 영향을 알아보기 위한 ㉢ 연구를 수행하였다. 이를 위해 ㉣ A지역 남자 고등학교에서 이중 언어 교육을 받은 학생과 그렇지 않은 학생을 각각 500명씩 무작위로 추출한 이후, ㉤ 문화 개방성과 교류 행동의 의지 정도를 지수화하여 설문 조사를 하였다. 분석 결과, ㉥ 이중 언어 교육을 받을수록 다문화 수용성이 높다는 유의미한 결과가 나타났다.

- ① ㉠은 독립 변인, ㉡은 종속 변인이다.
- ② ㉢은 질적 연구 방법에 기초한 것이다.
- ③ ㉣에 대한 연구 결과를 모집단에 일반화할 수 있다.
- ④ ㉤을 통해 개념의 조작적 정의가 이루어졌음을 알 수 있다.
- ⑤ ㉥으로 보아 갑은 가설 검증에 실패하였다.

7. 다음에 나타난 문화 이해의 태도 (가), (나)에 대한 설명으로 옳은 것은?

태도	사 례
(가)	갑국은 이민자 국가들의 문화를 자국보다 미개하다고 판단하고, 이민자들에게 갑국 문화의 우수성을 강조하며 이를 배워 수용하도록 강제하였다.
(나)	을국 사람들은 오랫동안 자신들의 언어는 저급하지만 병국의 언어는 선진화된 것이라고 여겨왔다. 그 결과 을국에서는 병국의 언어가 널리 통용되고 있다.

- ① (가)는 타문화의 장점을 객관적으로 파악하기에 유용하다.
- ② (나)는 자기 문화에 대한 자부심을 강화시킨다.
- ③ (가)는 (나)와 달리 타문화의 수용에 긍정적이다.
- ④ (나)는 (가)와 달리 문화의 다양성을 보존하는 데 기여한다.
- ⑤ (가), (나) 모두 문화를 이해가 아닌 평가의 대상으로 본다.

8. 개인과 사회의 관계를 바라보는 갑, 을의 관점에 대한 설명으로 옳은 것은?

갑: 최근에 낮은 혼인율이 심각한 사회문제가 되고 있습니다. 개인의 의지로 해결될 문제가 아니므로 청년 일자리 창출 등 국가적 차원의 제도 개선이 필요합니다.
 을: 아닙니다. 혼인의 결정 여부는 온전히 개인의 자율적 의지에 달려 있습니다. 그러므로 혼인에 대한 개인의 의식 개혁 없이는 해결할 수 없습니다.

- ① 갑의 관점은 개인의 능동성이 사회의 구속성보다 우선한다고 본다.
- ② 갑의 관점은 사회 규범은 개인이 옳다고 믿기에 존재한다고 본다.
- ③ 을의 관점은 개인의 속성이 사회의 속성을 결정한다고 본다.
- ④ 을의 관점은 사회가 개인의 외부에 존재하는 고유한 실체라고 본다.
- ⑤ 을의 관점은 갑의 관점과 달리 개인은 집단 전체와의 관련 속에서만 존재 의미를 지닌다고 본다.

9. <자료 2>는 <자료 1>의 사회·문화 현상을 바라보는 관점 A, B의 공통점과 차이점을 나타낸 것이다. (가) ~ (다)에 들어갈 수 있는 내용으로 옳은 것은? [3점]

<자료 1>
 A는 사회 전체 질서 유지를 위한 수단으로 구성원들의 행동을 규제할 규범이 필요하며, 이러한 사회 규범은 사회 전체의 합의를 바탕으로 성립된다고 본다. 반면 B는 기득권을 보호하고 피지배 계급을 통제하기 위한 수단으로써 사회 규범이 이용된다고 본다.

<자료 2>

- ① (가) - 사회 구성원들의 상황 정의를 중시한다.
- ② (가) - 집단 간 갈등을 필연적인 현상으로 본다.
- ③ (나) - 사회가 스스로 균형을 회복하려는 속성이 있다고 본다.
- ④ (다) - 사회를 내재적 모순으로 인한 불안정 상태로 본다.
- ⑤ (다) - 사회 유지에 필요한 기능의 상호 의존성에 관심을 둔다.

10. 다음 자료에 대한 옳은 분석을 <보기>에서 고른 것은? [3점]

◇◇ 신문

경제 분야의 여성 차별 실태

갑국은 남성 중심의 가부장적인 문화로 인해 여성들의 경제활동에 대한 차별이 심하다. 2017년 기준으로 갑국 100대 기업의 임원 중 여성 비율은 20%에 불과하다. 같은 연도에 갑국의 남성 근로자의 평균 근속 연수는 여성 근로자의 평균 근속 연수의 4배였다. 그리고 2017년 전체 남성 근로자 중 60%가 정규직으로 고용된 반면, 전체 여성 근로자 중 55%가 정규직으로 고용되었다.

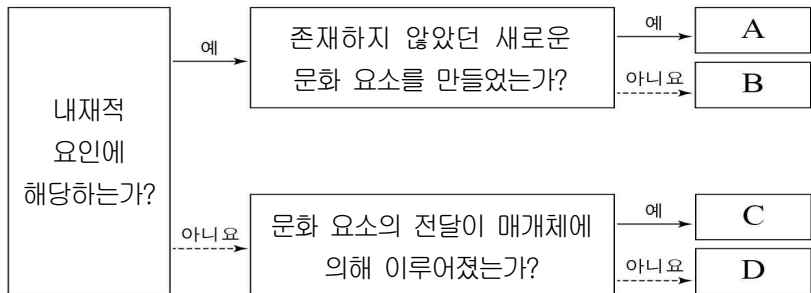
* 갑국의 근로자는 정규직과 비정규직으로만 구분함.

—<보 기>—

- ㄱ. 2017년 갑국 100대 기업에서 남성 임원은 여성 임원의 4배이다.
- ㄴ. 2017년 전체 근로자 중 정규직으로 고용된 사람의 비율은 55% 초과 60% 미만이다.
- ㄷ. 2017년 남성 근로자의 평균 근속 연수 대비 여성 근로자의 평균 근속 연수는 50%이다.
- ㄹ. 2017년 전체 근로자 중 여성 비정규직 근로자 수가 남성 비정규직 근로자 수보다 많다.

- ① ㄱ, ㄴ ② ㄱ, ㄷ ③ ㄴ, ㄷ ④ ㄴ, ㄹ ⑤ ㄷ, ㄹ

11. 그림은 문화 변동의 요인 A ~ D를 구분한 것이다. 이에 대한 설명으로 옳은 것은? (단, A ~ D는 각각 발견, 발명, 간접 전파, 직접 전파 중 하나이다.) [3점]



- ① A는 발명, D는 직접 전파가 적절하다.
- ② C의 사례로 새로운 세균을 찾아내는 것을 들 수 있다.
- ③ D는 구성원의 자발성에 기초한 문화 접변을 전제로 한다.
- ④ A는 C와 달리 서로 다른 문화 간 대중 매체를 통한 접촉에서 나타난다.
- ⑤ D는 B와 달리 새로운 문화 요소 추가의 원인이 된다.

12. 표는 사회·문화 현상의 연구 방법 A, B를 비교한 것이다. 이에 대한 설명으로 옳은 것은?

질문	연구 방법	A	B
(가)		예	아니요
(나)		예	예
사회·문화 현상에 내재된 법칙 발견을 통한 일반화를 목적으로 하는가?		아니요	예

- ① (가)에는 '계량화된 자료 수집과 통계 분석을 중시하는가?'가 적절하다.
- ② (나)에는 '경험적 자료에 근거한 결론 도출을 추구하는가?'가 적절하다.
- ③ A는 연구 과정에서 연구자의 감정 이입적인 이해와 직관적 통찰을 배제하고자 한다.
- ④ B는 사회·문화 현상에 대한 자의적인 해석 가능성이 높다는 비판을 받는다.
- ⑤ A는 방법론적 일원론, B는 방법론적 이원론을 바탕으로 한다.

13. 다음 자료에 대한 설명으로 옳지 않은 것은? [3점]

공무원이었던 갑은 퇴직 후 귀향하였다. 평소 운동을 좋아한 갑은 마을 주민들이 자율적으로 결성한 ㉠게이트볼 동호회에서 건강 관리를 하고 있다. 그리고 지난 6개월간 ㉡농촌진흥청이 실시한 귀농 프로그램에 참가하여 영농 기술을 배웠다. 또한 주말에는 환경 보호와 관련된 ㉢시민 단체 활동에 참여하여 즐거운 삶을 살고 있다.

질문	사회 집단	㉠	㉡	㉢
(가)		예	아니요	예
(나)		예	예	아니요

- ① ㉡은 과업 달성을 목적으로 하는 사회 조직이다.
- ② ㉢은 공익을 추구하는 공식 조직에 해당한다.
- ③ ㉡은 ㉠보다 구성원의 역할과 책임이 명확하다.
- ④ (가)에는 '자발적 결사체에 해당하는가?'가 적절하다.
- ⑤ (나)에는 '공식 조직 내의 구성원을 전제로 형성되는가?'가 적절하다.

14. 다음에 나타난 우리나라 사회 보장 제도 유형 A, B의 일반적 특징에 대한 옳은 설명을 <보기>에서 고른 것은? (단, A, B는 각각 공공 부조와 사회 보험 중 하나이다.)

사회 보장 제도 상담 FAQ

▼ 🔍

질문: A 제도 중에서 은퇴 이후 생활 안정을 위한 복지 제도에는 어떤 것이 있나요?
 답변: 국가가 운영하는 연금 공단에 매달 보험료를 납부하고 일정한 연령이 되면 연금을 받을 수 있습니다.

▼ 🔍

질문: 현재 소득으로는 최소한의 인간다운 생활을 유지하기 어려운데 B 제도로 도움을 받을 방법이 없을까요?
 답변: 가구의 소득이 일정 기준 이하일 경우 생계, 의료, 주거, 교육을 위한 비용을 지원 받을 수 있습니다.

<보 기>

- ㄱ. A는 B에 비해 소득 재분배 효과가 크다.
- ㄴ. A는 B와 달리 강제 가입을 원칙으로 한다.
- ㄷ. B는 A에 비해 사후 처방적 성격이 강하다.
- ㄹ. A, B 모두 비금전적 지원을 원칙으로 한다.

- ① ㄱ, ㄴ ② ㄱ, ㄷ ③ ㄴ, ㄷ ④ ㄴ, ㄹ ⑤ ㄷ, ㄹ

15. 갑 ~ 병의 대화에 나타난 일탈 이론에 대한 옳은 설명만을 <보기>에서 있는 대로 고른 것은? [3점]

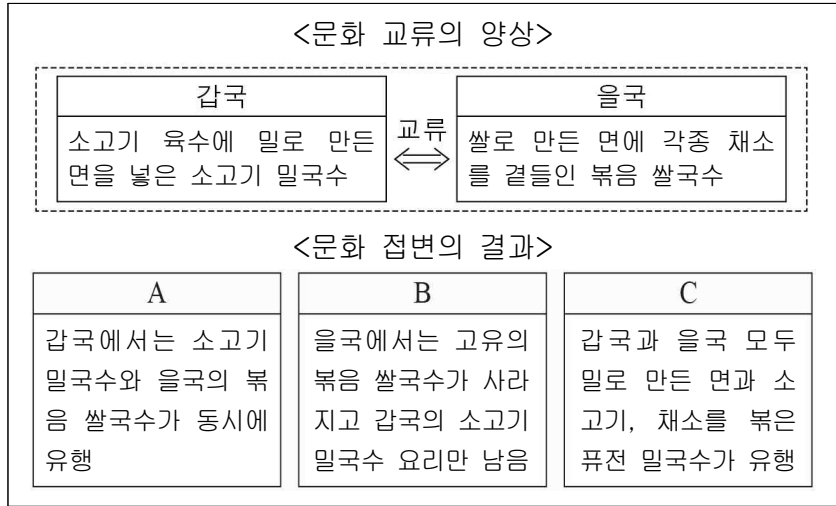
사회자: A가 왜 범죄를 저질렀다고 생각하십니까?
 갑: A가 처음 죄를 저지르고 난 다음에 사회적으로 범죄자라는 의미를 부여 받아 부정적 자아가 형성되었기 때문입니다.
 을: 목표 달성을 위한 합법적 수단이 제공되지 않았기 때문에 A는 범죄를 수단으로 목표를 달성하고자 했을 것입니다.
 병: A의 주변 인물들에 주목해야 합니다. A는 일탈 경험이 있는 친구들로부터 범죄 기법을 배우고 이를 실행에 옮겼을 것입니다.

<보 기>

- ㄱ. 갑의 이론은 을의 이론과 달리 특정한 행동을 일탈 행동으로 규정하는 객관적 기준이 없다고 본다.
- ㄴ. 을의 이론은 병의 이론과 달리 미시적 관점에서 일탈을 바라본다.
- ㄷ. 병의 이론은 갑의 이론과 달리 일탈자와의 접촉 차단을 일탈 해결의 방안으로 제시한다.
- ㄹ. 을, 병의 이론은 갑의 이론과 달리 A가 사회적 인식을 내면화하는 과정에 주목한다.

- ① ㄱ, ㄷ ② ㄴ, ㄷ ③ ㄴ, ㄹ
- ④ ㄱ, ㄴ, ㄹ ⑤ ㄱ, ㄷ, ㄹ

16. 문화 접변의 결과 A~C에 대한 설명으로 옳은 것은? (단, A~C는 각각 문화 동화, 문화 융합, 문화 공존 중 하나이다.)



- ① A는 특정 문화 요소의 성질이 변형되어 정착된다.
- ② B는 문화 공존이다.
- ③ C는 제3의 문화 요소가 나타난다.
- ④ A는 B와 달리 문화 요소의 소멸이 나타난다.
- ⑤ B는 C와 달리 자극 전파를 전제로 발생한다.

17. 밑줄 친 ㉠~㉥에 대한 설명으로 옳은 것은? [3점]

교내 봉사 ㉠ 동아리 부장인 갑은 지난 한 해 동안 ㉡ 초등학교 돌봄 교실에서 교육 봉사를 하면서 학생들이 좋아하는 ㉢ 놀이 학습을 기획하여 실시하였고 담당 교사와 학생들의 ㉣ 부모들로부터 ㉤ 칭찬을 받았다. 이에 자신감을 얻은 갑은 다음 학기에 만날 학생들과 함께할 새로운 놀이 학습에 대해 ㉥ 고민하고 있다.

- ① ㉡은 비공식적 사회화 기관이자 2차적 사회화 기관이다.
- ② ㉣은 갑의 역할에 대한 보상이다.
- ③ ㉤은 갑의 역할 갈등이다.
- ④ ㉥은 갑의 ㉠이라는 지위에 따른 역할에 해당한다.
- ⑤ ㉠과 ㉣은 모두 후천적으로 얻어지는 지위이다.

18. 그림은 서술형 평가 문제와 학생 답안이다. 밑줄 친 ㉠~㉥ 중 옳은 것은?

서술형 평가

◎ 문제: 사회 불평등 현상을 설명하는 이론 A, B를 비교하십시오.

A: 사람들 간의 불평등한 관계는 생산 수단의 소유 여부만으로 결정된다.

B: 소유의 종류나 기술, 신용 등도 계급 분화에 영향을 주며, 명예나 위신 같은 요인도 사회 내에서 다양한 위계를 만들어 낸다.

◎ 학생 답안

A와 B를 비교하면 A는 ㉠ 경제적 불평등이 정치적 불평등에 종속되고 서로 다른 경제적 위치에 있는 ㉡ 집단 간의 위계가 연속적이라고 본다. 또한 현대 사회의 ㉢ 지위 불일치 현상을 설명하기에 용이하다. 반면에 B는 ㉣ 동일 집단 구성원 간의 강한 연대 의식을 강조하며, ㉤ 다차원적 측면에서 사회 불평등 현상을 규정한다.

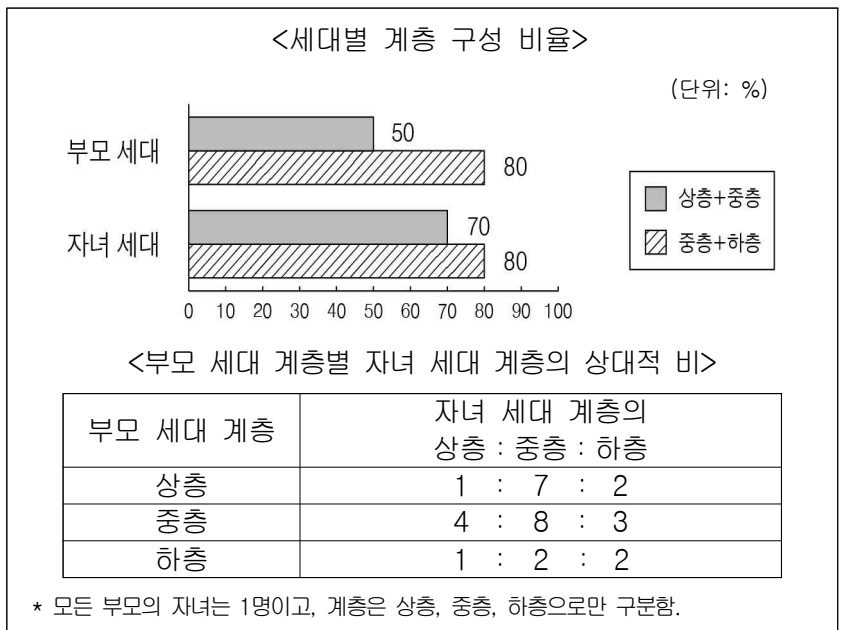
- ① ㉠ ② ㉡ ③ ㉢ ④ ㉣ ⑤ ㉤

19. 다음 두 사례에서 공통적으로 부각되는 문화의 속성에 대한 진술로 가장 적절한 것은?

- A국에서는 포장지가 나쁜 기운을 막아준다는 의미가 있어, 대부분의 사람들은 음식을 섭취할 때 포장지로 잡고 먹는다.
- B국에서는 새끼손가락을 세우는 행위가 금기시 되어 있다. 이 행위가 다른 나라에서는 약속을 의미하지만, B국 사람들에게는 상대방에 대한 멸시로 인식된다.

- ① 문화는 새로운 문화 요소가 추가되어 점점 더 풍부해진다.
- ② 한 부분의 문화 요소가 변동하면 연쇄적인 변동이 나타난다.
- ③ 문화는 시간의 흐름에 따라 기존 요소가 사라지거나 변화한다.
- ④ 문화는 특정 상황에서 상대방의 행동 방식을 예측할 수 있게 한다.
- ⑤ 문화의 구성 요소는 전체 속에서 다른 것들과 유기적인 관련을 맺으며 존재한다.

20. 자료에 대한 옳은 분석을 <보기>에서 고른 것은? [3점]



- <보 기>
- ㄱ. 세대 간 계층 유지 비율이 이동 비율보다 크다.
 - ㄴ. 세대 간 상승 이동한 사람이 하강 이동한 사람보다 많다.
 - ㄷ. 자녀 세대 계층 대비 계층이 대물림된 비율은 하층에서 가장 높다.
 - ㄹ. 부모 세대 계층 구조는 자녀 세대 계층 구조보다 사회 통합에 유리하다.

- ① ㄱ, ㄴ ② ㄱ, ㄷ ③ ㄴ, ㄷ ④ ㄴ, ㄹ ⑤ ㄷ, ㄹ

* 확인 사항

- 답안지의 해당란에 필요한 내용을 정확히 기입(표기)했는지 확인하십시오.