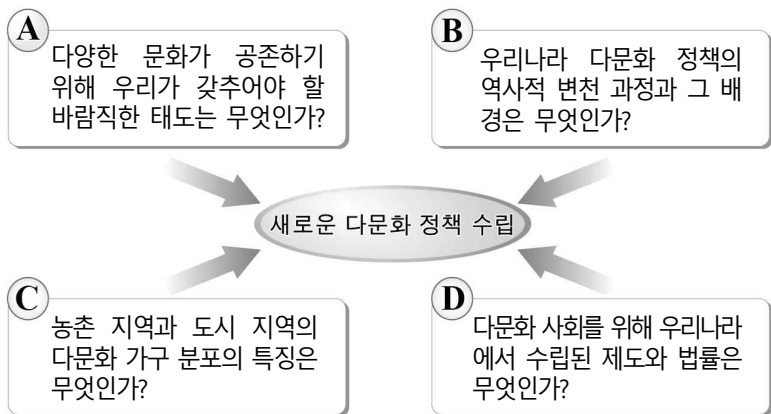


제 4 교시

탐구 영역 (통합사회)

성명		수험번호					1		
----	--	------	--	--	--	--	---	--	--

1. 그림의 A~D는 다문화 정책 수립을 위한 탐구 주제이다. 이에 대한 옳은 설명을 <보기>에서 고른 것은?



<보 기>

ㄱ. A는 자신과 타인의 이익을 고려해 정책을 모색하고자 한다.
 ㄴ. B는 시대적 맥락을 토대로 다문화 정책을 살펴보고자 한다.
 ㄷ. D는 개인에게 영향을 미치는 사회 구조와 정책을 간과한다.
 ㄹ. A는 공간적 관점, C는 시간적 관점에서 접근하고 있다.

- ① ㄱ, ㄴ ② ㄱ, ㄷ ③ ㄴ, ㄷ ④ ㄴ, ㄹ ⑤ ㄷ, ㄹ

2. ㉠~㉣에 대한 설명으로 옳지 않은 것은? [3점]

근로 계약서

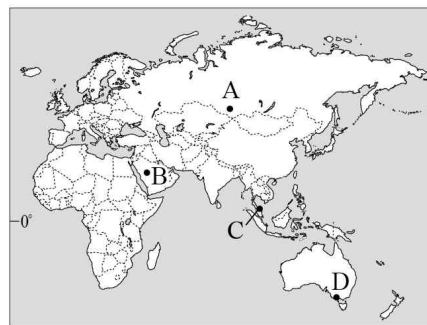
김○○(40세, 이하 “사업주”라 함)과 ㉠ 박○○(17세, 이하 “근로자”라 함)은 다음과 같이 ㉡ 근로 계약을 체결한다.

- 계약 기간: 2018. 1. 1. ~ 2018. 2. 28.
- 근무 장소: ○○편의점(주소)
- 업무 내용: 제품 진열 및 계산
- 근무일/휴일: 주 5일 근무
- ㉢ 근로 시간: 10:00 ~ 15:00
- ㉣ 임금: ㉤ 시간급 6,000원을 매월 1일 근로자 명의 예금 통장에 입금

* 단, 2018년 최저 임금은 시간급 7,530원임.

- ① ㉠은 연소 근로자에 해당한다.
 ② ㉢의 경우 사용자는 휴게 시간을 주어야 한다.
 ③ ㉠은 ㉡을 체결할 경우 법정 대리인의 동의가 필요하다.
 ④ ㉠은 법정 대리인의 동의 없이 독자적으로 ㉢을 청구할 수 있다.
 ⑤ ㉠은 ㉢에 합의한 경우 최저 임금을 요구할 수 없다.

3. (가), (나)와 같은 전통 가옥이 주로 분포하는 지역을 지도의 A~D에서 고른 것은?



- | | | |
|---|-----|-----|
| | (가) | (나) |
| ① | A | B |
| ② | A | C |
| ③ | B | C |
| ④ | B | D |
| ⑤ | D | A |

4. 기본권 (가)~(라)에 대한 옳은 설명을 <보기>에서 고른 것은?

기본권	우리나라 헌법 관련 조항
(가)	제11조 ① 모든 국민은 법 앞에 평등하다.
(나)	제12조 ① 모든 국민은 신체의 자유를 가진다.
(다)	제24조 모든 국민은 법률이 정하는 바에 의하여 선거권을 가진다.
(라)	제31조 ① 모든 국민은 능력에 따라 균등하게 교육 받을 권리를 가진다.

<보 기>

ㄱ. (나)는 적극적 성격의 권리에 해당한다.
 ㄴ. (다)는 국가의 정치 과정에 참여할 수 있는 권리이다.
 ㄷ. (라)는 (나)와 달리 현대 복지 국가에서 그 중요성이 약해지고 있다.
 ㄹ. (가)와 (나)는 모두 천부인권의 성격을 가진다.

- ① ㄱ, ㄴ ② ㄱ, ㄷ ③ ㄴ, ㄷ ④ ㄴ, ㄹ ⑤ ㄷ, ㄹ

5. 갑은 긍정, 을은 부정의 대답을 할 질문으로 옳은 것은? [3점]

갑: 생태계 전체의 구성원인 인간은 동료나 전체 공동체에 대해 존경심을 가져야 한다. 어떤 것이 생태계 전체의 온전성 등에 기여하면 옳고, 그렇지 않으면 그르다.
 을: 인간의 자연에 대한 지배권은 오직 기술과 학문의 발달에 달려 있다. 방황하는 자연을 사냥해서 노예로 만들어 인간의 이익에 봉사하도록 해야 한다.

- ① 개별 구성원의 존속이 생태계 전체의 보전보다 우선하는가?
 ② 이성적으로 사고할 수 있는 인간은 도덕적 존중의 대상인가?
 ③ 인간 이외의 자연은 인간의 이익에 기여할 때 가치가 있는가?
 ④ 풍요로운 삶을 위해 인간은 자연을 관찰하고 이용해야 하는가?
 ⑤ 인간은 자연의 지배자가 아니라 단지 구성원 중 하나일 뿐인가?

6. 다음은 (가), (나) 지역의 다큐멘터리 촬영 일지이다. 이에 대한 옳은 설명을 <보기>에서 고른 것은? [3점]

촬영 시기: 12월
 - ㉠ 풍부한 지열을 이용한 발전소
 - 화산 탐방객 및 노천 수영장 이용객과의 인터뷰

촬영 시기: 6월
 - ㉡ 빙하의 침식으로 발달한 깊은 협곡과 이곳을 오가는 유람선
 - 늦게까지 해가 지지 않는 밤

— < 보 기 > —

㉠. ㉠은 화력 발전보다 온실가스 배출량이 많다.
 ㉡. ㉡은 지형 조건을 활용한 관광 산업의 사례이다.
 ㉢. (가)는 지각판의 경계에 위치하여 지진이 자주 발생한다.
 ㉣. (나)는 우리나라보다 저위도에 위치한다.

- ① ㉠, ㉡ ② ㉠, ㉢ ③ ㉡, ㉣ ④ ㉡, ㉣ ⑤ ㉢, ㉣

7. 다음은 지역 조사를 위한 모둠 활동의 한 장면이다. ㉠ ~ ㉣에 대한 설명으로 옳지 않은 것은? [3점]

갑: 우리는 담장 벽화로 새롭게 단장한 ○○마을에 대해 알아볼 거야. 이곳은 ㉠ 낙후된 지역의 문제를 도시 재생 사업을 통해 해결한 곳으로 유명해.

을: ○○마을은 벽화가 생기기 전엔 어떤 모습이었을까?

병: 그건 ㉡ 과거의 거리뷰(Street viewership) 사진을 검색해보고, 구청에서 인구 자료를 확인하면 돼.

정: 요즘 마을의 벽화를 보러 오는 ㉢ 관광객이 많아졌다고 들었어. 주말에는 직접 ○○마을에 가서 ㉣ 야외 조사도 해보자.

무: ㉣ 등을 통해 벽화가 마을의 재생에 도움이 되었는지 확인할 수 있을 거야.

- ① ㉠에는 주거지 노후화나 인구 감소 등이 있다.
 ② ㉡은 실내 조사에 해당한다.
 ③ ㉢을 통해 ○○마을의 2차 산업이 성장하고 있음을 알 수 있다.
 ④ ㉣에는 사진 촬영 및 관광객들과의 인터뷰 등이 있다.
 ⑤ ㉣에는 '인구수 변화와 주민들의 만족도'가 적절하다.

8. 다음 글이 강조하는 내용으로 가장 적절한 것은?

소득이 일정한 수준에 도달하면 더 이상 소득이 증가되더라도 행복이 증진되지는 않는다. 하지만 소득이 일정한 수준에 도달하지 않은 경우는 다르다. 특히 기근의 상황에서 행복한 삶은 거의 불가능하다. 흔히 기근으로 인한 고통스러운 삶의 원인을 식량 감소에서 찾지만, 정부가 국민의 복지에 관심을 두고 합당한 식량 정책을 갖추면 식량이 감소해도 기근은 발생되지 않는다. 식량 부족량을 교정할 정부 정책이 실패할 때 기근으로 인해 국민의 삶은 고통스러워진다.

- ① 정부가 경제 영역에 개입하지 않을 때 국민 행복은 증대된다.
 ② 경제적 소득이 높아질수록 개인의 삶의 질은 언제나 높아진다.
 ③ 식량 생산의 증감은 국민 행복의 증감과 절대적으로 비례한다.
 ④ 정부의 정책 및 사회 제도는 개인의 행복한 삶에 영향을 미친다.
 ⑤ 행복은 정신적 만족감이므로 기본적인 욕구 충족과 관련이 없다.

9. (가), (나)의 입장에 대한 설명으로 옳은 것은? [3점]

(가) 자연은 그 자체로 가치가 있으므로 영구 보존되어야 한다. 따라서 인간에게 자연을 개발할 권리는 없다.
 (나) 자연을 보존한다는 이유로 개발을 멈추어서는 안 된다. 인간의 이익을 위해 필요하다면 자연을 개발해야 한다.

- ① (가)는 인간의 복지를 위해 자연이 보존되어야 함을 강조한다.
 ② (가)는 인간의 능력을 신장시켜 자연을 정복해야 함을 강조한다.
 ③ (나)는 인간이 자연 그 자체의 가치를 존중해야 함을 강조한다.
 ④ (나)는 자연이 인간의 편리함과 행복을 위한 수단임을 강조한다.
 ⑤ (가), (나)는 자연의 보전보다 인간의 이익이 우선됨을 강조한다.

10. 다음은 경제학자 갑, 을의 대화이다. 이에 대한 옳은 설명을 <보기>에서 고른 것은? (단, 갑, 을은 수정 자본주의, 신자유주의 중 하나를 주장함.) [3점]

정부와 시장은 별개이다. 정부는 존재해야 하지만, 시장의 게임 규칙을 집행하는 심판자로서의 역할만 해야 한다. 비대해진 정부가 오히려 국가의 실패를 초래한다.

대공황과 같이 경기가 침체된 상황에서 실업 문제를 해결하기 위해서는 정부가 지출을 확대하여 일자리를 늘림으로써 소득을 보장해야 한다.

— < 보 기 > —

㉠. 갑은 공기업의 민영화를 지지할 것이다.
 ㉡. 을은 정부의 시장 개입이 필요하다고 본다.
 ㉢. 갑은 을과 달리 자원 배분에 있어 효율성보다 형평성을 추구한다.
 ㉣. 을은 갑과 달리 경제활동의 자유를 인정한다.

- ① ㉠, ㉡ ② ㉠, ㉢ ③ ㉡, ㉣ ④ ㉡, ㉣ ⑤ ㉢, ㉣

11. 다음은 학생이 작성한 수행 평가 답안지의 일부이다. ㉠~㉥ 중 옳지 않은 것은?

< 수행 평가 >
1학년 ○반 이름: ○○○

■ 다음 자료를 읽고 밑줄 친 부분의 원인과 대책을 쓰시오.

최근 서울을 비롯한 대도시 지역에 서식하는 매미가 농촌보다 최대 13배까지 많은 것으로 밝혀졌다. 매미의 유충은 기온이 높은 곳에서 성장하기 좋는데 도시 내부가 교외에 비해 기온이 높기 때문에 매미의 밀도가 높게 나타난다.

지역별 매미 밀도

(2010년 8월, 1㎢당 개체수)

◎ 학생 답안

▶ 원 인

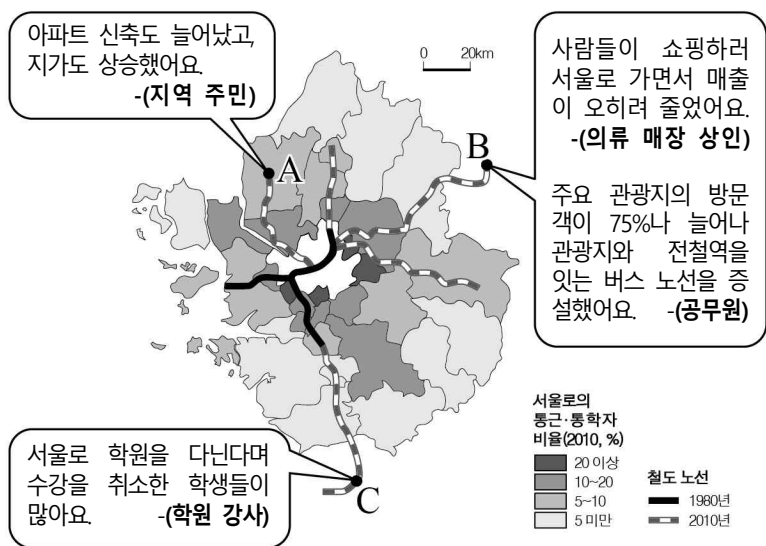
1. 콘크리트 건축물과 아스팔트 도로의 복사열 ㉠
2. 냉난방 장치나 자동차에서 배출되는 인공열 ㉡

▶ 대 책

1. 건물 옥상 정원과 가로수를 확충한다. ㉢
2. 도심 하천을 복개하여 주차장을 확충한다. ㉣
3. 대중교통과 자전거를 이용하여 출퇴근한다. ㉤

- ① ㉠ ② ㉡ ③ ㉢ ④ ㉣ ⑤ ㉤

12. 자료는 서울로의 통근·통학자 비율과 철도 노선의 확대에 의한 A~C지역의 변화를 인터뷰한 내용이다. 이에 대한 옳은 설명을 <보기>에서 고른 것은? [3점]



- <보 기>
- 가. A는 전입 인구보다 전출 인구가 많다.
 - 나. B의 주요 관광지는 접근성이 향상되었다.
 - 다. B와 C에서는 대도시의 서비스 기능이 중소도시로 흡수되는 현상이 나타난다.
 - 르. 서울과 가까울수록 통근·통학자 비율이 높은 편이다.

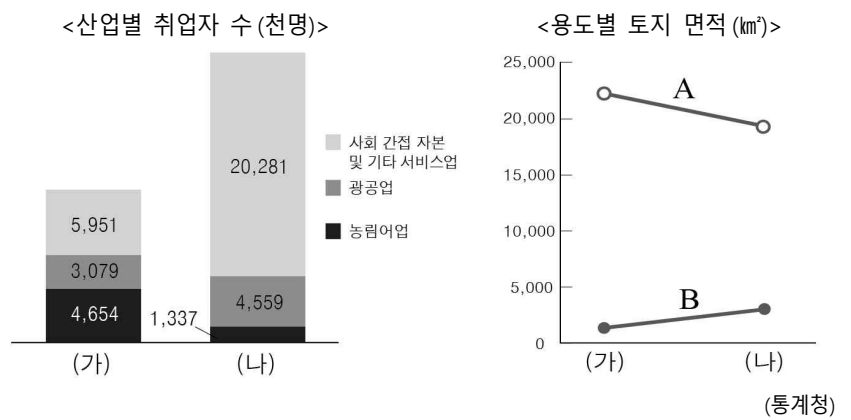
- ① 가, 나 ② 가, 다 ③ 나, 다 ④ 나, 르 ⑤ 다, 르

13. 다음 글을 통해 파악할 수 있는 현대 사회의 특징으로 가장 적절한 것은?

우리는 누리 소통망(SNS)을 통해 다양한 정보를 실시간으로 주고받을 수 있음은 물론 회사에 나가지 않고도 자택에서 근무를 할 수 있게 되었다. 하지만 악의적인 비방과 욕설로 인한 인권 침해는 물론 타인의 지나친 간섭과 통제로 인한 문제가 증가하고 있다. 대다수의 국민들은 누리 소통망 안에서 발생하는 문제를 더 이상 사용자의 자율적 규제 역량에만 맡길 수 없다는 데 한 목소리를 내고 있다.

- ① 대면적 인간관계가 증대되고 있다.
- ② 사생활 침해 가능성이 감소하고 있다.
- ③ 직장인의 근무 형태가 획일화되고 있다.
- ④ 정보 교류의 공간적 범위가 좁아지고 있다.
- ⑤ 정보 윤리 관련 법안의 필요성이 커지고 있다.

14. 그래프는 우리나라 (가), (나) 시기의 산업별 취업자 수와 용도별 토지 면적을 나타낸 것이다. 이에 대한 설명으로 옳은 것은? (단, (가), (나)는 1980년, 2015년 중 하나이며 A, B는 논·밭, 도로 중 하나임.)



- ① (가) 시기는 (나) 시기보다 인구가 많다.
- ② (가) 시기는 (나) 시기보다 직업의 종류가 다양하다.
- ③ (나) 시기는 (가) 시기보다 도시화율이 높다.
- ④ (나) 시기는 (가) 시기보다 근로자의 평균 임금이 낮다.
- ⑤ A는 도로, B는 논·밭이다.

15. 다음 사례에 대한 옳은 분석을 <보기>에서 고른 것은? [3점]

갑이 운영하는 동네 빵집의 월 평균 매출액은 1,200만 원이다. 빵집 운영에는 월세 200만 원, 종업원 월급 300만 원, 재료비 등 기타 비용 월 500만 원이 든다. 그런데 갑이 ㉠ 회사에 취업할 경우 월 250만 원의 임금을 받을 수 있다. 갑은 빵집을 계속 운영할지, 회사에 취업할지 고민하고 있다.

- <보 기>
- 가. ㉠은 빵집 운영의 암묵적 비용이다.
 - 나. 빵집을 계속 운영하는 것은 비합리적 선택이다.
 - 다. 빵집 운영의 명시적 비용은 월 500만 원이다.
 - 르. 빵집 운영의 기회비용은 월 1,200만 원이다.

- ① 가, 나 ② 가, 다 ③ 나, 다 ④ 나, 르 ⑤ 다, 르

