



5. 다음은 스무고개 놀이 과정이다. 밑줄 친 ㉠~㉣에 대한 옳은 설명을 <보기>에서 고른 것은?

타지마할로 유명한 이 나라는 어디일까요?

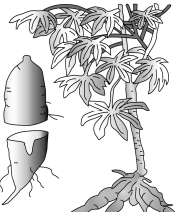

한 고개 : ㉠ 국가 공식 언어는 아랍어입니까? → 아니요  
 두 고개 : 주민의 80% 이상이 ㉡ 힌두교를 믿습니까? → 예  
 세 고개 : 세계에서 ㉢ 인구 규모가 2위인 국가입니까? → 예  
 네 고개 : 이 나라는 ㉣ 입니까? → 예

<보 기>

ㄱ. ㉠은 공간 정보에 해당한다.  
 ㄴ. ㉡은 하나의 신만을 믿는 종교이다.  
 ㄷ. ㉢은 원격 탐사를 통해 수집하기 어렵다.  
 ㄹ. ㉣에 들어갈 나라는 '인도'이다.

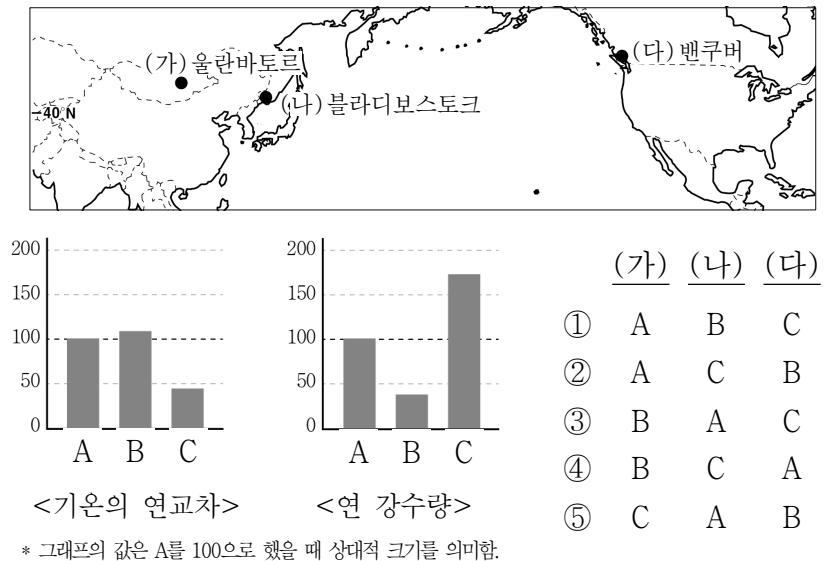
- ① ㄱ, ㄴ    ② ㄱ, ㄷ    ③ ㄴ, ㄷ    ④ ㄴ, ㄹ    ⑤ ㄷ, ㄹ

6. 자료는 열대작물을 소개한 것이다. (가), (나) 지역에 대한 설명으로 옳은 것은? (단, (가), (나)는 열대 우림 기후 지역, 사바나 기후 지역 중 하나임.) [3점]

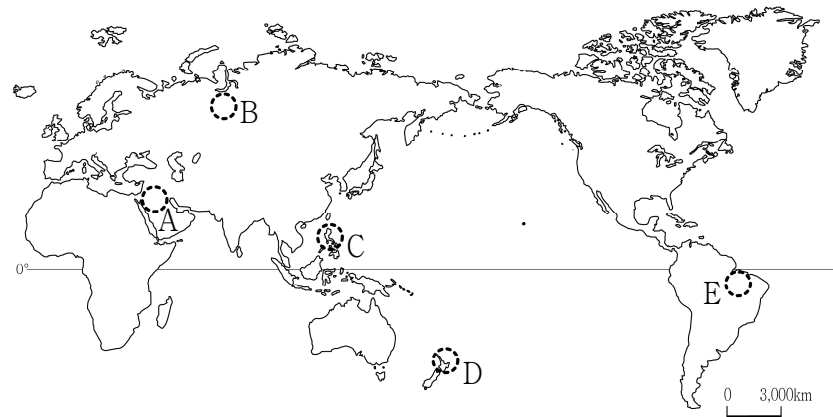
|   |  |
|---|--|
|  <p>아메리카가 원산지인 카사바는 고구마 모양의 덩이 뿌리가 있는 식물이다. 카사바는 연중 고온다습한 <b>(가)</b>에서 주로 이동식 화전 농업의 형태로 재배되며, 이곳 원주민들에게 훌륭한 식량 자원이 되고 있다.</p> |  <p>아프리카가 원산지인 커피는 나무가 10m 이상 자라기도 한다. 커피는 겨울철에 아열대 고압대의 영향을 받는 <b>(나)</b>에서 주로 플랜테이션 농업의 형태로 재배되며, 열매의 씨앗을 볶은 뒤 갈아서 물에 우려 음료로 먹는다.</p> |
|---|--|

- ① (가)는 편서풍의 영향을 크게 받는다.  
 ② (가)는 회백색의 척박한 토양이 발달한다.  
 ③ (나)는 건기와 우기가 뚜렷하게 나타난다.  
 ④ (나)는 연중 적도 수렴대의 영향을 강하게 받는다.  
 ⑤ (가), (나) 모두 기온의 연교차가 일교차보다 크다.

7. (가)~(다) 지역의 상대적 기후 특성을 그래프의 A~C에서 고른 것은? [3점]

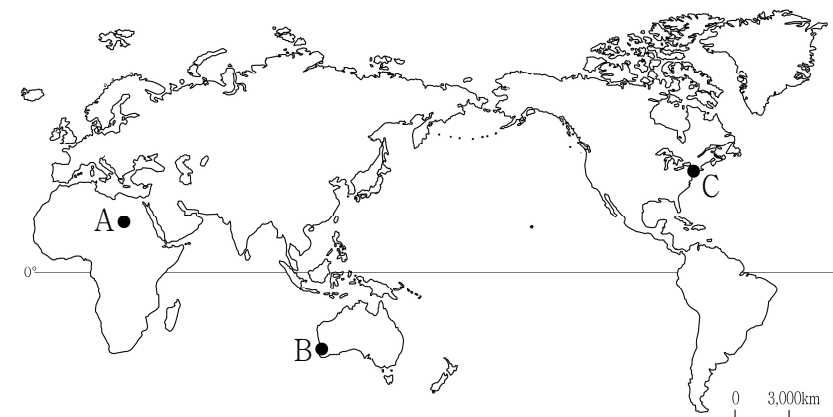


8. 그림은 어느 지역을 여행하면서 그린 것이다. 이 지역을 지도의 A~E에서 고른 것은?






- ① A    ② B    ③ C    ④ D    ⑤ E

9. 지도의 A~C 지역을 여행하고자 할 때, 각 지역별로 적절한 여행 준비물을 <보기>에서 고른 것은? (단, 여행 시기는 1월이며, 현지 기후 조건을 고려함.)



<보 기>

|   |   |   |   |
|---|---|---|---|
| ㄱ. 스콜 대비용품  | ㄴ. 여름 더위 대비용품   | ㄷ. 겨울 한파 대비용품   | ㄹ. 강한 일사 대비용품   |
|  |  |  |  |

- |   | A | B | C |   | A | B | C |
|---|---|---|---|---|---|---|---|
| ① | ㄱ | ㄴ | ㄷ | ② | ㄱ | ㄷ | ㄴ |
| ③ | ㄷ | ㄱ | ㄹ | ④ | ㄹ | ㄱ | ㄴ |
| ⑤ | ㄹ | ㄴ | ㄷ |   |   |   |   |

10. 자료는 신문 기사의 일부이다. (가)에 들어갈 제목으로 가장 적절한 것은?

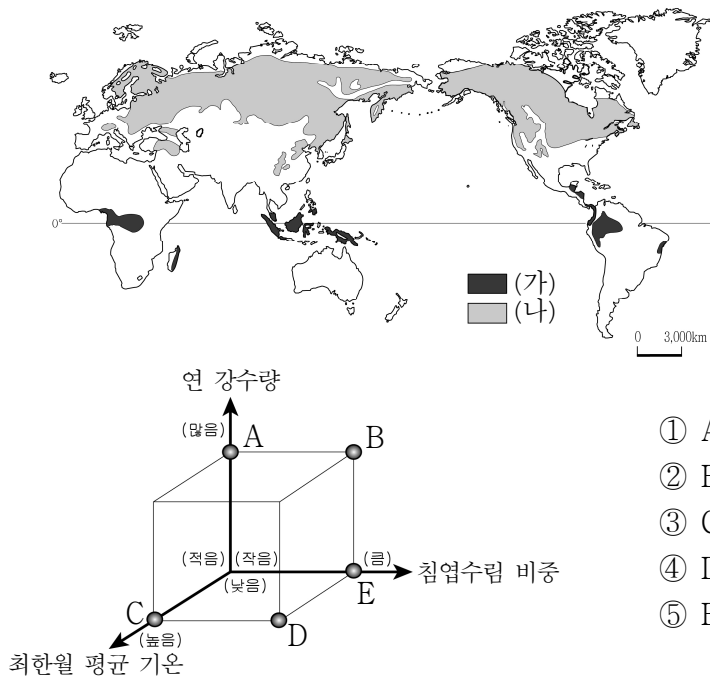
**지 리 신 문**      2017년 12월 0일

(가)

수만 명의 외국인이 찾는 대한민국의 대표 축제인 보령머드축제를 올해부터는 뉴질랜드 로토루아에서도 만나게 되었다. 로토루아는 지역의 천연 지열과 머드 등을 활용한 축제를 기획하던 중, 보령시를 벤치마킹하게 되었다. 이는 대한민국 토종 축제가 해외에 수출된 첫 사례로, 로토루아는 성공적인 축제 개최로 지역의 자연 환경을 세계적으로 알리게 되었다. 보령시 또한 로토루아에 머드 화장품, 축제 콘텐츠 등을 수출하여 지역과 축제의 위상을 세계적으로 더욱 높이게 되었다.

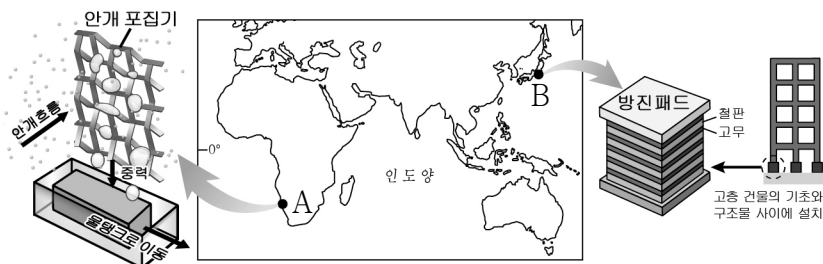
- ① 장소 마케팅을 통한 지역화의 확산
- ② 세계화에 따른 지역 간 불평등의 심화
- ③ 세계화 과정에서 커져가는 국경의 중요성
- ④ 선진국과 개발 도상국의 세계화 속도 차이
- ⑤ 국제 무역에 물리적 거리가 미치는 영향력 증대

11. (가) 기후 지역과 비교한 (나) 기후 지역의 상대적 특성을 그림의 A~E에서 고른 것은? [3점]



- ① A
- ② B
- ③ C
- ④ D
- ⑤ E

12. 지도의 A, B 지역에 대한 옳은 설명을 <보기>에서 고른 것은? [3점]



<보 기>

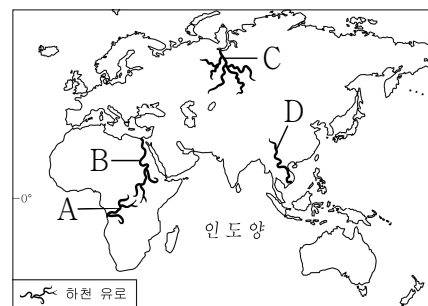
- ㄱ. A의 안개 포집기로 얻어진 물은 식수로 이용할 수 없다.
- ㄴ. A에는 한류의 영향으로 형성된 사막이 나타난다.
- ㄷ. B의 방진패드는 지진에 대비한 시설이다.
- ㄹ. B는 지각이 불안정한 알프스-히말라야 조산대에 위치한다.

- ① ㄱ, ㄴ    ② ㄱ, ㄷ    ③ ㄴ, ㄷ    ④ ㄴ, ㄹ    ⑤ ㄷ, ㄹ

13. 자료는 학생이 작성한 학습지의 일부이다. (가), (나)에 해당하는 하천을 지도의 A~D에서 고른 것은?

주제 : 하천의 특성과 인간 생활

| 하천  | 특성  |
|-----|---|
| (가) | <ul style="list-style-type: none"> <li>◦ 습윤 기후 지역에서 발원하여 사막을 가로지르며 흐르는 외래 하천</li> <li>◦ 세계 4대 문명의 발상지 중 하나로 알려진 하천</li> </ul> |
| (나) | <ul style="list-style-type: none"> <li>◦ 계절에 따른 유량 변동이 큰 하천</li> <li>◦ 하구의 삼각주를 중심으로 세계적인 벼농사 지대를 이루고 있는 하천</li> </ul>        |



- |   |     |     |
|---|-----|-----|
|   | (가) | (나) |
| ① | A   | B   |
| ② | A   | C   |
| ③ | B   | C   |
| ④ | B   | D   |
| ⑤ | C   | D   |

14. 자료는 세계 지리 학습을 위한 <지형 카드>이다. 밑줄 친 (가), (나) 지형에 대한 설명으로 옳은 것은? [3점]

(가) 구조토

▲ 흙 속의 자갈이 지표면으로 밀려 올라와 만들어진 다각형의 지형

(나) 드럼린

▲ 빙하가 이동하면서 만들어진 울라와 만들어진 다각형의 지형

- ① (가)는 활동층의 동결과 용해의 반복으로 형성된다.
- ② (가)의 토양은 비옥하여 농업에 유리하다.
- ③ (나)는 빙하의 침식 작용으로 형성된 지형이다.
- ④ (나)는 퇴적물의 크기에 따른 분급이 양호하다.
- ⑤ (가), (나) 모두 빙설 기후 지역에서 발달한다.

15. 자료는 여행기의 일부이다. (가)에 들어갈 내용으로 가장 적절한 것은?

아침 일찍 기도 시간을 알리는 확성기 소리에 잠을 깬다. 특이한 향신료 냄새를 맡으며 미로처럼 얽혀 있는 골목길을 걷다보니 저 멀리 돔과 첨탑의 지붕이 이색적인 종교 건물이 보인다. 이 종교의 신자들은 (가) 한다.

▲ 파키스탄의 바드샤흐 모스크

- ① 십자가를 성스러운 상징물로 여긴다고
- ② 부처의 사리가 모셔진 탑에서 기도를 한다고
- ③ 시신을 매장하기보다 화장하는 것을 선호한다고
- ④ 사원 곳곳에 조각되어 있는 다양한 신들을 믿는다고
- ⑤ 라마단이라는 금식 기간에는 낮 동안 음식을 먹지 않는다고

16. A 기후 지역과 비교한 B 기후 지역의 상대적 특성으로 옳은 설명만을 <보기>에서 있는 대로 고른 것은?



<보 기>

ㄱ. 기온의 연교차가 크다.  
 ㄴ. 계절풍의 영향이 크다.  
 ㄷ. 수목 농업의 비중이 높다.  
 ㄹ. 여름 강수 집중률이 높다.

- ① ㄱ, ㄷ                      ② ㄴ, ㄹ                      ③ ㄱ, ㄴ, ㄷ  
 ④ ㄱ, ㄴ, ㄹ                  ⑤ ㄴ, ㄷ, ㄹ

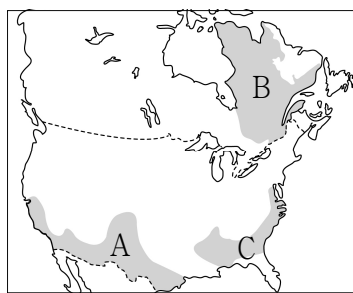
17. 밑줄 친 ㉠~㉣에 대한 설명으로 옳지 않은 것은? [3점]

‘마쿠나이마(Macunaíma)’는 인종 혼합에 따른 ㉠ 브라질 사람들의 정체성을 잘 표현한 소설이다. 주인공인 마쿠나이마는 짙은 피부를 가진 ㉡ 원주민이지만, 목욕을 하면 피부가 백색으로 바뀌는데 이는 브라질 국민의 다수를 차지하는 ㉢ 혼혈 인종의 문화적 정체성을 묘사한 것이다. 마쿠나이마는 원주민이면서 ㉣ 흑인과 ㉤ 백인의 특성을 모두 갖는 초자연적 존재이다.

▲ 소설 '마쿠나이마'의 표지

- ① ㉠에서는 주로 포르투갈어를 사용한다.  
 ② ㉡은 아프리카에서 강제 이주된 뒤 정착한 인종이다.  
 ③ ㉢을 대표하는 인종으로는 메스티소, 몰라토 등이 있다.  
 ④ ㉣은 ㉢보다 라틴 아메리카에서 차지하는 인구 비율이 낮다.  
 ⑤ ㉤은 ㉢보다 라틴 아메리카로의 이주 역사가 더 오래되었다.

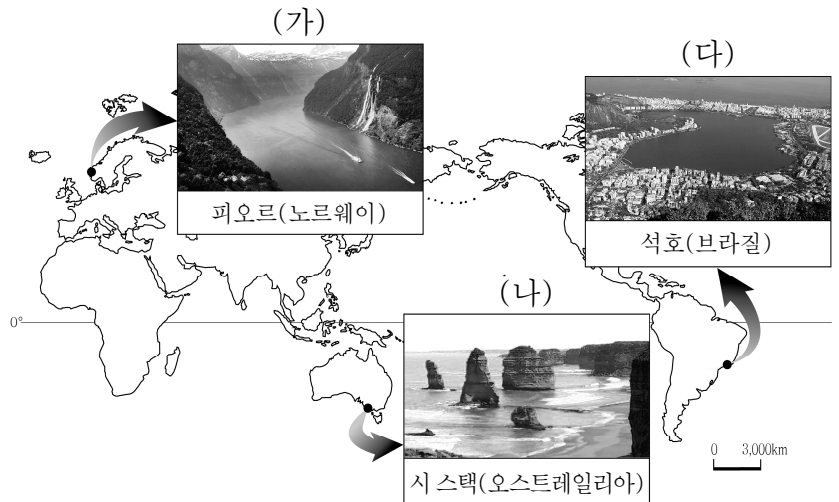
18. 지도는 앵글로아메리카의 문화 지역을 나타낸 것이다. 지도의 A~C 지역에 대한 대화 내용이 옳은 학생을 고른 것은? [3점]



갑: A는 블루스 음악이 탄생한 지역으로 아프리카 문화의 색채가 잘 남아 있어.  
 을: B는 프랑스 문화의 영향으로 프랑스어로 된 간판을 볼 수 있어.  
 병: C는 아시아에서 이주한 주민들의 비율이 가장 높은 지역이야.  
 정: A는 C보다 에스파냐어를 사용하는 국가에서 온 이민자가 많아.

- ① 갑, 을    ② 갑, 병    ③ 을, 병    ④ 을, 정    ⑤ 병, 정

19. 자료의 (가)~(다) 지형에 대한 옳은 설명을 <보기>에서 고른 것은? [3점]



<보 기>

ㄱ. (가)는 하천이 만든 V자곡이 침수된 것이다.  
 ㄴ. (나)는 파랑의 침식 작용이 활발한 곳에서 형성된다.  
 ㄷ. (다)는 사주의 성장으로 바다와 분리된 호수이다.  
 ㄹ. (나)는 만에서, (다)는 곳에서 주로 발달한다.

- ① ㄱ, ㄴ    ② ㄱ, ㄷ    ③ ㄴ, ㄷ    ④ ㄴ, ㄹ    ⑤ ㄷ, ㄹ

20. 자료는 세계 지리 형성 평가지의 일부이다. ㉠~㉣ 중에서 답이 옳게 표시된 것은?

※ 자료는 태평양의 해양 환경에 대한 것이다. 내용이 옳으면 ‘예’, 옳지 않으면 ‘아니요’에 √표를 하시오.

선박과 연안 국가들에서 배출된 플라스틱, 그물 등의 쓰레기들이 타원 형태로 모여 만들어진 쓰레기 섬이다.

○ (가)는 난류, (나)는 한류이다.  
 예  아니요  ..... ㉠  
 ○ A는 한류와 난류가 만나는 조정 수역으로 어족 자원이 풍부하다.  
 예  아니요  ..... ㉡  
 ○ B의 형성을 방지하기 위해서 람사르 협약이 체결되었다.  
 예  아니요  ..... ㉢  
 ○ C의 섬들은 지구 온난화로 인해 침수 위험성이 증가하고 있다.  
 예  아니요  ..... ㉣  
 ○ D에는 대륙붕이 발달해 있어 석유가 개발될 가능성이 높다.  
 예  아니요  ..... ㉤

- ① ㉠    ② ㉡    ③ ㉢    ④ ㉣    ⑤ ㉤

※ 확인 사항  
 ○ 답안지의 해당란에 필요한 내용을 정확히 기입(표기)했는지 확인하시오.