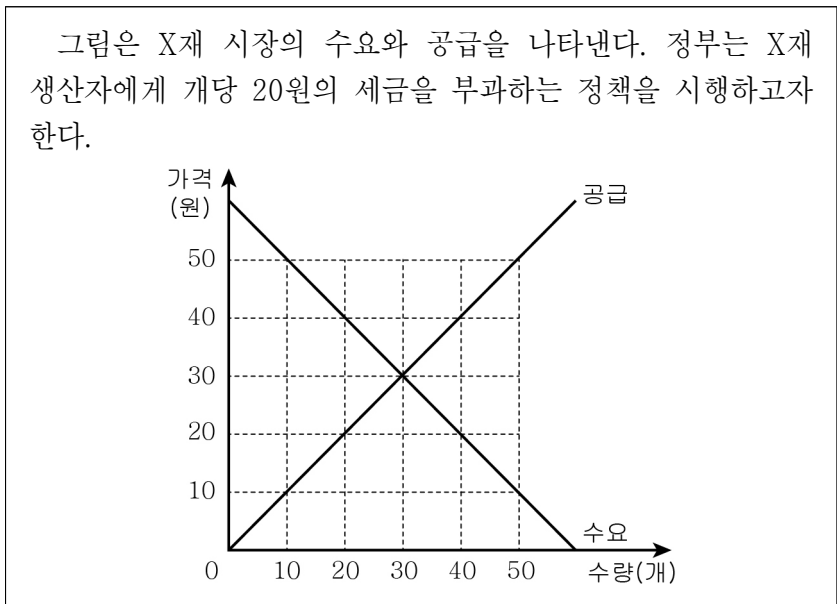


5. 다음 자료에 대한 분석으로 옳지 않은 것은? [3점]



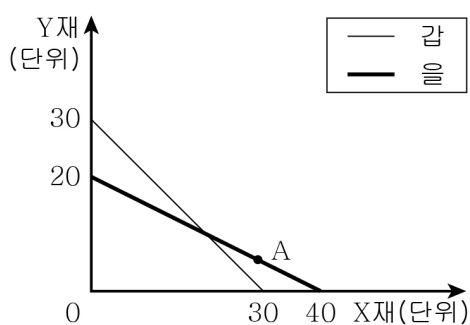
- ① 정책 시행 이전 균형 가격은 30원이다.
- ② 정책 시행 후 공급 곡선은 왼쪽으로 이동한다.
- ③ 정책 시행 후 거래량은 20개이다.
- ④ 정책 시행 후 생산자 잉여는 감소한다.
- ⑤ 정책 시행 전·후 사회적 잉여는 동일하다.

6. 표는 배제성과 경합성에 따라 경제재를 구분한 것이다. 이에 대한 설명으로 옳은 것은?

구분		A	
		있다	없다
B	있다	(가)	공유 자원
	없다	(나)	(다)

- ① A는 배제성, B는 경합성이다.
- ② (가)에 해당되는 재화는 대가를 지불하지 않아도 소비할 수 있다.
- ③ (나)에 해당되는 재화는 사적으로 소유할 수 없다.
- ④ (다)에 해당되는 재화는 한 사람의 소비가 다른 사람의 소비 가능성을 감소시킨다.
- ⑤ (나)와 (다)에 해당되는 재화는 무임승차의 문제가 발생한다.

7. 그림은 갑과 을의 생산 가능 곡선을 나타낸다. 이에 대한 설명으로 옳은 것은?



- ① 갑은 X재 생산에 절대 우위를 갖는다.
- ② 을은 X재 20단위와 Y재 20단위를 동시에 생산할 수 있다.
- ③ A점은 갑과 을 모두 생산 가능한 지점이다.
- ④ Y재 1단위 생산의 기회비용은 갑이 을보다 작다.
- ⑤ 갑은 X재 생산에 특화하는 것이 합리적이다.

8. 표는 X재의 가격에 따른 수요량과 공급량을 나타낸다. 이에 대한 설명으로 옳은 것은? (단, X재는 수요와 공급의 법칙을 따른다.)

가격(원)	100	200	300	400	500
수요량(개)	50	40	30	20	10
공급량(개)	5	15	25	35	45

- ① 가격이 200원일 때 초과 공급량은 25개이다.
- ② 가격이 300원일 때 판매 수입은 400원일 때보다 많다.
- ③ 가격이 100원일 때 시장 거래량은 500원일 때보다 많다.
- ④ 사회적 잉여를 극대화하는 가격은 300원과 400원 사이에서 결정된다.
- ⑤ 모든 가격 수준에서 공급량이 5개씩 증가할 때 균형 가격은 400원이다.

9. 그림의 대화에 대한 옳은 분석을 <보기>에서 고른 것은? [3점]

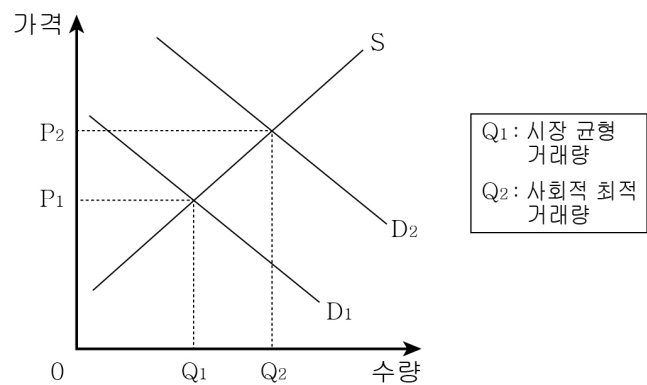


<보 기>

- ㄱ. 갑은 소비로 인한 외부 불경제의 사례를 제시하였다.
- ㄴ. 을은 수요량 억제를 위한 최고 가격제의 시행을 주장한다.
- ㄷ. 병은 담배 가격의 변화율이 수요량의 변화율보다 더 크다고 본다.
- ㄹ. 병은 담배 가격 인상으로 갑이 우려하는 문제의 해결 가능성이 높아진다고 본다.

- ① ㄱ, ㄴ ② ㄱ, ㄷ ③ ㄴ, ㄷ ④ ㄴ, ㄹ ⑤ ㄷ, ㄹ

10. 그림에 대한 분석으로 옳은 것은? [3점]



- ① 생산 측면의 외부 경제를 나타낸다.
- ② 시장 가격이 사회적 최적 수준의 가격보다 높다.
- ③ D1은 사회적 편익, D2는 사적 편익을 반영한 수요 곡선이다.
- ④ 사회적 최적 수준에 비해 과소 소비의 문제가 발생한다.
- ⑤ P1P2만큼 조세를 부과하면 외부 효과를 개선할 수 있다.

11. (가)에 들어갈 내용으로 가장 적절한 것은?

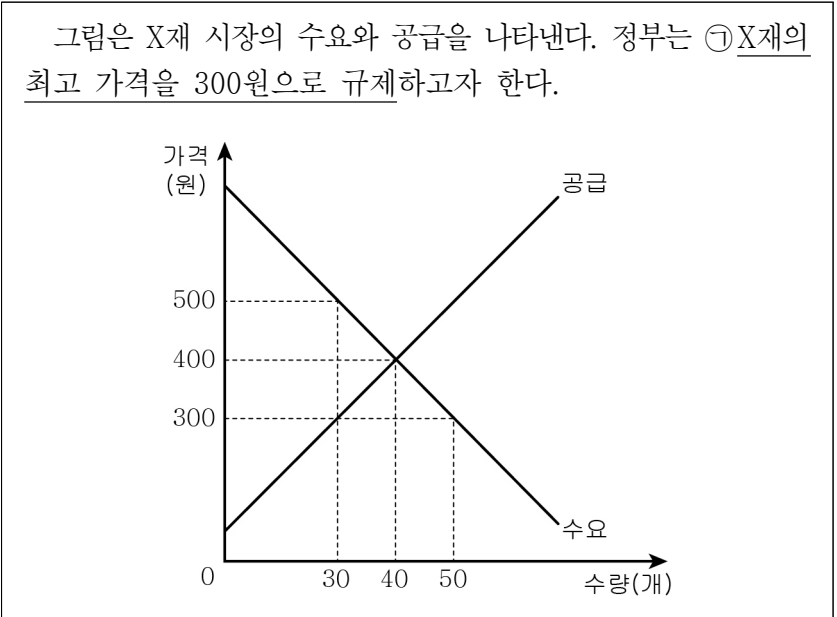
2학년 경제 II. 경제 주체의 역할과 의사 결정

◎ 주제: 정부의 경제적 역할

1. 시장 경제 질서의 유지
 - 불공정 거래 행위 규제
 - 자유로운 경제 활동 보장
2. (가)
 - 오염 물질의 배출 규제
 - 기초 과학의 연구를 위한 지원
 - 안전 보장을 위한 치안 및 국방 서비스 제공

- ① 시장 실패의 보완 ② 경제 성장의 촉진
- ③ 공정 경쟁 질서 확립 ④ 경제 안정화 정책 시행
- ⑤ 소득 재분배 정책 시행

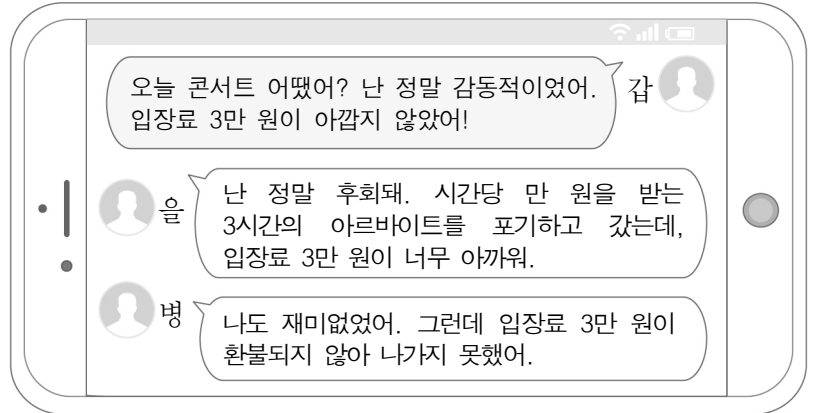
12. 밑줄 친 ㉠이 X재 시장에 미치는 영향에 대한 옳은 분석을 <보기>에서 고른 것은? [3점]



- <보 기>
- ㄱ. 20개의 초과 수요가 발생한다.
 - ㄴ. X재의 판매액은 15,000원이다.
 - ㄷ. 사회적 잉여는 1,000원만큼 감소한다.
 - ㄹ. 생산자 잉여는 3,000원만큼 감소한다.

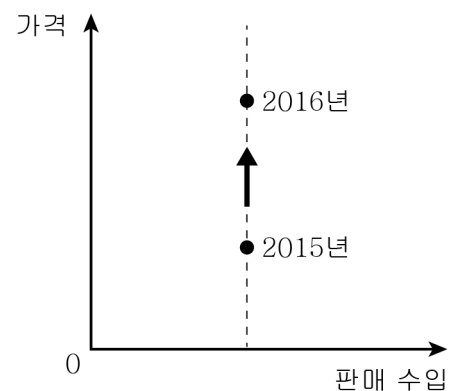
- ① ㄱ, ㄴ ② ㄱ, ㄷ ③ ㄴ, ㄷ ④ ㄴ, ㄹ ⑤ ㄷ, ㄹ

13. 갑~병의 대화를 통해 추론할 수 있는 내용으로 옳은 것은? (단, 제시된 내용 이외에 다른 요소는 고려하지 않는다.) [3점]



- ① 갑이 기대한 콘서트 관람 편익은 3만 원보다 적다.
- ② 을의 콘서트 관람의 기회비용은 3만 원보다 적다.
- ③ 을이 콘서트 관람을 위해 지출한 명시적 비용은 3만 원이다.
- ④ 갑의 매몰 비용은 병보다 적다.
- ⑤ 갑~병 모두에게 입장료는 암묵적 비용이다.

14. 그림은 X재의 가격 상승에 따른 판매 수입의 변화를 나타낸 것이다. 이에 대한 옳은 분석을 <보기>에서 고른 것은? [3점]



- <보 기>
- ㄱ. X재 소비자의 총지출액은 증가했다.
 - ㄴ. 2015년의 수요량이 2016년보다 더 많다.
 - ㄷ. X재 수요의 가격 탄력성이 단위 탄력적이다.
 - ㄹ. X재 소비자는 가격과 관계없이 항상 일정한 양을 소비한다.

- ① ㄱ, ㄴ ② ㄱ, ㄷ ③ ㄴ, ㄷ ④ ㄴ, ㄹ ⑤ ㄷ, ㄹ

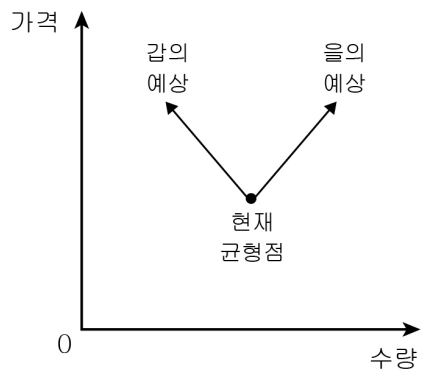
15. 민간 경제 주체 A, B에 대한 옳은 설명을 <보기>에서 고른 것은?

시장의 유형	생산 요소 시장	생산물 시장
경제적 역할		
수요자	A	B
공급자	B	A

- <보 기>
- ㄱ. A는 기업, B는 가게이다.
 - ㄴ. A는 사회 후생의 극대화를 추구한다.
 - ㄷ. B는 효용의 극대화를 추구한다.
 - ㄹ. B는 생산 요소 시장에서 임금, 이자 등을 지불한다.

- ① ㄱ, ㄴ ② ㄱ, ㄷ ③ ㄴ, ㄷ ④ ㄴ, ㄹ ⑤ ㄷ, ㄹ

16. 그림은 갑과 을이 예상한 X재 시장 균형점의 이동 방향을 나타낸다. 이에 대한 설명으로 옳은 것은? (단, X재는 정상재이다.)



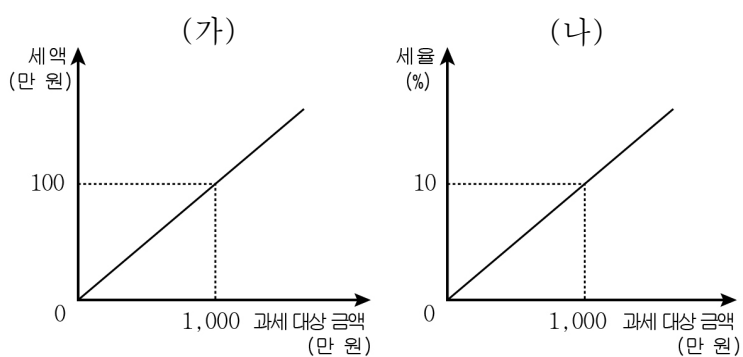
- ① 갑은 거래량이 증가할 것으로, 을은 감소할 것으로 예상한다.
- ② 대체재 가격이 하락하면 갑이 예상한 방향으로 이동한다.
- ③ 소비자의 선호가 증가하면 을이 예상한 방향으로 이동한다.
- ④ 보완재 가격이 상승하고 생산 기술이 향상되면 갑이 예상한 방향으로 이동한다.
- ⑤ 소득이 감소하고 공급자의 수가 감소하면 을이 예상한 방향으로 이동한다.

17. 다음 자료에서 밑줄 친 ㉠의 원인에 대한 추론으로 가장 적절한 것은?

우리는 명절에 정성을 담은 선물을 주고 받는다. 비누, 양말부터 농수산물, 과일 등에 이르기까지 인기 있는 품목은 명절마다 가격이 오른다. 그런데 ㉠비누, 양말 등의 공산품에 비해 생선이나 과일 등 농수산물의 가격은 더 크게 상승한다. 그 이유는 상품의 특성상 생산에 필요한 시간이 길고, 오랜 기간 저장하기 어려워 가격 변화에 대한 유연한 대응이 곤란하기 때문이다.

- ① 농수산물의 대체재가 공산품보다 많다.
- ② 농수산물의 공급량이 공산품보다 많다.
- ③ 농수산물의 생산자 수가 공산품보다 많다.
- ④ 공산품 생산의 기회비용이 농수산물보다 크다.
- ⑤ 농수산물의 공급이 공산품보다 가격에 대해 비탄력적이다.

18. 그림은 갑국의 조세 제도 (가), (나)를 나타낸다. 이에 대한 설명으로 옳은 것은? [3점]



- ① (가)는 비례세율, (나)는 누진세율이 적용된다.
- ② (가)에서 과세 대상 금액이 클수록 세율이 증가한다.
- ③ (가)는 (나)보다 소득 재분배 효과가 크다.
- ④ 과세 대상 금액이 1,000만 원을 초과할 때 적용되는 세율은 (나)보다 (가)에서 높다.
- ⑤ 과세 대상 금액이 2,000만 원일 때 세액은 (가), (나)에서 동일하다.

19. 그림에 대한 설명으로 옳지 않은 것은?

◎ 주제 : 경제 활동의 유형과 사례

유형	의미	사례
소비	(가)	갑은 친구를 만나 맛있는 팔방수를 사 먹었다.
A	경제적으로 가치가 있는 재화나 서비스를 만들어 내거나 그 가치를 증대시키는 활동이다.	(나)
B	생산 요소를 제공하여 생산에 기여한 대가를 받는 활동이다.	(다)

- ① A는 분배, B는 생산이다.
- ② 소비는 A를 지속하게 하는 원동력이 된다.
- ③ (가)에는 '재화와 서비스를 사용하여 만족감을 얻는 활동이다.'가 들어갈 수 있다.
- ④ (나)에는 '○○유통은 생선을 냉동 보관하는 서비스를 제공했다.'가 들어갈 수 있다.
- ⑤ (다)에는 '△△기업이 근로자에게 임금을 지급했다.'가 들어갈 수 있다.

20. 그림의 대화에 대한 옳은 설명을 <보기>에서 고른 것은? [3점]



- <보 기>
- ㄱ. 갑국은 의료 서비스 공급자의 사적 이익 추구를 보장한다.
 - ㄴ. 을국은 가격 기구를 통해 의료 서비스를 배분한다.
 - ㄷ. 갑국은 을국보다 의료 서비스의 생산과 소비에 있어서 경제적 유인을 중시한다.
 - ㄹ. 을국은 갑국보다 의료 서비스 시장에서 민간 경제 주체의 자율성을 중시한다.

- ① ㄱ, ㄴ ② ㄱ, ㄷ ③ ㄴ, ㄷ ④ ㄴ, ㄹ ⑤ ㄷ, ㄹ

※ 확인 사항
○ 답안지의 해당란에 필요한 내용을 정확히 기입(표기)했는지 확인하십시오.