



제 4 교시 사회탐구 영역 [한국 지리]

성명		수험 번호				2			
----	--	-------	--	--	--	---	--	--	--

1

1. (가), (나) 지도에 대한 설명으로 옳은 것은?

구분	(가)	(나)
지도		
제작자	김정호	김사형, 이무 외
크기	약 3.8m × 6.7m	약 1.7m × 1.6m
유형	목판본	필사본

- (가)는 분첩절첩식으로 제작되었다.
- (나)는 아메리카 대륙이 표현되어 있다.
- (가)는 (나)보다 제작 시기가 이른다.
- (나)는 (가)보다 대량 생산에 유리하다.
- (가), (나) 모두 지도표를 통해 지리 정보를 표현하였다.

2. 다음은 <글자 카드>를 활용한 한국 지리 수업 활동이다. (가)에 들어갈 내용으로 옳은 것은? [3점]

교사 : 다음 내용이 의미하는 단어를 <글자 카드>에서 찾아 하나씩 제외하세요.

- 우리나라의 최남단 섬
- 한 국가의 주권이 미치는 해양 범위
- 산, 바람, 물의 흐름 등으로 명당을 찾는 ○○○○ 사상

영	풍	마	지	천	도
수	도	해	라	하	리

교사 : <글자 카드>에서 남은 글자를 모두 활용하여 만들 수 있는 단어에 대해 설명해 보세요.
 학생 : _____ (가) _____ 입니다.
 교사 : 네, 맞습니다.

- 가거지(可居地)의 조건을 제시한 지리지
- 현존하는 우리나라의 가장 오래된 세계 지도
- 농경 사회의 영향으로 땅이 곧 어머니라는 사상
- 조선시대 민간에서 제작된 원형의 관념적 세계 지도
- 분수계를 기준으로 구분된 전통적인 산줄기 인식 체계

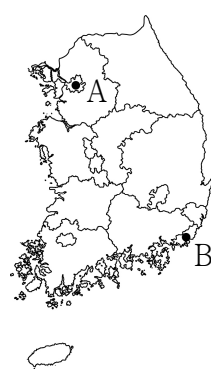
3. 다음은 학생이 작성한 보고서의 일부이다. (가)에 들어갈 내용으로 가장 적절한 것은?

주제 : □(가)을/를 이용한 관광

사례 1	강원도 양구군 남면 도촌 마을(128° 02' E, 38° 03' N)은 우리나라 4극 기준의 중앙점에 해당한다. 이 부근에는 국토 정중앙 천문대가 설치되어 있으며, 사람의 중심인 배꼽에 비유한 축제가 열리고 있다.
사례 2	전라남도 해남군 송지면 갈두 마을(126° 31' E, 34° 17' N)은 땅끝 마을로 잘 알려져 있다. 이 마을은 한반도의 최남단으로 땅끝 전망대가 세워져 있으며, 매년 많은 관광객들이 찾고 있다.

- 지형
- 기후
- 농업
- 역사
- 위치

4. 지도의 A, B 지점에 대한 설명으로 옳은 것은? (단, A, B는 (가), (나) 중 하나임.) [3점]



	<일출 시각>	<일몰 시각>
(가)	 07:32	 17:23
(나)	 07:45	 17:36

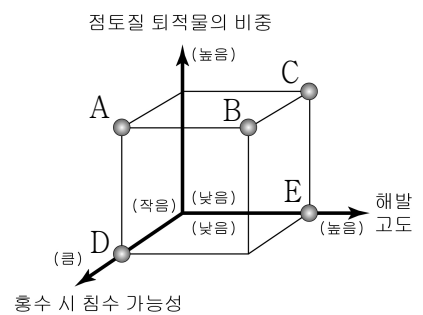
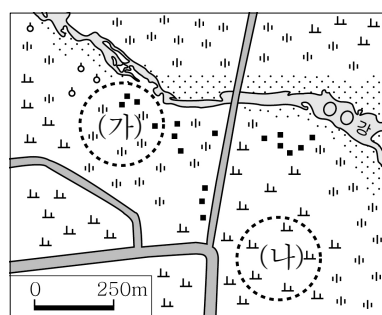
*일출, 일몰 시각은 2018. 1. 1. 기준임. (기상청)

<보 기>

- A는 (가), B는 (나)이다.
- A는 B보다 기온의 연교차가 작다.
- B는 A보다 태양이 남중할 때의 시각이 이른다.
- B는 A보다 최단 거리로 우리나라의 표준 경선에 가깝다.

- ㄱ, ㄴ
- ㄱ, ㄷ
- ㄴ, ㄷ
- ㄴ, ㄹ
- ㄷ, ㄹ

5. (가) 지역과 비교한 (나) 지역의 상대적 특성을 그림의 A~E에서 고른 것은?



- A
- B
- C
- D
- E

6. 자료는 조선 시대 지리지의 일부이다. (가), (나) 지리지에 대한 설명으로 옳지 않은 것은? (단, (가), (나)는 신증동국여지승람, 택리지 중 하나임.)

(가) 【건치연혁】 ㉠ 탐라국(耽羅國) 혹은 탁라(毛羅), 전라도 남쪽 바다 가운데에 있는데 넓이가 4백여 리 ... (후략)
 【관원】 목사·판관·교수 각 1인
 【토산】 산도(山稻), 기장, 피, 조, 콩, 팥, 메밀, 보리, 말
 (나) 숙종 때 삼척 영장(營將) 장한상이 함경도 안변에서 물의 흐름을 따라 배를 띄워 동남쪽을 향하다가 이틀 만에 비로소 큰 산이 바다 가운데서 솟아 있는 것을 발견하게 되었다. ... (중략) ... 아마도 이곳이 옛 ㉡ 우산국(于山國) 일 것이다.

- ① (가)는 백과사전식으로 서술되었다.
- ② (나)는 국가 주도로 제작되었다.
- ③ (가)는 (나)보다 제작 시기가 이른다.
- ④ ㉠은 ㉡보다 면적이 넓다.
- ⑤ ㉡은 ㉠보다 고위도에 위치한다.

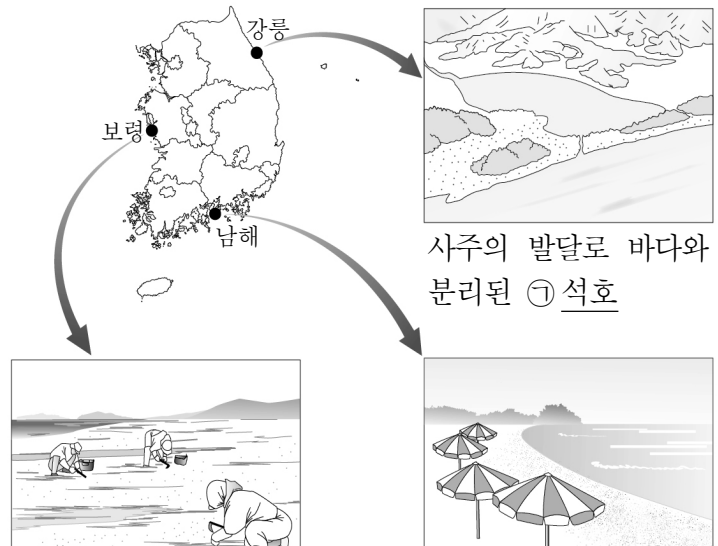
7. 다음은 일기 예보 장면이다. 밑줄 친 ㉠과 관련하여 영서 지방 주민들이 받을 수 있는 문자 메시지로 가장 적절한 것은? [3점]

내일의 날씨



- ① [기상청] 영서 지방 대설 주의, 축사나 비닐 하우스 붕괴 등의 피해 예방, 눈길 안전운전 요망
- ② [기상청] 영서 지방 건조 주의, 때 이른 더위와 건조한 날씨로 인한 농작물 피해 대비 요망
- ③ [기상청] 영서 지방 호우 주의, 하천의 범람으로 인한 주변 저지대 침수 피해 대비 요망
- ④ [기상청] 영서 지방 황사 주의, 모래나 미세 먼지로 인한 피해 예방, 외출 시 마스크 착용 요망
- ⑤ [기상청] 영서 지방 한파 주의, 강추위로 인한 수도관 동파에 철저한 대비 요망

8. 자료는 해안 지형을 나타낸 것이다. 밑줄 친 ㉠~㉣에 대한 설명으로 옳은 것은?



사주의 발달로 바다와 분리된 ㉠ 석호

조류의 작용으로 형성된 ㉡ 갯벌


파랑과 연안류에 의해 형성된 ㉢ 사빈

- ① ㉠의 물은 주로 농업용수로 이용된다.
- ② ㉡은 양식장이나 염전으로 이용하기에 유리하다.
- ③ ㉢은 주로 만(灣)보다 곶(串)에 발달한다.
- ④ ㉡은 ㉢보다 퇴적물의 평균 입자 크기가 크다.
- ⑤ ㉠~㉣은 주로 침식 작용에 의해 형성된 지형이다.

9. 다음은 학생이 작성한 보고서의 일부이다. 밑줄 친 ㉠, ㉡에 주로 분포하는 암석을 그래프의 A~C에서 고른 것은? [3점]

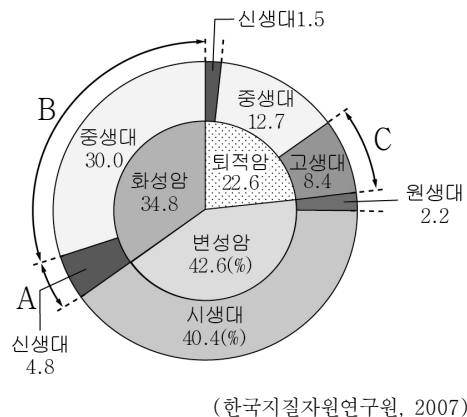
[미술 작품 속의 우리나라 산]

2학년 ○반 ○○○





1. 정선의 「인왕제색도」
마그마가 땅 속에서 굳어 형성된 기반암이 오랜 풍화와 침식을 받아 노출된 ㉠ 인왕산을 표현함.
2. 이형상의 「탐라순력도」
소규모의 화산 활동과 화산쇄설물의 퇴적으로 형성된 ㉡ 다랑쉬 오름을 표현함.

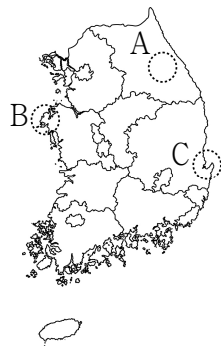
<한반도 분포 암석의 면적 비율>



- | | | |
|---|---|---|
| | ㉠ | ㉡ |
| ① | A | B |
| ② | A | C |
| ③ | B | A |
| ④ | B | C |
| ⑤ | C | A |

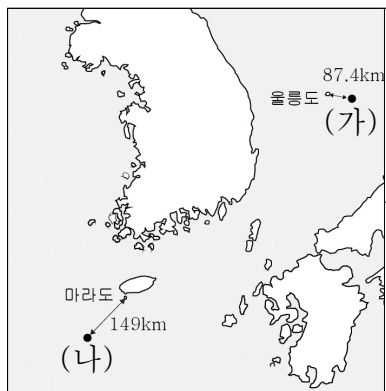
16. 다음은 학생이 제출한 지리 조사 계획서의 일부이다. (가), (나) 지역을 지도의 A~C에서 고른 것은? [3점]

주제	지형과 인간 생활	
지역	(가)	(나)
내용	<ul style="list-style-type: none"> 고위 평탄면 형성과 이용 고랭지 농업, 스키장 현황 2018 동계올림픽 개최 효과 	<ul style="list-style-type: none"> 대규모 해안 사구의 형성 천연기념물 지정과 보존 노력 람사르 등록 습지의 가치
홍보물	 <2018 동계올림픽 마스코트>	 <지역 특산물을 상징하는 캐릭터>



- | | (가) | (나) |
|---|-----|-----|
| ① | A | B |
| ② | A | C |
| ③ | B | A |
| ④ | B | C |
| ⑤ | C | B |

17. (가), (나)에 대한 옳은 설명을 <보기>에서 고른 것은? [3점]

 (가) 울릉도 (87.4km) (나) 마라도 (149km)	2개의 큰 섬과 89개의 작은 섬들로 이루어진 화산섬인 (가)은/는 인근 해역이 조경 수역으로 어족 자원이 풍부하다. 수중 암초로 가장 얇은 곳이 해수면 아래 약 4.6m인 (나)은/는 제주도의 전설에 나오는 환상의 섬으로 잘 알려져 있다.
----------------------------------------------------------------------------------------------------------------------------	-----------------------------------------------------------------------------------------------------------------------------------------------

- <보 기> —
- ㄱ. (가)는 세계 자연 유산으로 지정되어 있다.
 - ㄴ. (가)는 영해 설정 시 통상 기선이 적용된다.
 - ㄷ. (나)의 수직 상공은 우리나라의 영공이다.
 - ㄹ. (나)에는 우리나라 종합 해양 과학 기지가 있다.

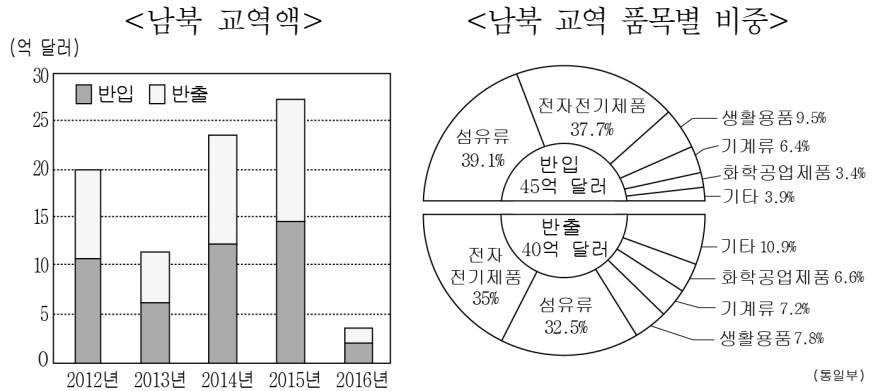
- ① ㄱ, ㄴ ② ㄱ, ㄷ ③ ㄴ, ㄷ ④ ㄴ, ㄹ ⑤ ㄷ, ㄹ

18. (가) 지역과 비교한 (나) 지역의 상대적 특성으로 옳은 것은? (단, (가), (나) 지역은 전라남도, 함경북도 중 하나임.)

지역	전통 가옥 구조 및 향토 음식의 특성
(가)	<ul style="list-style-type: none"> 부엌과 방 사이에 벽이 없는 공간으로 부뚜막과 방바닥이 연결된 거실 역할을 하는 정주간이 나타난다. 음식은 짜지 않고 담백한 편이며, 향토 음식으로는 잡곡밥, 감자국수, 냉면, 옥수수죽 등이 있다.
(나)	<ul style="list-style-type: none"> 지면과 사이를 띄우고 나무판을 깔아 만든 공간으로 안방과 건넌 방을 출입할 수 있는 거실 역할을 하는 대청이 나타난다. 음식은 맵고 짠 편이며, 향토 음식으로는 젓갈류, 갯김치, 파래무침, 굴비 등이 있다.

- ① 서리 일수가 많다. ② 첫 단풍 시기가 이르다.
- ③ 하천의 결빙 기간이 길다. ④ 해안선 형태가 단순하다.
- ⑤ 전통 가옥 구조가 개방적이다.

19. 다음은 남북 교역에 관한 자료이다. 그래프에 대한 옳은 분석을 <보기>에서 고른 것은?



- '반입'은 북→남, '반출'은 남→북을 의미함.
- 남북 교역 품목별 비중은 2012~2016년 자료임.

- <보 기> —
- ㄱ. 2012년 남북 교역액은 2013년보다 두 배 이상 많다.
 - ㄴ. 2013~2015년 사이 남북 교역액은 계속 증가하였다.
 - ㄷ. 2012~2016년 남북 교역에서 반입액이 반출액보다 많다.
 - ㄹ. 2012~2016년 반출 품목 중 섬유류의 비중이 가장 높다.

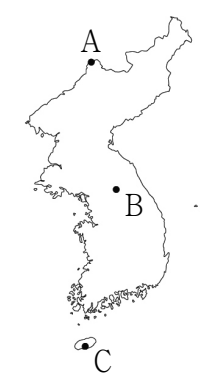
- ① ㄱ, ㄴ ② ㄱ, ㄷ ③ ㄴ, ㄷ ④ ㄴ, ㄹ ⑤ ㄷ, ㄹ

20. 자료는 사이버 학습 장면의 일부이다. ㉠~㉣ 중 옳은 내용을 고른 것은? [3점]

한국 지리

주소: [] 이동 인출

※ 지도의 A~C 지역의 기후 특성에 대해 답하십시오.



답글(4)

- ㉠ A는 B보다 기온의 연교차가 작습니다. ㉠
- ㉡ B는 C보다 연 강수량이 적습니다. ㉡
- ㉢ C는 A보다 최한월 평균 기온이 낮습니다. ㉢
- ㉣ A~C 중 최한월 평균 기온은 C가 가장 높습니다. ㉣

- ① ㉠, ㉡ ② ㉠, ㉢ ③ ㉡, ㉣ ④ ㉢, ㉣ ⑤ ㉢, ㉣

- ※ 확인 사항
- 답안지의 해당란에 필요한 내용을 정확히 기입(표기)했는지 확인하십시오.