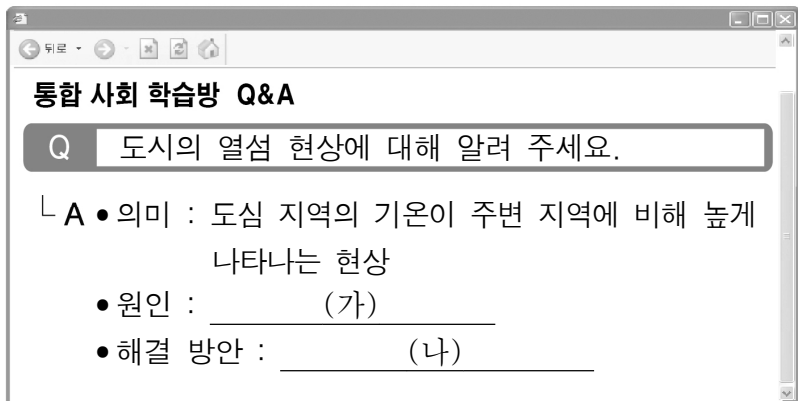


11. (가), (나)에 들어갈 내용으로 옳은 것은?



- | | |
|--------------|---------------|
| (가) | (나) |
| ① 주거 시설 부족 | 승용차 요일제 시행 |
| ② 주거 시설 부족 | 옥상 공원 조성 |
| ③ 건물의 밀집도 증가 | 옥상 공원 조성 |
| ④ 건물의 밀집도 증가 | 지표면의 인공 포장 확대 |
| ⑤ 자동차 통행량 증가 | 지표면의 인공 포장 확대 |

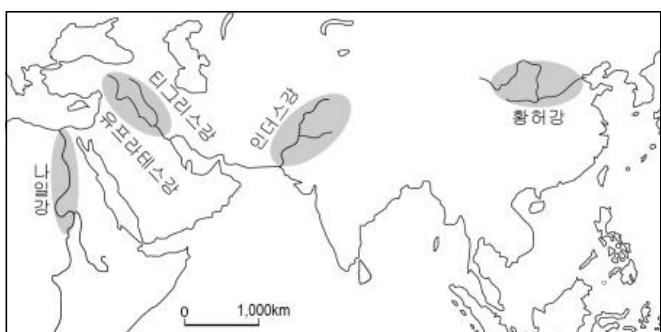
12. (가), (나)에 나타난 행복의 기준에 대한 설명으로 옳은 것은? [3점]

(가) 산업화가 한창 진행 중이던 1970년대에는 가난에서 벗어나기 위해 돈을 버는 것에 행복을 느끼는 경우가 많았다. 그러나 현재에는 경제적 가치보다 자신의 삶을 의미 있고 풍요롭게 만드는 것에 더 큰 행복을 느끼는 경우가 많다.

(나) 마실 물이 부족한 사막 지역에서는 깨끗한 물을 얻는 것만으로도 행복을 느끼는 경우가 많다. 한편 일조량이 부족한 북유럽 지역에서는 햇볕을 쬐 수 있는 것만으로도 행복을 느끼는 경우가 많다.

- ① (가)는 경제적 가치가 행복의 기준이 될 수 없다고 본다.
- ② (가)는 시대에 따라 행복의 기준이 다를 수 있다고 본다.
- ③ (나)는 도덕적 실천을 행복의 기준으로 삼아야 한다고 본다.
- ④ (나)는 자연환경이 행복의 기준에 영향을 줄 수 없다고 본다.
- ⑤ (가)는 (나)와 달리 행복의 기준을 공간적 관점에서 본다.

13. 지도에 표시된 지역의 공통점으로 옳은 것을 <보기>에서 고른 것은? [3점]



<보 기>

ㄱ. 고대 문명의 발상지이다.

ㄴ. 비옥한 충적 평야가 분포한다.

ㄷ. 습도가 높아 주민들은 주로 고상 가옥에 거주한다.

ㄹ. 벼농사가 발달하여 전통적으로 쌀을 주식으로 한다.

- ① ㄱ, ㄴ ② ㄱ, ㄷ ③ ㄴ, ㄷ ④ ㄴ, ㄹ ⑤ ㄷ, ㄹ

14. 다음 자료에 대한 분석 및 추론으로 옳은 것은? [3점]

프리덤 하우스(Freedom House)는 매년 세계 여러 국가를 대상으로 언론 자유 지수*를 산정한다. 지수 산정을 위하여 다음과 같은 질문을 만든다. ‘헌법과 법률이 언론과 표현의 자유를 보호하는가? 정부 또는 특정 집단의 영향력으로부터 언론 기관이 자유로운가?’ 이와 같은 질문에 대하여 부정적 응답이 많을수록 점수가 높아진다.

<갑국과 을국의 언론 자유 지수>

구분	2005년	2010년	2015년
갑국	30	32	34
을국	46	47	48

* 언론 자유 지수: 총점 100점을 기준으로 0~30점은 ‘언론 자유국’, 31~60점은 ‘부분적 언론 자유국’, 61~100점은 ‘언론 비자유국’으로 분류함.

- ① 2015년 갑국은 언론 자유국에 해당한다.
- ② 갑국은 을국보다 언론 활동이 자유롭지 못하다.
- ③ 갑국과 을국 모두 언론의 자유가 확대되고 있다.
- ④ 언론 매체의 독립성이 보장될 때 지수가 낮아질 것이다.
- ⑤ 2005년 대비 2015년의 언론 자유 지수 증가율은 갑국이 을국보다 낮다.

15. 환경 문제에 관한 퍼즐이다. (가)에 들어갈 내용으로 적절한 것은?

				㉠	㉡	
					막	
	㉢	구				

<가로 열쇠>

㉠ : 중국이나 몽골의 건조 기후 지역에서 발원하여 바람을 타고 이동하는 작은 모래나 먼지

㉡ : 온실가스 증가로 인해 지표 및 대기의 평균 온도가 상승하는 현상

<세로 열쇠>

㉢ : _____ (가)

- ① 대기오염 물질이 안개와 결합하는 현상
- ② 지표면에 도달하는 자외선의 양이 증가하는 현상
- ③ 산성을 띤 대기오염 물질이 빗물에 섞여 내리는 현상
- ④ 플랑크톤의 이상 증식으로 바닷물이 붉게 변하는 현상
- ⑤ 가뭄 및 과도한 방목과 경작으로 땅이 사막처럼 변하는 현상

16. 다음 국제 협약과 관련된 환경 문제를 해결하기 위한 노력으로 적절한 것을 <보기>에서 고른 것은?

UN 기후 변화 협약 195개 참가국은 ‘교토 의정서’를 대신할 ‘파리 기후 협약’을 만장일치로 채택하였다. 이 협약의 당사국들은 2050년 이후에는 인간의 온실 가스 배출량과 지구가 흡수하는 능력이 균형을 이루어야 한다고 촉구했다. 또한 이 협약에는 선진국 뿐만 아니라 개발 도상국에도 온실가스 감축 의무를 부여하고 기후 변화로 피해를 입는 국가를 돕는 내용도 포함되었다.

- <보 기>
- ㄱ. 화석 연료의 가격을 인하한다.
 - ㄴ. 탄소 배출량이 적은 제품을 사용한다.
 - ㄷ. 대기 오염 물질의 배출 규제를 완화한다.
 - ㄹ. 시민 단체에 가입하여 환경 감시 활동을 한다.

- ① ㄱ, ㄴ ② ㄱ, ㄷ ③ ㄴ, ㄷ ④ ㄴ, ㄹ ⑤ ㄷ, ㄹ

17. 교사의 질문에 옳은 답변을 한 학생을 고른 것은?

IV. 인권 보장과 헌법
인권의 의미와 특성

인권은 인간으로서 당연히 누려야 할 기본적인 권리를 의미합니다. 그러면 이러한 인권은 어떤 특성을 지닐까요?

일정 기간에만 보장됩니다.

갑

누구든지 태어나면서부터 가지게 됩니다.

을

모든 사람이 차별 없이 누릴 수 있습니다.

병

타인에게 양도할 수 있습니다.

정

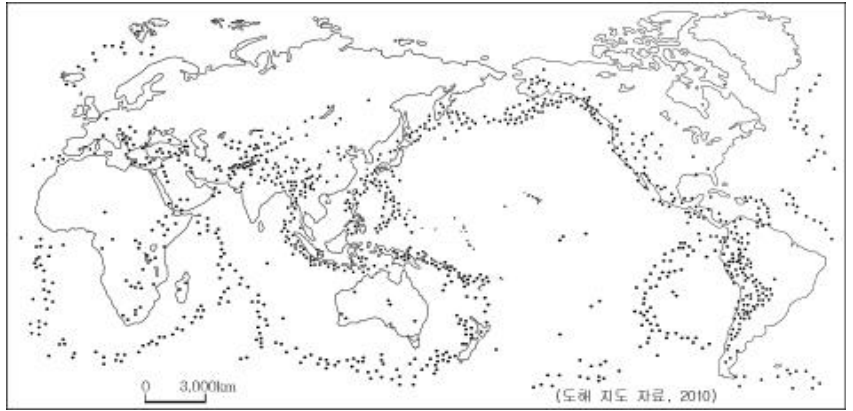
- ① 갑, 을 ② 갑, 병 ③ 을, 병 ④ 을, 정 ⑤ 병, 정

18. 밑줄 친 내용과 관련된 기본권 ㉠~㉣에 대한 설명으로 옳은 것은? (단, ㉠~㉣은 각각 자유권, 평등권, 사회권 중 하나이다.) [3점]

청문회 주제	관련 기본권
여성 <u>차별 금지</u> 관련 입법안	㉠
재개발 과정에서의 <u>학습권 보장</u> 방안	㉡
범죄 예방용 CCTV 설치로 인한 인권 침해와 이에 대한 <u>사생활 보장</u> 방안	㉢

- ① ㉠은 국가 권력의 간섭을 받지 않을 권리이다.
- ② ㉡은 바이마르 헌법에서 최초로 규정된 권리이다.
- ③ ㉢은 국가 의사 결정 과정에 참여할 수 있는 권리이다.
- ④ ㉠과 달리 ㉡은 프랑스 인권 선언에 명시되었다.
- ⑤ ㉡에 비해 ㉢은 국가의 적극적인 역할을 강조한다.

19. 지도는 어느 자연재해의 주요 발생지를 표시한 것이다. 이 자연재해와 이로 인해 보장되어야 할 인권을 연결한 것으로 옳은 것은?



- | | 자연재해 | 보장되어야 할 인권 |
|---|------|------------|
| ① | 태풍 | 주거권 |
| ② | 태풍 | 안전권 |
| ③ | 화산 | 잇힐 권리 |
| ④ | 지진 | 안전권 |
| ⑤ | 지진 | 잇힐 권리 |

20. 학생이 표시한 답이 옳은 것을 ㉠~㉣ 중에서 고른 것은?

[3점]

<형 성 평 가>

1학년 ○반 ○번 ○○○

※ 글쓴이가 지지할 주장으로 옳으면 ‘예’, 틀리면 ‘아니요’에 ‘V’를 표시하시오.

행복한 삶을 실현하기 위한 조건

행복한 삶을 살기 위해서는 의식주와 같이 기본적인 경제적 조건과 안전한 삶의 공간이 갖추어져야 한다. 또한 민주적 절차와 참여가 보장되어야 자유롭고 평등한 삶을 살 수 있다. 아울러 공동체가 유지되려면 사회 구성원들이 올바른 가치관을 가지고 실천하는 풍토가 조성되어야 한다.

- 주장1: 질 높은 정주 환경이 보장되어야 행복한 삶을 살 수 있다.
예 아니요 ㉠
- 주장2: 국민의 소득 수준과 삶의 질은 서로 관계가 없다.
예 아니요 ㉡
- 주장3: 행복을 실현하기 위해 국가는 시민의 정치 참여를 제한해야 한다.
예 아니요 ㉢
- 주장4: 공동체의 행복을 위해서 도덕적 가치를 실천해야 한다.
예 아니요 ㉣

- ① ㉠, ㉡ ② ㉠, ㉢ ③ ㉡, ㉣ ④ ㉡, ㉣ ⑤ ㉢, ㉣

※ 확인 사항

- 답안지의 해당란에 필요한 내용을 정확히 기입(표기)했는지 확인하시오.