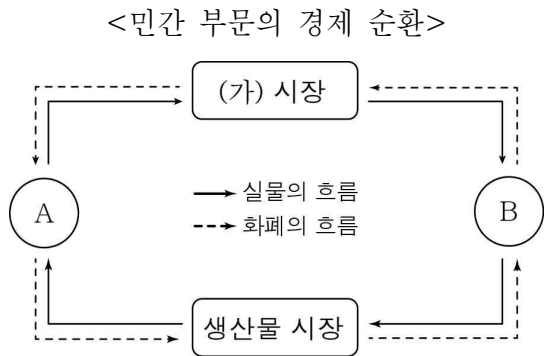


제 4 교시

사회탐구 영역(경제)

성명 수험번호 2

1. 그림에 대해 옳게 이해한 학생을 <보기>에서 고른 것은? (단, A와 B는 각각 가게와 기업 중 하나에 해당한다.)

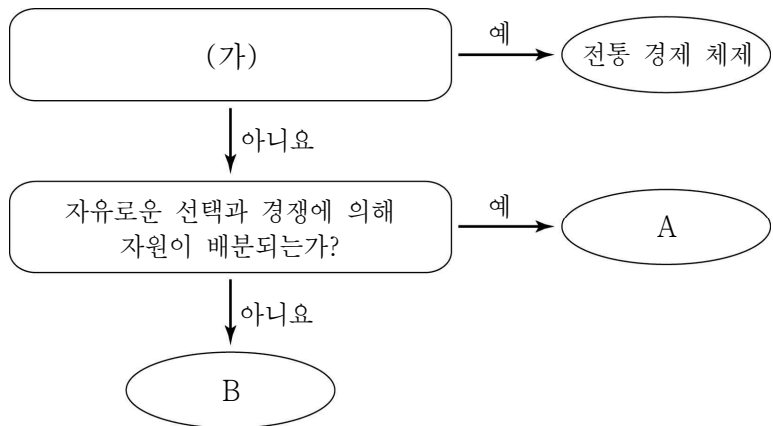


< 보 기 >

갑: A는 기업이겠네.
을: B는 생산 활동의 주체야.
병: (가) 시장에서는 재화와 서비스가 거래되지.
정: (가) 시장에서 A는 공급자가 되겠군.

- ① 갑, 을 ② 갑, 병 ③ 을, 병 ④ 을, 정 ⑤ 병, 정

2. 그림은 경제 체제를 유형별로 구분한 것이다. 이에 대한 옳은 설명을 <보기>에서 고른 것은? (단, A와 B는 각각 계획 경제 체제와 시장 경제 체제 중 하나이다.)



< 보 기 >

ㄱ. (가)에는 '정부의 계획이나 명령을 통해 기본적인 경제 문제를 해결하는가?'가 들어갈 수 있다.
ㄴ. A에서는 시장 원리에 의해 경제가 운영된다.
ㄷ. 우리나라는 A를 기본으로 하지만 필요한 경우 정부가 시장에 개입하기도 한다.
ㄹ. A와 달리 B에서는 기본적인 경제 문제가 발생하지 않는다.

- ① ㄱ, ㄴ ② ㄱ, ㄷ ③ ㄴ, ㄷ ④ ㄴ, ㄹ ⑤ ㄷ, ㄹ

3. 자산 관리의 주요 판단 기준인 A ~ C와 관련한 진술 중 옳은 것은? (단, A ~ C는 각각 수익성, 안전성, 유동성 중 하나이다.)

A	원금이 보전될 수 있는 정도
B	시세 차익, 이자 수익 등을 기대할 수 있는 정도
C	필요할 때 현금으로 전환하기 쉬운 정도

- ① 채권은 예금에 비해 A가 높다.
② 부동산은 금융 자산에 비해 C가 높다.
③ B가 높은 자산일수록 A가 낮은 경향이 있다.
④ 예금은 A와 C가 모두 낮은 편이다.
⑤ 주식은 C가 높지만 B는 낮은 편이다.

4. 그림에 대한 옳은 분석을 <보기>에서 고른 것은? (단, 갑과 을은 합리적 선택을 하였으며, 서로 모르는 사이이다.) [3점]



< 보 기 >

ㄱ. 갑이 우동을 먹을 때 얻는 편익은 5,000원 이상이다.
ㄴ. 갑이 우동을 먹기 위해 치러야 하는 기회비용은 5,000원 미만이다.
ㄷ. 을은 우동을 먹을 때 얻는 편익보다 돈가스를 먹을 때 얻는 편익이 크다고 생각한다.
ㄹ. 우동을 먹을 때 얻는 편익은 을이 갑보다 클 것이다.

- ① ㄱ, ㄴ ② ㄱ, ㄷ ③ ㄴ, ㄷ ④ ㄴ, ㄹ ⑤ ㄷ, ㄹ

5. 표는 A 기업의 X재 생산량에 따른 총비용을 나타낸다. 이에 대한 분석으로 옳은 것은? (단, X재 가격은 1,000원으로 일정하며, 생산된 X재는 모두 판매된다.) [3점]

생산량	1개	2개	3개	4개	5개
총비용(원)	1,000	1,800	2,400	3,600	5,500

- ① 생산량이 3개일 때 이윤이 극대화된다.
② 이윤을 얻으려면 최소 3개 이상을 생산해야 한다.
③ 생산량이 2개일 때와 4개일 때의 이윤은 동일하다.
④ 생산량을 1개씩 늘릴 때마다 추가되는 비용은 감소한다.
⑤ 생산량이 증가함에 따라 개당 평균 생산 비용은 감소한다.

11. 갑국에서 조세 정책 변화로 나타날 영향에 대한 추론으로 가장 적절한 것은?

갑국은 작년까지 개인 소득을 세 구간으로 나누어 각각 10%, 30%, 40%의 누진세율을 적용하였으나, 금년에는 소득 구간은 그대로 두되 구간별로 각각 10%, 20%, 30%의 누진세율을 적용하였다. 또한 비례세 제도를 적용하는 부가가치세의 세율을 10%에서 20%로 올렸다.

- ① 정부의 조세 수입이 증가할 것이다.
- ② 고소득층의 조세 저항이 커질 것이다.
- ③ 조세 부담의 역진성이 약화될 것이다.
- ④ 조세의 소득 재분배 효과가 약화될 것이다.
- ⑤ 조세 수입 중 직접세의 비중이 확대될 것이다.

12. 밑줄 친 ㉠, ㉡에 대한 옳은 설명을 <보기>에서 고른 것은? [3점]

최근의 ㉠ 원/달러 환율 변동으로 인해 수출이 증가하고 수입은 감소하고 있어.

그렇지. 하지만 지속적인 수출 증가와 수입 감소는 다시 ㉡ 원/달러 환율의 변동 요인으로 작용해.



갑



을

< 보 기 >

㉠. ㉠은 달러화 가치가 상승한 것이다.

㉡. ㉠은 미국으로 여행가는 우리나라 사람의 비용 부담을 증가시키는 요인이다.

㉢. ㉡의 변동 방향은 원/달러 환율의 상승이다.

㉣. ㉡은 미국산 부품을 수입하는 우리나라 기업에 불리하게 작용한다.

- ① ㉠, ㉡ ② ㉠, ㉢ ③ ㉡, ㉢ ④ ㉡, ㉣ ⑤ ㉢, ㉣

13. 다음 자료에 대한 옳은 분석을 <보기>에서 고른 것은? [3점]

갑은 A 지역에서 조랑말 체험 농장을 운영하고 있는 유일한 사업자이다. 갑은 조랑말 탑승 요금을 10% 인상하려고 한다. 조랑말 탑승 요금 인상에 따른 수요량 변화율은 다음 표와 같다.

구분	A 지역 주민	한국인 관광객	외국인 관광객
수요량 변화율(%)	-20	-5	0

< 보 기 >

㉠. A 지역 주민의 수요는 가격에 대해 탄력적이다.

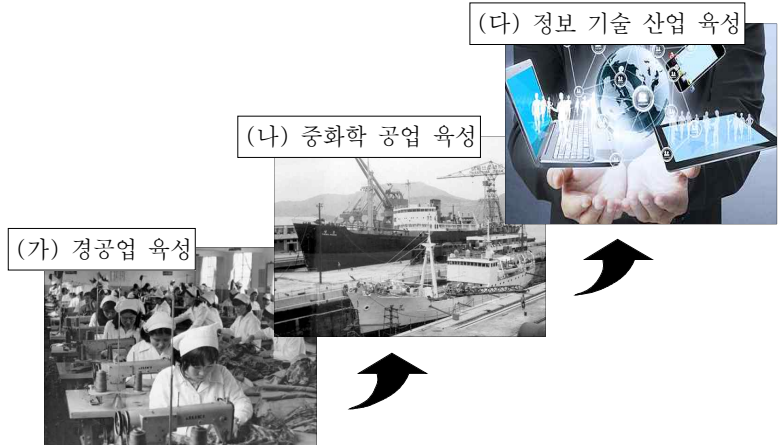
㉡. 한국인 관광객을 대상으로 한 매출액은 증가한다.

㉢. 외국인 관광객을 대상으로 한 매출액은 변동이 없다.

㉣. 수요의 가격 탄력성은 한국인 관광객이 외국인 관광객보다 작다.

- ① ㉠, ㉡ ② ㉠, ㉢ ③ ㉡, ㉢ ④ ㉡, ㉣ ⑤ ㉢, ㉣

14. (가)~(다)는 한국 경제의 발전 과정을 시기별로 구분한 것이다. 이에 대해 옳게 이해한 학생을 <보기>에서 고른 것은?



< 보 기 >

갑: 1980년대는 (가) 시기에 해당해.

을: (나) 시기에는 수출 증대에 힘쓰지 않았어.

병: (가)에 비해 (다) 시기의 경제 규모가 더 컸어.

정: (나)에 비해 (가) 시기에는 노동 집약적 산업에 더 집중했어.

- ① 갑, 을 ② 갑, 병 ③ 을, 병 ④ 을, 정 ⑤ 병, 정

15. 자료에 대한 분석으로 옳지 않은 것은? [3점]

<표 1>은 현재 자두 시장에서 일부 수요자들의 상황을 보여준다. 예를 들어, 갑은 첫 번째 자두는 800원을 주고서라도 사 먹지만 하나 더 사먹을 때는 700원까지만 지불할 용의가 있다.

<표 2>는 현재 자두 시장에서 일부 공급자들의 상황을 보여준다. 예를 들어, A는 가격이 300원이면 하나만 생산해서 판매하려고 하지만, 가격이 400원이면 2개를 생산해서 판매할 의사가 있다.

단, 모든 수요자와 공급자는 각각 2개까지만 거래하고자 한다.

<표 1> 지불하고자 하는 최대 금액

수요자	첫 번째 자두	두 번째 자두
갑	800원	700원
을	600원	500원

<표 2> 받고자 하는 최소 금액

공급자	첫 번째 자두	두 번째 자두
A	300원	400원
B	300원	500원

- ① 시장 가격이 200원이면 A와 B는 자두를 공급하지 않는다.
- ② 시장 가격이 500원일 경우 갑이 얻는 소비자 잉여는 500원이다.
- ③ 시장 가격이 600원일 경우 을이 얻는 소비자 잉여는 100원이다.
- ④ 시장 가격이 600원일 경우 B가 얻는 생산자 잉여는 400원이다.
- ⑤ 시장 가격이 900원이면 갑과 을은 자두를 사 먹지 않는다.

16. 표는 갑국의 경상 수지를 나타낸다. 이에 대한 분석으로 옳은 것은? [3점]

(단위: 억 달러)

구분		2016년	2017년
계		50	60
세부 항목	상품 수지	50	45
	서비스 수지	-20	-20
	본원 소득 수지	30	40
	이전 소득 수지	-10	-5

- ① 국가 간 여행, 운송 서비스 거래가 집계되는 세부 항목은 두 해 모두 적자이다.
- ② 외국인 근로자에게 지급하는 임금이 집계되는 세부 항목은 두 해 모두 적자이다.
- ③ 2016년의 경상 수지는 갑국의 물가 하락 요인이다.
- ④ 국가 간 무상 원조액이 집계되는 세부 항목은 2017년에 흑자를 기록하였다.
- ⑤ 2017년 갑국의 수출액은 2016년에 비해 5억 달러 증가하였다.

17. 밑줄 친 ㉠~㉣에 대해 잘못 이해하고 있는 학생은?

㉠ 일할 능력과 ㉡ 일할 의사가 있음에도 불구하고 일자리를 갖지 못한 사람을 실업자라고 한다. 따라서 ㉢ 12세의 초등학생이 일을 하고 있지 않다고 해서 실업자라고 하지는 않는다. 또한 가사와 양육에 전념하기 위해 ㉣ 전업주부 생활을 하고 있는 사람도 실업자라고 하지는 않는다.

- ① 갑: ㉢은 경제 활동 인구에 포함되지 않아.
- ② 을: ㉢은 비경제 활동 인구에 포함돼.
- ③ 병: ㉠, ㉡ 중 어느 하나라도 없으면 실업자로 분류될 수 없겠군.
- ④ 정: ㉢과 달리 ㉣은 취업자로 분류되겠네.
- ⑤ 무: ㉢은 ㉡이 없는 거야.

18. 신문 기사에서 밑줄 친 국가의 경제 상황에 대한 분석 및 추론으로 옳지 않은 것은?

○○신문

2017년 △△월 △△일

□□국은 4,000%가 넘는 '초(超)인플레이션'으로 몸살을 앓고 있다. 국제 사회의 경제 제재까지 가중되어 주요 생활필수품의 조달마저 어려워지고 있는 상황이다. ... (후략) ...

- ① 물가 급등 현상이 발생하고 있다.
- ② 자국 화폐의 가치가 상승하고 있다.
- ③ 자국 화폐의 구매력이 떨어지고 있다.
- ④ 화폐 자산 소유자가 실물 자산 소유자보다 불리해지고 있다.
- ⑤ 생활필수품에 대한 소비자들의 수요가 충족되지 못하고 있다.

19. 그림에서 교사의 질문에 대해 옳게 답변한 학생을 고른 것은?

경제 성장이란 그림처럼 무언가가 점점 커지는 것입니다. 다음 문장을 완성해 보세요.

(?) → (?) → (?)

경제 성장이란 (?)이 커지는 것이다.

갑

경제 성장이란 (실질 GDP)가 커지는 것이다.

을

경제 성장이란 (명목 GDP)가 커지는 것이다.

병

경제 성장이란 (실물 생산량)이 커지는 것이다.

정

경제 성장이란 (화폐 보유량)이 커지는 것이다.

- ① 갑, 을 ② 갑, 병 ③ 을, 병 ④ 을, 정 ⑤ 병, 정

20. 자료에 대한 분석으로 옳은 것은? [3점]

X재와 Y재만을 생산하는 갑국과 을국은 비교 우위 상품을 생산하여 교역하기로 합의하였다. 갑국과 을국의 생산 현황은 아래 표와 같다. 단, 갑국과 을국이 보유한 생산 요소의 양은 동일하며, 각국의 생산 가능 곡선은 직선이다.

구분	특화 전 생산량		특화 후 생산량	
	X재	Y재	X재	Y재
갑국	50개	100개	0개	200개
을국	100개	200개	300개	0개

- ① 갑국에서 Y재 1개 생산의 기회비용은 X재 2개이다.
- ② 을국에서 X재 1개 생산의 기회비용은 Y재 1개이다.
- ③ 갑국은 X재와 Y재 생산 모두에 절대 우위가 있다.
- ④ 갑국은 X재, 을국은 Y재 생산에 비교 우위가 있다.
- ⑤ X재와 Y재를 1:3의 비율로 교환하면 갑국과 을국 모두에게 이익이다.

※ 확인 사항
○ 답안지의 해당란에 필요한 내용을 정확히 기입(표기)했는지 확인하시오.