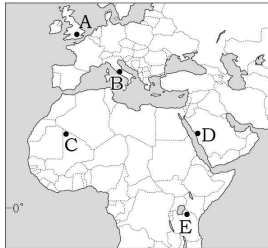
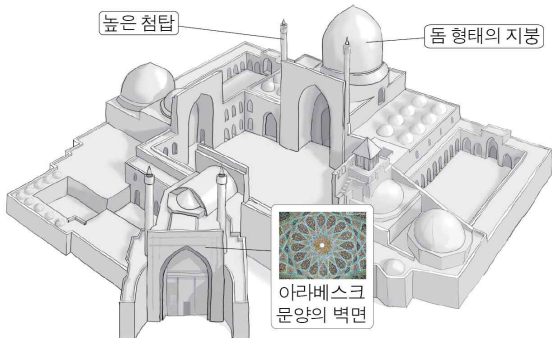


5. 우편엽서에서 설명하고 있는 여행 지역을 지도의 A~E에서 고른 것은?



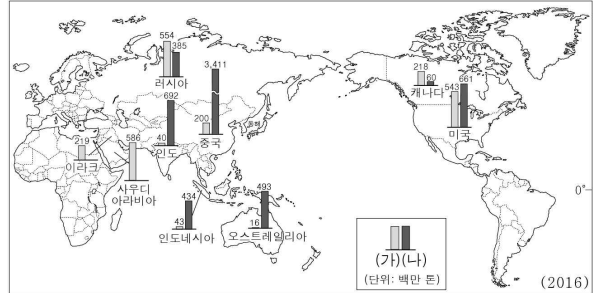
- ① A
- ② B
- ③ C
- ④ D
- ⑤ E

6. 그림은 어떤 종교의 사원을 나타낸 것이다. 이 종교에 대한 설명으로 옳은 것은?



- ① 여러 신을 숭배한다.
- ② 살생을 금하고 해탈을 중시한다.
- ③ 신자들은 돼지고기를 금기시한다.
- ④ 십자가를 대표적인 상징으로 여긴다.
- ⑤ 갠지스강에서 목욕하는 종교 의식이 행해진다.

7. 지도는 (가), (나) 에너지 자원의 주요 국가별 생산량을 나타낸 것이다. 이 자원에 대한 설명으로 옳은 것은? (단, (가), (나)는 석유, 석탄 중 하나임.) [3점]



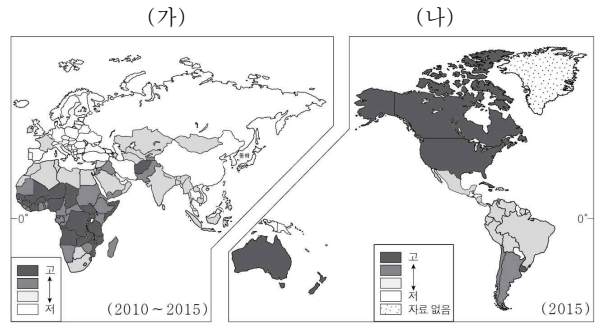
- ① (가)는 고생대 지층에 주로 매장되어 있다.
- ② (가)는 산업 혁명 시기에 주요 에너지 자원이었다.
- ③ (나)는 자동차와 항공기 등의 연료로 주로 사용된다.
- ④ (가)는 (나)보다 국제 이동량이 많다.
- ⑤ (가)는 (나)보다 상용화 시기가 이른다.

8. 다음 자료는 서로 다른 상거래 방식을 나타낸 것이다. (가)와 비교한 (나)의 상대적 특징으로 옳은 것은?



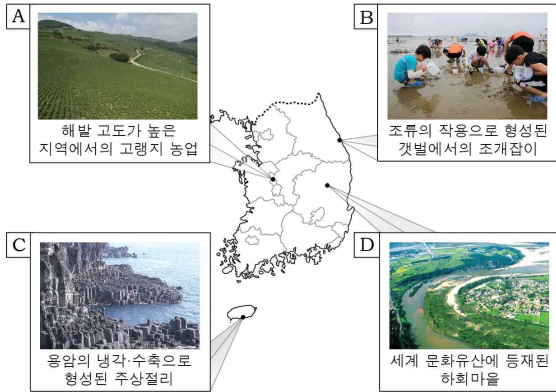
- ① 상품의 판매 범위가 넓다.
- ② 구매 활동의 시간적 제약이 크다.
- ③ 상품 전시 공간의 필요성이 크다.
- ④ 판매자와 소비자 간에 대면 접촉이 잦다.
- ⑤ 상품 구매를 위한 소비자의 평균 이동 거리가 길다.

9. 지도 (가), (나)의 인구 지표로 옳은 것은?



- ① 인구 밀도 노년 인구 비율
- ② 합계 출산율 인구 밀도
- ③ 합계 출산율 노년 인구 비율
- ④ 노년 인구 비율 인구 밀도
- ⑤ 노년 인구 비율 합계 출산율

10. 지도에 표시된 지역에서 볼 수 있는 경관으로 옳은 것은?



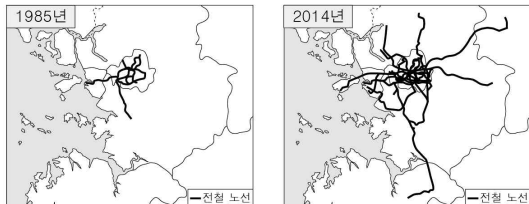
- ① A, B ② A, C ③ B, C ④ B, D ⑤ C, D

11. 다음 글의 ㉠~㉣에 대한 설명으로 옳지 않은 것은? [3점]

㉠ 교통과 통신의 발달로 지역 간 이동과 소통이 수월해지면서 세계화 시대가 열리게 되었다. 이에 ㉡ 외국인의 해외 투자가 증가하고 있으며, ㉢ 다국적 기업의 활동이 두드러지고 있다. 지리적으로 인접하거나 상호 의존성이 높은 국가 간에는 ㉣ 지역 경제 협력체를 형성하기도 한다. 또한 국가 간 ㉤ 자유 무역 협정(FTA) 체결을 통해 무역 장벽을 낮추고 있다.

- ① ㉠으로 국제 교류의 시·공간적 제약이 감소한다.
② ㉡은 선진국이 개발 도상국보다 투자하는 규모가 크다.
③ ㉢의 생산 공장이 들어서는 국가에 고용 창출 효과가 나타난다.
④ ㉣의 사례로 유럽 연합(EU), 동남아시아 국가 연합(ASEAN)이 있다.
⑤ ㉤은 협정 당사국 간의 사회·정치적 통합을 목적으로 한다.

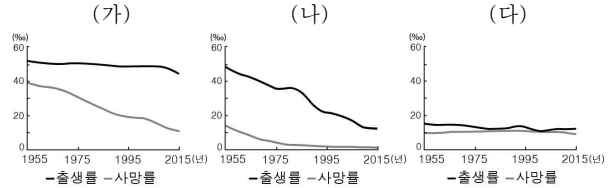
12. 지도는 수도권 전철 노선의 변화를 나타낸 것이다. 이러한 변화로 나타난 현상에 대한 옳은 추론만을 <보기>에서 있는 대로 고른 것은? [3점]



㉠ 서울의 상권이 확대되었을 것이다.
㉡ 서울로의 통근·통학 범위가 축소되었을 것이다.
㉢ 주거지의 교외화 현상이 뚜렷하게 나타났을 것이다.
㉣ 수도권 내에서의 도시 간 접근성이 향상되었을 것이다.

- ① ㉠, ㉡ ② ㉠, ㉢ ③ ㉡, ㉣
④ ㉠, ㉢, ㉣ ⑤ ㉡, ㉢, ㉣

13. 그래프는 세 국가의 출생률과 사망률 변화를 나타낸 것이다. (가)~(다) 국가에 대한 옳은 추론을 <보기>에서 고른 것은? [3점]

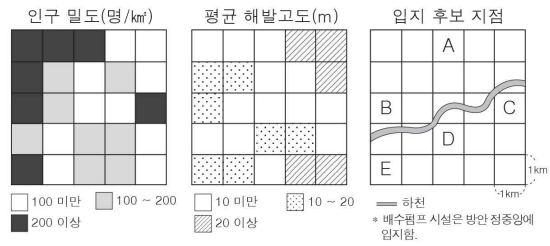


㉠ (가)는 1955년 이후 기대 수명이 낮아졌을 것이다.
㉡ (나)는 1955년 이후 인구의 자연적 증가가 나타났을 것이다.
㉢ (나)는 (다)보다 산업화 시작 시기가 늦었을 것이다.
㉣ (다)는 (가)보다 2015년의 노년 인구 비율이 낮을 것이다.

- ① ㉠, ㉡ ② ㉠, ㉢ ③ ㉡, ㉢ ④ ㉡, ㉣ ⑤ ㉢, ㉣

14. 다음 <조건>을 고려하여 홍수 예방을 위한 배수펌프 시설을 건설하려고 할 때, 최적 입지 지점을 그림의 A~E에서 고른 것은?

㉠ 인구 밀도가 200명/km² 이상인 곳
㉡ 평균 해발고도가 10m 미만인 곳
㉢ 하천으로부터 거리 1km 이내인 곳



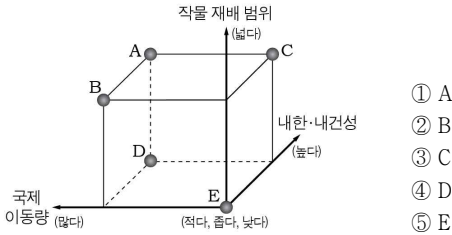
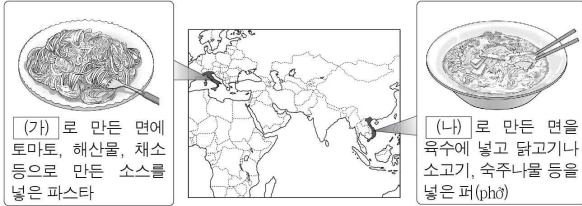
- ① A ② B ③ C ④ D ⑤ E

15. 다음 글에 해당하는 '인간과 자연의 관계'에 대한 관점의 사례로 가장 적절한 것은?

네덜란드에서는 작물 재배 지역과 산업 단지를 확보하기 위해 간척 사업이 활발하게 진행되었다. 그러나 이 지역의 오염이 심화되면서 생태계가 파괴되었다. 이를 해결하기 위해 최근 대대적인 갯벌 복원 사업을 진행하고 있다.

- ① 중국에서는 전력 생산을 위해 창장강에 대규모 댐을 건설하였다.
② 사우디아라비아의 주민들은 강한 일사로 인해 주로 흰 옷을 입는다.
③ 인도네시아에서는 많은 강수량으로 인해 전통 가옥 지붕의 경사가 급하다.
④ 독일의 니더작센 국립공원에서는 습지 보호를 위해 관광객 수를 제한하였다.
⑤ 아랍 에미리트에서는 관광객 유치를 위해 바다를 매립하여 세계 최대의 인공 섬을 만들었다.

16. 다음 자료는 두 국가의 주요 식량 작물로 만든 음식을 소개한 것이다. (나)에 대한 (가)의 상대적 특성을 그림의 A~E에서 고른 것은? (단, (가), (나)는 밀, 쌀 중 하나임.) [3점]



- ① A
- ② B
- ③ C
- ④ D
- ⑤ E

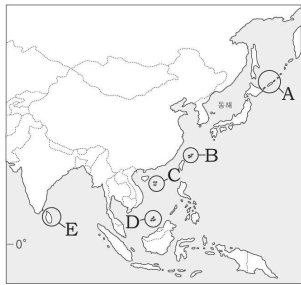
17. 다음 글의 ㉠ ~ ㉥에 대한 설명으로 옳지 않은 것은? [3점]

우리나라는 심각한 ㉠ 저출산 현상과 함께 ㉡ 고령화로 인해 사회 전반적으로 ㉢ 다양한 문제가 나타나고 있다. 특히 고령화는 ㉣ 초라에서 더욱 뚜렷하게 나타난다. 이는 정장년층의 ㉤ 이혼향도 현상으로 인해 노년 인구의 비율이 상대적으로 더 높아졌기 때문이다.

- ① ㉠은 자녀에 대한 가치관의 변화, 양육비 증가 등이 원인이다.
- ② ㉡은 의학 기술의 발달에 따라 평균 수명이 늘어났기 때문이다.
- ③ ㉢의 해결 방안으로는 출산 장려금 확대와 노인 복지 정책 마련 등이 있다.
- ④ ㉣에서는 노동력 부족과 휴경지 증가 등의 문제점이 나타난다.
- ⑤ ㉤은 1970년대보다 2000년대에 뚜렷하게 나타났다.

18. 신문 기사에서 설명하는 분쟁 지역을 지도의 A~E에서 고른 것은? [3점]

제△호 □□ 신문 2017년 ○○월 ○○일
 센카쿠 열도(다오위다오)는 동중국해 남서부에 위치하고 있으며 무인도와 암초로 구성되어 있다. 이 지역은 일본, 중국, 타이완의 분쟁 지역이며 현재 일본이 실효 지배하고 있다. 인근 해역에는 석유와 천연가스가 매장되어 있어 이 지역을 둘러싼 국가 간의 갈등이 첨예하다.



- ① A
- ② B
- ③ C
- ④ D
- ⑤ E

19. 다음 자료는 어떤 환경 문제에 대해 작성한 보고서의 일부이다. (가)에 들어갈 적절한 내용을 <보기>에서 고른 것은?

수행평가 보고서

- 환경 문제: ○○○ 현상
- 사례 지역: 사하라 사막 이남의 사헬 지대
- 원인: 과도한 방목과 관개 농업의 확대
- 영향

(가)

- < 보기 >
- ㄱ. 지하수 감소로 인한 물 부족
 - ㄴ. 해수면 상승으로 인한 저지대의 침수
 - ㄷ. 토양 황폐화로 인한 기근 및 난민 발생
 - ㄹ. 열대 저기압의 세력 강화로 인한 풍수해 증가

- ① ㄱ, ㄴ ② ㄱ, ㄷ ③ ㄴ, ㄷ ④ ㄴ, ㄹ ⑤ ㄷ, ㄹ

20. 다음 자료는 학생이 정리한 노트의 일부 내용이다. ㉠ ~ ㉥ 중 옳지 않은 것은? [3점]

<학습 주제: 하향식 개발>

- 지역 개발 모식도

- 개발 방식의 특징
- 개발 주체: ㉠ 중앙 정부 또는 국가
- 개발 목표: ㉡ 경제 성장의 극대화
- 개발 방법: ㉢ 낙후된 지역을 우선 선정하여 개발
- 장점: ㉣ 자원의 효율적인 이용
- 단점: ㉤ 지역 주민의 의사 반영이 어려움

- ① ㉠ ② ㉡ ③ ㉢ ④ ㉣ ⑤ ㉤

※ 확인 사항
 답안지의 해당란에 필요한 내용을 정확히 기입(표기)했는지 확인하시오.