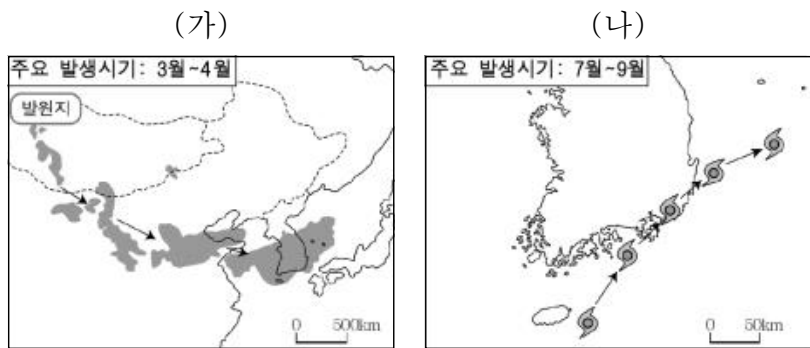


6. 지도는 우리나라의 자연 재해와 관련된 기상 현상을 나타낸 것이다. (가), (나)에 대한 적절한 대비 방안을 <보기>에서 고른 것은?



< 보 기 >

ㄱ. 물을 절약해서 사용해야 해.	ㄴ. 외출할 때 마스크를 착용해야 해.
ㄷ. 어망을 걷고, 안전한 항구로 대피해야 해.	ㄹ. 도로가 미끄러우니 체인을 미리 준비해야 해.

- | | | | |
|-----|-----|-----|-----|
| (가) | (나) | (가) | (나) |
| ① ㄱ | ㄴ | ② ㄱ | ㄷ |
| ③ ㄴ | ㄷ | ④ ㄴ | ㄹ |
| ⑤ ㄷ | ㄹ | | |

7. 자료는 서로 다른 국가의 지폐에 대한 설명이다. 두 지역의 공통적인 특징으로 적절한 것은? [3점]

	이 지역 주민은 키가 작은 풀이 자라는 넓은 스텝에서 말과 양을 기르며 생활한다.
	이 지역 주민은 큰 일교차와 강한 햇빛 때문에 온몸을 감싸는 의복을 주로 입는다.

- ① 건조 기후가 나타난다.
- ② 주민들은 소를 신성시한다.
- ③ 혼합 농업이 주로 행해진다.
- ④ 대부분 고상식 가옥에서 거주한다.
- ⑤ 짧은 여름 동안 백야 현상이 관찰된다.

8. 다음은 해외여행 일정표 중 일부이다. 여행 지역의 특징에 대한 옳은 설명을 <보기>에서 고른 것은?

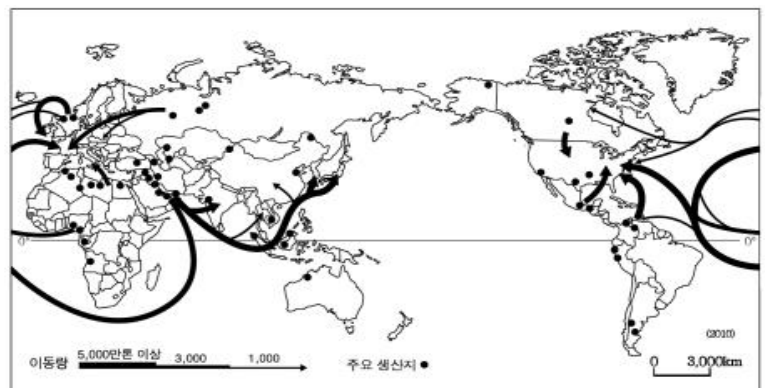
7월 〇〇일 (2일차)	오전 : 아크로폴리스 언덕 위에 있는 파르테논 신전 관람 오후 : 싱그러운 포도 향기 가득한 와인 농장을 방문하여 와인 만들기 체험
7월 〇〇일 (3일차)	오전 : 푸른 바다와 하얀색의 집들이 대비되는 산토리니의 마을 탐방 오후 : 해변에서 일광욕을 한 후, 올리브와 해산물 요리가 유명한 식당으로 이동

< 보 기 >

- ㄱ. 수목 농업이 이루어진다.
- ㄴ. 여름은 겨울보다 강수량이 대체로 적다.
- ㄷ. 빙하에 의해 형성된 피오르 해안이 있다.
- ㄹ. 버섯 모양의 바위나 대규모 사구가 나타난다.

- ① ㄱ, ㄴ ② ㄱ, ㄷ ③ ㄴ, ㄷ ④ ㄴ, ㄹ ⑤ ㄷ, ㄹ

9. 지도는 어떤 에너지 자원의 생산지와 이동을 나타낸 것이다. 이 자원에 대한 설명으로 옳은 것은? [3점]



- ① 오염 물질의 배출이 없다.
- ② 산업혁명의 원동력이 되었다.
- ③ 재생 가능한 자원으로 분류된다.
- ④ 방사능 누출 피해의 우려가 크다.
- ⑤ 에너지 자원 중 세계 소비량이 가장 많다.

10. 밑줄 친 ㉠의 원인으로 가장 적절한 것은? [3점]

환경 문제로 인한 문화재 피해 사례

▼ 뉴스 유리에 갇힌 석탑 “숨 쉬고 싶어요”

서울시 종로구 탑골 공원에 위치한 국보 제2호 서울 원각사지 십층 석탑은 우리나라 석탑이 일반적으로 화강암을 사용하는 것과 달리 대리석으로 만들어졌다. 화강암에 비해 대리석은 ㉠ 산성비에 의해 구조물이 녹아 내리는 피해 정도가 심하다. 이러한 피해를 막기 위해 유리로 만든 보호 상자로 탑을 덮어씌우게 되었다.

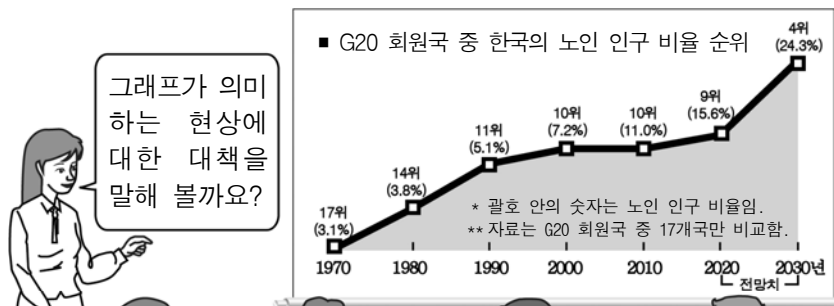
- | | |
|----------------|----------------|
| ① 오존층 파괴 | ② 적조 현상의 심화 |
| ③ 과도한 목축과 농경 | ④ 화석 연료의 과다 사용 |
| ⑤ 지진의 발생 빈도 증가 | |

11. 다음은 학생이 영화 속의 지리적 장소를 주제로 발표한 자료이다. ○○산에 대한 설명으로 옳지 않은 것은? [3점]



- ① 백두대간의 출발점이 된다.
- ② 한반도에서 가장 높은 산이다.
- ③ 러시아와 국경을 마주하고 있다.
- ④ 분화구의 함몰로 형성된 칼데라가 있다.
- ⑤ 유네스코 생물권 보전 지역으로 지정되었다.

12. 다음은 수업 장면의 일부이다. 교사의 질문에 옳은 내용을 말한 학생을 고른 것은?



그래프가 의미하는 현상에 대한 대책을 말해 볼까요?

갑: 장기적 측면에서 출산 억제 정책이 필요합니다.

을: 노인 복지 시설을 늘리고 실버 산업을 육성해야 합니다.

병: 노년층을 위한 일자리를 늘려야 합니다.

정: 노후를 미리 준비하도록 정년을 단축해야 합니다.

- ① 갑, 을 ② 갑, 병 ③ 을, 병 ④ 을, 정 ⑤ 병, 정

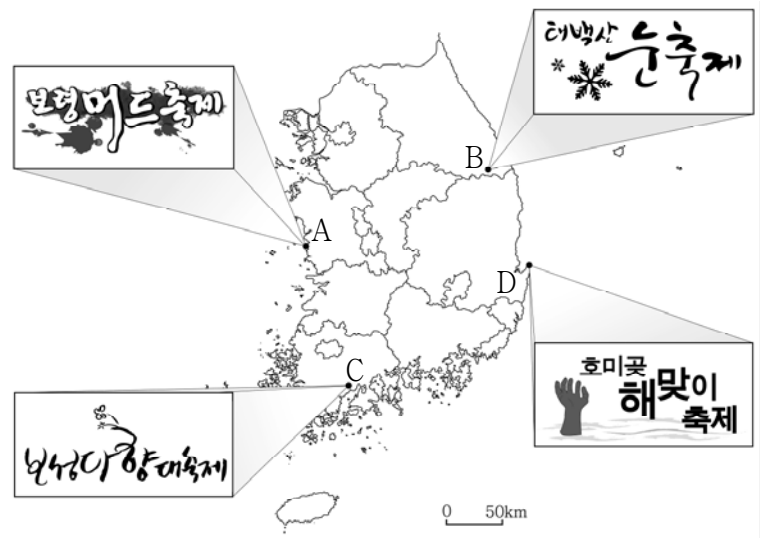
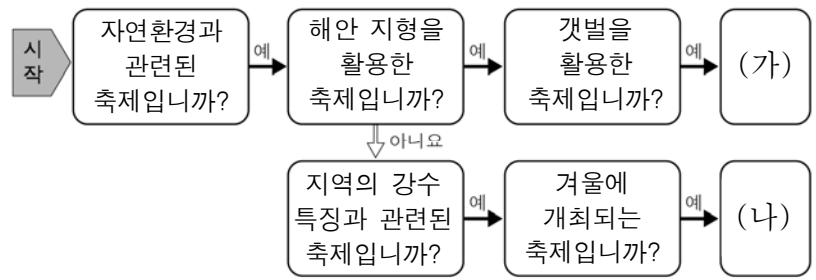
13. 다음 여행기에 소개된 지역에서 주로 체험할 수 있는 사례로 옳은 것은? [3점]

소똥으로 만든 집 '마냐타'를 체험하다

여행 둘째 날, 초원의 전사 마사이족의 마을에 도착했다. 안내자를 따라 전통 가옥인 '마냐타' 안으로 들어가 보았다. 소똥과 진흙을 짓이겨 벽과 지붕에 발라 만들었다는데 생각보다 냄새가 심하지 않았다. 소똥은 섬유질이 많고 기름기가 없어 우기의 비바람을 충분히 견딜 수 있으며, 건기가 되면 아침저녁으로 꽤 쌀쌀한데 보온 효과도 우수한 편이라고 한다.


- ① 원주민의 순록 썰매 체험하기
- ② 사파리 여행으로 야생 동물 관찰하기
- ③ 사륜구동 자동차로 사막 횡단 체험하기
- ④ 밤하늘을 수놓은 환상적인 오로라 관찰하기
- ⑤ 고산 지역에 위치한 고대 잉카 유적 방문하기

14. (가), (나)에 해당하는 지역 축제를 지도의 A~D에서 고른 것은?



- | | | | | | |
|---|-----|-----|---|-----|-----|
| | (가) | (나) | | (가) | (나) |
| ① | A | B | ② | A | C |
| ③ | B | C | ④ | C | D |
| ⑤ | D | B | | | |

15. 그림을 보며 나눈 대화에서 ㉠에 들어갈 내용으로 옳은 것은? [3점]



해설사: 이 그림은 단원 김홍도의 「총석정도」로, 강원도 통천군의 총석정 주변 절경을 그린 것입니다. 바다 위에 오각형, 육각형 등의 돌기둥들을 묶어세운 듯한 절벽으로 관동팔경에서 으뜸가는 경치로 꼽을 만큼 신비롭고 웅장합니다.

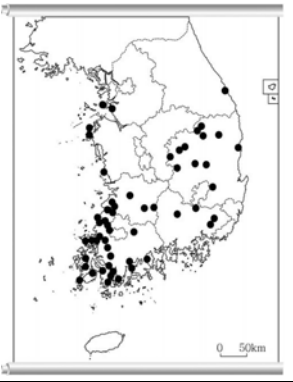
학 생: 그림, 총석정 주변의 돌기둥은 지리 수업 시간에 배운 제주도의 주상절리와 같은 지형인가요?

해설사: 네, 맞아요. ㉠ 만들어진 자연의 걸작이지요.

- ① 빙하에 의해 깎여
- ② 석회암이 물에 녹아
- ③ 하천의 퇴적 작용으로
- ④ 바람에 날린 모래에 깎여
- ⑤ 용암이 식으면서 수축되어

16. 다음은 신·재생 에너지와 관련한 수업 장면이다. ㉠에 들어갈 내용으로 가장 적절한 것은?

교사: 주요 태양광 발전소의 분포를 나타낸 지도입니다. 이러한 분포가 나타나는 이유를 말해 볼까요?




학생: 태양광 발전소는 ㉠에 위치하는 것이 유리하기 때문입니다.

- ① 인구가 밀집한 곳
- ② 일사량이 풍부한 지역
- ③ 산지 정상이나 바닷가
- ④ 조수 간만의 차가 큰 곳
- ⑤ 냉각수를 구하기 쉬운 지역

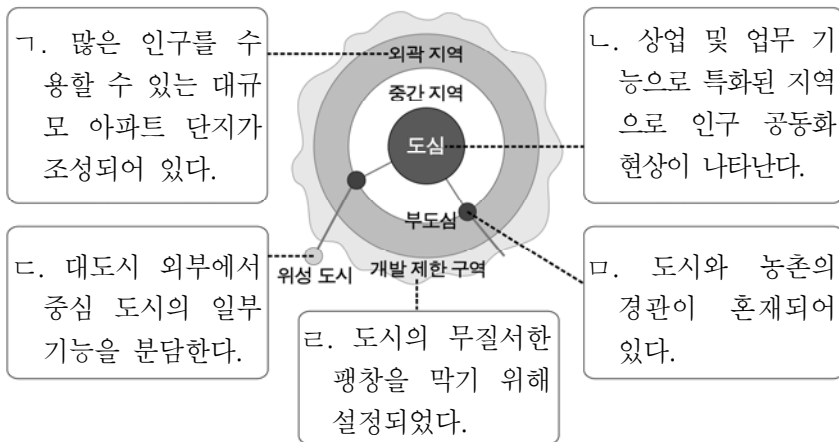
17. 다음 글에서 확인할 수 있는 ‘인간과 자연과의 관계’에 대한 관점의 사례로 가장 적절한 것은? [3점]

국토의 90%가 사막인 아랍에미리트에 세계 최대의 인공 섬인 ‘팜 아일랜드’가 완공되면서 두바이의 해안선은 72km나 연장되었다. 이곳은 종합 관광 레저 타운이 들어서면서 세계적인 명소가 되었다.



- ① 삼림을 파괴하여 산사태의 발생 빈도가 증가했다.
- ② 명당에 묘지를 쓰면 후손들이 복을 받는다고 믿는다.
- ③ 댐을 건설하여 홍수와 가뭄을 예방할 수 있게 되었다.
- ④ 우리나라의 전통 가옥은 남부 지방으로 갈수록 개방적이다.
- ⑤ 유럽인은 신대륙 이주 초기에 원주민과 달리 밀을 재배했다.

18. 자료는 도시 내부 구조의 특징을 정리한 것이다. ㉠ ~ ㉤ 중 옳지 않은 것은?



- ① ㉠
- ② ㉡
- ③ ㉢
- ④ ㉣
- ⑤ ㉤

19. 다음의 탐구 과제를 수행할 때 적절한 조사 내용을 <보기>에서 고른 것은? [3점]

<탐구 과제>
동남아시아의 면적은 오스트레일리아보다 좁지만 인구는 26배 이상 많다. 동남아시아에 인구가 밀집된 이유는 무엇일까?



동남아시아
면적: 4,495천 km²
인구: 633,030천 명

오스트레일리아
면적: 7,741천 km²
인구: 23,920천 명

(유엔, 2016)

<보 기>

- ㉠. 외래 종교의 전파 과정
- ㉡. 비옥한 충적 평야 분포 지역
- ㉢. 혼혈 인종의 주요 분포 지역
- ㉣. 쌀과 밀의 인구 부양력 비교

- ① ㉠, ㉡
- ② ㉠, ㉢
- ③ ㉡, ㉢
- ④ ㉡, ㉣
- ⑤ ㉢, ㉣

20. 밀줄 친 ‘공정 무역’이 활성화될 때 나타날 수 있는 변화로 옳게 추론한 것을 <보기>에서 고른 것은?

일반 커피의 경우, 최종 소비자 가격에서 농민이 차지하는 몫은 0.5%에 불과했다. 이러한 문제에 주목하여 선진국 시민 단체들은 커피 생산자 조합과 직접 계약을 맺어 정당한 대가를 지불하는 공정 무역을 시작했다. 커피 수입 가격에 포함된 사회 기금을 이용하여 도로·주택·병원·학교 건설에 사용하도록 하는 한편, 재배 과정에서 농약을 쓰지 않도록 하고 있다.

<커피의 이익 배분 구조> (단위: %)

구분	일반 커피	공정 무역 커피
커피 재배 농민	0.5	6.0
소매상	94.0	50.0
기타/제3세계 기금	5.5	44.0
합계	100.0	100.0

<보 기>

- ㉠. 세계 경제의 불평등 정도가 심화될 것이다.
- ㉡. 공정 무역 커피의 유통 단계가 늘어날 것이다.
- ㉢. 낙후 지역의 생활 기반 시설이 확충될 것이다.
- ㉣. 공정 무역 커피 생산 농가의 소득이 늘어날 것이다.

- ① ㉠, ㉡
- ② ㉠, ㉢
- ③ ㉡, ㉢
- ④ ㉡, ㉣
- ⑤ ㉢, ㉣

※ 확인 사항
○ 답안지의 해당란에 필요한 내용을 정확히 기입(표기)했는지 확인하십시오.