

5. 그림은 관광 홍보 동영상의 일부이다. A에 들어갈 말로 가장 적절한 것은?



- ① 이곳은 판이 분리되는 경계 위에 있습니다.
- ② 저기 보이는 골짜기는 V자 모양이 선명하군요.
- ③ 과거 이곳으로 빙하가 지났다니 놀랍지 않습니까?
- ④ 좌우의 절벽을 보세요. 화산 활동이 빚은 절경입니다.
- ⑤ 배가 지나가는 이곳은 수심이 1,000m가 넘는 하천입니다.

6. 다음 글의 ㉠~㉣에 대한 설명으로 옳지 않은 것은? [3점]

㉠ 프톨레마이오스의 세계 지도는 그가 저술한 『지리학』 안에 수록되어 있다. 그는 ㉡ 경위선 망을 평면에 투영하는 방법으로 세계 지도를 제작하였으며, 이 지도에 표현된 지리적 범위를 보면 ㉢ 제작 당시에 인식하고 있던 세계의 범위를 알 수 있다.

㉣ 티오(TO) 지도는 나일 강과 돈 강, 지중해가 T자 형태로, 대륙을 둘러싼 바다는 O자 형태로 그려졌다. 이 지도는 세계를 아시아, 유럽, 아프리카 세 대륙으로 구분하였으며, ㉣ 지도의 중심에 예루살렘을, ㉣ 지도의 위쪽에 에덴동산을 표시하였다.

- ① ㉡은 지구를 구형으로 인식하고 있었음을 의미한다.
- ② ㉢에는 아메리카 대륙이 포함된다.
- ③ ㉣은 크리스티교의 세계관을 반영한 것이다.
- ④ ㉣이 가리키는 방향은 동쪽이다.
- ⑤ ㉠은 ㉢보다 제작 시기가 이른다.

7. 다음 자료의 (가)~(다) 종교에 대한 설명으로 옳은 것은? (단, (가)~(다)는 불교, 이슬람교, 크리스티교 중 하나이다.) [3점]



* 그림은 싱가포르의 종교 관련 공휴일 중 일부를 표시한 것임.

- ① (가)는 카스트 제도와 깊은 관련이 있다.
- ② (나)의 분포 지역은 유럽 문화권과 대체로 일치한다.
- ③ (다)는 소고기 먹는 것을 금기시한다.
- ④ (가)는 (다)보다 전 세계 신자 수가 많다.
- ⑤ (나)는 서남아시아, (다)는 남부 아시아에서 기원하였다.

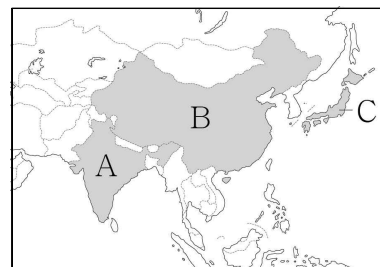
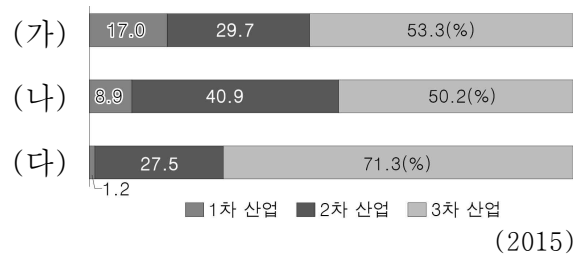
8. 그림은 학생 노트의 일부이다. ㉠~㉣ 중 옳지 않은 것은?

1. 다국적 기업
 (1) 의미: ㉠ 국경을 넘어 세계적으로 생산과 판매 활동을 하는 기업
 (2) 성장 배경
 - 경제 활동의 세계화
 - ㉡ 교통과 통신 발달로 세계 각 지역 간 상호 의존성 강화
 (3) 주요 기능의 공간적 분업

주요 기능	입지 특성
경영 기획 및 관리 기능	㉢ 주로 본국의 대도시에 위치한 본사에서 수행함.
연구 개발 기능	㉣ 개발도상국에 입지하는 경향이 뚜렷함.
생산 기능	㉣ 저임금 노동력 확보가 입지의 주요 요인임.

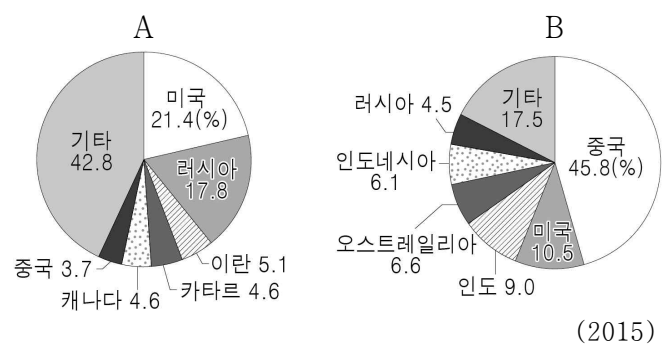
- ① ㉠ ② ㉡ ③ ㉢ ④ ㉣ ⑤ ㉣

9. 그래프는 세 국가의 산업별 생산액 비중을 나타낸 것이다. (가)~(다) 국가를 지도의 A~C에서 고른 것은?



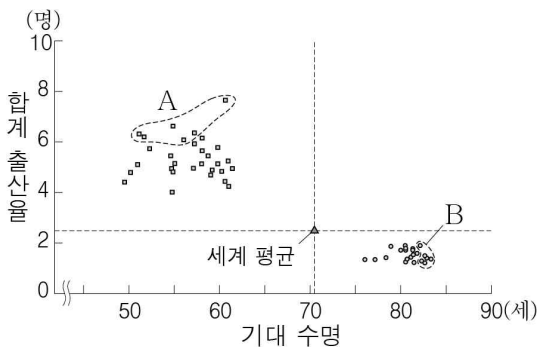
- | | (가) | (나) | (다) |
|---|-----|-----|-----|
| ① | A | B | C |
| ② | A | C | B |
| ③ | B | A | C |
| ④ | B | C | A |
| ⑤ | C | A | B |

10. 그래프는 두 화석 에너지의 국가별 생산량 비중을 나타낸 것이다. A, B 에너지에 대한 설명으로 옳은 것은? [3점]



- ① A는 고기 조산대에 주로 매장되어 있다.
- ② A는 세계 1차 에너지 소비 구조에서 차지하는 비중이 가장 크다.
- ③ B는 냉동 액화 기술과 수송 기술의 발달로 소비량이 빠르게 증가하였다.
- ④ A는 B보다 연소 시 대기 오염 물질의 배출량이 적다.
- ⑤ B는 A보다 상업적으로 이용되기 시작한 시기가 늦다.

11. A, B 국가군에 대한 옳은 설명을 <보기>에서 고른 것은?

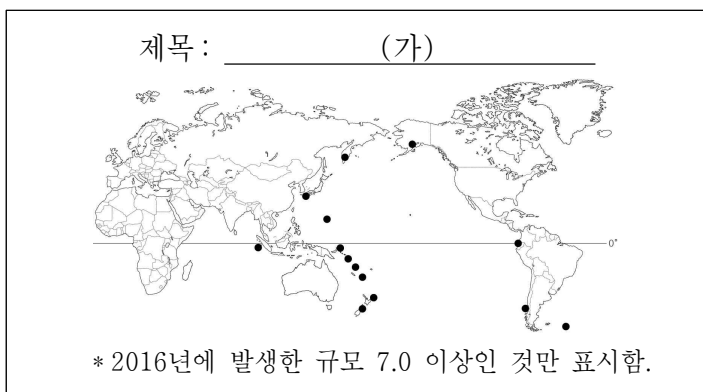


* 2010 ~ 2015년 기준

- < 보 기 >
- ㄱ. A는 최근의 세계 인구 성장을 주도하고 있다.
 - ㄴ. B에서는 피라미드형 인구 구조가 나타난다.
 - ㄷ. B는 A보다 인구 고령화가 뚜렷하게 나타난다.
 - ㄹ. 경제적 인구 이동은 B→A가 A→B보다 활발하다.

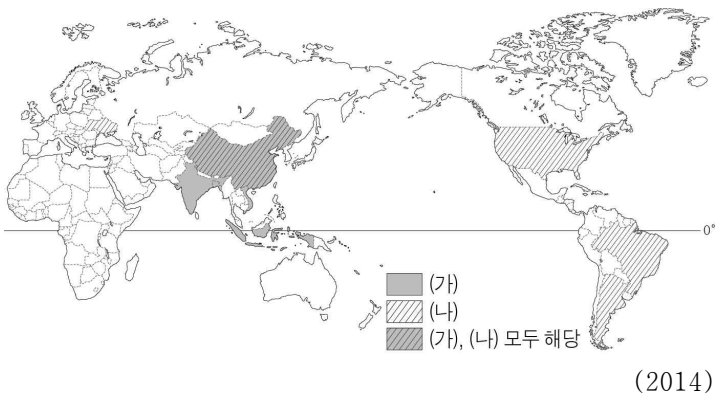
- ① ㄱ, ㄴ ② ㄱ, ㄷ ③ ㄴ, ㄷ ④ ㄴ, ㄹ ⑤ ㄷ, ㄹ

12. 지도는 어느 현상이 발생한 지역을 표시한 것이다. (가)에 들어갈 내용으로 가장 적절한 것은?




- ① 황사 피해 지역
- ② 지진 발생 지역
- ③ 산성비 피해 지역
- ④ 기름 유출 피해 지역
- ⑤ 열대 저기압 발생 지역

13. 지도는 두 작물의 생산량 상위 5개국을 나타낸 것이다. (가), (나) 작물에 대한 설명으로 옳은 것은? (단, 세계 3대 식량 작물만 고려한다.) [3점]



- ① (가)는 성장기에 고온 다습한 기후 조건이 필요하다.
- ② (나)는 계절풍의 영향을 받는 지역에서 주로 생산된다.
- ③ (가)는 (나)보다 재배 지역의 범위가 넓다.
- ④ (가)는 (나)보다 가축의 사료로 이용되는 비중이 높다.
- ⑤ (가)는 아메리카, (나)는 아시아가 기원지이다.

14. 자료의 그림 속 경관이 나타나는 기후 지역에 대한 옳은 설명을 <보기>에서 고른 것은? [3점]



이 그림은 아프리카의 어느 화가가 텡가텡가*라는 화풍으로 그린 작품으로 초원 위에서 노는 기린, 코끼리, 얼룩말 등을 강렬하고 선명한 색감으로 생동감 넘치게 표현하였다.

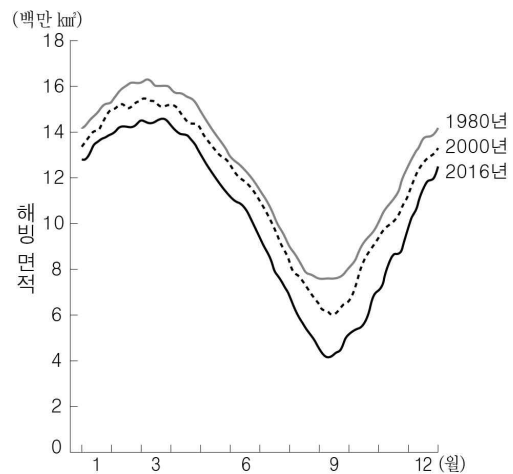
* 탄자니아 출신 화가의 이름이자 그에서 비롯된 회화의 장르임.

- < 보 기 >
- ㄱ. 건기와 우기의 구분이 뚜렷하다.
 - ㄴ. 대류성 강수가 거의 매일 내린다.
 - ㄷ. 키가 큰 풀이 많아 야생 동물이 서식하기에 유리하다.
 - ㄹ. 수종이 다양한 상록 활엽수가 다층의 숲을 이루고 있다.

- ① ㄱ, ㄴ ② ㄱ, ㄷ ③ ㄴ, ㄷ ④ ㄴ, ㄹ ⑤ ㄷ, ㄹ

15. 그래프와 같은 변화가 지속될 때 나타날 수 있는 현상을 <보기>에서 고른 것은?


<북극해 및 그 주변의 해빙(sea ice) 면적 변화>



- < 보 기 >
- ㄱ. 평균 해수면이 하강한다.
 - ㄴ. 빙하의 면적이 감소한다.
 - ㄷ. 북극곰의 개체 수가 감소한다.
 - ㄹ. 북극 항로의 항해 가능 일수가 감소한다.

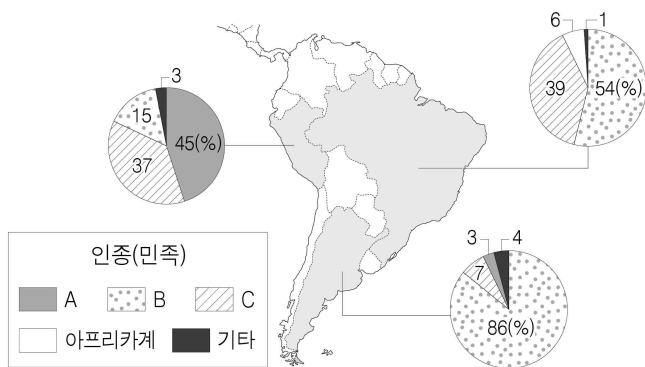
- ① ㄱ, ㄴ ② ㄱ, ㄷ ③ ㄴ, ㄷ ④ ㄴ, ㄹ ⑤ ㄷ, ㄹ

16. 다음 자료의 ㉠에 대한 답변으로 가장 적절한 것은?



- ① 대규모 지진으로 붕괴되었습니다.
- ② 파랑에 의한 침식 작용을 받았습니다.
- ③ 지반이 침강하여 바닷물에 잠겼습니다.
- ④ 용암이 분출하여 일부가 매몰되었습니다.
- ⑤ 빗물에 의한 용식 작용으로 사라졌습니다.

17. 지도는 세 국가의 인종(민족)별 인구 비중을 나타낸 것이다. A~C에 해당하는 인종(민족)으로 옳은 것은? [3점]



(2013)

- | | | | |
|---|----------|----------|----------|
| | <u>A</u> | <u>B</u> | <u>C</u> |
| ① | 혼혈 | 유럽계 | 원주민 |
| ② | 유럽계 | 혼혈 | 원주민 |
| ③ | 유럽계 | 원주민 | 혼혈 |
| ④ | 원주민 | 혼혈 | 유럽계 |
| ⑤ | 원주민 | 유럽계 | 혼혈 |

18. 다음 자료의 ㉠~㉤에 대하여 계획한 내용으로 옳지 않은 것은?

<뉴질랜드 북섬 답사 계획>

○ 기간 : ㉠ 2017. 1. 12. ~ 2017. 1. 19.

○ 지역별 활동 내용

지역	활동 내용
타우랑가	㉡ 화산 지형의 경관 관찰
기즈번	㉢ 마오리 족의 분포 현황 조사
웰링턴	㉣ 이주민들의 출신 지역 조사
로터루아	온천 체험 및 ㉤ 관광객의 만족도 조사

- ① ㉠ - 답사를 다니면서 입을 여름옷을 준비한다.
- ② ㉡ - 사진 촬영 또는 스케치를 통해 정보를 수집한다.
- ③ ㉢ - 조사 결과를 점지도로 표현한다.
- ④ ㉣ - 주로 원격 탐사를 통해 조사한다.
- ⑤ ㉤ - 면담 또는 설문 조사를 통해 정보를 수집한다.

19. 다음 글의 주인공이 속한 이주민 집단에 대하여 추론한 내용으로 가장 타당한 것은? [3점]

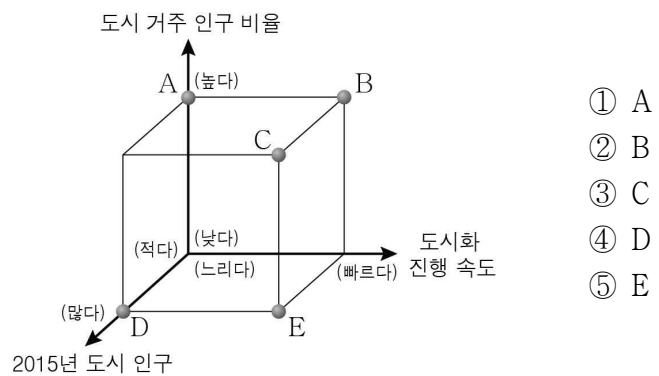
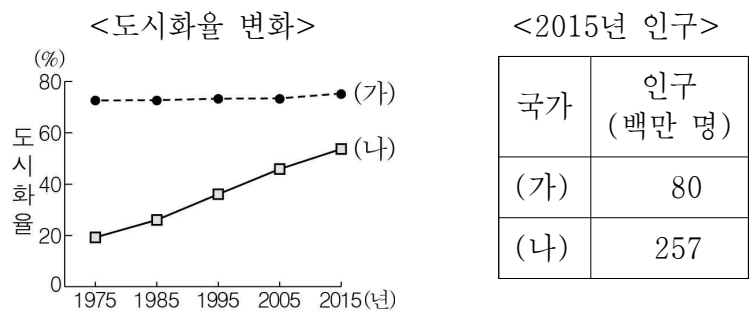
한번은 '프랑스 애들'끼리만 손에 손을 잡고 빙글빙글 돌면서 나를 따돌린 적도 있었다. 마침 '이드 알 아드하', 즉 '희생제'* 날이었기 때문에 엄마는 내 오른손을 해나로 물들여 놓았고, 그 말썽쟁이들은 내가 손도 안 씻고 다니는 지지분한 계집애라고 생각했던 것이다. 내가 살던 파라디 임대 아파트 단지과 그 애들이 살던 루소 전원주택 단지 사이에는 뚜렷한 경계가 있었다. 오래 돼서 녹이 시뻘겍게 묻어나는 철창과 칙칙한 돌담. 마지노선이나 베를린 장벽보다 더 뚜렷한 경계. 지금도 마찬가지이다.

- 파이자 케네, 『내일은 키프키프』** -

* 이슬람력 12월 10일에 지내는 축제
** 모로코 출신 소녀의 일상을 그린 성장 소설

- ① 유럽에서는 히스패닉이라고 불린다.
- ② 유럽의 상권을 대부분 장악하고 있다.
- ③ 원거주민과의 문화 차이로 갈등을 빚고 있다.
- ④ 플랜테이션 농장의 노동자로 강제 이주되었다.
- ⑤ 고급 기능 인력이 많아 주로 첨단 산업에 종사한다.

20. (가) 국가와 비교한 (나) 국가의 상대적 특징을 그림의 A~E에서 고른 것은? (단, (가), (나)는 독일, 인도네시아 중 하나이다.) [3점]



※ 확인 사항

○ 답안지의 해당란에 필요한 내용을 정확히 기입(표기)했는지 확인하십시오.