

제 4 교시

사회탐구 영역(경제)

성명 수험번호 2

1

1. 표는 경제 주체 A~C를 분류한 것이다. 이에 대한 설명으로 옳은 것은? (단, A~C는 각각 가게, 기업, 정부 중 하나이다.)

질문 \ 경제 주체	A	B	C
이윤의 극대화를 추구하는가?	예	아니요	아니요
민간 경제 주체인가?	예	예	아니요
(가)	예	아니요	예

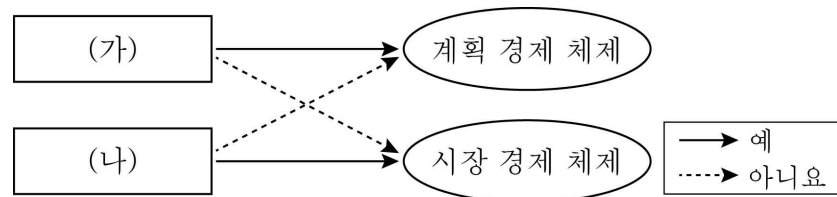
- ① A는 소비 활동의 주체이다.
- ② B는 생산 요소 시장의 수요자이다.
- ③ C는 국방, 치안과 같은 공공 서비스를 공급한다.
- ④ A는 B, C의 경제 활동에 대해 규제와 조정을 한다.
- ⑤ (가)에는 '조세를 납부할 의무가 있는가?'가 들어갈 수 있다.

2. 표는 갑 기업의 X재 생산량에 따른 총수입과 총비용을 나타낸 것이다. 이에 대한 분석으로 옳은 것은? (단, 생산된 X재는 모두 판매된다.) [3점]

생산량(개)	1	2	3	4	5	6
총수입(만 원)	8	16	24	32	40	48
총비용(만 원)	10	12	16	24	34	46

- ① 생산량이 6개일 때 이윤은 최대가 된다.
- ② 최대로 얻을 수 있는 이윤은 8만 원이다.
- ③ 생산량이 5개일 때 1개당 생산 비용은 8만 원이다.
- ④ 생산량이 1개 증가할 때마다 추가적으로 얻는 수입은 감소한다.
- ⑤ 생산량이 1개 증가할 때마다 추가적으로 발생하는 비용은 감소한다.

3. 그림은 두 경제 체제를 비교한 것이다. (가), (나)에 들어갈 적절한 질문을 <보기>에서 고른 것은?



- < 보 기 >
- ㄱ. (가) - 경제적 유인을 중시하는가?
 - ㄴ. (가) - 정부의 명령에 따라 경제 문제를 해결하는가?
 - ㄷ. (나) - 기본적인 경제 문제가 발생하는가?
 - ㄹ. (나) - '보이지 않는 손'에 의한 자원 배분을 강조하는가?

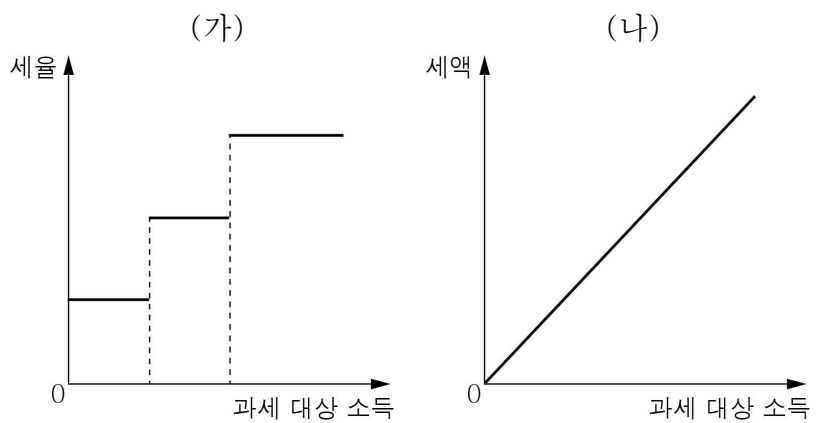
- ① ㄱ, ㄴ ② ㄱ, ㄷ ③ ㄴ, ㄷ ④ ㄴ, ㄹ ⑤ ㄷ, ㄹ

4. 다음은 갑국의 경제 뉴스이다. 밑줄 친 ㉠~㉢에 대한 옳은 설명을 <보기>에서 고른 것은?

- < 보 기 >
- ㄱ. ㉠은 달걀 시장의 초과 공급 현상을 의미한다.
 - ㄴ. ㉡은 달걀 시장의 수요 증가 요인이다.
 - ㄷ. ㉢은 달걀을 원료로 하는 과자 시장의 공급 감소 요인이다.
 - ㄹ. ㉣은 달걀 시장의 공급 증가 요인이다.

- ① ㄱ, ㄴ ② ㄱ, ㄷ ③ ㄴ, ㄷ ④ ㄴ, ㄹ ⑤ ㄷ, ㄹ

5. 그림의 조세 제도 (가), (나)에 대한 옳은 설명을 <보기>에서 고른 것은? [3점]



- < 보 기 >
- ㄱ. (가)는 과세 대상 소득이 커질수록 세액이 증가한다.
 - ㄴ. (나)는 과세 대상 소득에 관계없이 세율이 일정하다.
 - ㄷ. (가)는 (나)와 달리 조세 부담의 역진성이 나타난다.
 - ㄹ. (나)는 (가)에 비해 소득 재분배 효과가 크다.

- ① ㄱ, ㄴ ② ㄱ, ㄷ ③ ㄴ, ㄷ ④ ㄴ, ㄹ ⑤ ㄷ, ㄹ

6. 그림의 대화 내용에 대한 설명으로 옳은 것은?



- ① 갑이 선택한 금융 상품은 원금을 보장받을 수 있다.
- ② 을이 선택한 금융 상품은 배당금을 기대할 수 있다.
- ③ 을이 선택한 금융 상품은 시세 차익을 기대할 수 있다.
- ④ 갑보다 을이 선택한 금융 상품의 안전성이 낮다.
- ⑤ 을보다 갑이 선택한 금융 상품의 수익성이 높다.

7. 밑줄 친 ㉠~㉢에 대한 옳은 설명을 <보기>에서 고른 것은? (단, 제시된 사실 이외의 요인은 고려하지 않는다.) [3점]

갑은 5일 동안 여행을 가기 위해 왕복 항공권을 ㉠ 10만 원에 구입했다. 그런데 친구에게 그 기간 동안 아르바이트를 하면 ㉡ 하루에 20만 원을 받을 수 있다는 제안을 받고 ㉢ 여행을 갈지, ㉣ 아르바이트를 할지 고민 중이다. 항공권을 제외한 여행 경비는 5일간 총 100만 원이며, 구입한 항공권은 환불이나 타인 양도가 불가능하다.

< 보 기 >

㉠. ㉠은 갑의 선택에서 고려하면 안 되는 비용이다.
 ㉡. ㉡ 선택의 암묵적 비용은 110만 원이다.
 ㉢. ㉢을 선택했다면 편익이 200만 원보다 크기 때문이다.
 ㉣. ㉣ 선택의 기회비용은 ㉡이다.

- ① ㉠, ㉡ ② ㉠, ㉢ ③ ㉡, ㉢ ④ ㉡, ㉣ ⑤ ㉢, ㉣

8. 밑줄 친 ㉠, ㉡의 수요의 가격 탄력성으로 옳은 것은? (단, A, B 화장품은 수요 법칙을 따른다.)

화장품 가격 인상의 효과는 ㉠ A 화장품과 ㉡ B 화장품에서 다르게 나타난다. A 화장품은 소비자들이 가격에 민감하여 가격을 조금만 올려도 매출액이 감소한다. 반면, B 화장품은 고정적으로 사용하는 소비자들이 많아 가격을 올리면 오히려 매출액이 증가한다.

- | | |
|----------|--------|
| ① 탄력적 | ㉡ 비탄력적 |
| ② 탄력적 | 단위 탄력적 |
| ③ 비탄력적 | 탄력적 |
| ④ 비탄력적 | 단위 탄력적 |
| ⑤ 단위 탄력적 | 탄력적 |

9. 자료에 대한 분석으로 옳은 것은?

표는 X재 가격에 따른 개별 수요량과 시장 공급량을 나타낸 것이다. 단, 수요자는 갑, 을만 존재한다.

가격(원)	수요량(개)		공급량(개)
	갑	을	
700	30	15	75
600	30	25	70
500	30	35	65
400	30	45	60
300	30	55	55

- ① X재는 수요 법칙이 성립하지 않는다.
- ② X재 가격이 700원일 때 시장 수요량은 75개이다.
- ③ X재 균형 가격은 400원, 균형 거래량은 60개이다.
- ④ X재 가격이 300원일 때 가격 하락 압력이 존재한다.
- ⑤ 을의 수요량이 모든 가격 수준에서 15개씩 증가할 경우 X재 균형 가격은 600원이 된다.

10. 자료에 대한 옳은 설명을 <보기>에서 고른 것은? [3점]

<생산 측면에 나타난 자원의 비효율적 배분의 유형>

유형	문제점	해결 방안
(가)	과소 생산	정부의 직접 생산
(나)	과소 생산	보조금 지급
외부 불경제	과다 생산	(다)

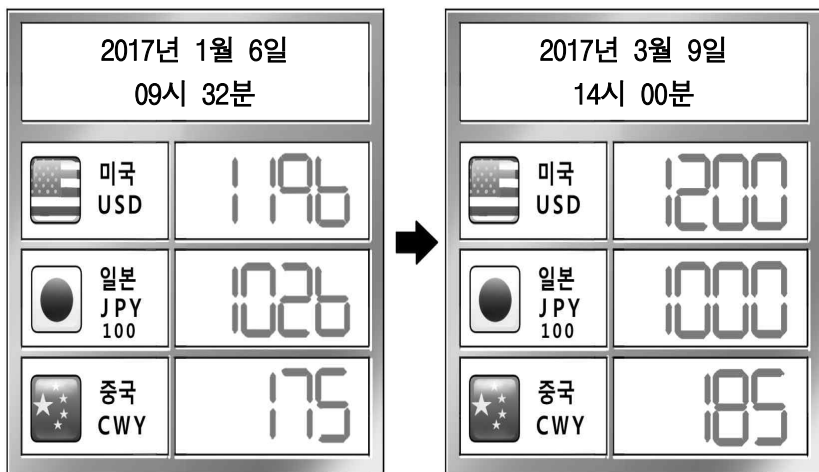
< 보 기 >

㉠. (가)는 공공재 부족이다.
 ㉡. (나)의 사례로 환경 오염을 들 수 있다.
 ㉢. (다)에는 '세금 부과'가 들어갈 수 있다.
 ㉣. (가)와 달리 (나)는 시장 실패 현상이다.

- ① ㉠, ㉡ ② ㉠, ㉢ ③ ㉡, ㉢ ④ ㉡, ㉣ ⑤ ㉢, ㉣

11. 그림은 갑국의 환율 시세의 변동을 나타낸 것이다. 이에 대한 설명으로 옳은 것은? (단, 환율 시세는 갑국 화폐로 표시한다.)

[3점]



- ① '갑국 화폐/달러화' 환율은 하락하였다.
- ② 일본 화폐 대비 갑국 화폐 가치가 하락하였다.
- ③ 갑국 화폐 대비 중국 화폐 가치가 하락하였다.
- ④ 갑국 국민의 미국 여행 경비 부담이 증가하였다.
- ⑤ 자녀가 일본 유학 중인 갑국 부모의 경제적 부담이 커졌다.

12. 자료에 대한 분석으로 옳은 것은? [3점]


표는 갑국의 실질 GDP를 분배, 지출 측면에서 각각 나타낸 것이다. 갑국의 연도별 국민 소득은 생산, 분배, 지출 측면에서 모두 같다.

구분	2015년	2016년
임금	60	64
이자	20	20
지대	10	10
이윤	10	10

구분	2015년	2016년
소비 지출	55	55
투자 지출	20	20
정부 지출	15	15
순수출	㉠	㉡

- ① ㉠과 ㉡은 10으로 동일하다.
- ② 2015년 자본을 제공하고 분배받은 소득은 10억 달러이다.
- ③ 2016년 경제 성장률은 4%이다.
- ④ 2016년 실질 GDP는 100억 달러이다.
- ⑤ 2016년 실질 GDP에서 정부 지출이 차지하는 비중은 15%이다.

13. 교사의 질문에 대한 학생의 답변으로 옳은 것은? [3점]



- ① 수요량은 감소합니다.
- ② 사회적 잉여는 증가합니다.
- ③ 시장 거래량은 감소합니다.
- ④ 초과 공급량은 증가합니다.
- ⑤ 소비자 잉여는 ㉠만큼 감소합니다.

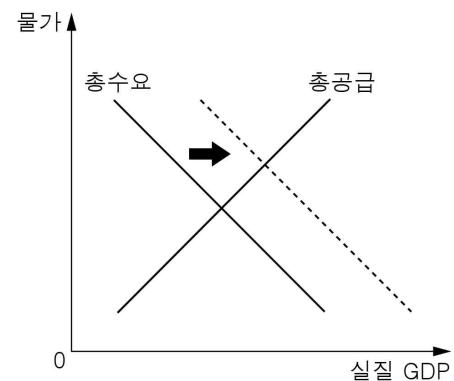
14. 표는 갑국의 연도별 고용 통계이다. 이에 대한 설명으로 옳지 않은 것은?

(단위: 만 명)

구분	2015년	2016년
15세 이상 인구	100	120
취업자 수	70	㉠
실업자 수	20	10
㉡ 비경제 활동 인구	10	10

- ① 구직 단념자는 ㉡에 포함된다.
- ② ㉠에 해당하는 수치는 100이다.
- ③ 2015년 고용률은 70%이다.
- ④ 2016년 실업률은 10%이다.
- ⑤ 2016년 경제 활동 인구는 110만 명이다.

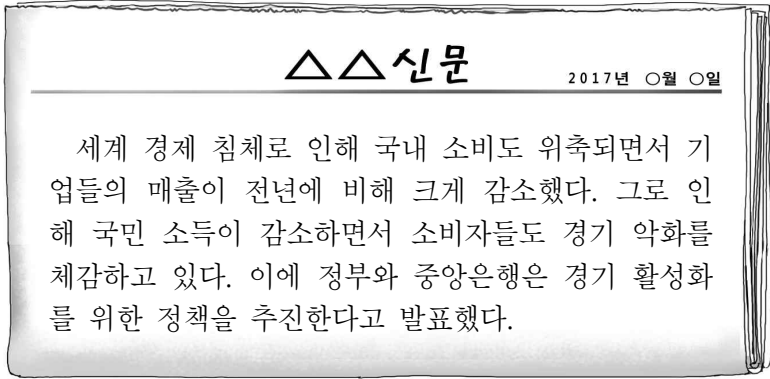
15. 그림은 갑국의 총수요의 변동을 나타낸 것이다. 이러한 변동의 요인을 <보기>에서 고른 것은?



- < 보 기 >
- ㉠. 순수출 증가
 - ㉡. 정부 지출 증가
 - ㉢. 투자 지출 감소
 - ㉣. 국제 원자재 가격 상승

- ① ㉠, ㉡ ② ㉠, ㉢ ③ ㉡, ㉣ ④ ㉢, ㉣ ⑤ ㉢, ㉣

16. 다음은 갑국의 경제 상황에 대한 신문 기사이다. 갑국에서 취할 적절한 경제 안정화 정책을 <보기>에서 고른 것은?



- < 보 기 >
- ㉠. 세율을 인상한다. ㉡. 국·공채를 매입한다.
 ㉢. 재할인율을 인상한다. ㉣. 정부 지출을 확대한다.

- ① ㉠, ㉡ ② ㉠, ㉢ ③ ㉡, ㉢ ④ ㉡, ㉣ ⑤ ㉢, ㉣

17. 표는 갑국 경상 수지의 항목별 변화를 나타낸 것이다. 이에 대한 분석으로 옳은 것은? [3점]

(단위: 억 달러)

항목 \ 연도	2014년	2015년	2016년
상품 수지	20	30	40
서비스 수지	-10	20	-30
본원 소득 수지	50	-50	60
이전 소득 수지	10	-10	-20

- ① 상품 수출입 규모는 매년 증가하였다.
 ② 임금이 포함되는 항목의 순유입액이 가장 많은 해는 2014년이다.
 ③ 2015년에 운송료가 포함되는 항목은 적자를 기록하였다.
 ④ 2016년의 경상 수지는 '갑국 화폐/달러화' 환율의 상승 요인이다.
 ⑤ 2016년에 국가 간 무상 원조가 포함되는 항목은 수취액보다 지급액이 많았다.

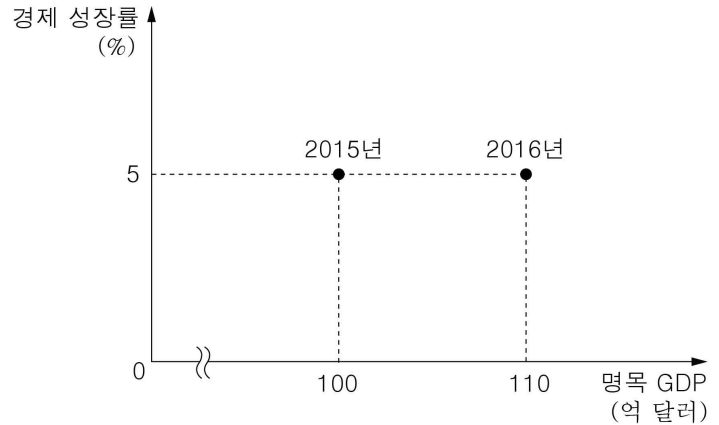
18. 표는 어떤 가구의 월 소득 변화를 나타낸 것이다. 이에 대한 설명으로 옳은 것은? (단, 이 가구는 제시된 것 이외의 소득은 없다.)

(단위: 만 원)

구분	2017년 1월	2017년 2월
회사 급여	200	190
기초 연금	20	20
복권 당첨금	0	10
합계	220	220

- ① 사업 소득은 감소했다.
 ② 근로 소득은 증가했다.
 ③ 경상 소득은 감소했다.
 ④ 이전 소득은 감소했다.
 ⑤ 비경상 소득은 변동이 없다.

19. 그림에 대한 옳은 분석을 <보기>에서 고른 것은? (단, 기준 연도는 2015년이며, 물가 수준은 GDP 디플레이터로 측정한다.) [3점]



- < 보 기 >
- ㉠. 2014년 실질 GDP는 100억 달러보다 적다.
 ㉡. 2016년 GDP 디플레이터는 110이다.
 ㉢. 2016년 물가는 전년도에 비해 상승하였다.
 ㉣. 2015년 실질 GDP는 2016년과 동일하다.

- ① ㉠, ㉡ ② ㉠, ㉢ ③ ㉡, ㉢ ④ ㉡, ㉣ ⑤ ㉢, ㉣

20. 자료에 대한 분석으로 옳은 것은? [3점]

표는 갑국과 을국의 교역 상황을 나타낸 것이다. 갑국과 을국은 감자와 밀만 생산하고, 생산은 생산 가능 곡선 위에서 이루어진다. 단, 생산 가능 곡선은 직선이다.

(단위: 톤)

구분	교역 이전 생산량	교역 이후 생산량	교역량		
			수출량	수입량	
갑국	감자	12	20	8	0
	밀	8	0	0	10
을국	감자	8	0	0	8
	밀	4	20	10	0

- ① 교역 이전 갑국은 감자 12톤을 생산하기 위해 밀 8톤의 생산을 포기해야 한다.
 ② 교역 이전 을국의 감자 1톤 생산의 기회비용은 밀 2톤이다.
 ③ 갑국과 을국의 감자와 밀의 교역 조건은 1:1이다.
 ④ 갑국과 을국이 교역을 통해 얻은 이익은 동일하다.
 ⑤ 교역 이후 밀 소비량은 갑국이 12톤, 을국이 10톤이다.

※ 확인 사항

- 답안지의 해당란에 필요한 내용을 정확히 기입(표기)했는지 확인하십시오.