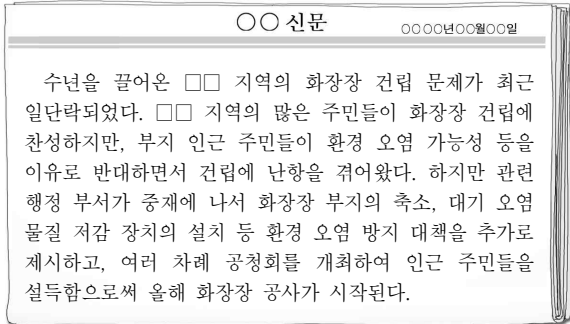



6. 다음 신문 기사는 교사가 수업 시간에 제시한 자료이다. 이를 통해 설명하고자 하는 정치의 기능으로 가장 적절한 것은?



- ① 권력의 획득과 유지
- ② 시민 참여의 활성화
- ③ 반사회적 행위에 대한 통제
- ④ 대표자 주도의 사회 문제 해결
- ⑤ 이해관계의 조정 및 갈등의 해결

7. 그림은 갑에 대한 형사 절차의 일부를 나타낸 것이다. 이에 대한 설명으로 옳은 것은? [3점]



- ① ㉠은 노역이 부과되지 않는 형벌이다.
- ② ㉡으로 인해 갑은 구금된다.
- ③ (가)의 영장은 법원이 발부한다.
- ④ (나)와 달리 (가)에서 갑은 무죄로 추정된다.
- ⑤ (가)와 (나)에서 갑은 피고인이다.

8. 다음 사례에 대한 법적 분석으로 옳은 것은?

서로 사랑한 갑과 을은 ㉠ 혼인 신고 후 병을 낳고 살았다. 그러나 다름이 잦았던 갑과 을은 ㉡ 협의 이혼을 하였고, 을이 병의 양육을 맡기로 하였다. 이후 갑은 정과 재혼(법률혼)하였으나 불의의 사고를 당해 사망하였다. 사망 당시 갑의 전 재산은 10억 원이었고, 갑은 유언을 남기지 않았다.

- ① ㉠으로 인해 갑과 을 사이에 친족 관계가 발생한다.
- ② 갑과 을은 법원의 판결로 ㉡을 하였다.
- ③ 갑의 재혼으로 병에 대한 갑의 면접 교섭권은 소멸된다.
- ④ 병은 갑의 재산을 상속 받을 수 없다.
- ⑤ 정과 달리 을은 갑의 재산을 상속 받을 수 있다.

9. 그림은 범죄 성립 요건과 관련한 판서 내용이다. 이에 대한 옳은 설명을 <보기>에서 고른 것은? [3점]

◆ 범죄 성립 요건: 구성 요건 해당성, A, B

◆ 범죄가 성립되지 않는 사례

범죄가 성립되지 않는 이유	사례
구성 요건에 해당하지만 <input type="checkbox"/> A가 조각됨	(가)
구성 요건에 해당하고 <input type="checkbox"/> A도 인정되지만 <input type="checkbox"/> B가 조각됨	(나)

< 보기 >

ㄱ. A는 위법성, B는 책임이다.

ㄴ. (가)에는 '저항할 수 없는 폭력에 의해 강요된 절도 행위'가 들어갈 수 있다.

ㄷ. (나)에는 '심신 상실자의 상해 행위'가 들어갈 수 있다.

ㄹ. (나)에는 '정당방위에 해당하는 폭행 행위'가 들어갈 수 있다.

- ① ㄱ, ㄴ ② ㄱ, ㄷ ③ ㄴ, ㄷ ④ ㄴ, ㄹ ⑤ ㄷ, ㄹ

10. 밑줄 친 ㉠~㉢에 대한 옳은 설명을 <보기>에서 고른 것은? [3점]

갑은 을 소유의 A 주택에 대해 을과 보증금 2억 원, 계약 기간 2년의 ㉠ 임대차 계약을 체결하였다.

↓

한 달 후 갑은 을에게 잔금을 지급하고 ㉡ 입주 및 전입 신고를 하였다.

↓

갑이 입주하고 6개월이 지나 을은 ○○은행으로부터 1억 원을 빌리면서 A 주택에 ㉢ 저당권을 설정해 주었다.

↓

저당권을 설정하고 1년이 지나 을이 돈을 갚지 않자 ○○은행은 저당권을 행사하였고, A 주택은 ㉣ 경매되었다.

< 보기 >

ㄱ. ㉠에서 임대차 기간을 정하지 않은 경우 계약 기간을 1년으로 본다.


ㄴ. ㉡을 통해 갑은 대항력을 갖게 된다.

ㄷ. ㉠은 등기부 갑구, ㉢은 등기부 을구에 그 내용이 기재된다.

ㄹ. 갑이 ㉢ 이후에 확정 일자를 받았다면, 갑은 ㉢에서 ○○은행보다 후순위 권리자가 된다.

- ① ㄱ, ㄴ ② ㄱ, ㄷ ③ ㄴ, ㄷ ④ ㄴ, ㄹ ⑤ ㄷ, ㄹ

11. 그림 (가), (나)에 대한 옳은 법적 분석 및 추론을 <보기>에서 고른 것은? [3점]



< 보 기 >

ㄱ. (가)에서 계약서를 작성해야만 갑과 을 사이의 노트북 매매 계약은 성립한다.

ㄴ. (가)에서 계약을 체결하고 싶다는 의사 표시인 청약은 갑이 하였고, 이를 받아들일겠다는 의사 표시인 승낙은 을이 하였다.

ㄷ. (가)에서 갑의 부모가 동의했다면, (나)에서 갑의 부모는 노트북 매매 계약을 취소할 수 없다.

ㄹ. (가)에서 갑의 부모가 동의하지 않았다면, (나)에서 갑은 노트북 매매 계약을 취소할 수 없다.

- ① ㄱ, ㄴ ② ㄱ, ㄷ ③ ㄴ, ㄷ ④ ㄴ, ㄹ ⑤ ㄷ, ㄹ

12. 다음 사례에 대한 옳은 법적 분석을 <보기>에서 고른 것은? [3점]

<사례>
 갑이 운영하는 음식점에서 근무하는 종업원 을(25세)은 실수로 손님 병에게 뜨거운 음식을 쏟아 화상을 입혔다.
 <관련 민법 내용>
 타인을 사용하여 어느 사무에 종사하게 한 자는 피용자가 그 사무 집행에 관하여 제삼자에게 가한 손해를 배상할 책임이 있다. 그러나 사용자가 피용자의 선임 및 그 사무 감독에 상당한 주의를 한 때에는 손해를 배상할 책임이 없다.

< 보 기 >

ㄱ. 갑은 병의 손해에 대해 무과실 책임을 진다.

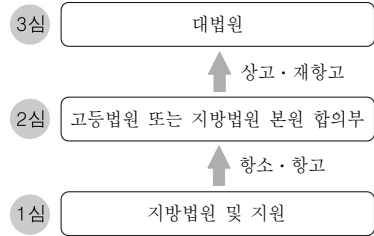
ㄴ. 갑은 을의 사용자로서 병의 손해에 대해 책임을 질 수 있다.

ㄷ. 을의 행위는 고의가 아니므로 을은 병에게 손해 배상 책임을 지지 않는다.

ㄹ. 병은 신체적인 손해뿐 아니라 정신적인 손해에 대해서도 손해 배상 책임을 물을 수 있다.

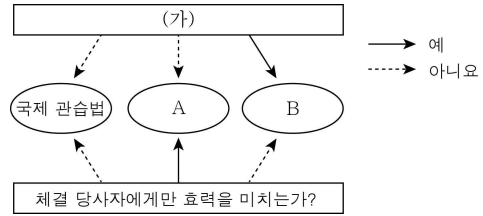
- ① ㄱ, ㄴ ② ㄱ, ㄷ ③ ㄴ, ㄷ ④ ㄴ, ㄹ ⑤ ㄷ, ㄹ

13. 그림에 나타난 우리나라의 사법 제도와 관련한 설명으로 옳지 않은 것은?



- ① 법관의 오관 가능성을 인정한다.
- ② 재판의 공정성을 확보하고자 한다.
- ③ 재판의 신속성을 제고하고자 한다.
- ④ 국민의 기본권을 보장하고자 한다.
- ⑤ 민사 소송뿐만 아니라 형사 소송에도 적용된다.

14. 그림은 국제법의 법원(法源)을 구분한 것이다. 이에 대한 옳은 설명을 <보기>에서 고른 것은? (단, A, B는 각각 조약, 법의 일반 원칙 중 하나이다.) [3점]



< 보 기 >

ㄱ. (가)에 '문명국들이 승인한 법의 보편적인 원칙인가?'가 들어갈 수 있다.

ㄴ. 우리나라의 경우 A의 체결 및 비준권은 대통령에게 있다.

ㄷ. B의 예로 '국내 문제 불간섭'을 들 수 있다.

ㄹ. A는 B와 달리 국제 사법 재판소의 재판 준거로 활용될 수 있다.

- ① ㄱ, ㄴ ② ㄱ, ㄷ ③ ㄴ, ㄷ ④ ㄴ, ㄹ ⑤ ㄷ, ㄹ

15. 다음 사례에 대한 옳은 법적 판단을 <보기>에서 고른 것은?

갑(15세), 을(11세), 병(8세)은 편의점에서 함께 물건을 훔쳐 달아났다. 이후 점원의 신고로 갑, 을, 병은 검거되었고, 수사 과정에서 이들의 상습적 절도 행각이 드러났다.

< 보 기 >

ㄱ. 갑은 형사 미성년자이다.

ㄴ. 을은 소년법상 보호 처분을 받을 수 있다.

ㄷ. 병에게는 형벌이 부과될 수 없다.

ㄹ. 을은 갑과 달리 가정(지방)법원 소년부로 송치될 수 있다.

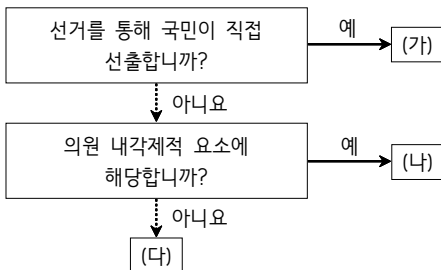
- ① ㄱ, ㄴ ② ㄱ, ㄷ ③ ㄴ, ㄷ ④ ㄴ, ㄹ ⑤ ㄷ, ㄹ

16. 다음은 A법과 B법 조항의 일부를 간략하게 나타낸 것이다. 이에 대한 설명으로 옳지 않은 것은? [3점]

A법: 통신 판매업자와 재화 등의 구매에 관한 계약을 체결한 소비자는 일정 기간 이내에 해당 계약에 관한 청약 철회 등을 할 수 있다.
 B법: 사용자는 근로자를 해고하려면 해고 사유와 해고 시기를 서면으로 통지하여야 한다.

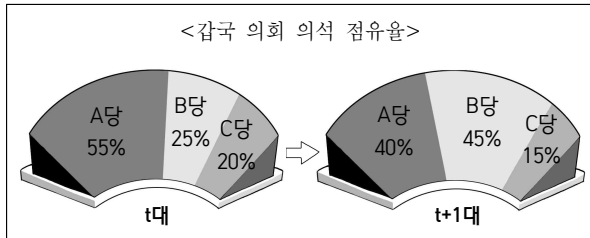
- ① A법의 '청약 철회'는 단순 변심으로 가능하다.
- ② A법의 '청약 철회'에 대한 거부로 피해를 입은 소비자는 한국 소비자원에 구제 신청을 할 수 있다.
- ③ B법의 규정을 위반한 '부당 해고'에 대해 근로자는 지방 노동 위원회에 구제 신청을 할 수 있다.
- ④ B법과 달리 A법은 국가의 적극적인 개입이 전제되어야 실효성이 있다.
- ⑤ A법, B법 모두 공법과 사법의 중간 영역에 해당하는 법이다.

17. 그림의 (가)~(다)에 대한 설명으로 옳은 것은? (단, (가)~(다)는 각각 우리나라의 국무총리, 대법원장, 대통령 중 하나이다.)



- ① (나)는 행정 각 부의 장을 임명한다.
- ② (다)는 정당의 해산을 헌법재판소에 제소할 수 있다.
- ③ (가)는 국가 원수, (나)는 행정부 수반의 지위를 가진다.
- ④ 국무회의에서 (가)는 의장, (다)는 부의장이다.
- ⑤ (나)와 (다)는 국회의 동의를 얻어 (가)가 임명한다.

18. 그림과 같은 갑국 의회 의석 점유율의 변화로 나타날 수 있는 현상에 대한 진술로 옳은 것은? (단, 갑국은 전형적인 대통령제를 채택하고 있으며, t대의 행정부 수반은 A당 소속이다.)



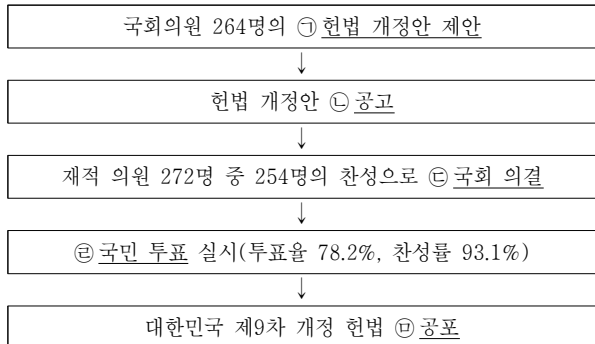
- ① 행정부 수반이 교체될 것이다.
- ② 여소야대 현상이 나타날 것이다.
- ③ 다수당의 황포 가능성이 높아질 것이다.
- ④ 의회 내 C당의 영향력은 약화될 것이다.
- ⑤ 행정부와 입법부 간 대립이 완화될 것이다.

19. 국제 사회를 바라보는 관점 A, B에 대한 설명으로 옳은 것은?

국제 사회에서 국가 간에 분쟁이 발생하면 힘의 논리나 규범에 의해 해결되는 것이 일반적이다. 홉스의 인간관을 바탕으로 힘의 논리에 의해 국가 간의 분쟁이 해결된다고 보는 관점을 A라고 하고, 인간의 도덕성에 대한 믿음을 바탕으로 규범에 의해 국가 간의 분쟁이 해결된다고 보는 관점을 B라고 한다.

- ① A는 국제법, 국제기구를 통한 평화 실현을 중시한다.
- ② A는 개별 국가의 이익과 국제 사회 전체의 이익이 조화를 이룰 수 있다고 본다.
- ③ B는 국가 간의 상호 의존적 관계를 간과한다는 한계를 갖는다.
- ④ B는 세력 균형을 국제 사회의 안정을 유지하는 중요한 체제로 본다.
- ⑤ B와 달리 A는 국제 사회를 무정부적 상태로 본다.

20. 밑줄 친 ㉠~㉥에 대한 설명으로 옳은 것은? [3점]



* 제8차 개정 헌법과 제9차 개정 헌법(현행 헌법)에 규정된 헌법 개정 절차는 동일함.

- ① ㉠은 일정 수 이상의 국민도 할 수 있다.
- ② ㉡은 불가피한 경우 생략할 수 있는 절차이다.
- ③ ㉢은 국회 재적 의원 과반수만 찬성하면 가능하다.
- ④ ㉣은 직접 민주제 요소이다.
- ⑤ ㉤의 권한은 국회의장이 갖는다.

※ 확인 사항

○ 답안지의 해당란에 필요한 내용을 정확히 기입(표기)했는지 확인하십시오.