




6. (가)의 갑, 을의 입장을 (나) 그림과 같이 표현할 때, A~C에 해당하는 진술만을 <보기>에서 있는 대로 고른 것은? [3점]

(가)	<p>갑: 지식과 정보는 정보 창작자의 노력이 투여된 것이므로 정보 창작자에게 배타적 소유권이 있다. 따라서 정보 창작자에게 정당한 대가를 지불하고 지식과 정보를 사용해야 한다.</p> <p>을: 지식과 정보는 인류 공동의 자산이므로 어느 개인의 소유로 제한할 수 없다. 정보 사회의 발전을 위해서 지식과 정보를 공유해야 한다.</p>
(나)	 <div style="border: 1px solid black; padding: 5px; margin-left: 20px;"> <p style="text-align: center;">&lt;범례&gt;</p> <p>A: 갑만의 입장 B: 갑, 을의 공통 입장 C: 을만의 입장</p> </div>

< 보 기 >

ㄱ. A: 지적 재산권을 보호하여 창작 의욕을 고취시켜야 한다.  
 ㄴ. B: 지식과 정보를 하나의 상품으로서 거래해야 한다.  
 ㄷ. B: 정보의 수정과 배포의 권한은 모두가 공유해야 한다.  
 ㄹ. C: 양질의 정보 생산을 위해 무한 복제를 허용해야 한다.

- ① ㄱ, ㄷ      ② ㄱ, ㄹ      ③ ㄴ, ㄹ  
 ④ ㄱ, ㄴ, ㄷ      ⑤ ㄴ, ㄷ, ㄹ

7. 그림은 도덕 수업 장면이다. 소전제 ㉠에 대한 반론의 근거로 가장 적절한 것은? [3점]

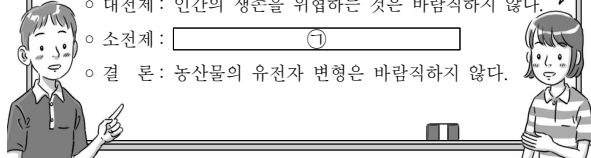
농산물의 유전자 변형은 인간의 생존을 위협하기 때문에 바람직하지 않다.

네의 주장을 삼단 논법으로 정리한다면 칠판의 내용과 같겠군.

○ 대전제: 인간의 생존을 위협하는 것은 바람직하지 않다.

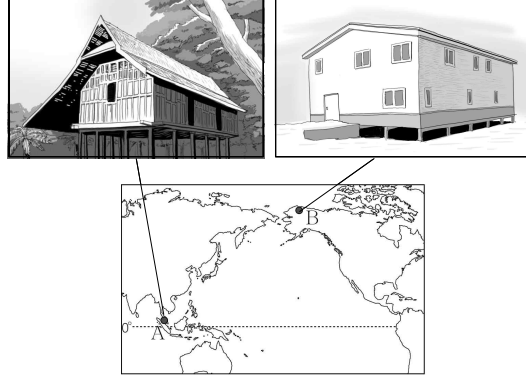
○ 소전제: ㉠

○ 결론: 농산물의 유전자 변형은 바람직하지 않다.



- ① 유전자 변형 종자를 개발한 기업이 독점권을 행사한다.  
 ② 유전자 변형은 농약에 내성을 지닌 해충을 발생시킨다.  
 ③ 유전자 변형 농산물은 인간의 유전자 변형을 초래한다.  
 ④ 유전자 변형에 의한 돌연변이 작물이 생태계를 교란한다.  
 ⑤ 유전자 변형 농산물은 인류의 기아문제 해결에 도움을 준다.

8. 그림은 두 지역에 나타나는 가옥 형태이다. A, B 지역의 특색으로 옳은 설명을 <보기>에서 고른 것은?



< 보 기 >

ㄱ. A는 일년 내내 기온이 높다.  
 ㄴ. B는 짧은 여름에 땅의 표면이 녹는다.  
 ㄷ. A는 B보다 강수량이 적다.  
 ㄹ. B는 A보다 나무가 자라기에 유리하다.

- ① ㄱ, ㄴ      ② ㄱ, ㄷ      ③ ㄴ, ㄷ      ④ ㄴ, ㄹ      ⑤ ㄷ, ㄹ

9. 다음 자료의 ㉠~㉣ 중 적절하지 않은 것은? [3점]

성모 마리아 미술전

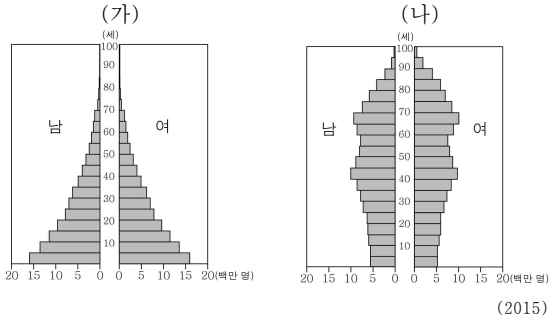


왼쪽 그림은 이탈리아의 화가인 라파엘로가 그린 성모 마리아이고, 오른쪽 그림은 멕시코시티의 과달루페 대성당에 있는 성모 마리아입니다. 유럽의 성모 마리아와 달리 오른쪽 그림의 성모 마리아는 갈색 피부에 검은색 머리를 하고 있습니다.

그 이유는 멕시코가 ㉠스페인의 식민 지배를 받으면서 ㉡크리스티교가 전파된 후 ㉢유럽 인의 신체적 특징이 성모 마리아의 모습에 반영되는 ㉣문화 융합이 이루어졌기 때문입니다. 이처럼 ㉤문화 전파가 이루어지는 과정에서 문화는 변형되기도 합니다.

- ① ㉠      ② ㉡      ③ ㉢      ④ ㉣      ⑤ ㉤

10. 그래프는 두 국가의 성별, 연령별 인구를 나타낸 것이다. (가) 국가에 비해 (나) 국가에서 나타날 수 있는 현상으로 적절한 내용을 <보기>에서 고른 것은? [3점]



- < 보 기 >
- ㄱ. 저출산으로 인한 노동력 부족
  - ㄴ. 높은 출생률로 인한 식량 부족
  - ㄷ. 고령화로 인한 사회 복지 비용 증가
  - ㄹ. 대도시 인구 급증으로 인한 불량 주택 지구 확대

- ① ㄱ, ㄴ    ② ㄱ, ㄷ    ③ ㄴ, ㄷ    ④ ㄴ, ㄹ    ⑤ ㄷ, ㄹ

11. 다음은 도시 내부 구조에 대한 수업 장면이다. 발표 내용이 옳지 않은 학생을 고른 것은?

이 그림은 도시 내부 구조를 간략히 나타낸 것입니다. A 지역의 특색에 대하여 말해 볼까요?

갑: 도심의 기능을 분담해요.

을: 교통이 편리한 곳에 있어요.

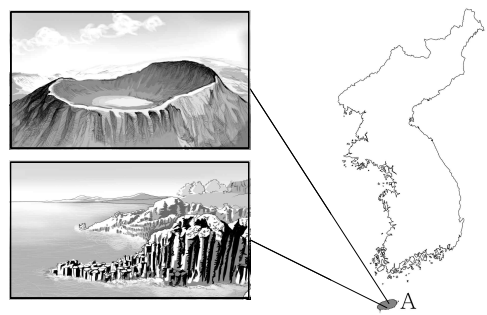
병: 상업 및 금융 시설이 많이 있어요.

정: 도시 내에서 땅값이 제일 비싸요.

무: 도시의 규모가 커지면서 형성돼요.

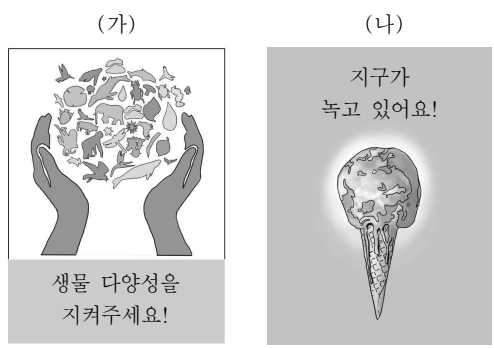
- ① 갑    ② 을    ③ 병    ④ 정    ⑤ 무

12. 그림과 같은 두 지형이 지도의 A 지역에서 나타나는 이유로 옳은 것은?



- ① 화산 활동이 있었다.
- ② 조석 간만의 차가 크다.
- ③ 석회암이 넓게 분포한다.
- ④ 하천의 침식 작용이 활발하다.
- ⑤ 바람의 퇴적 작용이 활발하다.

13. (가), (나) 포스터와 관련된 환경 문제의 공통된 발생 원인으로 가장 타당한 것은? [3점]



- ① 황사 발생 증가
- ② 빈번한 화산 활동
- ③ 토양 오염의 증가
- ④ 과도한 지하수 사용
- ⑤ 무분별한 삼림 파괴

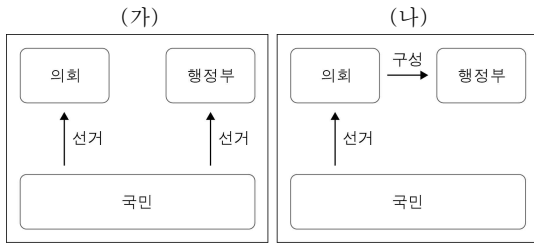
14. 다음 자료의 ㉠으로 인해 나타날 지역 문제로 적절한 것은?

터키 동남부 지역에는 티그리스강과 유프라테스강이 흐른다. 터키 정부는 이 지역에 농업용수를 공급하고 전력을 확보하기 위해 1960년대부터 두 강 상류에 댐을 건설하기 시작했다.

㉠ 2016년 현재 15개의 댐을 건설하였고, 앞으로 7개의 댐을 추가로 건설할 예정이다.

- ① 터키의 식량 생산량이 감소할 것이다.
- ② 이라크에 홍수 피해가 증가할 것이다.
- ③ 시리아에 있는 고대 유적이 수몰될 것이다.
- ④ 터키는 시리아보다 사막화 지역이 확대될 것이다.
- ⑤ 이라크와 시리아는 물 부족 문제를 겪을 것이다.

15. 그림의 (가), (나)는 각각 민주 국가의 전형적인 정부 형태를 나타낸 것이다. 이에 대한 설명으로 옳은 것은? [3점]



- ① 영국의 정부 형태는 (가)에 해당한다.
- ② (가)에서 의회는 행정부를 불신임할 수 있다.
- ③ (가)에서 행정부 수반은 법률안 거부권을 갖는다.
- ④ 현재 우리나라의 정부 형태는 (나)에 해당한다.
- ⑤ (나)에서 의회 의원은 행정부의 각료를 겸할 수 없다.

16. 밑줄 친 ㉠~㉣에 대한 옳은 설명을 <보기>에서 고른 것은? [3점]

유비, 관우, 장비는 ㉠형제의 의(義)를 맺고 평생 의리를 지키기로 결의한다. 관우는 전투에서 패해 사로잡히지만 적장인 조조는 그를 ㉡장군에 임명하는 등 융숭하게 대접했다. 그러나 주군인 유비를 항상 그리워하던 관우는 결국 달아나 유비에게 합류하고, 유비의 ㉢참모인 제갈량의 명령에 따라 ㉣조조의 군대를 치기 위해 ㉤전투에 나섰다.

< 보 기 >

㉠. ㉠을 통해 관우에게 주어진 지위는 귀족 지위이다.  
 ㉡. ㉡은 제갈량의 외집단이다.  
 ㉢. ㉢은 관우의 역할 행동이다.  
 ㉣. ㉣은 ㉡과 달리 성취 지위에 해당한다.

- ① ㉠, ㉡    ② ㉠, ㉢    ③ ㉡, ㉣    ④ ㉢, ㉣    ⑤ ㉣, ㉣

17. 자료에서 추론할 수 있는 실업의 유형에 해당하는 사례로 옳은 것은?

인공 지능(A.I.)은 이미 간단한 기사 작성, 변론 준비까지 인간이 하는 일을 무리 없이 해내고 있다. 따라서 시간이 갈수록 인공 지능이 점점 더 많은 영역에서 인간의 노동을 대체할 것이라는 예측이 나오고 있다. 이처럼 기술 발전으로 인한 산업 구조의 변화는 실업을 일으키는 원인이 된다.

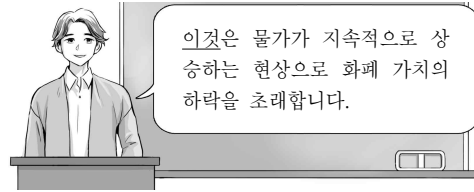
- ① 갑은 직장을 옮기기 위해 다니던 회사를 그만두었다.
- ② 을은 좋은 직장을 구하기 위해 대학원에 진학하였다.
- ③ 병은 경기 불황으로 인한 구조 조정으로 일자리를 잃었다.
- ④ 정은 이웃의 농사를 도와 생계를 유지하는데 수확이 끝나 일거리가 없어졌다.
- ⑤ 무는 생산 공정에 자동화 시스템이 보편화됨에 따라 다니던 자동차 공장에서 해고되었다.

18. 갑, 을이 지닌 문화 이해의 태도에 대한 설명으로 옳은 것은?

갑: 뭐든지 서양에서 들어온 게 고급스럽다니까. 우리 것은 너무 수준이 낮아.  
 을: 아니야. 옷은 한복, 음식은 한식, 글자는 한글, 뭐든 우리 것이 최고지.

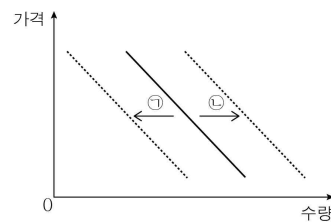
- ① 갑의 태도는 모든 문화가 고유한 가치를 가진다고 본다.
- ② 갑의 태도는 자기 문화를 기준으로 타문화를 낮게 평가한다.
- ③ 을의 태도는 다른 사회의 문화 수용에 적극적이다.
- ④ 을의 태도는 다른 문화권과 갈등을 일으킬 소지가 있다.
- ⑤ 갑과 을의 태도는 모두 문화의 다양성 확대에 긍정적으로 작용한다.

19. 그림은 사회 수업 시간의 한 장면이다. 밑줄 친 '이것'에 대한 설명으로 옳은 것은?



- ① 부동산 투기를 감소시킨다.
- ② 봉급생활자에게 불리하게 작용한다.
- ③ 은행 예금자에게 유리하게 작용한다.
- ④ 돈을 빌린 사람에게 불리하게 작용한다.
- ⑤ 연금을 받는 사람들의 생활수준을 향상시킨다.

20. 그림의 ㉠, ㉡은 갑국의 삼겹살 시장에서 나타날 수 있는 주요 변동이다. 이에 대한 설명으로 옳은 것은? [3점]



- ① 삼겹살의 가격이 하락하면 ㉠이 나타난다.
- ② 돼지 사육 능력이 증가하면 ㉠이 나타난다.
- ③ 돼지 사료의 가격이 하락하면 ㉠이 나타난다.
- ④ 삼겹살에 대한 소비자 선호가 증가하면 ㉡이 나타난다.
- ⑤ 삼겹살 대신 쇠고기를 찾는 사람이 늘어나면 ㉡이 나타난다.

※ 확인 사항  
 ○ 답안지의 해당란에 필요한 내용을 정확히 기입(표기)했는지 확인하십시오.