



6. 다음은 인간과 자연환경의 관계에 대한 대화의 일부이다. 학생들의 의견을 뒷받침할 수 있는 적절한 사례를 <보기>에서 고른 것은? [3점]



< 보기 >

ㄱ. 갑 - 계절풍 기후 지역에서는 벼농사가 활발하다.  
 ㄴ. 을 - 건조 기후 지역에서는 가옥의 지붕을 평평하게 만든다.  
 ㄷ. 병 - 동물의 서식지 단절을 막기 위해 생태 통로를 만든다.  
 ㄹ. 정 - 산업 단지 조성을 위해 대규모 간척 사업을 추진한다.

- ① ㄱ, ㄴ    ② ㄱ, ㄷ    ③ ㄴ, ㄷ    ④ ㄴ, ㄹ    ⑤ ㄷ, ㄹ

7. 다음 자료는 여행 중 지도 애플리케이션으로 호텔을 찾는 과정을 나타낸 것이다. ㉠ ~ ㉥에 대한 설명으로 옳지 않은 것은?

검색창에 '호텔'을 입력하면 ㉠ 현재 나의 위치(●)와 ㉡ 근처에 있는 호텔들의 위치(●)가 표시된다.

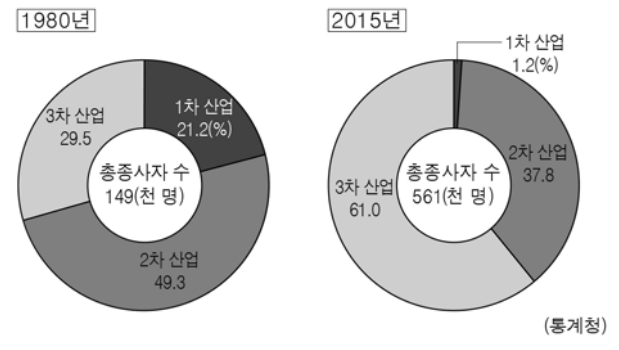
그 중 하나를 선택하면 ㉢ 숙박료와 이용 후기 등의 상세 정보가 하단에 표시된다.

㉣ 길찾기 메뉴를 활용하여 검색된 경로를 따라 선택한 호텔로 이동한다.

복잡한 길을 만나면 ㉤ 지도를 확대하여 보이지 않던 골목길까지 확인하고 정확한 경로를 따라간다.

- ① ㉠ - 위치 정보 시스템(GPS)을 통해 제공할 수 있는 정보이다.  
 ② ㉡ - 사용자의 요구에 따라 분석된 공간 정보가 제공된 것이다.  
 ③ ㉢ - 새로운 정보의 추가와 수정이 수시로 이루어질 수 있다.  
 ④ ㉣ - 목적지까지 최단 거리나 최적 경로를 확인할 수 있다.  
 ⑤ ㉤ - 종이 지도를 통해서도 구현할 수 있는 기능이다.

8. 그래프는 우리나라 어느 도시의 산업 구조 변화를 나타낸 것이다. 이에 대한 옳은 분석을 <보기>에서 고른 것은? [3점]



< 보기 >

ㄱ. 총종사자 수가 5배 이상 증가하였다.  
 ㄴ. 1차 산업의 종사자 비중이 증가하였다.  
 ㄷ. 2차 산업의 종사자 수가 증가하였다.  
 ㄹ. 2015년 종사자 비중이 가장 큰 산업은 3차 산업이다.

- ① ㄱ, ㄴ    ② ㄱ, ㄷ    ③ ㄴ, ㄷ    ④ ㄴ, ㄹ    ⑤ ㄷ, ㄹ

9. 지도는 어떤 기업의 기능별 입지 분포를 나타낸 것이다. 이 기업에 대한 설명으로 옳지 않은 것은? [3점]



- ① 여러 국가에서 활동하는 다국적 기업이다.  
 ② 관리, 생산, 판매 기능의 공간적 분업이 나타난다.  
 ③ 최종 결정 및 총괄 기능은 우리나라에서 이루어진다.  
 ④ 영업 지점의 입지는 소비 시장 확보가 중요한 요인이 된다.  
 ⑤ 생산 공장은 고급 연구 인력을 확보하기 유리한 곳에 입지한다.

10. 표는 두 에너지 자원의 국가별 생산량 상위 5개국을 나타낸 것이다. (가), (나) 자원에 대한 설명으로 옳은 것은? (단, (가), (나)는 석유, 석탄 중 하나임.) [3점]

(가)			(나)		
순위	국가	생산량 비중(%)	순위	국가	생산량 비중(%)
1	사우디아라비아	12.9	1	중국	46.1
2	러시아	12.6	2	미국	11.6
3	미국	12.1	3	인도	8.4
4	중국	5.0	4	오스트레일리아	6.2
5	캐나다	4.9	5	인도네시아	5.9

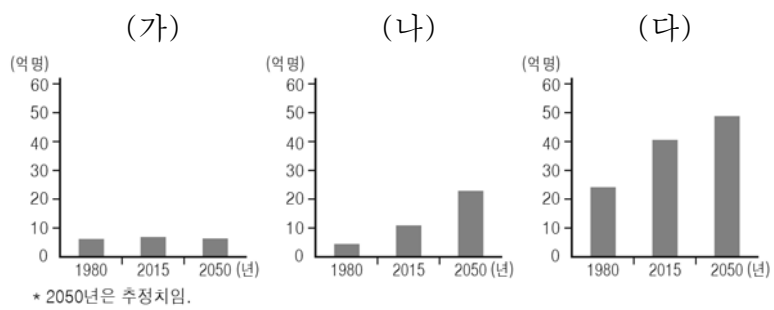
- ① (가)는 산업 혁명 시기의 주요 에너지 자원이었다.  
 ② (나)는 운송 수단의 연료로 주로 이용된다.  
 ③ (나)는 신기 조산대 주변에 주로 분포한다.  
 ④ (가)는 (나)보다 국제 이동량이 많다.  
 ⑤ (나)는 (가)보다 세계 에너지 소비량에서 차지하는 비중이 크다.

11. 그림의 A~C 발전 방식에 대한 설명으로 옳지 않은 것은?



- ① A는 산지나 해안 지역에 입지하는 것이 유리하다.
- ② B는 판의 경계에 위치한 지역에서 주로 이루어진다.
- ③ C는 일조량이 풍부한 지역에 입지하는 것이 유리하다.
- ④ A는 B보다 우리나라에서 전력 생산량이 적다.
- ⑤ B는 C보다 기후 조건의 영향을 적게 받는다.

12. 그래프는 세 대륙의 시기별 인구 규모를 나타낸 것이다. (가)~(다)에 해당하는 대륙으로 옳은 것은?



- |   |      |      |      |
|---|------|------|------|
|   | (가)  | (나)  | (다)  |
| ① | 유럽   | 아시아  | 아프리카 |
| ② | 유럽   | 아프리카 | 아시아  |
| ③ | 아시아  | 유럽   | 아프리카 |
| ④ | 아시아  | 아프리카 | 유럽   |
| ⑤ | 아프리카 | 유럽   | 아시아  |

13. 다음은 학생의 필기 내용이다. ㉠~㉣에 대한 설명으로 옳지 않은 것은?

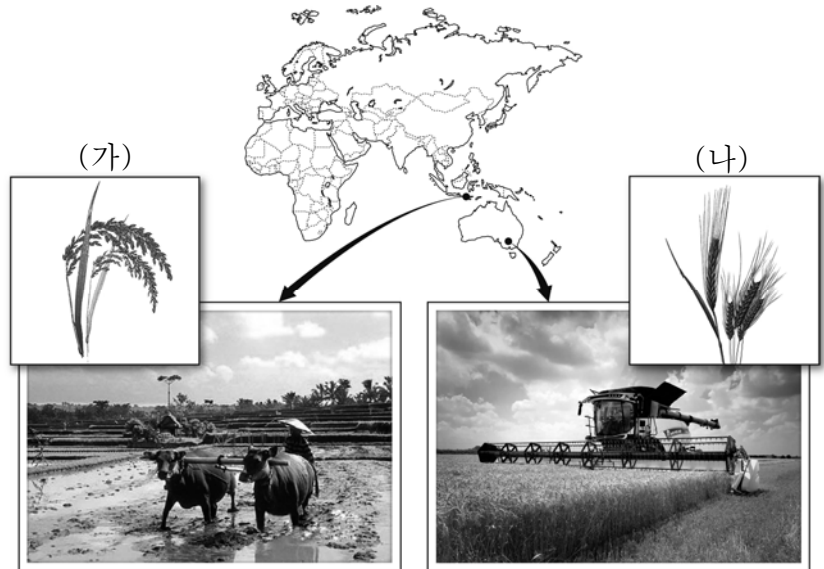
※ 세계화의 의미와 영향

- 의미: 세계 여러 나라가 정치·경제·사회·문화 등의 분야에서 교류가 많아지는 현상
- 배경 - ㉠ 교통과 정보 통신 기술의 발달  
- 세계 무역 기구(WTO)의 출범 → ㉡ 자유 무역 확대
- 영향

구분	경제적 측면	문화적 측면
긍정적 영향	㉢	㉣ 다양한 문화 체험 기회 확대
부정적 영향	㉠ 국가 간 빈부 격차 심화	문화적 차이로 인한 갈등 심화

- ① ㉠으로 경제 활동의 시·공간적 제약이 커졌다.
- ② ㉡으로 국가 간 상호 의존성이 강화되었다.
- ③ ㉢에는 '소비자의 상품 선택 폭 확대'가 들어갈 수 있다.
- ④ ㉣은 국가 간 인적 교류가 늘어났기 때문이다.
- ⑤ ㉣은 선진국과 개발도상국의 불평등한 무역 구조가 한 원인이다.

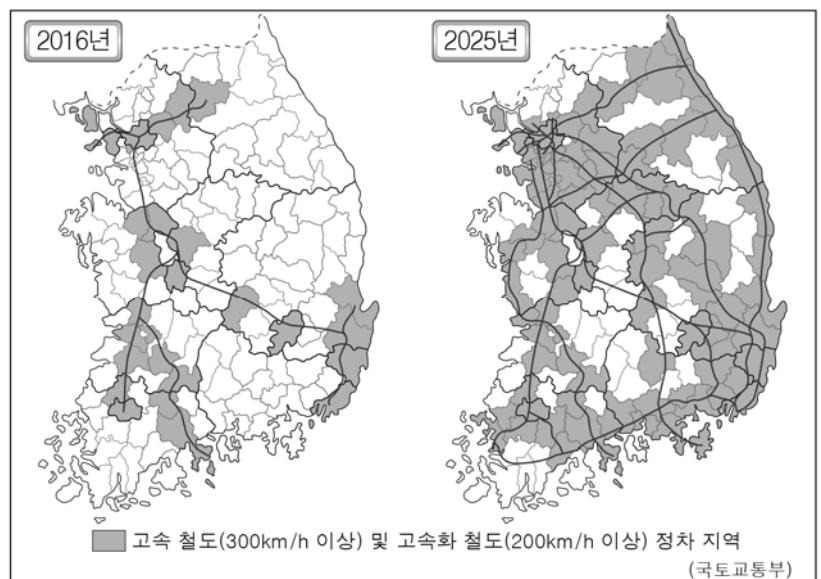
14. 다음 자료의 (가), (나) 작물에 대한 설명으로 옳은 것은? (단, (가), (나)는 쌀, 밀 중 하나임.) [3점]



- ① (가)는 생장기에 높은 기온과 많은 강수량이 필요하다.
- ② (나)는 주로 북반구에서 남반구로 수출된다.
- ③ (가)는 (나)보다 국제 이동량이 많다.
- ④ (가)는 (나)보다 재배 지역의 범위가 넓다.
- ⑤ (나)는 (가)보다 단위 면적당 생산량이 많다.

15. 다음 계획이 실현되었을 때 나타날 현상에 대한 추론으로 적절한 것을 <보기>에서 고른 것은?

<우리나라 고속 철도망 구축 계획>

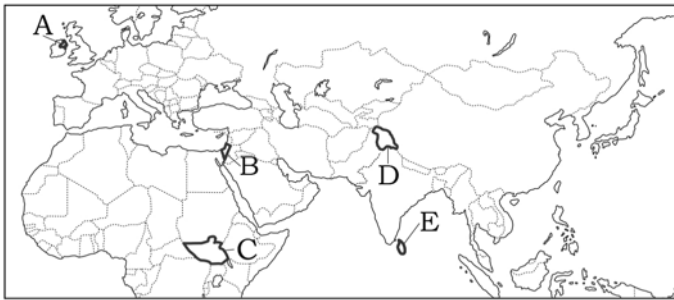



< 보기 >

- ㄱ. 대도시의 통근권이 축소될 것이다.
- ㄴ. 동해안 지역의 접근성이 향상될 것이다.
- ㄷ. 지역 간의 평균 이동 시간이 늘어날 것이다.
- ㄹ. 고속 국도 통행량의 분산 효과가 나타날 것이다.

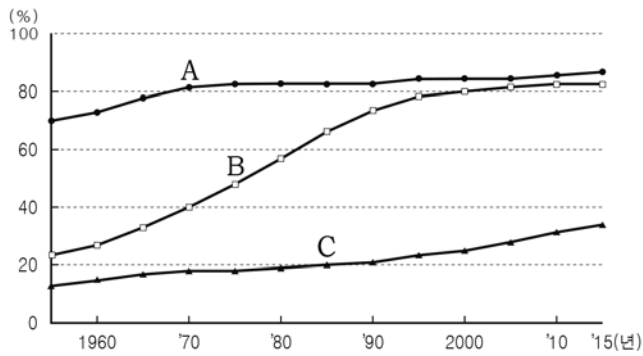
- ① ㄱ, ㄴ    ② ㄱ, ㄷ    ③ ㄴ, ㄷ    ④ ㄴ, ㄹ    ⑤ ㄷ, ㄹ

16. 밑줄 친 '이 땅'을 지도의 A~E에서 고른 것은? [3점]



- ① A    ② B    ③ C    ④ D    ⑤ E

17. 그래프는 A~C 국가의 도시화율 변화를 나타낸 것이다. 이에 대한 설명으로 옳은 것은? [3점]



- ① A는 1970년대 이후 이촌 향도 현상이 본격화되었다.  
 ② B는 1980년에 도시 인구가 촌락 인구보다 많다.  
 ③ C는 1990년대에 도시화 종착 단계에 진입하였다.  
 ④ A는 B보다 산업화의 시작 시기가 늦다.  
 ⑤ B는 C보다 2000년 이후 도시 인구 증가율이 높다.

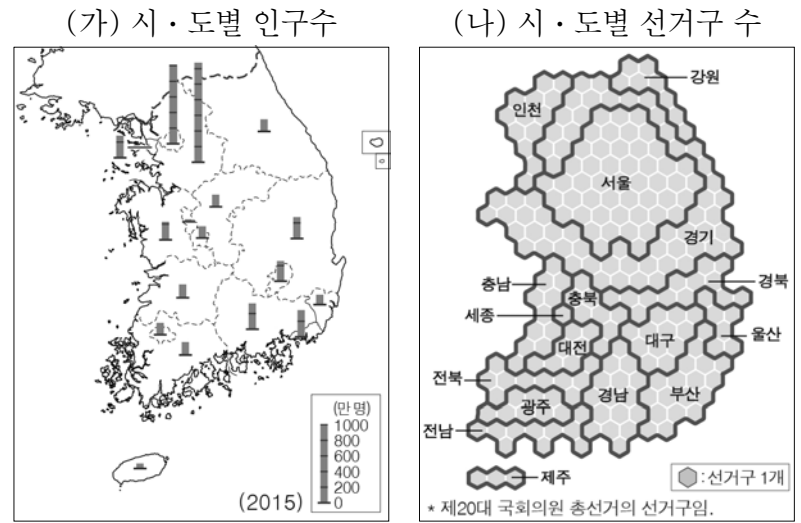
18. 다음 자료의 무역 방식이 추구하는 목표로 적절하지 않은 것은?

파란 하늘과 녹색 풀밭은 깨끗한 환경을 상징하고, 사람은 생산자, 상인, 소비자 등이 그 중심에 있음을 의미한다. 이 무역은 환경을 보호하고, 제품의 생산, 유통, 판매, 구매에 관련된 모든 사람들에게 이익이 고르게 돌아가는 무역 방식을 추구한다.

<공정 무역 인증 마크>

- ① 무역 과정의 투명성 확대  
 ② 생산지의 노동 조건 개선  
 ③ 거대 유통 기업의 이윤 극대화  
 ④ 생산지 환경의 지속 가능성 추구  
 ⑤ 생산자에게 정당한 노동의 대가 지불

19. 통계 지도 (가), (나)에 대한 옳은 설명을 <보기>에서 고른 것은? [3점]



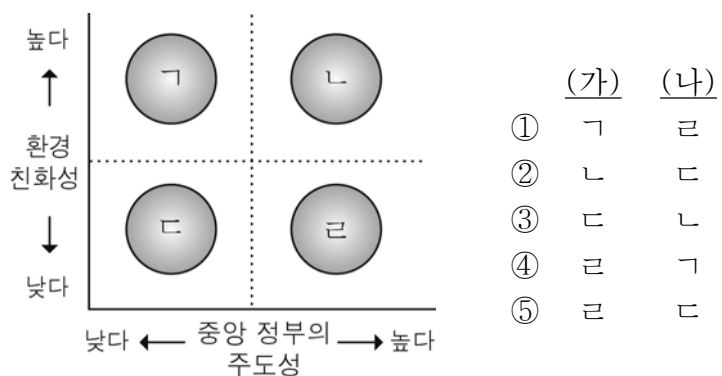
< 보기 >

- ㄱ. (가)는 도형의 길이를 통해 시·도별 인구 비교가 가능하다.  
 ㄴ. (가)는 수치가 같은 지점을 연결하여 지리 정보를 표현하였다.  
 ㄷ. (나)에 표현된 시·도의 크기는 선거구 수에 비례한다.  
 ㄹ. (나)는 (가)보다 시·도의 형태와 면적을 정확하게 표현하였다.

- ① ㄱ, ㄴ    ② ㄱ, ㄷ    ③ ㄴ, ㄷ    ④ ㄴ, ㄹ    ⑤ ㄷ, ㄹ

20. (가), (나) 지역 개발의 상대적인 특성을 그래프의 ㄱ~ㄹ에서 고른 것은?

(가) ○○시는 1970년대 정부의 공업 육성 정책에 따라 대규모 공업 단지가 세워지면서 큰 도시로 성장하였다. 그러나 이곳에 염색, 화학, 피혁 공장 등이 밀집하면서 한동안 심각한 대기 오염과 수질 오염에 시달렸다.  
 (나) △△시는 갯벌의 생태 관광 사업을 진행하면서 주민의 습지 보전 활동을 지원하고, 일부 농경지를 사들여 습지로 복원하였다. 그리고 습지를 활용한 정원 조성 사업을 통해 일자리를 창출하고 지역 경제를 활성화하였다.



- (가) (나)  
 ① ㄱ ㄹ  
 ② ㄴ ㄷ  
 ③ ㄷ ㄴ  
 ④ ㄹ ㄱ  
 ⑤ ㄹ ㄷ

※ 확인 사항

답안지의 해당란에 필요한 내용을 정확히 기입(표기)했는지 확인하십시오.