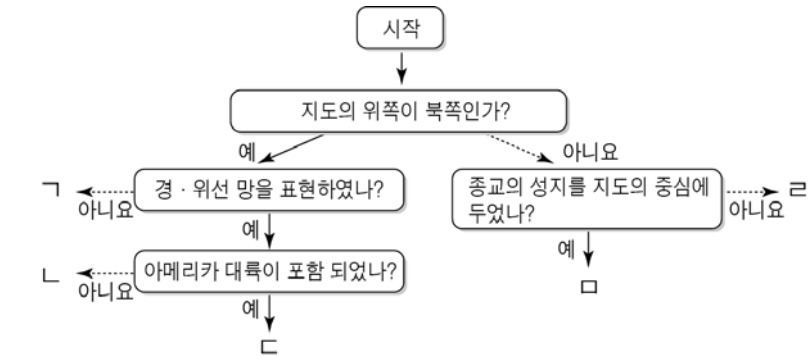
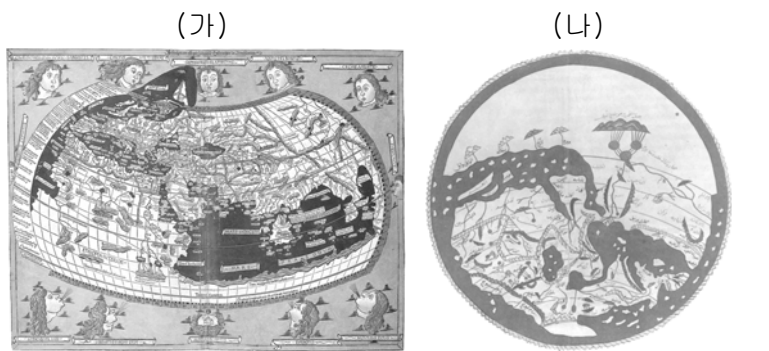


제 4 교시

사회탐구 영역 (세계 지리)

1. (가), (나) 지도의 특징을 그림의 ㄱ~ㄴ에서 고른 것은?



- |   |     |     |   |     |     |   |     |     |
|---|-----|-----|---|-----|-----|---|-----|-----|
|   | (가) | (나) |   | (가) | (나) |   | (가) | (나) |
| ① | ㄱ   | ㄷ   | ② | ㄴ   | ㄴ   | ③ | ㄴ   | ㄴ   |
| ④ | ㄷ   | ㄴ   | ⑤ | ㄷ   | ㄴ   |   |     |     |

2. 다음은 가족의 대화 내용이다. 밑줄 친 ㉠~㉣에 대한 설명으로 옳지 않은 것은?

아빠: 이번 여름에는 인도로 여행을 떠나볼까?  
 아들: 인도의 날씨는 어때요?  
 아빠: ㉠ 여름은 기온이 높고 강수량이 많단다.  
 작은 딸: 인도는 뭐가 유명해요?  
 엄마: ㉡ 인도는 소, 힌두교, 홍차 등으로 유명하지. 특히 인도의 홍차는 세계 생산량의 약 40%를 차지하고, ㉢ 세계 각지로 수출되고 있단다.  
 아빠: 닐기리, 다르질링, 아삼이 인도의 3대 홍차 생산지야. 이 세 지역의 홍차는 ㉣ 지리적 표시제에 등록되어 있지. 여길 가볼까?  
 큰 딸: 그럼 우리가 방문할 곳을 ㉤ 인터넷 지도로 찾아볼게요.

인도의 3대 홍차 생산지

- ① ㉠ - 바다에서 불어오는 계절풍의 영향이다.
- ② ㉡ - 지역의 위치를 나타내는 공간 정보이다.
- ③ ㉢ - 통계 지도 중 유선도로 표현할 수 있다.
- ④ ㉣ - 지역의 지리적 가치를 강조하는 지역화 전략이다.
- ⑤ ㉤ - 종이 지도에 비해 확대 및 축소가 용이하다.

3. 다음 자료에 제시된 지리 정보 수집 방법을 활용하여 조사하기에 적절한 탐구 주제를 <보기>에서 고른 것은? [3점]



촬영일 2004. 12. 24.      촬영일 2004. 12. 28.

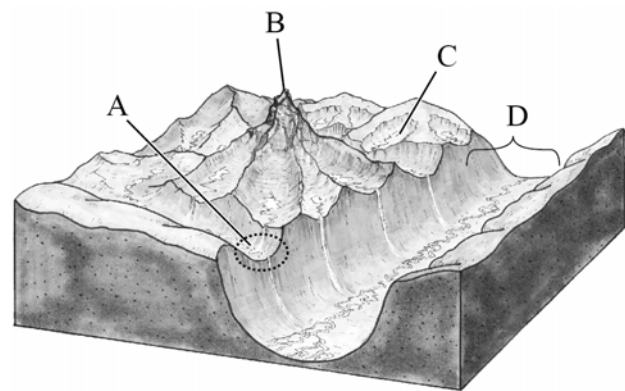
인도네시아 반다아체는 인근 해역에서 발생한 해일로 피해가 컸던 곳이다. 주기적으로 촬영된 두 사진을 통해 해일 발생 전과 후의 차이를 한눈에 확인할 수 있으며 해일로 인한 피해 범위를 파악할 수 있다.

<보 기>

- ㄱ. 에볼라 바이러스의 발생지와 확산 경로
- ㄴ. 동남아시아의 국가별 모슬렘 분포 변화
- ㄷ. 아마존 강 유역의 삼림 파괴 면적 변화
- ㄹ. 기온 변화로 인한 대륙 빙하의 후퇴 현황

- ① ㄱ, ㄴ    ② ㄱ, ㄷ    ③ ㄴ, ㄷ    ④ ㄴ, ㄹ    ⑤ ㄷ, ㄹ

4. 다음은 빙하 지형의 모식도이다. A~D에 대한 옳은 설명만을 <보기>에서 있는 대로 고른 것은? [3점]

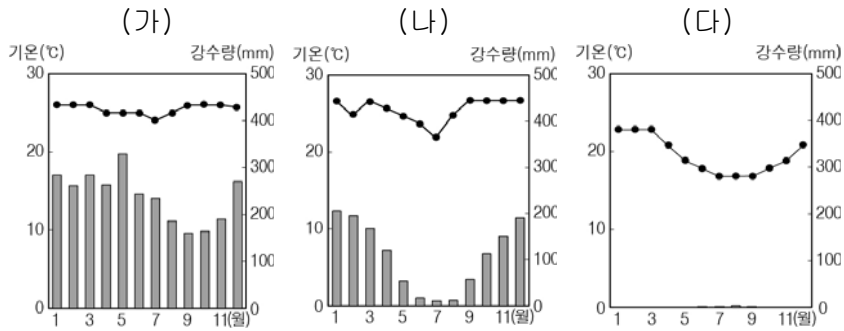


<보 기>

- ㄱ. A는 본류 빙하와 지류 빙하의 침식량 차이로 형성된다.
- ㄴ. B는 빙하의 침식으로 형성된 봉우리이다.
- ㄷ. C는 빙하가 최대 확장된 범위를 나타낸다.
- ㄹ. D는 빙하가 후퇴한 뒤 드러난 U자형 골짜기이다.

- ① ㄱ, ㄷ    ② ㄴ, ㄷ    ③ ㄴ, ㄹ
- ④ ㄱ, ㄴ, ㄹ    ⑤ ㄱ, ㄷ, ㄹ

5. (가)~(다) 기후가 나타나는 지역을 지도의 A~C에서 고른 것은? [3점]



- |   |     |     |     |
|---|-----|-----|-----|
|   | (가) | (나) | (다) |
| ① | A   | B   | C   |
| ② | A   | C   | B   |
| ③ | B   | A   | C   |
| ④ | B   | C   | A   |
| ⑤ | C   | B   | A   |

6. 다음 글의 밑줄 친 (가), (나)에 해당되는 지역을 지도의 A~E에서 고른 것은?

두 개의 판이 갈라지거나 충돌하는 경계 지점에는 화산과 지진이 자주 발생한다. (가) 판이 갈라지는 곳에는 지구대나 해령이 분포하고, (나) 판이 부딪치는 곳에는 신기 습곡 산지, 해구 등이 형성된다.



- |   |     |     |
|---|-----|-----|
|   | (가) | (나) |
| ① | A   | B   |
| ② | B   | C   |
| ③ | C   | A   |
| ④ | D   | E   |
| ⑤ | E   | D   |

7. 다음 사진은 (가), (나) 종교의 경관을 나타낸 것이다. 두 종교에 대한 설명으로 옳은 것은?



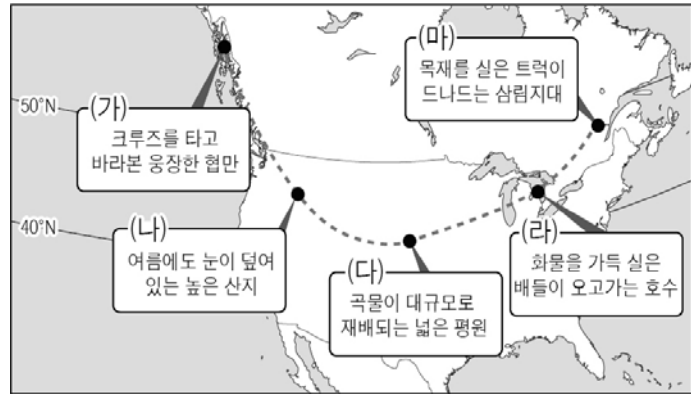
돔형 지붕과 첨탑



석가모니 조각상과 여러 개의 탑

- ① (가)는 상업과 군사적 정복 활동을 통해 전파되었다.
- ② (가)의 수행자는 육식을 금기시하고 채식을 선호한다.
- ③ (나)의 기원지는 서남아시아에 위치한다.
- ④ (나)의 신자는 성지 순례가 종교적 의무이다.
- ⑤ (가), (나) 모두 특정 민족이나 국가에만 나타나는 종교이다.

8. 지도는 답사 경로를 나타낸 것이다. (가)~(마)에 대한 설명으로 옳은 것은? [3점]



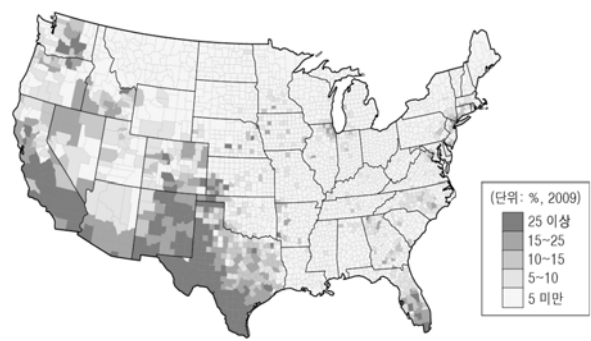
- ① (가) 해안에는 갯벌이 넓게 분포한다.
- ② (나) 산지는 신생대에 조산운동을 받아 형성되었다.
- ③ (다) 평원은 강수량이 많아 벼의 재배 비중이 높다.
- ④ (라) 호수는 화산 활동으로 형성되었다.
- ⑤ (마) 지역의 식생은 다양한 수종의 상록 활엽수림이다.

9. 다음 글은 여행기의 일부이다. 밑줄 친 ㉠~㉥에 대한 설명으로 옳지 않은 것은? [3점]

해가 뜬 직후부터 점점 강해진 열기에 숨이 턱턱 막힐 지경이고 먼지와 모래 바람으로 인해 내내 힘들었다. 현지인들처럼 ㉠ 두건과 긴 옷으로 온몸을 가렸다. 몇 시간을 가다보니 ㉡ 버섯 모양 바위가 보이기 시작했고 바닥에는 삼각뿔 모양의 돌이 흩어져 있었다. ... 언덕에서 바라본 드넓은 모래 바다 위에는 ㉢ 초승달 모양의 모래 언덕들이 석양을 받아 넘실거리는 듯 보였다. 말로만 듣던 ㉣ 이곳의 밤 추위는 해가 저자 금세 찾아왔고 우리 일행은 ㉤ 오아시스가 있는 마을에 겨우 도착하여 추위를 피할 수 있었다.

- ① ㉠ - 모래와 강한 일사로부터 몸을 보호하기 위한 수단이다.
- ② ㉡ - 강수 시 일시적으로 흐르는 하천에 의해 형성되었다.
- ③ ㉢ - 바람에 의해 이동이 빈번한 퇴적 지형이다.
- ④ ㉣ - 화학적 풍화보다 기계적 풍화 작용이 우세하다.
- ⑤ ㉤ - 관개 시설을 이용하여 대추야자를 재배한다.

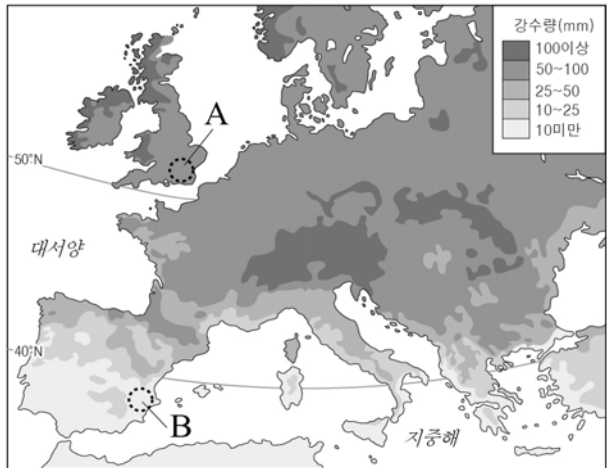
10. 지도에 나타난 언어를 주로 사용하는 미국 내 인종(민족) 집단의 특성을 설명한 것으로 옳은 것은? [3점]



○○ 언어 사용 인구 분포 (5세 이상)

- ① 유럽인이 정착하기 전부터 거주하고 있었다.
- ② 면화 재배를 위해 강제 이주된 노동력이었다.
- ③ 미국 내 총인구에서 차지하는 비중이 가장 높다.
- ④ 아시아로부터 이주해 와 서부 지역 개발에 참여했다.
- ⑤ 주로 가톨릭교를 믿으며 미국 평균보다 인구 성장률이 높다.

11. 지도는 어느 시기의 강수량 분포이다. 이 시기에 나타나는 A, B 지역의 특징으로 옳은 것은? (단, 시기는 1, 7월 중 하나임.) [3점]



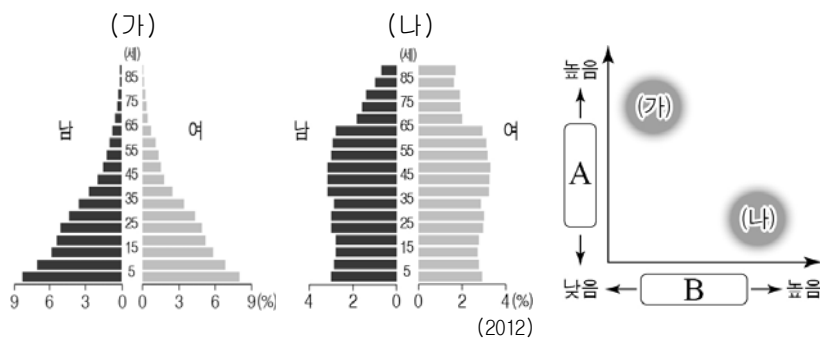
- ① A는 일조량이 많아 관개 시설을 통해 벼를 재배한다.
- ② B는 아열대 고압대의 영향을 크게 받는다.
- ③ B는 밀, 보리 등의 곡물 농업이 주로 이루어진다.
- ④ A는 무역풍, B는 편서풍의 영향을 주로 받는다.
- ⑤ B는 A보다 낮의 길이가 길다.

12. 다음 자료와 같은 현상이 나타나는 지역에서 촬영할 수 있는 주민 생활 모습으로 가장 적절한 것은?

| 다큐멘터리 방송 대본    |                                                                                                         |
|----------------|---------------------------------------------------------------------------------------------------------|
| ○○ 지역 자연 현상 화면 | 내레이션                                                                                                    |
|                | 하늘에서 내려다보니 비탈진 곳에서 토양이 물결 모양으로 흘러내린 모습이 보입니다. 이는 얼었던 토양이 짧은 여름동안 녹으면서 영구 동토층 위에서 중력 방향으로 움직이며 형성된 것입니다. |

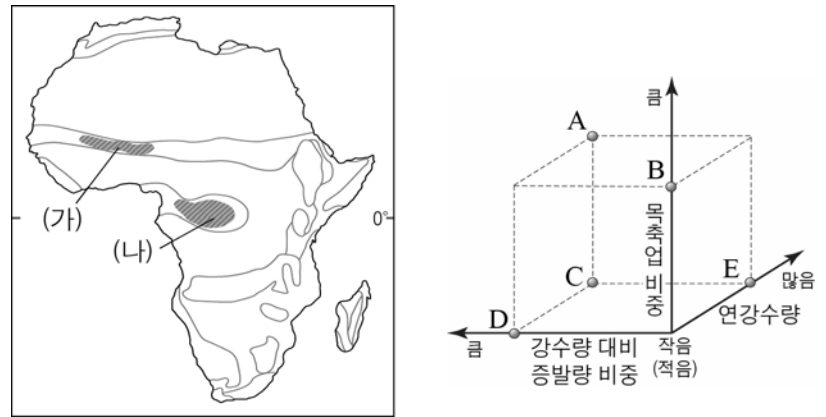
- ① 이끼를 찾아 이동하며 순록을 유목하는 모습
- ② 고무, 카카오 등 상품 작물을 대량 생산하는 모습
- ③ 그물에 맺힌 물방울을 모아 식수로 사용하는 모습
- ④ 사파리 관광객들에게 초원의 야생 동물을 소개하는 모습
- ⑤ 지면의 열과 습기를 피하기 위해 나무 위에 집을 짓는 모습

13. (가), (나)와 같은 인구 구조가 나타나는 지역의 상대적 특징을 그래프로 표현할 때 A, B에 들어갈 항목으로 옳은 것은?



- |                  |                |
|------------------|----------------|
| A                | B              |
| ① 중위 연령          | 유소년 부양비        |
| ② 노령화 지수         | 2:3차 산업 종사자 비율 |
| ③ 합계 출산율         | 중위 연령          |
| ④ 유소년 부양비        | 합계 출산율         |
| ⑤ 2:3차 산업 종사자 비율 | 노령화 지수         |

14. 지도의 (가) 지역과 비교한 (나) 지역의 상대적 특성을 그림의 A~E에서 고른 것은? [3점]



\* 대륙 위의 선은 기후 지역을 구분한 것임.

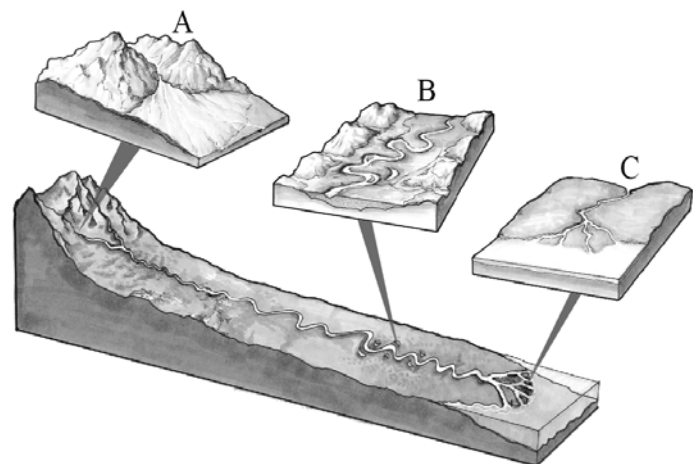
- ① A      ② B      ③ C      ④ D      ⑤ E

15. 지도에 나타난 인구 이동의 공통된 요인으로 옳은 것은?



- ① 기후 변화로 인한 생활 터전의 상실
- ② 종교 탄압으로 인한 신앙의 자유 제한
- ③ 소득을 높이기 위한 경제적 욕구의 증가
- ④ 정치적 불안정에 따른 민족 갈등의 심화
- ⑤ 소득 수준 향상에 따른 해외 관광의 증가

16. 그림은 하천 퇴적 지형의 모식도이다. A~C에 대한 설명으로 옳은 것은?



- ① A는 산지와 평지가 만나는 경사 급변점에서 잘 발달한다.
- ② B는 하천의 유량 변동이 클수록 발달이 미약하다.
- ③ C는 조석 간만의 차가 큰 하구에서 잘 발달한다.
- ④ A는 B보다 하천의 범람에 따른 침수가 잦다.
- ⑤ A에서 C로 갈수록 퇴적물의 입자가 커진다.

17. 다음은 어느 지역의 여행 상품 광고이다. 밑줄 친 ㉠~㉣에 대한 옳은 설명을 <보기>에서 고른 것은?


|                                                                                                                                                                                  |                                                                                                                                                                                   |
|----------------------------------------------------------------------------------------------------------------------------------------------------------------------------------|-----------------------------------------------------------------------------------------------------------------------------------------------------------------------------------|
| <p>탄성을 자아내는 12사도상</p>  <p>해안을 따라 웅장하게 펼쳐진 ㉠ 암석 절벽과 우뚝 솟은 ㉡ 바위 기둥을 바라보는 순간, 감탄을 금치 못하실 것입니다.</p> | <p>서퍼들의 천국 골드코스트</p>  <p>70여 km에 걸쳐 길게 펼쳐진 황금빛 ㉢ 모래 해변! 밀려드는 파도에 몸을 맡기고 오르내리는 서핑의 세계를 즐겨보세요.</p> |
|----------------------------------------------------------------------------------------------------------------------------------------------------------------------------------|-----------------------------------------------------------------------------------------------------------------------------------------------------------------------------------|

<보 기>

ㄱ. ㉠은 시간이 흐를수록 바다 쪽으로 확장된다.  
 ㄴ. ㉡은 차별침식을 받아 단단한 암석이 남은 부분이다.  
 ㄷ. ㉢은 파랑과 연안류의 퇴적 작용으로 형성되었다.  
 ㄹ. ㉣은 만입부, ㉤은 돌출부에서 주로 발달한다.

- ① ㄱ, ㄴ    ② ㄱ, ㄷ    ③ ㄴ, ㄷ    ④ ㄴ, ㄹ    ⑤ ㄷ, ㄹ

18. 다음 자료의 (가), (나)에 해당하는 인종(민족)을 표의 A~D에서 고른 것은? (단, A~D는 아프리카계, 원주민, 유럽계, 혼혈인 중 하나임.) [3점]



안데스 산악 지역에 위치한 페루의 작은 마을 꼬따밤바에서는 '피의 축제(야와르 피에스타)'가 열린다. 콘도르를 황소 등에 태우고 투우를 벌이는 전통 축제로, 마을 주민들은 콘도르가 황소를 제압하는 모습을 통해 자신들의 잃어버린 자존심을 회복하는 것이라 여기고 있다. 황소는 정복자인 (가) 을/를 상징하고 콘도르는 (나) 을/를 상징한다.

<주요 국가 인종(민족) 비율> (단위: %)

| 국가 \ 인종(민족) | A  | B  | C  | D  | 기타 |
|-------------|----|----|----|----|----|
| 아르헨티나       | -  | -  | 97 | -  | 3  |
| 볼리비아        | 30 | 55 | 15 | -  | -  |
| 멕시코         | 60 | 30 | 9  | -  | 1  |
| 자메이카        | 6  | -  | -  | 92 | 2  |

- (CIA, 2011)
- |         |         |         |
|---------|---------|---------|
| (가) (나) | (가) (나) | (가) (나) |
| ① A C   | ② B D   | ③ C A   |
| ④ C B   | ⑤ D A   |         |

19. 다음 자료의 A~C에 대한 옳은 설명을 <보기>에서 고른 것은? [3점]

세계의 독특한 음식 문화

A 은/는 중앙아시아 초원과 아라비아 사막을 누비던 유목민들이 유류를 식료재에 끼워 간단하게 요리해 먹던 것이 발전하여 터키의 대표적인 음식이 되었는데, 빵과 곁들여 한 끼 식사로 애용된다.

B 은/는 과거 에스파냐가 이슬람 세력의 지배를 받았을 때 서남아시아 지역으로부터 전해온 쌀과 샤프란 향료에 에스파냐의 해산물과 다양한 식재료들이 더해진 전통 음식이다.

C 은/는 베트남에서 즐겨 먹는 면 요리로, 소나 닭의 뼈를 고아 만든 국물에 삶은 면을 넣고 숙주나물과 고수 잎 등을 얹어 먹는다.

<보 기>

ㄱ. A의 주재료는 전통적으로 돼지고기이다.  
 ㄴ. B는 음식 문화의 융합 사례이다.  
 ㄷ. C는 면의 재료로 쌀을 이용한다.  
 ㄹ. A~C 모두 농경 문화에서 비롯된 음식이다.

- ① ㄱ, ㄴ    ② ㄱ, ㄷ    ③ ㄴ, ㄷ    ④ ㄴ, ㄹ    ⑤ ㄷ, ㄹ

20. (가)~(다) 축제가 개최되는 지역을 지도의 A~E에서 고른 것은?

|     |                                                                                               |
|-----|-----------------------------------------------------------------------------------------------|
| (가) | 식민지에 이주해 온 사람들의 다양한 문화가 결합된 축제로 매년 2월 말 사람들은 화려한 의상을 입고 정열적인 삼바 춤을 추면서 시가지를 행진한다.             |
| (나) | 사람들이 행운을 비는 의미로 서로에게 물을 뿌리면서 더위를 식히고 풍작을 기원하며 매년 4월 건기에서 우기로 넘어가는 시기에 열리는 축제이다.               |
| (다) | 일 년 중 낮이 가장 긴 6월 하순경에 열리는 축제로 20시간이나 되는 낮 동안 마을 광장에 꽃, 리본 등으로 장식한 기둥을 세우고 춤을 추며 늦게까지 축제를 즐긴다. |



- |             |             |
|-------------|-------------|
| (가) (나) (다) | (가) (나) (다) |
| ① A B C     | ② A D B     |
| ③ B E D     | ④ E B A     |
| ⑤ E C A     |             |

\* 확인 사항  
 ○ 답안지의 해당란에 필요한 내용을 정확히 기입(표기)했는지 확인 하시오.