

제 4 교시

사회탐구 영역 (사회 · 문화)

1. 밑줄 친 ㉠~㉣과 같은 현상의 일반적인 특징에 대한 설명으로 옳은 것은?

○○신문 ○○○○년 ○○월 ○○일

단풍 발걸음 붙잡는 가을 늦더위

첫 단풍의 시기가 예년에 비해 1~4일 늦어질 것이라는 기상청의 ㉠ 단풍 예상 시기 발표가 있었다. 9월의 ㉡ 기온이 높을수록 첫 단풍의 시기는 늦어진다. 최근 들어 각 지역의 ㉢ 단풍 축제는 늦게 물든 단풍의 영향으로 예년보다 시기가 늦어지는 추세이다.

- ① ㉠과 같은 현상은 몰가치적이다.
- ② ㉡과 같은 현상은 당위 법칙의 지배를 받는다.
- ③ ㉢과 같은 현상은 확실성의 원리가 적용된다.
- ④ ㉠과 같은 현상은 ㉡과 같은 현상과 달리 개연성으로 설명된다.
- ⑤ ㉡과 같은 현상은 ㉢과 같은 현상과 달리 특수성이 강하게 나타난다.

2. 다음 두 사례에 공통적으로 부각되어 있는 문화의 속성에 대한 옳은 설명만을 <보기>에서 있는 대로 고른 것은? [3점]

- 갑국에서는 가족 내 최고령자의 생일이 되면 후손들이 장남의 집에 함께 모여 성대하게 잔치를 여는 것을 당연하게 생각해왔다. 과거에는 후손들이 직접 조리하여 음식을 장만해 왔지만, 오늘날에는 과거의 풍습이 사라지고 후손들이 조리된 음식을 주문하여 잔치를 한다.
- 을국에서는 여자가 청혼하는 것이 예전부터 내려온 풍습이었다. 모계 중심 사회인 을국에서는 결혼 적령기의 여성들이면 누구나 결혼 상대를 선택해 청혼하는 것을 마땅히 해야 할 일로 여겼다. 그러나 최근 서구 청혼 문화의 유입으로 남자가 청혼을 하는 경우가 보편화되고 있다.

<보 기>

- ㄱ. 문화는 구성원의 행위를 예측 가능하게 한다.
- ㄴ. 문화의 양상은 시간의 흐름에 따라 변화한다.
- ㄷ. 문화는 세대 간 전승을 통해서 보다 다양하고 풍부해진다.
- ㄹ. 문화의 각 구성 요소들은 상호 유기적으로 연관되어 있다.

- ① ㄱ, ㄴ ② ㄱ, ㄷ ③ ㄷ, ㄹ
- ④ ㄱ, ㄴ, ㄷ ⑤ ㄴ, ㄷ, ㄹ

3. (가)~(라)는 한 연구 단계를 순서 없이 나열한 것이다. 이에 대한 설명으로 옳은 것은?

- (가) 수집된 자료를 통계 처리 프로그램을 활용하여 변수 간의 상관관계 분석
- (나) 청소년의 스마트폰 사용과 학업 성취도 간의 관계에 대한 연구 주제 선정
- (다) 스마트폰 사용 시간이 적은 청소년일수록 학업 성취도가 높을 것이라는 잠정적 결론 도출
- (라) A지역 여자 고등학생 1,000명을 대상으로 설문 조사 실시 및 학업 성취도 평가 결과의 수집

- ① (가)에서는 연구자의 가치 개입이 요구된다.
- ② (나)에서는 비윤리적인 연구 주제를 선정하였다.
- ③ (다)에서의 가설은 변수 간 관계가 분명하게 설정되었다.
- ④ (라)에서의 표본 집단은 모집단에 대한 대표성을 갖는다.
- ⑤ 일반적으로 (나)→(라)→(가)→(다)의 순서로 연구가 진행된다.

4. 밑줄 친 ㉠~㉣에 대한 설명으로 옳은 것은? [3점]

학자 갑은 ㉠ 청소년들의 사회봉사 경험 정도가 타인에 대한 배려심의 함양에 얼마나 영향을 미치는지 알아보기 위해서 연구를 진행하였다. 먼저, A지역 중·고등학교 중 ㉡ 20개 교에서 2,000명을 대상으로 ㉢ 설문 조사를 진행하였다. 이후, B지역 한 학교에서 60명을 선발하고 성적, 성별, 가정환경 등의 특성을 고려하여 ㉣ 두 집단으로 나누어 실험을 진행하였다. 3개월 간 한 집단은 이전과 다름없이 생활하게 하였고, ㉤ 다른 집단은 사회봉사 활동에 참여하게 하였다.

- ① ㉠은 종속 변수에 해당한다.
- ② ㉡은 통제 집단이다.
- ③ ㉢은 실험 집단을 대상으로 사전 검사를 수행한 것이다.
- ④ ㉣의 특성이 이질적일수록 연구의 신뢰도는 높아진다.
- ⑤ ㉤은 독립 변수를 실험 처치한 것이다.

5. 개인과 사회의 관계를 바라보는 학자 A의 관점에 대한 일반적인 특징을 옳게 평가한 학생은?

학자 A: 비만은 개인의 의지와 노력의 문제가 아니라, 사회 · 경제적인 조건과 구조적인 환경의 산물이다.

특징	학생	갑	을	병	정	무
극단적인 개인주의로 빠질 우려가 있다.		×	×	×	○	○
사회 문제의 해결책으로 개인의 의식 개혁을 강조한다.		×	×	○	○	○
인간의 주체적이고 능동적인 행위를 설명하기에 곤란하다.		○	○	○	×	○
사회 구조에 의해 결정되는 개인의 사고와 행동을 설명하기에 용이하다.		○	×	×	○	×

(맞음-○, 틀림-×)

- ① 갑 ② 을 ③ 병 ④ 정 ⑤ 무

6. (가), (나)가 속한 사회 보장 제도 유형의 일반적인 특징에 대한 설명으로 옳은 것은?

(가)	(나)
<ul style="list-style-type: none"> 대상: 부양을 받을 수 없는 자로, 중위 소득을 기준으로 소득 인정액이 일정 금액 이하인 경우 내용: 생계 · 주거 · 교육 · 의료 급여 등 제공 재원: 국가 전액 부담 	<ul style="list-style-type: none"> 대상: 모든 국민 내용: 국민 상호 간 질병, 부상 등 위험을 분담, 필요한 의료 서비스를 받을 수 있도록 함 재원: 가입자, 사용자, 국가 공동 부담

- ① (가)는 (나)와 달리 소득 재분배 효과가 나타나지 않는다.
- ② (나)는 (가)에 비해 상호 부조의 성격이 강하다.
- ③ (가)는 강제 가입, (나)는 임의 가입 방식이 적용된다.
- ④ (가)는 위험에 대한 사전 예방적 성격, (나)는 사후 처방적 성격을 갖는다.
- ⑤ (가), (나) 모두 비금전적 지원을 원칙으로 한다.

7. 사회화를 바라보는 갑~병 관점의 일반적인 특징에 대한 설명으로 옳은 것은? [3점]



- ① 갑은 사회화를 통한 사회 통합 기능을 소홀히 여긴다.
- ② 을은 사회화를 기득권층의 이익을 강화하는 수단으로 본다.
- ③ 병은 사회 구조가 개인의 사회화에 미치는 영향력이 절대적이라고 본다.
- ④ 을은 갑과 달리 사회화를 사회 유지를 위한 필수 요소로 본다.
- ⑤ 을은 병에 비해 사회화 과정에서 개인의 능동성을 강조한다.

8. 밑줄 친 ㉠~㉣에 대한 설명으로 옳은 것은?

폭주족 문화에 대한 연구

Ⅰ. 연구 목적

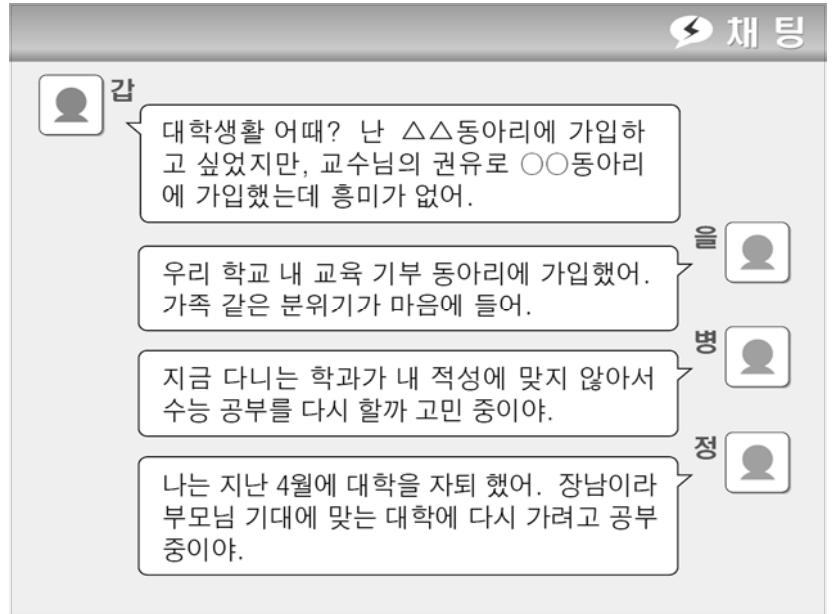
폭주족이 가지고 있는 ㉠ 반(反)문화적 특징과 ㉡ 주류 문화와 대립하고 있는 양상을 살펴본다. 또한 비교 연구를 통해 ㉢ 대중매체에서 다루는 폭주족의 이미지와 실제 폭주족들의 생활 모습의 차이를 살펴보고 그 이유를 이해하고자 한다.

Ⅱ. 조사 방법

- 폭주족 근절 캠페인 활동 중인 ㉣ 문화인 연합 대표와 인터뷰
- 폭주족들을 관찰하여 그들만이 가진 ㉣ 규범이나 가치 등을 도출

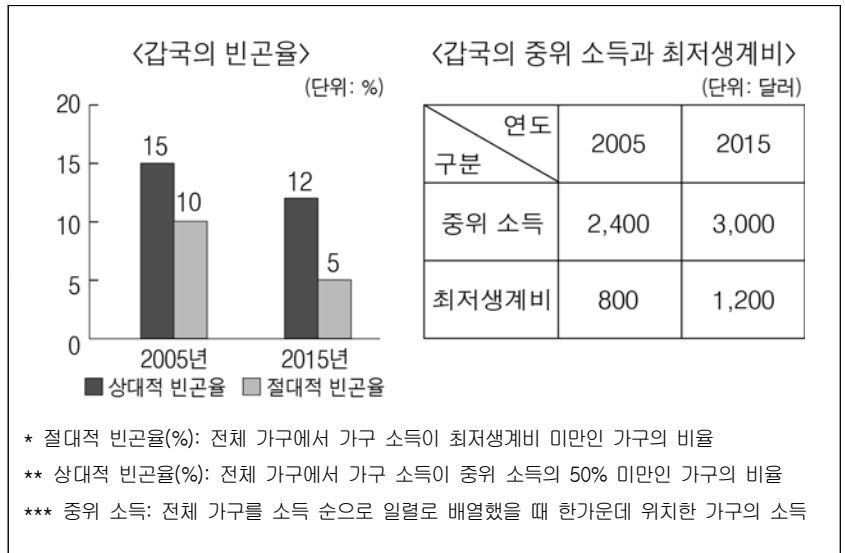
- ① ㉠은 ㉡에 대해 저항적 성격을 갖는다.
- ② ㉢이 현대 대중문화에 미치는 영향력은 약화되고 있다.
- ③ ㉣은 넓은 의미의 문화로 사용되었다.
- ④ ㉢과 같은 문화 요소는 물질문화에 해당한다.
- ⑤ ㉢에 비해 ㉣의 발달이 늦은 것을 문화지체라고 한다.

9. 다음 갑~정의 대화에서 나타난 사회학적 개념에 대한 설명으로 옳은 것은? [3점]



- ① 갑의 소속 집단과 준거 집단은 일치한다.
- ② 을은 공동 사회 내부에서 1차적 인간관계를 느끼고 있다.
- ③ 병은 역할 갈등을 경험하고 있다.
- ④ 갑과 정의 모든 지위는 성취 지위이다.
- ⑤ 갑, 을, 병의 소속 집단은 모두 이익 사회에 해당한다.

10. 자료에 대한 옳은 분석을 <보기>에서 고른 것은? (단, 갑국의 전체 가구 수의 변화는 없으며, 모든 가구의 구성원 수는 동일하다.) [3점]



- <보 기> —
- ㄱ. 2015년 전체 가구 중 소득 1,200달러 이상 3,000달러 미만인 가구의 비율은 5% 미만이다.
 - ㄴ. 2005년의 상대적 빈곤율과 2015년의 절대적 빈곤율은 일치한다.
 - ㄷ. 2005년보다 2015년의 최상위 소득과 최저생계비 간의 격차가 더 크다.
 - ㄹ. 2015년 대비 2005년의 절대적 빈곤에 해당하는 갑국의 인구는 2배이다.

- ① ㄱ, ㄴ
- ② ㄱ, ㄷ
- ③ ㄴ, ㄷ
- ④ ㄴ, ㄹ
- ⑤ ㄷ, ㄹ

11. 밑줄 친 내용에 대한 옳은 추론을 <보기>에서 고른 것은?

○○기업 사내 게시판

우리 회사는 현행 조직 체제의 문제점을 보완하기 위해 다음과 같이 조직 개선안을 알리고, 이를 시행 하고자 합니다.

현행	개선안
피라미드형 조직	네트워크형 조직
경력에 따른 호봉제	능력에 따른 성과급제
중앙집권식 의사결정	의사결정권의 분산

<보 기>

ㄱ. 권한과 책임의 소재가 불명확하다.
 ㄴ. 표준화되고 안정적인 과업수행이 어렵다.
 ㄷ. 새로운 변화에 신속하고 유연하게 대처하지 못한다.
 ㄹ. 연공서열에 따른 보상체제로 무사안일주의가 유발된다.

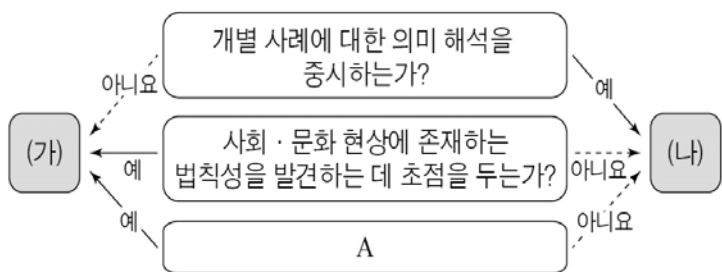
- ① ㄱ, ㄴ ② ㄱ, ㄷ ③ ㄴ, ㄷ ④ ㄴ, ㄹ ⑤ ㄷ, ㄹ

12. 다음 글의 (가)~(다)는 문화 이해 태도이다. 이에 대한 설명으로 옳은 것은?

문화 이해 태도는 서로 다른 사회의 문화를 이해의 대상으로 바라보는 (가)와 우열 평가의 대상으로 간주하는 (나), (다)로 구분할 수 있다. (가)는 각 사회의 문화가 갖는 고유한 의미와 가치를 인정한다. 반면 (나)는 자기 문화를 가장 우수한 문화로 간주하고, (다)는 강대국이나 선진국의 문화를 우수한 것으로 보고 자기 문화를 평가 절하한다.

- ① (가)는 근대 사회의 서구 제국주의 가치관에 부합한다.
 ② (다)의 대표적 사례로 중국인이 가진 ‘중화사상’을 들 수 있다.
 ③ (가)는 (나)에 비해 다른 사회에 자기 문화의 수용을 강요할 가능성이 크다.
 ④ (나)는 (다)에 비해 타문화와의 접촉 과정에서 문화적 갈등을 유발할 가능성이 크다.
 ⑤ (다)는 (나)에 비해 민족 문화의 온전한 계승이 용이하다.

13. 그림의 (가), (나)는 사회·문화 현상의 연구 방법이다. 이에 대한 설명으로 옳은 것은? [3점]



- ① (가)는 (나)에 비해 연구 결과를 일반화하기에 용이하다.
 ② (가)는 (나)와 달리 경험적 자료를 바탕으로 연구를 진행한다.
 ③ (나)는 (가)와 달리 연구 대상에 대한 개념의 조작적 정의가 이루어진다.
 ④ (가)는 귀납적, (나)는 연역적 방법으로 연구하는 것이 일반적이다.
 ⑤ A에 들어갈 질문으로 ‘연구 대상자의 주관적 상황 인식을 중시하는가?’가 적절하다.

14. (가), (나)에 나타난 자료 수집 방법의 일반적인 특징을 그림과 같이 표현할 때, A와 B에 들어갈 내용으로 적절한 것은?

(가) 돌봄 교실의 프로그램 만족도를 알아보기 위해 학교 홈페이지에 팝업창을 띄우고 설문 조사를 실시하였다.
 (나) 돌봄 교실에 참여한 학생들의 학습 시간 활용 행태를 알아보기 위해 그들과 함께 프로그램에 참여하여 행동을 관찰하였다.

- | | |
|------------------|----------------|
| A | B |
| ① 분석 기준의 명확성 | 통계 분석의 용이성 |
| ② 양적 자료로 활용 가능성 | 가설 검증의 용이성 |
| ③ 자료의 실제성 확보 가능성 | 시간과 비용의 경제성 |
| ④ 문맹자에 대한 활용 용이성 | 질적 자료로 활용 가능성 |
| ⑤ 계량화된 자료 수집 용이성 | 연구자의 주관 개입 가능성 |

15. 일탈 행동을 바라보는 갑~병의 이론적 관점에 대한 설명으로 옳은 것은? [3점]

Q&A 여러분의 고민을 남겨 주세요.

Q: 우리 아이가 한 번 가출을 하고 돌아오더니 부모 말도 듣지 않고 이제는 등교까지 거부하고 있어요. 왜 이럴까요?

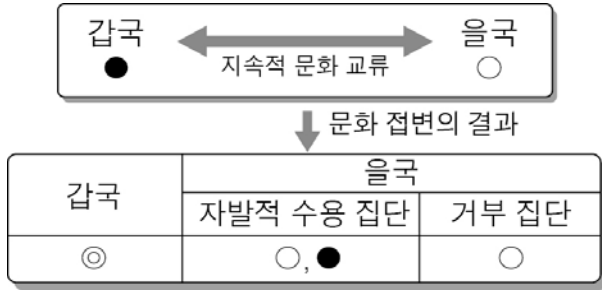
갑: 주변의 친구들을 잘 살펴보세요. 가출에 앞서 비행 청소년들과 어울려 그들의 생활방식을 그대로 배워왔을 것이고 이후, 가출과 반항으로 이어지고 있는 것입니다.

을: 가출로 인하여 이미 주변에서 덕의 자녀에게 비행 청소년이라는 딱지를 붙인 셈입니다. 어차피 찍힌 상태이니 비행 청소년이라는 인식대로 행동하는 것이죠.

병: 덕의 자녀는 이루고 싶은 사회적 목표가 있을 것입니다. 다만, 그 목표를 달성하기 위해 가출이나 반항과 같은 잘못된 방법을 선택하고 있는 것입니다.

- ① 갑은 일탈자로 규정짓는 사회적 반응이 일탈의 원인으로 작용한다고 본다.
 ② 을은 일탈을 규정하는 객관적 기준이 존재한다고 본다.
 ③ 병은 목표 달성을 위한 제도화된 수단의 제공을 대책으로 제시할 것이다.
 ④ 갑과 을은 급속한 사회 변동으로 인한 혼란이 일탈의 원인으로 작용한다고 본다.
 ⑤ 을은 거시적 관점, 병은 미시적 관점에서 일탈의 원인을 찾고 있다.

16. 그림은 갑국과 을국의 문화 교류와 변동을 나타낸 것이다. 이에 대한 분석으로 옳은 것은? [3점]



* ○, ●, ◎은 서로 다른 형태의 문화 요소이다.
 ** ◎은 ○과 ●이 합하여 만들어진 제3의 형태이다.

- ① 갑국에서는 강제적 문화 접변이 일어났다.
- ② 갑국에서는 문화 접변의 결과로 문화 융합이 나타났다.
- ③ 을국의 자발적 수용 집단에서는 문화 동화가 나타났다.
- ④ 을국의 거부 집단에서는 기존의 문화적 특징을 찾을 수 없다.
- ⑤ 갑국과 달리 을국에서는 자극 전파가 일어났다.

17. 다음은 어떤 학생의 자기소개서 일부이다. 밑줄 친 ㉠~㉣에 대한 설명으로 옳은 것은? [3점]

㉠○○대학교 경영학과에 지원한 것은 ㉡회사를 경영하는 전문가가 되기 위해서입니다. 이를 위해 교내에서는 학생들을 모아 자율적으로 ㉢경제 동아리를 조직하였고, 교외에서는 초등학교 친구들과 함께 ㉣△△동 장바구니 클럽을 만들어 ㉤경제 신문과 재래시장 탐방을 통해 물가 동향을 파악해 보기도 했습니다. 또한 방학 기간 동안 ㉥◇◇환경단체에서 활동한 경험을 바탕으로 연구 보고서도 작성해 보았습니다.

- ① ㉠은 공식적 통제, ㉡는 비공식적 통제가 일반적이다.
- ② ㉢은 공식 조직, ㉣은 비공식 조직에 해당한다.
- ③ ㉤은 비공식적 사회화 기관, ㉥은 공식적 사회화 기관이다.
- ④ ㉣은 ㉠에 비해 2차 집단의 성격이 강하게 나타난다.
- ⑤ ㉣과 ㉥은 모두 자발적 결사체에 해당한다.

18. 사회 불평등 현상을 바라보는 갑, 을 관점의 일반적인 특징에 대한 설명으로 옳은 것은?

뉴스 **임금 근로자 소득 불평등 커졌다. 단순 노무직 임금, 전문직의 1/10 수준**

<p>갑(논설위원) 전문직에 종사하기 위해서는 많은 시간과 비용, 개인적 노력이 필요하다. 전문직을 우대하지 않을 경우 누가 열심히 노력하여 성취를 이루려고 하겠는가?</p>	<p>을(대학교수) 전문직이 단순 노무직에 비해 많은 임금을 받는 이유는 지배 집단이 자신들의 기득권을 유지하기 위해 특정 직업과 과업에 높은 가치를 부여했기 때문이다.</p>
--	---

- ① 갑은 분배 구조의 근본적 개혁이 필요하다고 본다.
- ② 을은 사회 불평등을 극복해야 할 대상으로 본다.
- ③ 갑은 을과 달리 사회 불평등이 권력에 의해 강제적으로 배분된 결과라고 본다.
- ④ 을은 갑과 달리 직업 간 사회적 중요도가 다르다고 본다.
- ⑤ 갑, 을 모두 사회 불평등 현상을 필수 불가결한 것으로 본다.

19. 다음 글에 나타난 '사회적 소수자'에 대한 옳은 설명을 <보기>에서 고른 것은?

독립 이후에 ○○국은 흑인 인구가 백인 인구보다 더 많았지만, 백인 우월주의를 기본으로 하는 정부 정책과 법 규범이 지속되어 흑인에 대한 백인의 차별은 여전하였다. 또한 국가 전체의 80%에 해당하는 부를 소수의 백인이 차지하는 등 소득 불평등 현상도 심각하게 나타났다. 이로 인해, 흑인들 사이에 불합리한 차별을 받고 있다는 의식이 확산되었고, 흑인에 대한 차별을 철폐하기 위하여 집단을 만들어 투쟁하기 시작하였다.

- <보 기>
- ㄱ. 구성원의 수가 적어 불합리한 대우를 받는다.
 - ㄴ. 신체적으로 주류 집단과 구별되는 뚜렷한 차이가 있다.
 - ㄷ. 스스로 차별받는 집단의 구성원이라는 집합적 정체성이 강하다.
 - ㄹ. 정치권력에서는 열세에 있고, 경제적 측면의 영향력에서는 우위에 있다.

- ① ㄱ, ㄴ ② ㄱ, ㄷ ③ ㄴ, ㄷ ④ ㄴ, ㄹ ⑤ ㄷ, ㄹ

20. 다음 자료에 대한 옳은 분석을 <보기>에서 고른 것은? [3점]

A, B국 부모 세대의 계층 간 상대적 비율은 (가)와 같고, 부모 세대 계층 대비 부모와 자녀의 계층이 일치하는 비율은 (나)와 같다. 사회 계층은 상층, 중층, 하층으로만 구성되며, 모든 부모의 자녀는 1명씩이다.

(가) 부모 세대의 계층 간 상대적 비율	(나) 부모 세대 계층 대비 부모와 자녀의 계층이 일치하는 비율																					
(단위: %)																						
<table border="1" style="width: 100%; border-collapse: collapse;"> <tr><th>구분 \ 국가</th><th>A국</th><th>B국</th></tr> <tr><th>중층 대비 하층</th><td>1/1</td><td>2/1</td></tr> <tr><th>중층 대비 상층</th><td>1/2</td><td>1/3</td></tr> </table>	구분 \ 국가	A국	B국	중층 대비 하층	1/1	2/1	중층 대비 상층	1/2	1/3	<table border="1" style="width: 100%; border-collapse: collapse;"> <tr><th>부모 세대 계층 \ 국가</th><th>A국</th><th>B국</th></tr> <tr><th>상층</th><td>40</td><td>60</td></tr> <tr><th>중층</th><td>50</td><td>50</td></tr> <tr><th>하층</th><td>60</td><td>40</td></tr> </table>	부모 세대 계층 \ 국가	A국	B국	상층	40	60	중층	50	50	하층	60	40
구분 \ 국가	A국	B국																				
중층 대비 하층	1/1	2/1																				
중층 대비 상층	1/2	1/3																				
부모 세대 계층 \ 국가	A국	B국																				
상층	40	60																				
중층	50	50																				
하층	60	40																				

- <보 기>
- ㄱ. A국은 세대 간 이동 비율이 대물림 비율보다 높다.
 - ㄴ. A국은 B국보다 세대 간 계층의 대물림 비율이 높다.
 - ㄷ. A국은 B국보다 자녀 세대의 계층 구조가 안정적이다.
 - ㄹ. B국은 A국보다 부모 세대가 중층이면서 자녀 세대도 중층인 비율이 낮다.

- ① ㄱ, ㄴ ② ㄱ, ㄷ ③ ㄴ, ㄷ ④ ㄴ, ㄹ ⑤ ㄷ, ㄹ

* 확인 사항
 ○ 답안지의 해당란에 필요한 내용을 정확히 기입(표기)했는지 확인 하시오.