


제 4 교시

한국사/사회탐구 영역(세계 지리)


성명 수험번호 2

1. (가)~(다) 지역에서 전통적으로 발달한 음식을 <보기>에서 고른 것은?



- | | | | | | | | |
|---|-----|-----|-----|---|-----|-----|-----|
| | (가) | (나) | (다) | | (가) | (나) | (다) |
| ① | ㄱ | ㄴ | ㄷ | ② | ㄱ | ㄷ | ㄴ |
| ③ | ㄴ | ㄱ | ㄷ | ④ | ㄴ | ㄷ | ㄱ |
| ⑤ | ㄷ | ㄱ | ㄴ | | | | |

2. 다음 자료에 나타난 그림의 배경 지역에 대한 적절한 추론을 <보기>에서 고른 것은? [3점]



- < 보 기 >
- ㄱ. 상록 활엽수가 자랄 것이다.
 ㄴ. 강수량보다 증발량이 많을 것이다.
 ㄷ. 대류성 강수 현상이 자주 발생할 것이다.
 ㄹ. 일 년 내내 편서풍의 영향을 받을 것이다.

- ① ㄱ, ㄴ ② ㄱ, ㄷ ③ ㄴ, ㄷ ④ ㄴ, ㄹ ⑤ ㄷ, ㄹ

3. 다음은 신문 기사의 일부이다. (가)와 같은 경향이 확산될 경우 ㉠에서 나타날 변화를 <보기>에서 고른 것은?

사람의 배설물과 음식 쓰레기에서 나오는 바이오 메탄가스를 에너지원으로 하는 바이오 버스가 영국 ㉠ 브리스톨에 등장했다. 버스 지붕 위에 설치된 가스탱크 하나의 분량은 5명이 1년간 배출한 배설물에서 얻을 수 있으며, 이 분량으로는 최대 300 km까지 주행할 수 있다고 한다. 관계자에 따르면 매월 1만여 명의 승객이 (가) 디젤 버스 대신 바이오 버스를 이용할 것이라고 한다.

측면을 번기에 앉은 승객 그림으로 디자인한 바이오 버스

- ○○신문, 2014. 11. 21 -

- < 보 기 >
- ㄱ. 평균 기온이 상승할 것이다.
 ㄴ. 생물 종의 다양성이 감소할 것이다.
 ㄷ. 이산화 탄소 배출량이 줄어들 것이다.
 ㄹ. 신·재생 에너지 생산량이 증가할 것이다.

- ① ㄱ, ㄴ ② ㄱ, ㄷ ③ ㄴ, ㄷ ④ ㄴ, ㄹ ⑤ ㄷ, ㄹ

4. 다음 자료는 어떤 미국 드라마에 대한 설명이다. ㉠과 같은 결정에 고려된 요인으로 적절하지 않은 것은? [3점]

주인공 '토드'는 콜센터* 매니저 교육을 받고 회사로 돌아온다. 그런데 미국 내 콜센터 업무를 축소하기로 한 회사는 ㉠ 늦은 밤 콜센터로 걸려오는 전화 처리 업무를 지구 반대편에 위치한 인도의 신설 콜센터에서 처리하기로 결정하였다. 결국 인도로 가서 매니저 일을 하게 된 토드, 낯선 환경 속에서 과연 인도 직원들과 함께 콜센터를 잘 이끌 수 있을까?

* 콜센터: 고객의 민원을 처리하는 전화 상담실

- ① 미국과 인도의 시차
 ② 미국과 인도의 임금 수준 차이
 ③ 인도인의 우수한 영어 구사 능력
 ④ 미국과 인도의 종교 문화적 동질성
 ⑤ 통신 기술 발달로 낮아진 국제 통화 비용

5. (가)~(다) 축제에 대한 옳은 설명을 <보기>에서 고른 것은?



< 보 기 >
 ㄱ. (가)는 아름다운 지형 경관을 소개하는 축제이다.
 ㄴ. (나)는 지역의 특산물을 축제의 소재로 삼고 있다.
 ㄷ. (다)는 눈이 많은 지역의 겨울철 특성을 활용한다.
 ㄹ. (가), (다)는 북반구, (나)는 남반구에서 개최된다.

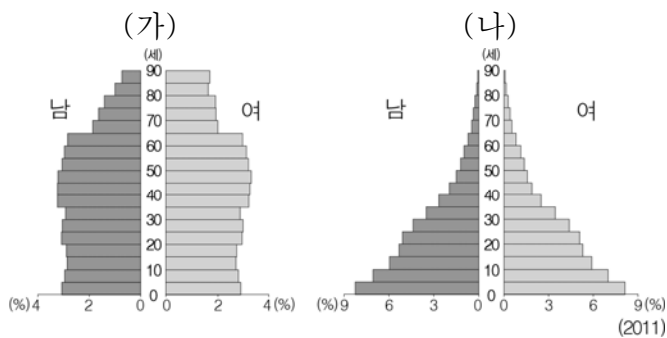
- ① ㄱ, ㄴ ② ㄱ, ㄷ ③ ㄴ, ㄷ ④ ㄴ, ㄹ ⑤ ㄷ, ㄹ

6. 다음 글의 ㉠이 활발해질 경우에 나타날 변화로 가장 적절한 것은?

커피, 카카오 등의 기호 작물은 주로 개발 도상국에서 재배되어 선진국으로 수출된다. 선진국의 대형 유통 업체는 계약 재배를 통하여 농민들로부터 낮은 가격에 기호 작물을 구입한다. 이렇게 구입된 기호 작물은 가공 및 유통 과정을 거치면서 높은 가격으로 판매된다. 이러한 문제를 해결하기 위해, 직거래를 통해 농민들에게는 정당한 대가를 지급하고 소비자들에게는 친환경적인 상품을 저렴하게 제공하려는 ㉠공정 무역 운동이 등장하였다.

- ① 개발 도상국의 환경 오염이 심화된다.
 ② 개발 도상국 농민들의 소득이 증대된다.
 ③ 선진국 대형 유통 업체의 이익이 증가한다.
 ④ 기호 작물의 가공 및 유통 단계가 늘어난다.
 ⑤ 개발 도상국과 선진국의 무역 불균형이 심화된다.

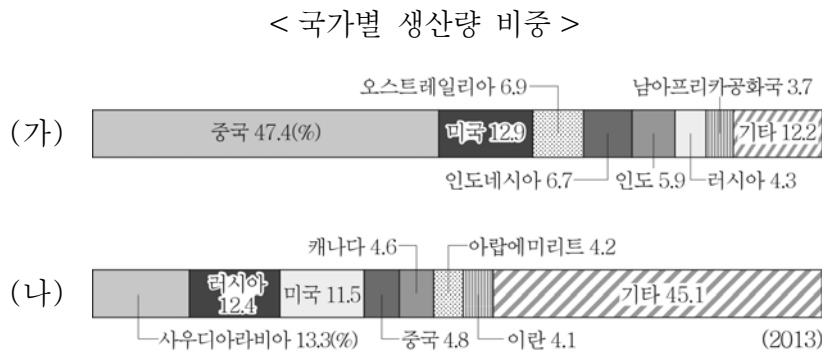
7. 그래프는 두 국가의 인구 피라미드이다. (가) 국가와 비교한 (나) 국가의 상대적 특성을 <보기>에서 고른 것은?



< 보 기 >
 ㄱ. 출생률이 낮다.
 ㄴ. 평균 기대 수명이 짧다.
 ㄷ. 1인당 국내 총생산이 높다.
 ㄹ. 3차 산업 종사자 비율이 낮다.

- ① ㄱ, ㄴ ② ㄱ, ㄷ ③ ㄴ, ㄷ ④ ㄴ, ㄹ ⑤ ㄷ, ㄹ

8. (가), (나) 화석 에너지 자원으로 옳은 것은?



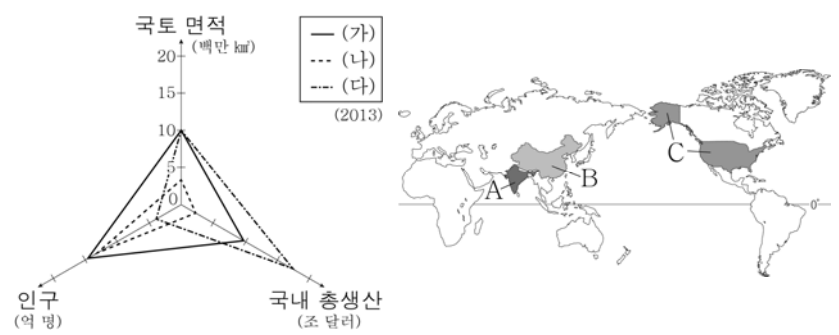
- (가) (나) (가) (나)
 ① 석유 석탄 ② 석유 천연가스
 ③ 석탄 석유 ④ 석탄 천연가스
 ⑤ 천연가스 석유

9. 다음은 학생들의 대화 장면이다. ㉠~㉣에 대하여 옳게 말한 학생을 고른 것은? [3점]




- ① 갑, 을 ② 갑, 병 ③ 을, 병 ④ 을, 정 ⑤ 병, 정

10. 그래프의 (가)~(다) 국가를 지도의 A~C에서 고른 것은? [3점]



- (가) (나) (다) (가) (나) (다)
 ① A B C ② A C B
 ③ B A C ④ B C A
 ⑤ C A B


11. 다음 글은 어느 학생이 친구에게 보내는 영상 편지이다. ㉠~㉡ 중 옳지 않은 것은? [3점]



주희야 안녕. 나는 이번 겨울 방학에 남극 대륙 탐방 대원으로 선발되어 장보고 과학 기지에 왔어. 여기는 ㉠ 일 년 내내 월평균 기온이 0℃ 미만일 정도로 춥지만 이곳의 계절로 보면 ㉡ 지금이 일 년 중 가장 기온이 높은 시기라고 해. 기지 주변을 돌아다니는 ㉢ 펭귄의 모습과 ㉣ 유목민들이 순록을 데리고 이동하는 모습은 정말 보기 좋았어. 그리고 무엇보다 신기했던 것은 ㉤ 하루 종일 해가 지지 않는 것을 경험한 거야. 한국으로 돌아가면 이곳에서의 경험을 더 많이 전해 줄게.

- ① ㉠ ② ㉡ ③ ㉢ ④ ㉣ ⑤ ㉤

12. 다음 자료의 (가)에 들어갈 내용으로 옳은 것은?



오스트레일리아 남부 해안에 있는 '열두 제자 바위'는 그 일부가 바닷속으로 자취를 감췄다. 이는 (가) 때문이다.

- ① 단층 작용 ② 파랑의 침식 작용
 ③ 조류의 퇴적 작용 ④ 빙하의 침식 작용
 ⑤ 지반 융기에 의한 해수면 하강

13. 다음 자료와 관련된 (가), (나) 지역의 공통된 특성을 <보기>에서 고른 것은? [3점]



지진 대피소 위치 안내문 해변에 설치된 지진 해일 경고판

< 보 기 >


㉠. 지각이 불안정한 지역이다.
 ㉡. 판의 경계 가까운 곳에 위치해 있다.
 ㉢. 오랜 침식을 받아 평탄해진 지형이 발달한다.
 ㉣. 고생대의 조산 운동으로 형성된 산맥이 분포한다.


- ① ㉠, ㉡ ② ㉠, ㉢ ③ ㉡, ㉣ ④ ㉢, ㉣ ⑤ ㉢, ㉣


14. 지도는 두 종교의 국가별 신도 수를 나타낸 것이다. (가), (나)의 종교 경관에 해당하는 것을 <보기>에서 고른 것은?



< 보 기 >

㉠. 

㉡. 

㉢. 

- | | | | |
|-----|-----|-----|-----|
| (가) | (나) | (가) | (나) |
| ① ㉠ | ㉡ | ② ㉠ | ㉢ |
| ③ ㉡ | ㉠ | ④ ㉡ | ㉢ |
| ⑤ ㉢ | ㉠ | | |

15. 다음은 세계 지리 수업 장면의 일부이다. 발표 내용이 옳은 학생을 고른 것은? [3점]

대륙의 위치가 다르게 배치된 (가), (나)는 현재 서로 다른 지역에서 주로 사용되는 세계 지도입니다. 이에 대해 말해 보세요.

(가)

(나)

갑

(가)는 태평양, (나)는 대서양을 중심으로 그렸어요.

을

(가), (나)는 모두 지도의 위쪽을 남쪽으로 인식했어요.

병

(가), (나)는 세계의 중심에 대한 지역간의 인식 차이가 반영된 것 같아요.

정

유럽에서는 (나)보다 (가)를 주로 사용할 것 같아요.

- ① 갑, 을 ② 갑, 병 ③ 을, 병 ④ 을, 정 ⑤ 병, 정

16. 다음 글의 ‘이 국가’를 지도의 A~E에서 고른 것은? [3점]

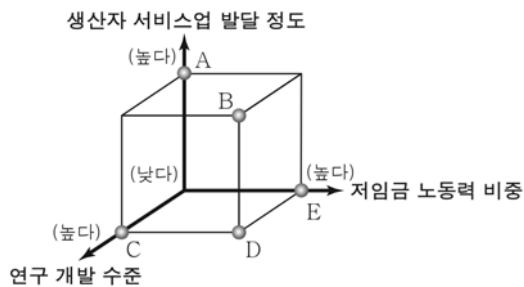
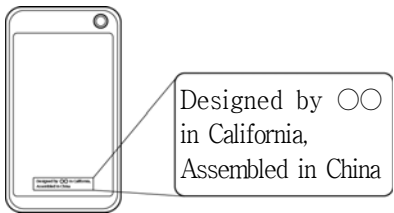
이 국가는 유럽에서 설탕이 들어간 홍차가 인기를 끌 때
는 설탕 원료가 되는 작물의 세계적 생산지였다. 19세기에
카페가 유행하자 전 세계 커피의 절반을 생산했으며, 자동차
가 발명되자 천연고무의 공급지가 되었다. 최근에는 햄버거
소비량이 증가하면서 소 사육지가 확대되었고, 이 과정에서
삼림이 목초지로 바뀌어 넓은 면적의 원시림이 사라졌다.



- ① A ② B ③ C ④ D ⑤ E

17. 다음 자료의 ㉠ 지역과 비교한 ㉡ 지역의 상대적 특성을 그래프의 A~E에서 고른 것은? [3점]

미국 ○○사의 스마트폰은
제품의 디자인과 조립이 서로 다른 지역에서 이루어진다. 신제품 개발, 제품 설계, 디자인, 마케팅 관련 부서는
㉠ 미국 캘리포니아에 있으며, 부품을 조립하는 공장은 ㉡ 중국 선전에 있다.



- ① A
② B
③ C
④ D
⑤ E

18. 다음 자료의 (가)에 들어갈 내용으로 가장 적절한 것은?

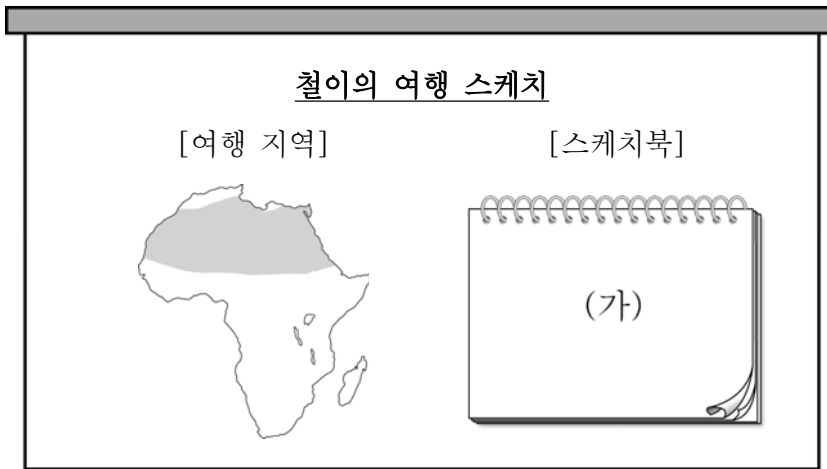
보고서 주제: _____ (가)

- 사례 1: 일본 방위청이 있던 곳을 새롭게 고급 주상 복합 공간으로 만들어낸 도쿄 미드타운 (Tokyo Midtown)
- 사례 2: 폐쇄된 철도를 철거하지 않고 공원 및 쉼터와 문화 공간으로 변모시킨 뉴욕 맨해튼의 하이 라인 파크(High Line Park)



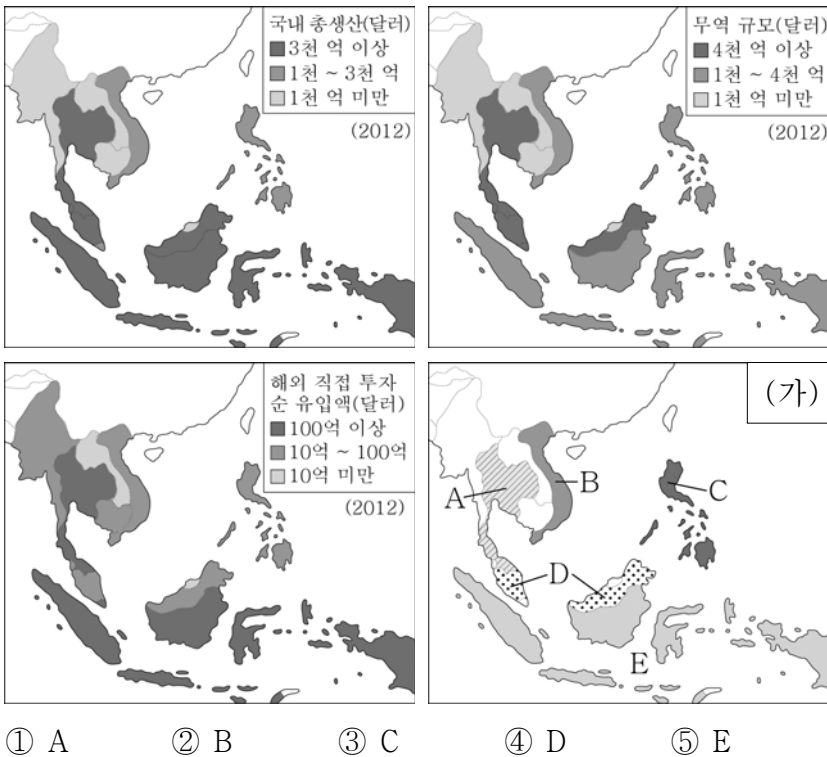
- ① 도심 지역의 재활성화
② 도시 인구 비율의 감소 현상
③ 도시의 수용력을 초과한 인구 집중
④ 도시 외곽으로의 거주지 확산 현상
⑤ 수위 도시로의 인구와 산업의 과도한 집중

19. 다음 자료의 (가)에 들어갈 내용으로 옳지 않은 것은? [3점]



20. 다음 <조건>을 모두 만족하는 국가에 어느 은행이 지사를 설립하고자 한다. 최종 후보 국가를 (가)의 A~E에서 고른 것은?

<조건>
○ 국내 총생산(GDP) 3천 억 달러 이상
○ 무역 규모 4천 억 달러 이상
○ 해외 직접 투자 순 유입액 100억 달러 이상



※ 확인 사항
○ 답안지의 해당란에 필요한 내용을 정확히 기입(표기)했는지 확인하십시오.