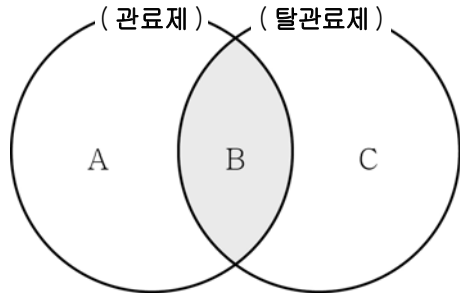


한국사/사회탐구 영역 [사회·문화]

6. 그림은 관료제와 탈관료제의 공통점과 차이점을 나타낸 것이다. A~C 영역에 해당되는 특징으로 옳지 않은 것은? [3점]



- ① A - 수직적 위계 서열 강조
- ② A - 업무의 세분화와 표준화 추구
- ③ B - 연공서열에 따른 보상 체계 중시
- ④ C - 상향식 의사 결정 방식 중시
- ⑤ C - 외부 환경 변화에 대한 신속한 대응 추구

7. 밑줄 친 ㉠~㉤에 대한 설명으로 옳은 것은? [3점]

직장에서 은퇴한 갑은 ㉠ 영농 기술 학교를 수료한 후 고향으로 내려와 ㉡ 귀농인으로 새로운 삶을 시작하였다. 처음 2년 동안은 모든 것이 서툴러 어려움이 많았지만, ㉢ 군청의 귀농 지원 센터와 지역 주민들로부터 ㉣ 영농 기법을 배워 이제는 안정적으로 농사를 짓게 되었다. 이후 갑은 ㉤ 사물놀이 동호회에 가입하여 주민 축제에도 참가하고, 지역민들을 위한 재능 기부 활동도 하고 있다.

- ① ㉠은 1차적 사회화 기관이다.
- ② ㉡은 귀속 지위이다.
- ③ ㉢은 자발적 결사체이다.
- ④ ㉣은 재사회화에 해당한다.
- ⑤ ㉤은 비공식 조직에 해당한다.

8. 표는 산업 사회와 정보 사회를 특징에 따라 구분한 것이다. 이에 대한 설명으로 옳지 않은 것은? (단, A, B는 각각 산업 사회와 정보 사회 중 하나이다.)

질문	A	B
쌍방향 매체의 이용이 일상화되는가?	아니요	예
(가)	아니요	예
다품종 소량 생산 방식이 중시되는가?	(나)	(다)

- ① (가)에는 “제조업의 비중이 가장 높은가?”가 들어갈 수 있다.
- ② (나)에는 ‘아니요’, (다)에는 ‘예’가 들어가는 것이 적절하다.
- ③ A에서는 도시화가 확산된다.
- ④ A보다 B에서 개인의 창의성이 더 중시된다.
- ⑤ A보다 B에서 가정과 일터의 통합 정도가 높다.

9. 밑줄 친 ㉠~㉤에 대한 설명으로 옳지 않은 것은?

노인 민속 한마당 개최

[행사 목적]


- ㉠ 민족 문화의 계승과 발전
- 전통 체험을 통한 우리 ㉡ 문화 이해 증진

[참가 대상] 65세 이상 노인과 그 가족

[행사 종목] ㉢ 수목화, 윷놀이, 연 만들기, ㉣ 짚신 만들기

※ 우리 시청 홈페이지의 ‘㉤ 노인 문화도 우리 ㉥ 지역 문화’ 참고

주최: □□도 ○○시



- ① ㉠은 다른 문화와의 접촉을 통해 변동될 수 있다.
- ② ㉡은 한 사회의 모든 생활양식을 가리킨다.
- ③ ㉢은 인간의 심미적 욕구로 인해 창조된 결과물이다.
- ④ ㉣은 문화의 요소 중 기술에 해당한다.
- ⑤ 우리 사회에서 ㉤은 ㉥과 달리 하위문화로 간주된다.

10. 표는 어느 연구 사례를 요약한 것이다. 이에 대한 분석 및 추론으로 옳은 것은? [3점]

연구 주제	청소년들의 관계 형성 과정에서 나타나는 스마트폰의 역할에 대한 심층적 이해
연구 설계	(가)
자료 수집	○○ 고등학교 학생 10명을 대상으로 면접 실시
자료 처리 및 해석	(나)
결론	청소년들은 스마트폰을 활용하여 활발하게 정보를 생산, 공유, 소비함으로써 또래 집단 구성원 간의 친밀감을 형성하였다.

- ① 방법론적 이원론에 입각하여 연구가 수행되었다.
- ② 연구 주제에 부합하지 않는 자료 수집 방법이 활용되었다.
- ③ 변수와 변수 간의 인과 관계를 밝히기 위한 자료가 수집되었을 것이다.
- ④ (가)에는 개념의 조작적 정의와 관련된 내용이 들어간다.
- ⑤ (나)에는 가설 검증과 관련된 내용이 들어간다.

[사회·문화] 한국사/사회탐구 영역

11. 사회·문화 현상을 바라보는 갑, 을의 관점에 대한 옳은 설명을 <보기>에서 고른 것은?

갑: 자본가 계급이 자신들의 경제적 이득을 위해 부당하게 노동자를 대량 해고하고 신규 고용을 줄이고 있기 때문에 실업 문제가 심각해지고 있다.
 을: 실업 문제는 사회 변동 과정에서 노동의 수요와 공급이 일치하지 않아 발생하는 일시적인 현상이다. 정부, 기업, 개인이 자신들이 맡은 역할을 성실히 수행한다면 실업 문제는 해결될 수 있다.

— < 보 기 > —
 ㄱ. 갑은 계급 간 갈등이 필연적이라고 본다.
 ㄴ. 을은 차등 보상을 사회적 합의의 산물이라고 본다.
 ㄷ. 갑은 을보다 사회 질서와 안정을 중시한다.
 ㄹ. 을은 갑과 달리 거시적 관점을 취하고 있다.

- ① ㄱ, ㄴ ② ㄱ, ㄷ ③ ㄴ, ㄷ ④ ㄴ, ㄹ ⑤ ㄷ, ㄹ

12. 사회화를 바라보는 다음 필자의 관점에 부합하는 진술로 옳은 것은?

유아들은 주변 인물들의 행동을 모방함으로써 사회적 존재로 성장한다. 아이들은 어른들이 음식을 만드는 과정을 본적이 있기 때문에 진흙 파이를 만들게 되며, 누군가가 삼으로 정원을 손질하는 것을 관찰한 적이 있으므로 손가락으로 흙을 파내게 된다. 아이들은 단순한 모방에서 시작하여 또래 집단과의 소꿉놀이 등을 통해 자신들에게 중요하다고 생각되는 어른 역할을 흉내 내는 복잡한 단계로 나아가게 된다. 이런 단계를 거치면서 아이들은 자아의식을 형성하게 된다.

- ① 구성원에 대한 사회화는 사회 유지에 필수적이다.
 ② 사회 통합을 위해 개인에 대한 사회화가 필요하다.
 ③ 학교 교육은 학생들에게 기득권층의 문화를 전수하는 역할을 한다.
 ④ 사회화의 내용은 지배 계급에 유리한 지식과 가치관으로 이루어져 있다.
 ⑤ 사회화는 타인과의 상호작용과 행위에 대한 의미 해석을 통해 이루어진다.

13. 그림은 학교 폭력 실태를 조사하기 위해 자료를 수집하는 상황이다. 각 상황에서 활용한 자료 수집 방법 (가)~(다)에 대한 설명으로 옳은 것은? [3점]



- ① (가)는 양적 연구에서만 활용된다.
 ② (나)는 조사자의 주관성이 개입될 가능성이 낮다.
 ③ (다)는 질적 연구에서 주로 활용된다.
 ④ (가)는 (나)보다 시간과 비용을 절약할 수 있다.
 ⑤ (다)는 (나)보다 심층적인 자료를 수집하는 데 유리하다.

14. 사례에 나타난 사회 이동의 유형을 <보기>에서 고른 것은?

갑국 최대의 인터넷 쇼핑몰 대표인 A는 원래 평범한 회사원이었다. 그렇게 회사를 다니던 A는 조그만 인터넷 쇼핑몰을 열었고, 남들과는 다른 영업 방식과 홍보 방법을 도입하여 현재와 같은 인터넷 쇼핑몰로 키워 큰 부자가 되었다.

— < 보 기 > —
 ㄱ. 수직 이동 ㄴ. 개인적 이동
 ㄷ. 구조적 이동 ㄹ. 세대 간 이동

- ① ㄱ, ㄴ ② ㄱ, ㄷ ③ ㄴ, ㄷ ④ ㄴ, ㄹ ⑤ ㄷ, ㄹ

15. 근대화를 바라보는 갑, 을의 관점에 대한 설명으로 옳은 것은? [3점]

갑: 모든 사회는 일정한 단계를 거쳐 발전하기 때문에, 후진국은 근대화에 성공한 서구 선진 국가의 발전 경로를 따라가야 합니다.
 을: 제3세계 국가들의 저발전은 중심부인 서구 선진 국가와의 종속 관계 때문이므로 사회 발전을 위해서는 이러한 관계를 단절해야 합니다.

- ① 갑의 관점은 근대화론에 대한 비판으로 등장하였다.
 ② 갑의 관점은 후진국의 전통에 내재된 잠재력을 중시한다.
 ③ 을의 관점은 진화론적 사고를 토대로 형성되었다.
 ④ 을의 관점은 저발전의 원인을 국제적인 힘의 관계 속에서 분석한다.
 ⑤ 갑의 관점보다 을의 관점이 신흥 공업 국가들의 발전을 설명하기에 용이하다.

한국사/사회탐구 영역 [사회·문화]

16. 다음 글을 통해 도출할 수 있는 개인과 사회의 관계를 바라보는 관점에 부합하는 진술을 <보기>에서 고른 것은?

비빔밥에는 밥, 콩나물, 취나물, 고추장, 참기름 등 다양한 재료가 들어간다. 이 재료들이 섞이고 나면 재료 하나하나의 맛을 뛰어넘는 새로운 맛이 태어난다. 사회도 비빔밥과 마찬가지로.

- < 보 기 > —
- ㄱ. 사회는 개인들의 합 이상이다.
 - ㄴ. 사회가 실제로 존재하는 것은 아니다.
 - ㄷ. 개인의 이익보다 사회의 이익이 우선한다.
 - ㄹ. 사회 문제의 해결 방법으로 구성원의 의식 개혁이 가장 중요하다.

- ① ㄱ, ㄴ ② ㄱ, ㄷ ③ ㄴ, ㄷ ④ ㄴ, ㄹ ⑤ ㄷ, ㄹ


17. 밑줄 친 'A 관점'에 대한 설명으로 옳은 것은? [3점]

갑국 부모의 소득 수준에 따른 자녀 진학률
(단위: %)

구분	대학	대학원
1분위	21	3
2분위	34	7
3분위	43	15
4분위	52	24
5분위	79	43

* 5분위로 갈수록 고소득층임.

표는 사회 변혁을 추구하는 A 관점을 뒷받침하는 자료입니다.



- ① 사회적 희소 가치가 정당하게 배분된다고 본다.
- ② 사회 불평등 현상이 사회 발전에 기여한다고 본다.
- ③ 사회 문제 해결을 위해 개인의 재사회화를 중시한다.
- ④ 사회 구조보다는 구체적인 개인의 행동 분석을 중시한다.
- ⑤ 사회 질서는 지배 집단의 의사가 반영되어 형성, 유지된다고 본다.

18. 문화 변동의 양상 A~C에 대한 설명으로 옳은 것은? (단, A~C는 각각 문화 병존, 문화 동화, 문화 융합 중 하나이다.)

질문 \ 문화 변동의 양상	A	B	C
한 사회의 문화가 정체성을 상실하였는가?	예	아니요	아니요
두 문화가 만나 새로운 문화가 형성된 상황을 설명하기에 용이한가?	아니요	아니요	예

- ① A는 문화의 다양성 확대에 기여한다.
- ② 한글 창제는 B의 사례이다.
- ③ C는 문화 융합이다.
- ④ A는 B보다 우리나라의 차이나타운을 설명하기에 적절하다.
- ⑤ A는 C와 달리 자발적 문화 접변을 통해서 발생한다.

19. 빈곤 유형 A, B에 대한 옳은 설명을 <보기>에서 고른 것은? [3점]

A는 선진국보다는 후진국에서 흔히 나타나는 빈곤 유형으로, 우리나라는 최저 생계비를 기준으로 하고 있다. 이에 비해 B는 다른 사람들과 비교하여 상대적으로 부를 적게 가지고 있는 상태를 가리킨다.

- < 보 기 > —
- ㄱ. 선진국에도 B 상태에 있는 사람이 존재한다.
 - ㄴ. B 상태에 속한 사람은 모두 A 상태에도 속한다.
 - ㄷ. 국민 기초 생활 보장 제도는 B보다는 A에 대한 대책에 해당한다.
 - ㄹ. 전반적인 경제 수준이 향상되면 B보다 A가 사회 문제로 부각된다.

- ① ㄱ, ㄴ ② ㄱ, ㄷ ③ ㄴ, ㄷ ④ ㄴ, ㄹ ⑤ ㄷ, ㄹ

20. 표는 갑국의 구성 형태별 가구 수의 변화를 나타낸 것이다. 이에 대한 옳은 분석을 <보기>에서 고른 것은? [3점]

(단위: 천 가구)

구분	부부 가구	2세대 가구	3세대 이상 가구	1인 가구	기타 가구
1990년	2,665	6,670	133	1,537	250
2000년	3,703	5,863	95	2,788	331
2010년	4,756	5,065	65	4,025	378

* 기타 가구: 형제 가구, 기타 친족 가구, 비친족 가구

- < 보 기 > —
- ㄱ. 핵가족 가구 수는 2000년이 1990년보다 많다.
 - ㄴ. 1990년 3세대 이상 가구 인구는 2010년의 2배 이상이다.
 - ㄷ. 1990년 대비 2010년의 가구 증가율은 1인 가구가 가장 크다.
 - ㄹ. 1990년 대비 2010년의 가구 감소율은 2세대 가구보다 3세대 이상 가구가 크다.

- ① ㄱ, ㄴ ② ㄱ, ㄷ ③ ㄴ, ㄷ ④ ㄴ, ㄹ ⑤ ㄷ, ㄹ

※ 확인 사항
○ 답안지의 해당란에 필요한 내용을 정확히 기입(표기)했는지 확인하십시오.