

제 4 교시

한국사/사회탐구 영역(경제)

성명 수험번호 2

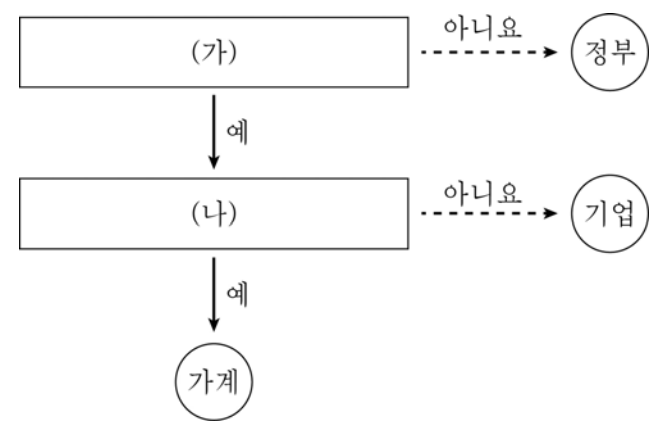
1. 그림의 상황에 대한 옳은 설명을 <보기>에서 고른 것은?



- < 보 기 >
- ㄱ. 병은 재화를 생산하는 활동을 하였다.
 - ㄴ. 갭과 을의 활동은 소비 활동에 해당한다.
 - ㄷ. 갭, 을, 병은 모두 경제 활동의 주체이다.
 - ㄹ. ㉠, ㉡은 모두 경제 활동의 객체에 해당한다.

- ① ㄱ, ㄴ ② ㄱ, ㄷ ③ ㄴ, ㄷ ④ ㄴ, ㄹ ⑤ ㄷ, ㄹ

2. 그림은 국민 경제 주체의 분류 과정을 나타낸 것이다. (가), (나)에 들어갈 적절한 질문을 <보기>에서 고른 것은?



- < 보 기 >
- ㄱ. 생산물 시장의 공급자인가?
 - ㄴ. 민간 부문의 경제 주체인가?
 - ㄷ. 사회적 후생의 극대화를 추구하는가?
 - ㄹ. 경제 활동의 목표가 효용 극대화인가?

- | | | | |
|-----|-----|-----|-----|
| (가) | (나) | (가) | (나) |
| ① ㄱ | ㄴ | ② ㄱ | ㄷ |
| ③ ㄴ | ㄷ | ④ ㄴ | ㄹ |
| ⑤ ㄷ | ㄹ | | |

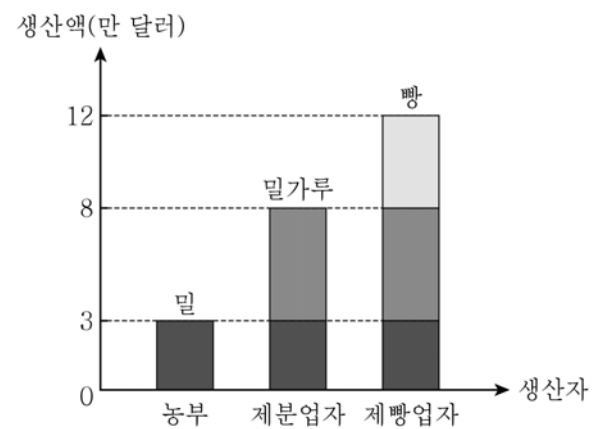
3. 다음은 시사 경제 용어에 대한 설명이다. 이를 이해하고 적절하게 추론한 학생을 <보기>에서 고른 것은?

핀테크(FinTech)는 금융을 뜻하는 파이낸셜(financial)과 기술을 뜻하는 테크닉(technique)의 합성어로, 모바일을 통한 결제·송금·자금 조성 등 금융과 IT가 융합된 기술 또는 산업을 의미한다. 예를 들어 스마트폰을 활용하여 낮은 수수료로 대금 결제를 하거나 메신저로 돈을 송금할 때, 각종 회비를 걷거나 축의금을 보낼 때도 간편하게 사용할 수 있다. 자선 단체에 소액 기부하는 것도 '좋아요' 버튼을 누르는 것처럼 쉽게 할 수 있다.

- < 보 기 >
- 갭: 금융 소비자의 금융 거래 비용이 증가할 거야.
 - 을: 은행에 직접 가야 하는 일이 줄어들 수 있을 거야.
 - 병: 현금을 결제 수단으로 보유하려는 욕구가 증가할 거야.
 - 정: 해킹이나 개인 정보 유출과 같은 문제가 나타날 수 있어.

- ① 갭, 을 ② 갭, 병 ③ 을, 병 ④ 을, 정 ⑤ 병, 정

4. 그림은 갑국 내에서 한 해 동안 이루어진 모든 생산 활동을 나타낸 것이다. 이에 대한 분석으로 옳은 것은?



* 밀은 밀가루 생산에, 밀가루는 빵 생산에 전량 활용된다.

- ① 밀가루는 최종재이다.
- ② 국내 총생산은 12만 달러이다.
- ③ 농부가 창출한 부가 가치는 4만 달러이다.
- ④ 밀을 생산하는 활동은 국내 총생산에 기여하지 않았다.
- ⑤ 제빵업자가 제분업자보다 더 많은 부가 가치를 창출하였다.

5. 자료에 대한 설명으로 옳은 것은? [3점]

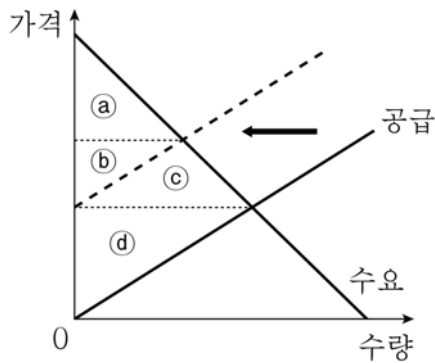
갑은 무료 야식 쿠폰으로 무엇을 먹을지 고민 중이다. 선택 가능한 야식과 그 편익은 아래 표와 같다.

메뉴	치킨	족발	피자	탕수육
편익	20	13	18	15

단, 무료 야식 쿠폰으로 한 가지 메뉴만 선택할 수 있다. 쿠폰은 본인만 사용할 수 있고 현금으로 돌려받을 수 없다.

- ① 피자 선택의 기회비용이 가장 작다.
- ② 족발을 먹는 것이 합리적인 선택이다.
- ③ 탕수육 선택의 기회비용은 포기한 편익의 합인 51이다.
- ④ 치킨 선택의 기회비용은 피자 선택으로 얻을 수 있는 편익이다.
- ⑤ 치킨을 선택했을 때와 피자를 선택했을 때의 기회비용은 동일하다.

6. 그림은 X재 시장에서의 공급 변화를 나타낸 것이다. 이에 대한 분석으로 옳은 것은?



- ① 소비자 잉여가 감소한다.
- ② 생산자 잉여가 증가한다.
- ③ 사회적 잉여가 증가한다.
- ④ 변화 이전 소비자 잉여는 ㉠이다.
- ⑤ 변화 이후 생산자 잉여는 ㉡ + ㉢ + ㉣이다.

7. (가), (나)에 대한 설명으로 옳은 것은? [3점]

(가) 갑이 과수원 주변에서 양봉업을 하여 과수원 주인은 그 이전보다 더 많은 과일을 수확하는 혜택을 얻었다. 하지만 그 대가를 지불하지 않았다.

(나) A 기업은 ○○ 제품을 생산하여 이익을 얻고 있지만, 생산 과정에서 폐수를 방류하여 인근 농민에게 피해를 주었다. 하지만 어떠한 보상도 하지 않았다.

- ① (가)의 끝벌레는 공공재에 해당한다.
- ② (가)는 외부 불경제의 사례에 해당한다.
- ③ (가)는 소비 과정에서 발생한 외부 효과의 사례에 해당한다.
- ④ (나)는 긍정적 외부 효과의 사례에 해당한다.
- ⑤ (가), (나)는 모두 시장 실패에 해당하는 사례이다.

8. 교사의 질문에 대해 옳게 답변한 학생은?

- ① 갑: 정부가 지출을 늘려야 해요.
- ② 을: 정부가 조세 수입을 늘려야 해요.
- ③ 병: 중앙은행이 재할인율을 올려야 해요.
- ④ 정: 중앙은행이 국·공채를 매각해야 해요.
- ⑤ 무: 중앙은행이 지급 준비율을 올려야 해요.

9. 표는 갑국과 을국이 한 재화만 생산할 때 최대한 생산할 수 있는 X재와 Y재의 수량을 나타낸 것이다. 이에 대한 분석으로 옳은 것은? [3점]

(단위: 개)

국가 \ 재화	X재	Y재
갑국	20	60
을국	40	80

- ① 갑국은 X재 생산에 비교 우위를 가진다.
- ② 갑국은 Y재 생산에 절대 우위를 가진다.
- ③ 을국은 Y재를 특화하여 생산하는 것이 이익이다.
- ④ 갑국과 을국은 교역을 통해 모두 이익을 볼 수 있다.
- ⑤ 을국은 X재와 Y재 생산에 모두 비교 우위를 가진다.

10. 밑줄 친 ㉠, ㉡에 대한 옳은 설명을 <보기>에서 고른 것은?

- < 보 기 > —
- ㉠. ㉠으로 인해 국내 총생산이 증가한다.
 - ㉡. ㉠은 총공급을 감소시키는 요인에 해당한다.
 - ㉢. ㉠으로 인해 스태그플레이션이 발생할 수 있다.
 - ㉣. ㉡에 대한 대처 방안으로 확대 재정 정책이 효과적이다.

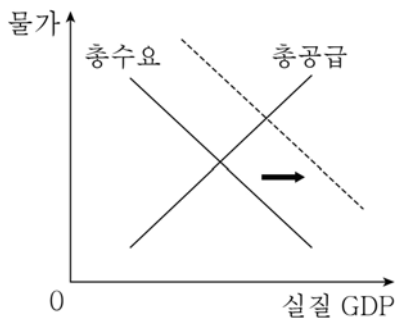
- ① ㉠, ㉡ ② ㉠, ㉢ ③ ㉡, ㉣ ④ ㉠, ㉣ ⑤ ㉢, ㉣

11. 밑줄 친 ㉠, ㉡의 수요의 가격 탄력성으로 옳은 것은? [3점]



- | | |
|--------|--------|
| ㉠ | ㉡ |
| ① 탄력적 | 비탄력적 |
| ② 탄력적 | 완전 탄력적 |
| ③ 탄력적 | 단위 탄력적 |
| ④ 비탄력적 | 탄력적 |
| ⑤ 비탄력적 | 단위 탄력적 |

12. 그림과 같은 총수요의 변화 요인을 <보기>에서 고른 것은?



- < 보 기 >
- | | |
|--------------|-----------------|
| ㄱ. 수출의 증가 | ㄴ. 정부 지출 확대 |
| ㄷ. 가계의 소비 감소 | ㄹ. 기업의 설비 투자 축소 |

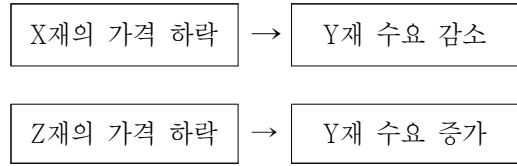
- ① ㄱ, ㄴ ② ㄱ, ㄷ ③ ㄴ, ㄷ ④ ㄴ, ㄹ ⑤ ㄷ, ㄹ

13. 밑줄 친 ㉠~㉣에 대한 설명으로 옳지 않은 것은? (단, 주어진 조건만을 고려한다.) [3점]

갑은 어린 시절 삼촌 손에 이끌려 바둑을 배우게 되었다. 국기원에 연구생으로 들어가 프로 바둑 기사를 꿈꾸었지만, 입단에 실패하고 결국 바둑을 그만두었다. 고졸 학력이 전부인 갑은 ㉠ 구직 활동을 하다가 자포자기하여 지난 일 년 동안 ㉡ 구직 활동을 단념하였다. 그러던 중 우연히 지인의 추천으로 〇〇 기업의 ㉢ 신입 사원이 되었다.

- ① ㉠ 시기의 갑은 경제 활동 인구에 해당한다.
- ② ㉡ 시기의 갑은 실업자에 해당한다.
- ③ ㉢ 시기의 갑은 비경제 활동 인구에 해당한다.
- ④ ㉢으로 인해 취업률은 상승한다.
- ⑤ ㉢으로 인해 경제 활동 인구가 증가한다.

14. 그림은 대체재 또는 보완재 관계를 보여 준다. 이에 대한 분석으로 옳은 것은? [3점]



- ① X재는 Y재의 보완재이다.
- ② Z재는 Y재의 대체재이다.
- ③ Z재의 가격이 상승하면 Y재의 가격도 상승한다.
- ④ Z재의 공급이 증가하면 Y재의 수요는 감소한다.
- ⑤ X재의 가격이 상승하면 Y재의 판매 수입이 증가한다.

15. 표는 X재의 가격에 따른 수요량과 공급량을 나타낸 것이다. 이에 대한 옳은 분석을 <보기>에서 고른 것은? [3점]

가격(원)	수요량(개)	공급량(개)
1,800	120	80
1,900	110	90
2,000	100	100
2,100	90	110
2,200	80	120

- < 보 기 >
- ㄱ. 1,800원에서 가격 하락의 압력이 존재한다.
 - ㄴ. 1,900원에서 X재의 초과 공급량은 20개이다.
 - ㄷ. X재의 균형 가격은 2,000원, 균형 거래량은 100개이다.
 - ㄹ. 모든 가격에서 수요량이 20개씩 증가할 경우 균형 가격은 100원 상승한다.

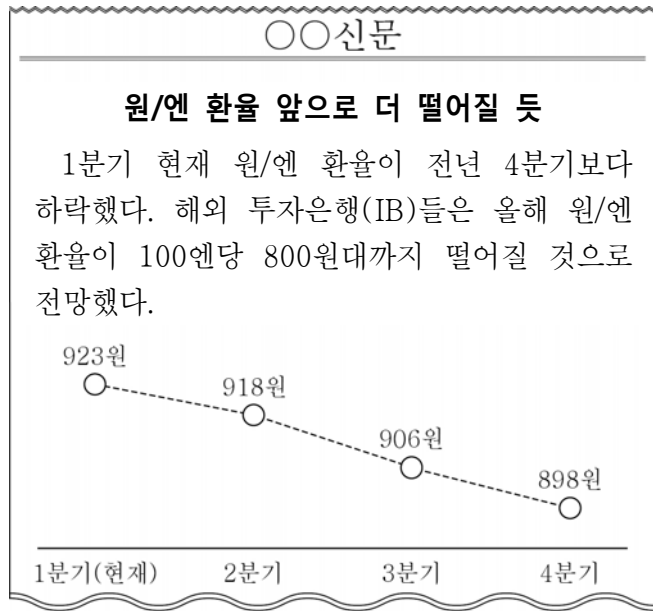
- ① ㄱ, ㄴ ② ㄱ, ㄷ ③ ㄴ, ㄷ ④ ㄴ, ㄹ ⑤ ㄷ, ㄹ

16. 을의 진술에 부합하는 사고방식과 행동으로 옳지 않은 것은?



- ① 모든 거래를 현금으로만 결제한다.
- ② 빈번하고 과도한 대출을 자제한다.
- ③ 소득이 없으면 신용카드 사용에 주의한다.
- ④ 자신의 소득을 고려한 합리적인 소비를 실천한다.
- ⑤ 대출금 상환 만기일을 기억하여 연체가 되지 않도록 한다.

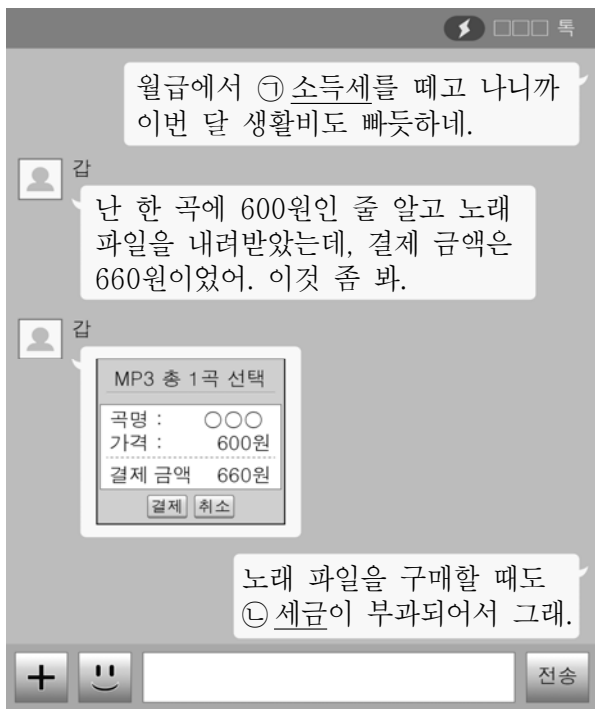
17. 신문 기사에 나타난 환율 변동 추세를 보아 유리해질 것으로 예상되는 경제 주체를 <보기>에서 고른 것은? [3점]



- < 보 기 >
- ㄱ. 일본에 핸드폰을 수출하는 한국 기업
 - ㄴ. 일본으로 여행을 가는 한국인 관광객
 - ㄷ. 일본에 유학 간 자녀에게 송금하는 한국 부모
 - ㄹ. 한국으로부터 컴퓨터 핵심 부품을 수입하는 일본 기업

① ㄱ, ㄴ ② ㄱ, ㄷ ③ ㄴ, ㄷ ④ ㄴ, ㄹ ⑤ ㄷ, ㄹ

18. 밑줄 친 ㉠, ㉡의 일반적인 특징에 대한 옳은 설명을 <보기>에서 고른 것은?



- < 보 기 >
- ㄱ. ㉠은 납세자와 담세자가 일치한다.
 - ㄴ. ㉡에는 주로 누진세율이 적용된다.
 - ㄷ. ㉠은 ㉡보다 소득 재분배 효과가 크다.
 - ㄹ. ㉡은 ㉠에 비해 조세 저항이 크다.

① ㄱ, ㄴ ② ㄱ, ㄷ ③ ㄴ, ㄷ ④ ㄴ, ㄹ ⑤ ㄷ, ㄹ

19. 표는 우리나라의 국제 수지 중 경상 수지를 나타낸 것이다. (가)~(라)에 해당하는 사례를 <보기>에서 고른 것은? [3점]

구분		외화 수취	외화 지급
경상 수지	상품 수지	(가)	
	서비스 수지	(나)	
	본원 소득 수지		(다)
	이전 소득 수지		(라)

- < 보 기 >
- ㄱ. (가) - 국내 김 생산 업체가 일본에 김을 수출하고 대금을 받았다.
 - ㄴ. (나) - 한국을 방문하는 중국인 관광객이 증가하여 한국 여행사의 매출이 증가했다.
 - ㄷ. (다) - 국내의 한 고등학교 학생들이 아프리카 어린이들에게 후원금을 보냈다.
 - ㄹ. (라) - 독일 프로 축구 리그에서 뛰고 있는 한국 선수가 독일 구단으로부터 연봉을 받았다.

① ㄱ, ㄴ ② ㄱ, ㄷ ③ ㄴ, ㄷ ④ ㄴ, ㄹ ⑤ ㄷ, ㄹ

20. 다음 상황에 대한 설명으로 옳은 것은? [3점]

한 가족인 갑, 을, 병은 주말여행을 계획하고 있다. 여행지는 A, B, C 중 한 곳만 선택할 수 있다. (가)는 후보지에 대한 선호도를 점수로 나타낸 것이고, (나)는 후보지에 대한 선호도를 순위로 나타낸 것이다.

처음에는 ㉠(가)에 근거하여 점수의 합이 가장 큰 곳을 여행지로 결정하였다. 그러나 결과에 대한 반대 의견이 있어 ㉡(나)를 근거로 순위의 합이 가장 작은 곳을 여행지로 결정하였다.

(가)				(나)			
구분	A	B	C	구분	A	B	C
갑	5점	1점	2점	갑	1위	3위	2위
을	2점	4점	3점	을	3위	1위	2위
병	4점	5점	2점	병	2위	1위	3위

* 만점은 5점이다.

- ① ㉠에서 선택된 여행지는 B이다.
- ② ㉡에서 선택된 여행지는 A이다.
- ③ 갑은 ㉠보다 ㉡을 선호하였을 것이다.
- ④ 을과 병은 ㉠의 결과에 대해 만족하였을 것이다.
- ⑤ ㉠, ㉡ 어느 경우에도 C는 여행지로 선택되지 않는다.

※ 확인 사항
○ 답안지의 해당란에 필요한 내용을 정확히 기입(표기)했는지 확인하십시오.