

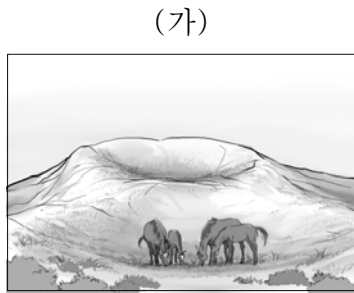
제 4 교시

한국사/사회탐구 영역(한국 지리)


성명

수험번호 2

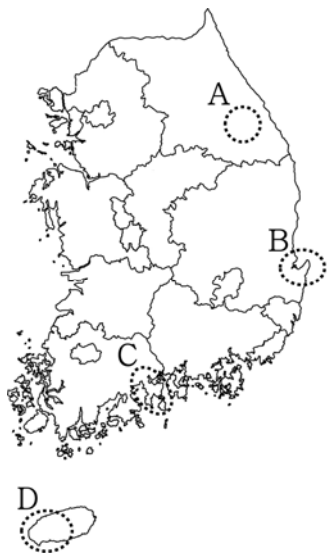
1. 다음 자료의 (가), (나) 지역을 지도의 A~D에서 옳게 고른 것은?



화산 폭발로 형성된 오름과, 소와 말을 기르기 위해 인위적으로 조성된 넓은 초지가 있다.



대규모 석유 화학 산업 단지화 2012년 세계 박람회가 개최된 지역이 있다.



- | | (가) | (나) |
|---|-----|-----|
| ① | A | B |
| ② | A | D |
| ③ | B | C |
| ④ | D | B |
| ⑤ | D | C |

2. 다음 자료에 대한 설명으로 옳지 않은 것은? [3점]



지도표	
읍치	도로
○	10 20 30(리)

* 대동여지도의 A 일대임.

A는 한양과는 물길이나 육로 모두 200리 거리이다. A는 소양강에 임해 있고, 그 바깥에 우두라는 큰 마을이 있다.

① 산속에는 평야가 널따랗게 펼쳐졌고, 두 강이 한복판으로 흘러간다. 기후가 고요하고, 강과 산이 맑고 흰하며 ② 토지가 비옥하여, 여러 대를 이어 사는 사대부가 많다.

- 『택리지』 -

- ① 우두는 A의 북쪽 방향에 있다.
- ② A와 덕도원은 당시 거리로 30리가 넘는다.
- ③ A는 육로 및 수상 교통이 편리한 중심지이다.
- ④ ①은 분지 지형을 서술한 것이다.
- ⑤ ②은 살기 좋은 땅의 조건 중 생리(生利)에 해당한다.

3. 다음은 서술형 평가 문제와 학생 답안이다. ㉠~㉣ 중 옳지 않은 것은?

서술형 평가

◎ A 지형의 명칭을 쓰고, 그 특성에 대해 서술하시오.

◎ 학생 답안
A는 ㉠ 하안 단구로 ㉡ 주로 하천 하류에 나타난다. 이 지형은 ㉢ 지반 용기와 하천 침식의 영향을 받았으며 ㉣ 토양층에는 모래나 둥근 자갈이 분포한다. ㉤ 홍수 시 침수 가능성이 낮아 취락의 입지에 유리하다.

- ① ㉠ ② ㉡ ③ ㉢ ④ ㉣ ⑤ ㉤

4. 다음은 남해안 여행 일정의 일부이다. ㉠~㉣에 대한 옳은 설명을 <보기>에서 고른 것은? [3점]


1일 차	<ul style="list-style-type: none"> ○ 케이블카 탑승: ㉠ 굽이굽이 펼쳐져 있는 해안선과 수많은 섬 조망 ○ 해상 유람선 관광: ㉡ 해안 절벽과 바다에 흩어져 있는 기암괴석 감상
2일 차	<ul style="list-style-type: none"> ○ △△ 자연 생태 공원: ㉢ 갯벌에 펼쳐진 갈대밭과 철새 감상 ○ ◇◇ 해수욕장: ㉣ 백사장을 거닐며 일몰 감상


— < 보 기 > —

㉠. ㉠ - 해수면 상승으로 형성된 리아스 해안이다.
 ㉡. ㉡ - 바다가 육지 쪽으로 들어간 만(灣)에 잘 나타난다.
 ㉢. ㉢ - 밀물 때 잠기고 썰물 때 드러나는 해안 지형이다.
 ㉣. ㉣ - 파랑의 침식 작용으로 형성된다.

- ① ㉠, ㉡ ② ㉠, ㉢ ③ ㉡, ㉣ ④ ㉢, ㉣ ⑤ ㉢, ㉣

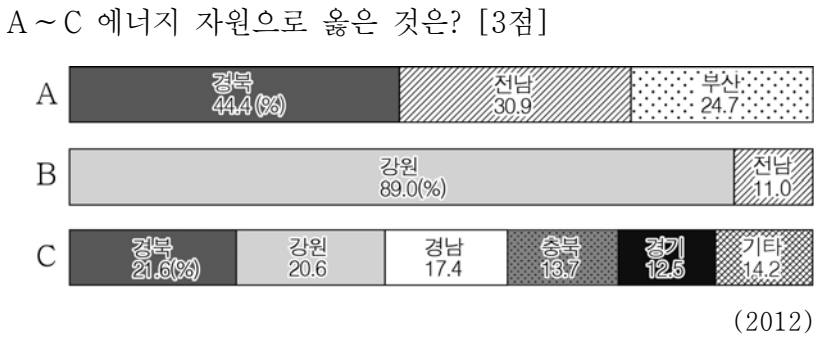
5. 다음 자료의 밑줄 친 ‘이 지역’에 대한 설명으로 옳지 않은 것은?

이 지역은 고생대에 얕은 바다였으며, 그 당시에 퇴적되어 형성된 암석이 기반암을 이룬다. 이 지역의 지도에는  모양이 많이 표시되어 있는데, 실제로 보면 땅이 움푹 파인 모습을 확인할 수 있다. 지하에는 그림과 같은 동굴이 곳곳에 분포하며 관광 자원으로 활용되기도 한다.



- ① 토양은 대부분 붉은색을 띤다.
- ② 기반암은 시멘트 공업의 원료로 이용된다.
- ③ 지하 동굴에는 중유석, 석순이 발달해 있다.
- ④ 용식 작용을 받아 형성되는 지형이 나타난다.
- ⑤ 용암이 굳으면서 만들어진 주상절리가 나타난다.

6. 그래프는 1차 에너지의 지역별 생산량 비중을 나타낸 것이다.

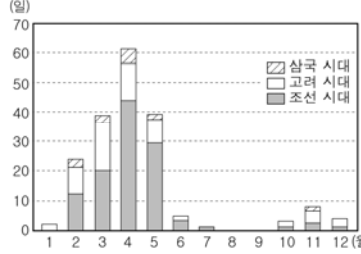


- | | | | | | |
|--------------|--------------|--------------|--------------|--------------|----------|
| <u>A</u> | <u>B</u> | <u>C</u> | <u>A</u> | <u>B</u> | <u>C</u> |
| ① 수력 무연탄 원자력 | ② 수력 원자력 무연탄 | ③ 무연탄 원자력 수력 | ④ 원자력 수력 무연탄 | ⑤ 원자력 무연탄 수력 | |

7. 다음 자료의 ○○ 기후 현상에 대한 설명으로 옳지 않은 것은?

< 옛 기록으로 보는 ○○ 기후 현상 >

- 왕도에 흠이 비처럼 떨어져 낮인데도 어두웠다.
- 『삼국사기』 -
- 큰 바람이 불고 흠이 비처럼 5일 넘게 떨어졌다.
- 『삼국사기』 -
- 강원도와 평안도에 흠비가 내려 옷에 혼탁한 황톳물 자국이 남았다.
- 『조선왕조실록』 -



* 옛 문헌에 기록된 발생 일수를 나타낸 것임. (기상청)

- ① 강풍과 많은 비를 동반하여 풍수해를 일으킨다.
- ② 미세 먼지 농도를 높여 호흡기 질환 발생률을 높인다.
- ③ 농작물의 기공을 막아 생육에 장애를 일으키기도 한다.
- ④ 가시거리를 짧게 하여 항공기 결항률을 높이기도 한다.
- ⑤ 정밀 기계의 오작동을 유발하여 제품의 불량률을 높인다.

8. 표는 어느 시기의 기후 자료이다. 이 시기의 전통 생활 모습으로 가장 적절한 것은?

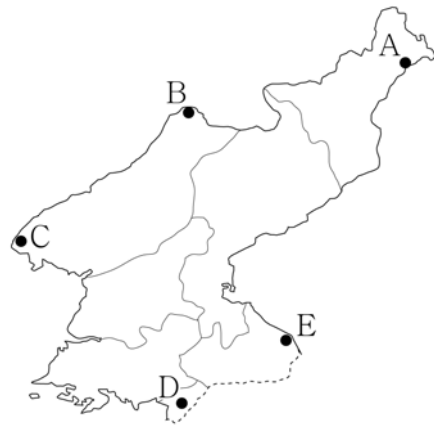
(단위: °C, mm)

구분	○월 하순	□월 초순	□월 중순	
서울	평균 기온	26.0	26.6	26.2
	강수량	134.7	138.7	97.6
대구	평균 기온	27.1	27.5	26.5
	강수량	58.6	57.0	90.3

* ○월 하순부터 □월 중순까지 한 달 동안의 자료로, 순(10일)별 30년(1981~2010년) 평균값임.

- ① 뱀씨를 뿌려 모내기 준비를 한다.
- ② 화롯가에 모여 앉아 군밤을 구워 먹는다.
- ③ 보리의 뿌리가 잘 내리도록 보리밭기를 한다.
- ④ 통풍이 잘 되는 삼베와 모시옷을 즐겨 입는다.
- ⑤ 김장 김치를 향아리에 넣어 땅에 묻어 저장한다.

9. 지도의 A~E 지역에 대한 설명으로 옳은 것은? [3점]



- ① A - 남한의 민간 기업이 주도하여 건설한 관광 시설이 있다.
- ② B - 북한 최초로 지정된 경제 특구가 있다.
- ③ C - 서해 갑문이 설치되어 있다.
- ④ D - 남북 경제 협력을 통해 조성된 공업 단지가 있다.
- ⑤ E - 화구의 함몰로 형성된 칼데라 호가 있다.

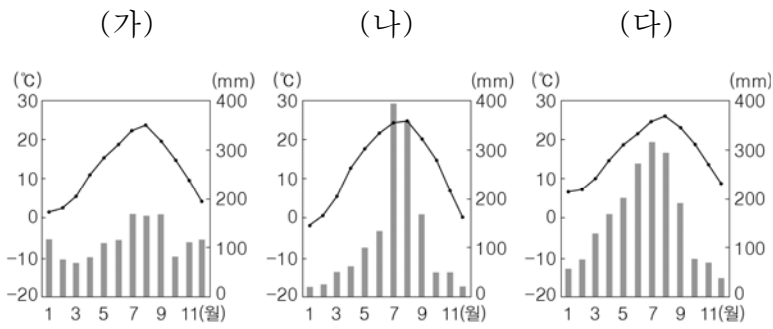
10. 다음 자료의 ㉠~㉥에 대한 설명으로 옳지 않은 것은?

지리 조사 계획서

- 조사 주제: 재개발에 따른 ○○ 지역의 변화
- 모둠원의 역할 분담
 - 갑: 지역의 ㉠ 인구 변화를 ㉡ 인터넷으로 검색하기
 - 을: 토지 이용 변화를 ㉢ 위성 영상으로 확인하기
 - 병: ㉣ 주민들의 주거 만족도를 현지 조사하기
 - 정: ㉤ 원주민들의 인구 이동 현황을 지도로 표현하기
 - 무: 보고서 작성하기

- ① ㉠은 위치 정보이다.
- ② ㉡은 실내 조사에 해당한다.
- ③ ㉢은 원격 탐사 기법을 이용하여 얻은 자료이다.
- ④ ㉣은 주민 설문을 통해 파악할 수 있다.
- ⑤ ㉤은 유선도로 나타낼 수 있다.

11. (가)~(다) 지역에 대한 설명으로 옳은 것은? [3점]



- ① (가)는 기온의 연교차가 가장 크다.
- ② (나)는 서리 일수가 가장 적다.
- ③ (가)는 (나)보다 해양의 영향을 많이 받는다.
- ④ (나)는 (다)보다 저위도에 위치한다.
- ⑤ (다)는 (가)보다 겨울 강수 집중률이 높다.

12. 다음 자료는 지리 수업 장면의 일부이다. ㉠에 대한 설명으로 옳은 것은?

웰빙 생활을 추구하면서 최근에 느리게 살기 운동이 확산되고 있습니다. 이러한 운동이 실천되고 있는 지역으로 ㉠이 주목받고 있습니다. 옆 지도는 ㉠(으)로 지정된 곳을 나타낸 것입니다.

- ① 대기업이 자본을 투자하여 개발되는 곳이다.
- ② 복합 쇼핑몰이 여가 공간으로 활용되는 곳이다.
- ③ 지역 불균형을 해소하기 위해 거점으로 선정된 곳이다.
- ④ 단체 관광객을 위한 대규모 숙박 시설이 권장되는 곳이다.
- ⑤ 지역 특성을 활용하여 지속 가능한 발전이 추진되는 곳이다.

13. (가) 지역과 비교한 (나) 지역의 상대적 특성으로 옳은 내용을 <보기>에서 고른 것은? [3점]

(가)에는 대규모의 아파트 단지가 조성되어 있으며 신설된 학교들도 많다. 일부 지역에는 농촌 경관이 남아 있는 곳도 있다.

(나)에는 주요 관공서와 은행 본점이 분포한다. 업무용 고층 빌딩이 많으며, 백화점, 전문상가 등이 밀집되어 있다.

- < 보 기 >
- ㄱ. 상업지의 평균 지가가 높다.
 - ㄴ. 인구 공동화 현상이 뚜렷하다.
 - ㄷ. 주민의 평균 통근 거리가 멀다.
 - ㄹ. 출근 시간대에 유출 인구가 많다.

- ① ㄱ, ㄴ ② ㄱ, ㄷ ③ ㄴ, ㄷ ④ ㄴ, ㄹ ⑤ ㄷ, ㄹ

14. (가), (나) 지역 개발에 대한 옳은 설명을 <보기>에서 고른 것은?

(가) 국토 교통부는 항구와 철도 시설 재개발, 신산업 유치 등을 내용으로 하는 '○○시 재생 사업 계획'을 확정하며, "한국전쟁 때 피난민이 정착했던 지역을 재정비해 경제 기반을 재구축하는 사업"이라고 설명했다. 이를 위해 정부 예산을 책정, 투입할 예정이라고 발표했다.

(나) 피난민이 살던 달동네인 ◇◇ 마을은 □□시의 공원 조성 계획에 의해 철거 위기에 처했다. 이를 막기 위해 지역 시민 단체가 "마을의 애환이 서린 골목 문화를 보존하자."라고 하면서 마을 곳곳에 벽화를 그리기 시작했다. 그 결과 관광객들이 찾아와 활기를 띠게 되어 철거 위기에서 벗어나게 되었다.

- < 보 기 >
- ㄱ. (가)는 (나)보다 사업 자본의 규모가 크다.
 - ㄴ. (가)는 (나)보다 지역 주민의 참여도가 높다.
 - ㄷ. (나)는 (가)보다 기존 건물의 활용도가 높다.
 - ㄹ. (가)는 상향식, (나)는 하향식 개발 방식에 속한다.

- ① ㄱ, ㄴ ② ㄱ, ㄷ ③ ㄴ, ㄷ ④ ㄴ, ㄹ ⑤ ㄷ, ㄹ

15. 표는 지역별 부가가치 생산 현황이다. 이에 대한 옳은 설명을 <보기>에서 고른 것은? [3점]

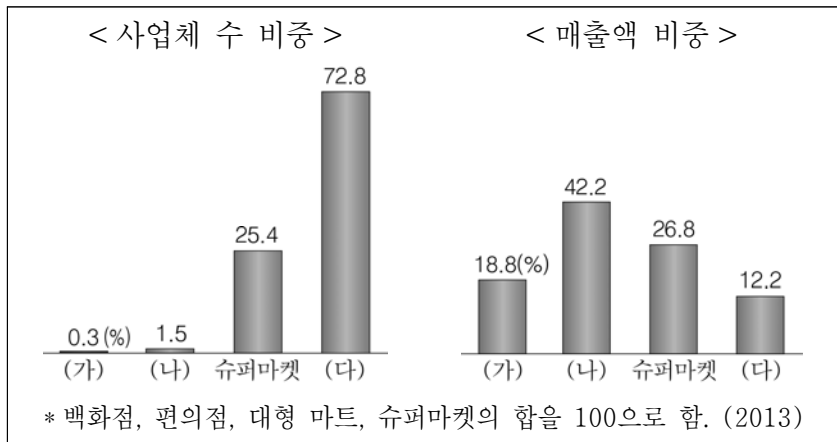
구분	부가가치 생산액 (조 원)	지역 내 부가가치 생산액 비중(%)		
		1차 산업	2차 산업	3차 산업
수도권	642	0.6	22.7	76.7
영남 지방	336	2.8	43.3	53.9
충청 지방	160	3.7	45.4	50.9
호남 지방	120	6.9	33.0	60.1
강원 지방	32	5.4	11.9	82.7
제주특별자치도	12	15.1	2.8	82.1

(2013)

- < 보 기 >
- ㄱ. 수도권은 부가가치 생산액이 가장 많다.
 - ㄴ. 전국의 산업별 부가가치 총생산액은 2차 산업이 가장 많다.
 - ㄷ. 영남 지방은 충청 지방보다 2차 산업의 부가가치 생산액이 많다.
 - ㄹ. 제주특별자치도는 2차 산업이 1차 산업보다 부가가치 생산액이 많다.

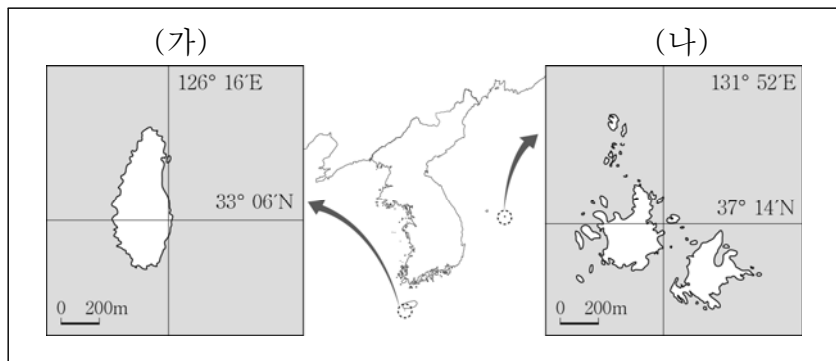
- ① ㄱ, ㄴ ② ㄱ, ㄷ ③ ㄴ, ㄷ ④ ㄴ, ㄹ ⑤ ㄷ, ㄹ

16. 그래프의 (가)~(다) 소매 업체에 대한 설명으로 옳은 것은?
(단, (가)~(다)는 각각 백화점, 편의점, 대형 마트 중 하나임.)



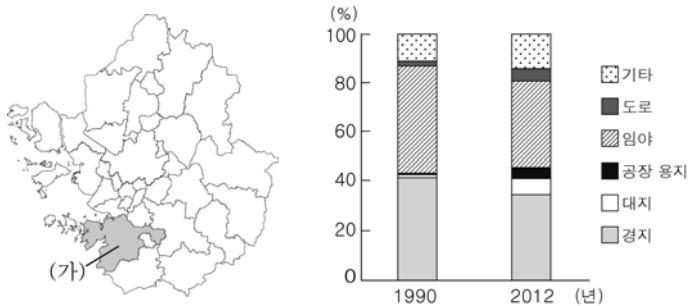
- ① (가)는 상점 간 평균 거리가 가장 가깝다.
- ② (나)는 사업체당 매출액 규모가 가장 크다.
- ③ (다)는 소비자의 평균 방문 횟수가 가장 많다.
- ④ (가)는 (다)보다 주거 지역에 입지하는 경우가 많다.
- ⑤ (다)는 (나)보다 점포당 유지비가 크다.

17. (가), (나) 섬에 대한 설명으로 옳은 것은? [3점]



- ① (가)에는 종합 해양 과학 기지가 건설되어 있다.
- ② (나)는 세계 자연 유산으로 지정되어 있다.
- ③ (가)는 (나)보다 연평균 기온이 높다.
- ④ (가)는 (나)보다 해 뜨는 시각이 이르다.
- ⑤ (가), (나) 모두 영해 설정 시 직선 기선을 적용한다.

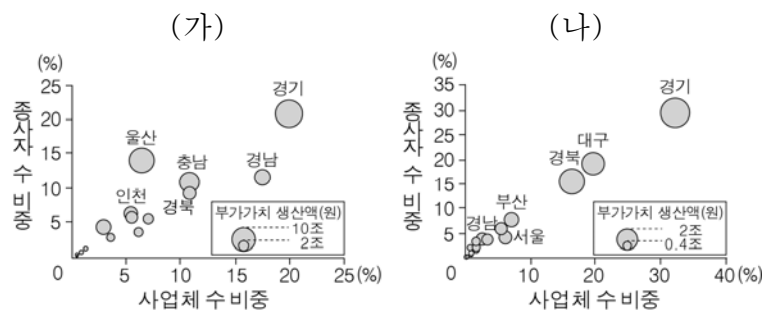
18. 그래프는 (가) 지역의 토지 이용 변화를 나타낸 것이다. 1990년에 비해 2012년에 수치가 낮아진 항목으로 옳은 것은?



- ① 인구 밀도
- ② 서비스업 생산액
- ③ 겸업농가의 비중
- ④ 경지 면적의 비중
- ⑤ 제조업 종사자 수

19. (가), (나) 공업에 대한 옳은 설명을 <보기>에서 고른 것은?
(단, (가), (나)는 각각 섬유(의복 제외), 자동차 중 하나임.)

[3점]

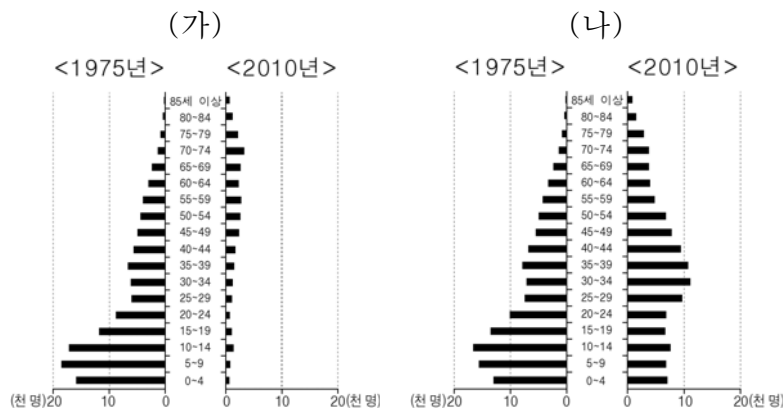


< 보기 >

ㄱ. (가)는 집적 효과가 큰 계열화된 조립형 공업이다.
 ㄴ. (나)는 1960년대 우리나라의 대표적인 수출 산업이었다.
 ㄷ. (가)는 (나)보다 최종 완제품의 무게가 가볍다.
 ㄹ. (나)는 (가)보다 생산비에서 노동비가 차지하는 비중이 낮다.

- ① ㄱ, ㄴ ② ㄱ, ㄷ ③ ㄴ, ㄷ ④ ㄴ, ㄹ ⑤ ㄷ, ㄹ

20. 그래프는 (가), (나) 지역의 연령별 인구 변화를 나타낸 것이다. 이에 대한 옳은 설명을 <보기>에서 고른 것은? [3점]



< 보기 >

ㄱ. (가)는 유소년 부양비가 증가하였다.
 ㄴ. (나)는 중위 연령이 상승하였다.
 ㄷ. (가)는 (나)보다 총 인구 감소 폭이 작다.
 ㄹ. (나)는 (가)보다 2010년의 노년층 인구 비중이 낮다.

- ① ㄱ, ㄴ ② ㄱ, ㄷ ③ ㄴ, ㄷ ④ ㄴ, ㄹ ⑤ ㄷ, ㄹ

※ 확인 사항
 ○ 답안지의 해당란에 필요한 내용을 정확히 기입(표기)했는지 확인하십시오.