

제 4 교시

한국사/사회탐구 영역(동아시아사)

성명  수험번호         2

1. (가)에 들어갈 유물의 사진으로 옳은 것은?



2. 밑줄 친 ㉠에 대한 탐구 활동으로 가장 적절한 것은? [3점]

동아시아사 사전

**유목민[遊牧民]**  
 가축을 방목하기 위하여 목초지를 찾아다니며 이동 생활을 하는 사람들이다. 이들은 농경 민족과의 교역을 통해 곡물, 차(茶) 등을 마련하였으며, 이것이 여의치 않을 경우 ㉠ 농경 민족과 충돌하기도 하였다.

- ① 요와 송의 관계를 알아본다.
- ② 정화의 항해 경로를 찾아본다.
- ③ 가야가 왜와 교류한 사례를 수집한다.
- ④ 백제 부흥 운동의 전개 과정을 정리한다.
- ⑤ 헤이안 시대 국풍 문화 발전의 모습을 조사한다.

3. (가)에 해당하는 국가로 옳은 것은?



- ① 한
- ② 금
- ③ 원
- ④ 부여
- ⑤ 고구려

4. 밑줄 친 '이들'에 대한 각국의 대응으로 옳은 것은?

이들은 주로 13세기부터 15세기에 걸쳐 동아시아 해역을 중심으로 활동하던 일본인 해적 집단이다. 이들은 쓰시마 섬, 이키 섬 등을 근거지로 한반도와 중국 해안 지역을 약탈하였다.

- ① 청 - 공행 무역을 실시하였다.
- ② 조선 - 쓰시마 섬을 토벌하였다.
- ③ 일본 - 건당사 파견을 중단하였다.
- ④ 신라 - 장보고가 청해진을 설치하였다.
- ⑤ 전 왕조 - 전흥다오가 군대를 동원하였다.

5. 밑줄 친 '법률'을 토대로 마련된 통치 체제에 대한 설명으로 옳은 것은? [3점]

무릇 법률에는 네 종류가 있는데, 첫째는 율(律)이고, 둘째는 영(令)이며, 셋째는 격(格)이고, 넷째는 식(式)이다. 율으로써 형벌을 바로 잡아 죄를 결정하고, 영으로써 규범을 갖추어 제도를 만들며, 격으로써 어긋나는 것을 막아 잘못을 바로잡고, 식으로써 상황에 맞추어 일을 처리할 수 있게 한다.

- ① 야요이 문화 성립의 바탕이 되었다.
- ② 진(秦)의 중앙 집권화에 기여하였다.
- ③ 제자백가가 출현하는 배경이 되었다.
- ④ 발해의 3성 6부 설치에 영향을 끼쳤다.
- ⑤ 주 대에 봉건제의 운영 원리로 작용하였다.

6. (가)에 들어갈 내용으로 적절한 것은? [3점]

**제○회 동아시아사 연구회 학술 대회**

주제: (가)

- 8~13세기를 중심으로 -

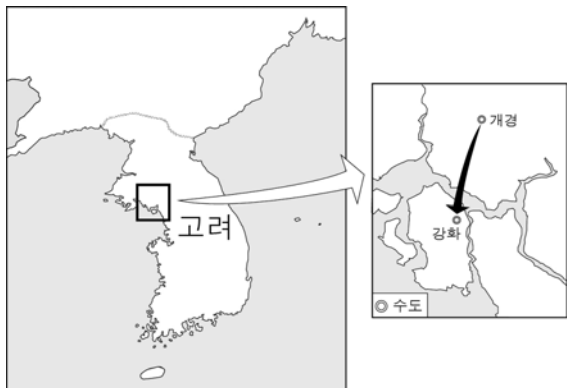
[발표 순서]

1. 당 대 안·사의 난 이후 절도사의 움직임
2. 고려 문벌 귀족 사회의 붕괴와 집권층의 변화
3. 일본 가마쿠라 막부의 성립과 지배 세력의 교체

일자: 2015년 3월 11일  
장소: △△ 대학교 대강당


- ① 한화 정책의 결과
- ② 균현제의 실시 배경
- ③ 무인 지배층의 동향
- ④ 과거제 실시의 영향
- ⑤ 유목 민족의 세력 확장

7. 다음 천도의 배경으로 적절한 것은?



- ① 흉노가 세력을 확대하였다.
- ② 몽골이 한반도를 침략하였다.
- ③ 진(秦)이 전국 시대를 통일하였다.
- ④ 청이 주변 국가에 사대 관계를 요구하였다.
- ⑤ 당이 정복 지역에 도호부와 도독부를 설치하였다.

8. 밑줄 친 '이 제도'가 시행된 시기에 볼 수 있는 모습으로 적절한 것은? [3점]



위 그림은 이 제도에 의해 에도로 향하는 다이묘의 행렬을 그린 것이다. 다이묘는 에도와 자신의 영지(번)에서 번갈아가며 일정 기간 거주하였다.

- ① 영토 확장에 나선 고구려 군대
- ② 교초로 물건을 구입하는 원의 상인
- ③ 고려 사회의 개혁을 주장하는 신진 사대부
- ④ 조선에서 온 통신사를 맞이하는 막부의 관리
- ⑤ 동유 운동의 필요성을 주장하는 베트남 지식인

9. 다음 근대화 정책의 공통점으로 옳은 것은? [3점]

- 이홍장 등 청의 한인 관료 주도로 증체서용의 정신에 입각하여 추진되었다.
- 1880년대 초 조선 정부의 주도로 동도서기론의 입장에서 추진되었다.

- ① 메이지 유신에 영향을 주었다.
- ② 토지 제도의 개혁을 추진하였다.
- ③ 입헌 군주제의 수립을 추구하였다.
- ④ 은 중심의 경제 체제를 확립시켰다.
- ⑤ 서양의 과학 기술을 도입하려 하였다.

10. 밑줄 친 '이 전쟁'이 동아시아에 끼친 영향으로 적절한 것은?

오늘은 이 전쟁 당시 있었던 한산도 대첩을 소재로 한 영화의 주인공을 만나보겠습니다.

안녕하세요. 이순신 역을 맡은 ○○○입니다.

- ① 고려가 동북 9성을 축조하였다.
- ② 5호가 화북 지역을 침략하였다.
- ③ 거란이 연운 16주를 차지하였다.
- ④ 일본에서 신국 의식이 등장하였다.
- ⑤ 만주에서 여진족이 세력을 확대하였다.

# [동아시아사] 한국사/사회탐구 영역

11. (가)에 들어갈 내용으로 가장 적절한 것은?

동아시아사 수행 평가 계획서

- 주제: [가]
- 목표: 17세기 이후 동아시아 각국에 나타난 공통적인 변화에 대해 이해한다.
- 모듈별 활동
  - 1모듈: 청의 경극에 대한 조사
  - 2모듈: 조선의 판소리에 대한 조사
  - 3모듈: 일본의 가부키에 대한 조사
  - 4모듈: 베트남의 수상 인형극에 대한 조사

- ① 민족의식의 고취
- ② 과학 기술의 발달
- ③ 서양 문화의 전래
- ④ 유교 이념의 확립
- ⑤ 서민 문화의 발전

12. 다음 문화유산에 공통적으로 나타난 동아시아 불교의 특징으로 가장 적절한 것은?



몽골의 침략을 물리치려는 고려인의 염원을 담은 팔만대장경판



일본 쇼무 천황이 국가 번영을 기원하며 세운 도다이 사

- ① 신불습합이 이루어졌다.
- ② 청담 사상이 반영되어 있다.
- ③ 호국 불교적 성격을 지녔다.
- ④ 주술성이 강한 밀교를 중시하였다.
- ⑤ 상좌부 불교를 중심으로 발전하였다.

13. (가)에 해당하는 학문으로 옳은 것은?

나는 송 대에 [가]을/를 집대성하였습니다.



주희

나는 원으로부터 [가]을/를 고려에 전하였습니다.



안향

나는 [가]을/를 바탕으로 에도 막부의 의례 정비에 노력하였습니다.



하야시 라잔

- ① 훈고학
- ② 양명학
- ③ 성리학
- ④ 고증학
- ⑤ 공양학

14. 밑줄 친 '이 전쟁'에 대한 학생들의 발표 내용으로 적절한 것은? [3점]

남·북베트남의 대립이 격화되는 가운데, 1964년 통킹 만 사건을 구실로 미국이 지상군을 파병하면서 이 전쟁이 본격화되었다.

- ① 중국의 공산화에 영향을 주었습니다.
- ② 전쟁 중에 카이로 회담이 열렸습니다.
- ③ 미국의 요청으로 한국군이 참전하였습니다.
- ④ 샌프란시스코 강화 조약으로 종결되었습니다.
- ⑤ 베트남이 프랑스로부터 독립하게 되었습니다.

15. 밑줄 친 '이것'에 대한 설명으로 옳은 것은? [3점]

本  
 土  
 貨  
 出  
 口

이것은 일종의 무역 허가증으로, 명이 한쪽을 보관해 두고 나머지 반쪽을 주변국으로 보내 명의 항구에 입항할 때마다 제출하여 대조하도록 하였다. 이때 규정된 선박의 수와 화물 및 인원을 확인하였다.

- ① 개시·후시 무역에 이용되었다.
- ② 무역을 통제하기 위해 발급되었다.
- ③ 난징 조약에 따라 발행이 중단되었다.
- ④ 역참에서 말을 제공받는 데 사용되었다.
- ⑤ 지정은제의 시행으로 수요가 증가하였다.

16. 다음 민족 운동의 공통점으로 옳은 것은?

- 학생과 시민들이 탑골 공원에서 독립을 요구하며 만세 시위를 전개하였다. 이 시위는 전국으로 확산되면서 한민족 최대의 민족 운동으로 발전하였다.
- 베이징의 대학생들이 톈안먼 광장에서 '21개조 요구' 철폐 등을 주장하며 시위를 벌였다. 이 시위는 노동자, 상인, 농민이 참여하는 전국적인 민족 운동으로 발전하였다.

- ① 신분제 폐지를 요구하였다.
- ② 제2차 세계 대전 발발 직후 일어났다.
- ③ 일본에 저항한 반제국주의 운동이었다.
- ④ 사회주의자들이 시위의 중심 세력이었다.
- ⑤ 수도에 외국군이 주둔하는 계기가 되었다.

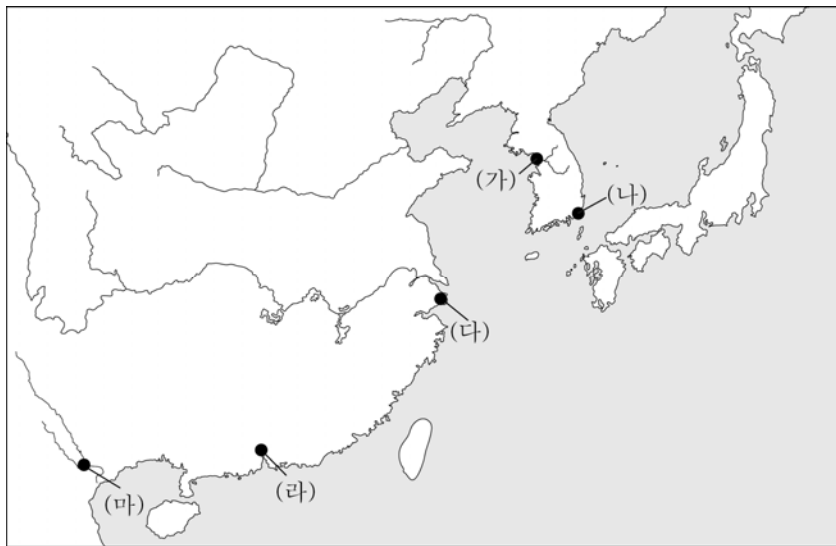
17. 다음 정책이 추진된 시기의 상황으로 옳은 것은? [3점]

이제부터 선비족의 언어를 쓰지 말고, 오로지 중원의 언어만 사용하도록 하라. ... (중략) ... 조정에 있는 서른 살 이하의 사람이 예전처럼 선비족의 언어를 쓴다면 관직에서 내쫓을 것이다.

- ① 수가 대운하를 건설하였다.
- ② 당이 고구려를 공격하였다.
- ③ 왜에서 다이카 개신이 이루어졌다.
- ④ 중국에서 남조와 북조가 대립하였다.
- ⑤ 위만이 고조선의 왕위를 차지하였다.

18. 다음에서 설명하는 도시를 지도에서 고른 것은?

- 임진 전쟁 당시 일본군이 처음으로 상륙했던 곳이다.
- 왜관이 설치되어 대일 무역의 창구 역할을 하였다.
- 1876년 강화도 조약으로 개항된 항구이다.



- ① (가)      ② (나)      ③ (다)      ④ (라)      ⑤ (마)

19. (가), (나) 사이의 시기에 있었던 사실로 옳은 것은? [3점]



(가) 일본군의 하와이 진주만 기습으로 침몰하는 미국의 애리조나호



(나) 일본의 주요 전쟁 범죄자들을 처벌하기 위해 열린 도쿄 재판

- ① 중·일 전쟁이 발발하였다.
- ② 일본이 연합국에 항복하였다.
- ③ 타이완이 일본의 식민지가 되었다.
- ④ 대한 제국이 국권을 강탈당하였다.
- ⑤ 러시아와 일본이 포츠머스 조약을 체결하였다.

20. (가), (나)에 해당하는 나라로 옳게 짝지어진 것은? [3점]

몇 달 전 총리가 야스쿠니 신사 참배를 강행한 **(가)**와/과 지난해 공산당 총서기를 주석으로 선출한 **(나)**은/는, 최근 실무 협상을 통해 센카쿠 열도(다오위다오)를 둘러싸고 양국 간에 서로 다른 의견이 있음을 합의하였다. 하지만 **(가)**은/는 센카쿠 열도(다오위다오)가 현재 자국의 영토라는 사실을 강조하며 영토 분쟁은 존재하지 않는다고 못박았다. 이에 격분한 **(나)**은/는 **(가)**이/가 영토 분쟁의 존재를 인정하고도 이를 발뺌하고 있다고 비난하였다.  
- ○○신문, 2014. 12. -

- |   |     |     |
|---|-----|-----|
|   | (가) | (나) |
| ① | 일본  | 중국  |
| ② | 한국  | 중국  |
| ③ | 중국  | 베트남 |
| ④ | 러시아 | 일본  |
| ⑤ | 타이완 | 베트남 |

※ 확인 사항  
○ 답안지의 해당란에 필요한 내용을 정확히 기입(표기)했는지 확인하십시오.