

6. 자료는 어떤 화산 활동에 대한 것이다. ㉠~㉥에 대한 설명으로 옳지 않은 것은? [3점]

화산 폭발 전·후 산 정상과 주변 숲 경관 비교

오전부터 9시간 동안 계속된 폭발 과정에서 대량으로 분출된 ㉢ 화산재는 ㉣ 동쪽 내륙 지역으로 확산되었다. 이로 인해 화산 주변 지역은 낮인데도 불구하고 ㉤ 햇빛이 차단되어 밤처럼 어두웠다고 한다.

화산재 확산 분포 지역

화산재의 퇴적 두께
 ■ 5이상 - 13미만
 ■ 1이상 - 5미만
 ■ 1미만 (단위: cm)

- ① ㉠ - 화산 활동 이후 함몰된 모습이다.
- ② ㉡ - 화산재에 비해 비교적 이동 속도가 빨라 피해 지역이 넓다.
- ③ ㉢ - 항공기 운항에 장애를 발생시키기도 한다.
- ④ ㉣ - 폭발 당시 바람의 방향이 화산재 이동에 영향을 주었다.
- ⑤ ㉤ - 일조량이 감소하여 농작물에 피해를 준다.

7. 자료는 오스트레일리아 여행에 대한 기록의 일부이다. ㉠~㉥ 중 옳지 않은 것은? [3점]

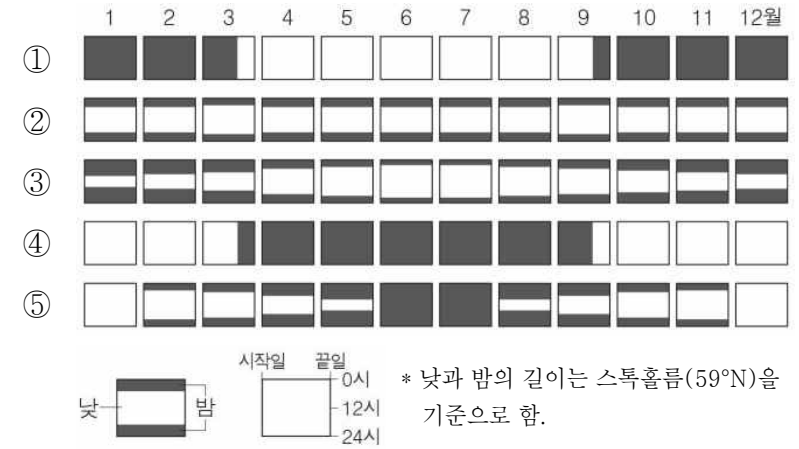
<오스트레일리아의 청정한 대자연 속으로>

- 기간: 1월 12일~18일(7일간)
- 준비사항
 - 왕복 항공편 및 숙소 예약
 - 관광 상품 검색 및 예약
- 메모
 - 1일차: 시드니에 도착하자마자 여름옷으로 갈아입고 오페라 하우스를 구경하러 갔다. ----- ㉠
 - 2일차: 버스를 타고 A로 이동해 넓은 초원에서 양을 만져보고 털을 짚는 체험을 했다. ----- ㉡
 - 4일차: 사막이 펼쳐진 B에서 큰 바위산을 보고, 수많은 별을 보며 텐트에서 하룻밤을 묵었다. ----- ㉢
 - 5일차: 북부 지역인 C에 도착하니 날씨가 쌀쌀했고, 단풍이 물든 숲을 산책하며 사진을 찍었다. ----- ㉣
 - 6일차: D 해안에서 배를 타고 바다로 나가 스노클링을 하면서 아름다운 산호초를 구경하였다. ----- ㉤

- ① ㉠ ② ㉡ ③ ㉢ ④ ㉣ ⑤ ㉤

8. 다음은 스웨덴의 하지 축제에 대한 설명이다. 이 지역에서 나타나는 연중 낮과 밤의 길이 변화를 옳게 표현한 것은? [3점]

하지를 전후로 3일 동안 개최되는 스웨덴의 하지 축제는 전 국민이 참여하는 큰 행사이다. 이 지역은 고위도에 위치해 겨울이 길고, 편서풍을 타고 구름이 자주 밀려와 흐린 날이 많다. 그러나 하지가 되면 해가 오전 2시에 떠서 밤 10시까지 지지 않기 때문에 축제 참가자들은 여름 햇볕을 마음껏 즐길 수 있다.



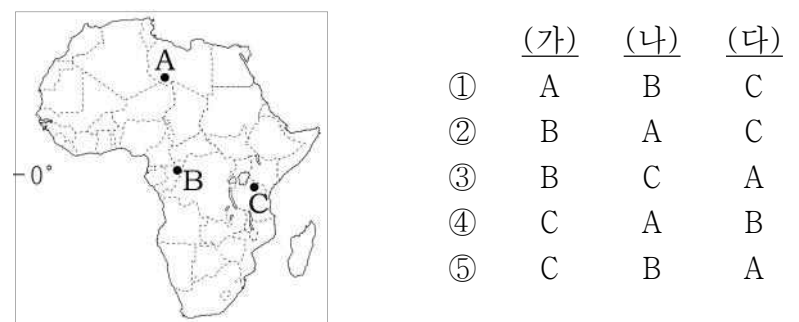

9. 자료의 (가) 나무가 주로 분포하는 지역의 기후 특성으로 옳은 것은?

(가) 나무

이 나무의 잎은 작고 단단하며, 줄기는 코르크층이 발달해 있다. 이유는 부족한 수분의 증발을 막기 위함이며 같은 이유로 뿌리는 땅 속 깊숙이 뻗어 있다. 열매는 기름을 짜거나 절여서 식용으로 사용하며 인근에는 포도 및 오렌지를 재배하는 과수원이 넓게 분포한다.

- ① 계절풍의 영향이 강하다.
- ② 연중 기온이 높고 강수량이 많다.
- ③ 여름철 강한 일사에 의해 스킨 현상이 잦다.
- ④ 따뜻한 해류의 영향으로 강수가 연중 고르다.
- ⑤ 여름은 고온 건조하고 겨울은 온난 습윤하다.

10. 그림은 아프리카를 여행하며 스케치한 것이다. (가)~(다)에 해당하는 지역을 지도의 A~C에서 고른 것은? [3점]

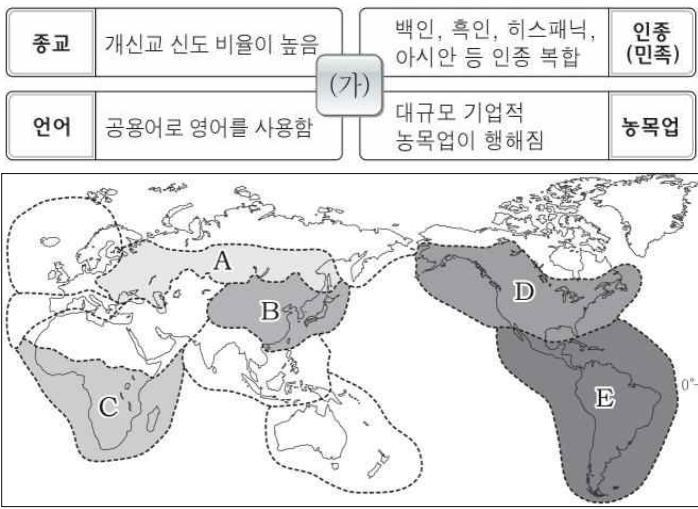


11. 다음 글의 ㉠ ~ ㉥에 대한 설명으로 옳지 않은 것은?

영국에 사는 제임스는 TV를 구입하기 위해 ㉠ 국내 및 해외 인터넷 쇼핑몰 이곳저곳을 돌아다니며 제품의 성능과 가격, 배송비, 관세 등을 비교해 보았다. 결국 ㉡ 미국에서 운영되는 인터넷 쇼핑몰에서 구입하기로 최종 결정하여 배송지 정보를 입력하고 ㉢ 신용카드로 결제하면서 구매를 마쳤다. 배송 과정을 살펴보니 쇼핑몰 업체가 ㉣ 해외 배송 대행업체의 물류센터로 TV를 보내면, 다시 이 업체가 ㉤ 항공 특송으로 국내 배송 업체로 보내서 제임스가 TV를 받는데 까지 10일 정도 걸린다고 한다.

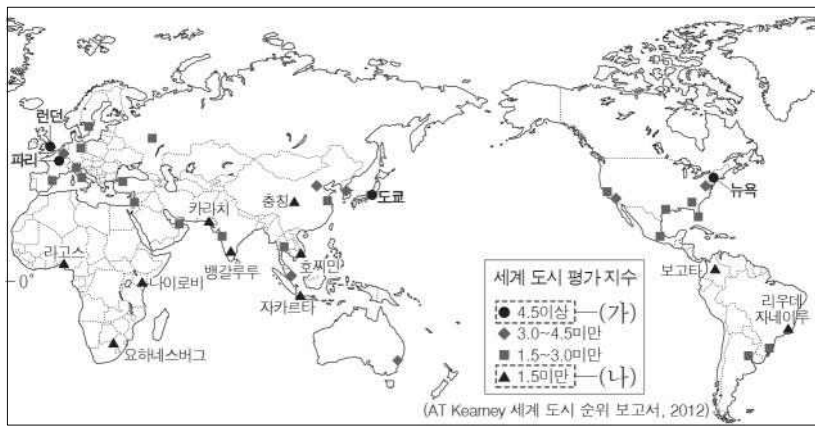
- ① ㉠ - 교통과 통신의 발달로 점차 성장해왔다.
- ② ㉡ - 제품 구입 시 공간적 제약이 증가하였다.
- ③ ㉢ - 전자 상거래를 활성화하는 데 기여하였다.
- ④ ㉣ - 국제 공항이나 항구 근처에 주로 입지한다.
- ⑤ ㉤ - 국제 전자 상거래가 늘어나면서 증가하였다.

12. 자료는 (가) 문화 지역의 특성을 나타낸 것이다. 이 문화 지역을 지도의 A~E에서 고른 것은?

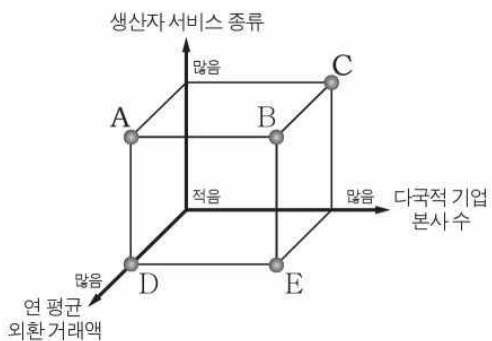


- ① A ② B ③ C ④ D ⑤ E

13. 지도는 세계의 주요 도시를 평가 지수에 따라 분류한 것이다. (나)와 비교한 (가)의 특성으로 옳은 것은? [3점]



* 세계 도시 평가 지수는 비즈니스 활동, 인적 자원, 정보망, 문화 자원, 정치적 참여도를 종합 평가한 수치임.



- ① A
- ② B
- ③ C
- ④ D
- ⑤ E

14. 신문기사의 (가) 종교와 관련된 경관을 <보기>에서 고른 것은?

물 한 모금 마시지 않고 경기를 치른 알제리 대표팀

2014년 브라질 월드컵 16강전에서 독일과 알제리가 맞붙었다. 모든 선수들이 (가) 를 믿는 알제리 대표팀은 라마단 기간이라 음식과 물을 먹지 않고 경기를 치렀다. 또한 선수와 스태프의 방에 코란을 비치해 달라고 숙소 측에 요청했다고 한다.

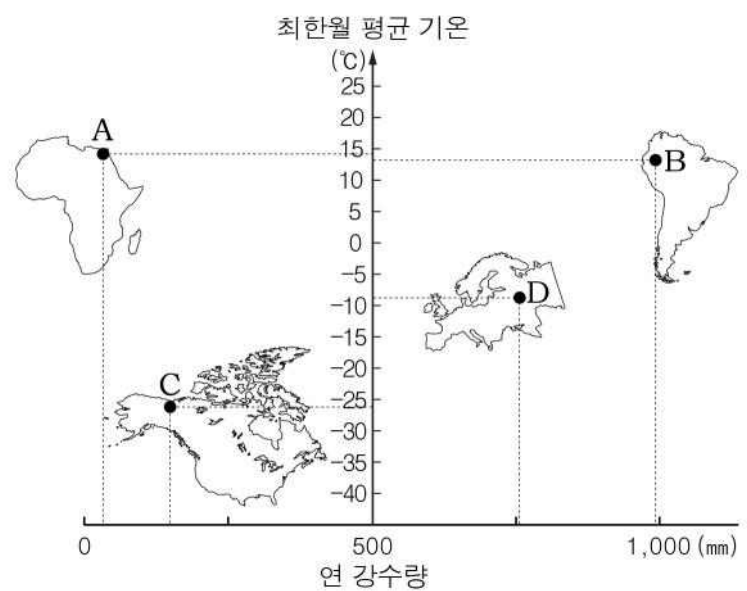
상대팀인 독일을 비롯해 프랑스, 벨기에, 스위스 대표팀에도 (가) 를 믿는 선수들이 포함되어 있었고, 일부 선수는 금식에 참여했다고 한다. - 2014. 7. 1. ○○신문 -

<보 기>



- ① 가, 나 ② 가, 다 ③ 나, 다
- ④ 나, 라 ⑤ 다, 라

15. 자료는 A~D 지역의 최한월 평균 기온과 연 강수량을 나타낸 것이다. 각 지역의 기후에 대한 옳은 설명을 <보기>에서 고른 것은? [3점]

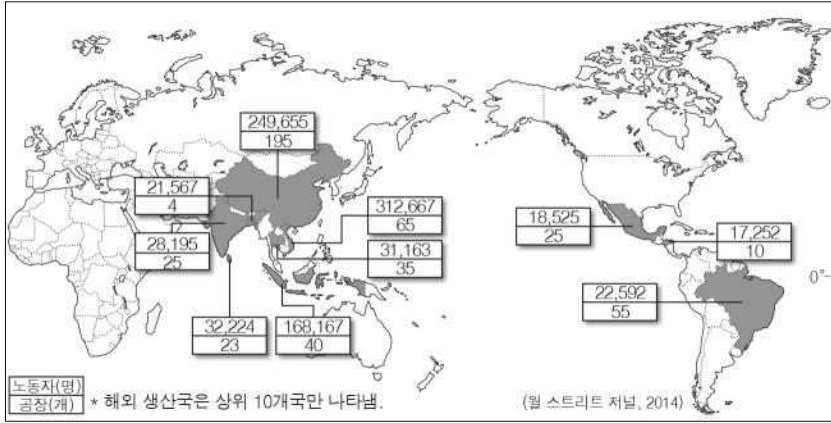


<보 기>

- ㄱ. A는 강수량의 계절적 차이가 뚜렷한 온대 기후이다.
- ㄴ. B는 연중 봄과 같은 날씨가 계속되는 고산 기후이다.
- ㄷ. C는 영구 동토층이 나타나는 한대 기후이다.
- ㄹ. D는 연중 습윤하여 열대 우림이 나타나는 열대 기후이다.

- ① 가, 나 ② 가, 다 ③ 나, 다
- ④ 나, 라 ⑤ 다, 라

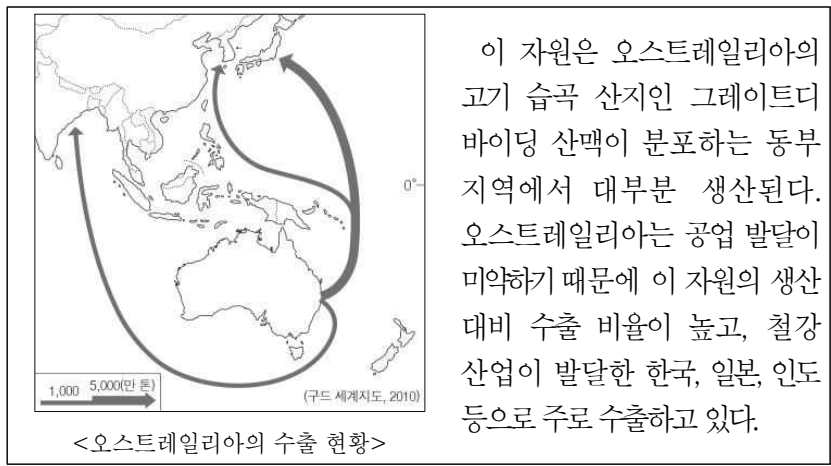
16. 지도는 어느 다국적 기업의 해외 생산 현황을 나타낸 것이다. 이러한 분포가 나타나게 된 배경을 <보기>에서 고른 것은?



<보 기>
 ㄱ. 소비 시장의 확대 ㄴ. 저렴한 노동력의 확보
 ㄷ. 연구 개발 시설의 확보 ㄹ. 첨단 기술 정보의 획득

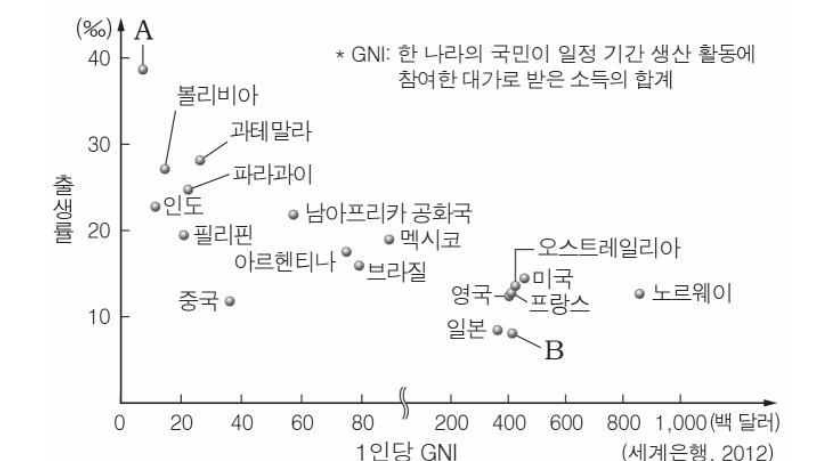
- ① ㄱ, ㄴ ② ㄱ, ㄷ ③ ㄴ, ㄷ
 ④ ㄴ, ㄹ ⑤ ㄷ, ㄹ

17. 자료는 오스트레일리아에서 수출되는 어떤 에너지 자원에 대한 것이다. 이 자원에 대한 설명으로 옳은 것은?



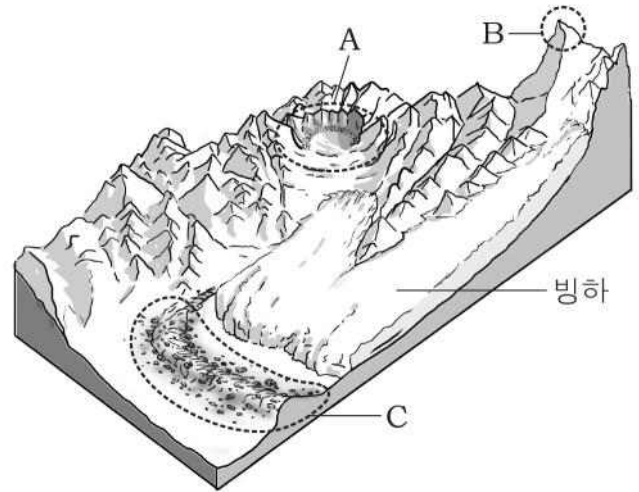
- ① 주로 수송용 연료로 사용된다.
 ② 세계 1차 에너지 중 소비 비중이 가장 높다.
 ③ 산업혁명 시기에 주요 에너지원으로 사용되었다.
 ④ 냉동 액화 기술의 발달로 소비량이 크게 증가하였다.
 ⑤ 연소 시 대기 오염 물질 배출이 적은 청정한 자원이다.

18. 그래프는 국가별 1인당 GNI와 출생률을 나타낸 것이다. A 국가에 비해 B 국가의 수치가 높게 나타나는 지표로 옳은 것은?



- ① 고령화 지수 ② 유아 사망률
 ③ 합계 출산율 ④ 유소년 인구 부양비
 ⑤ 인구의 자연 증가율

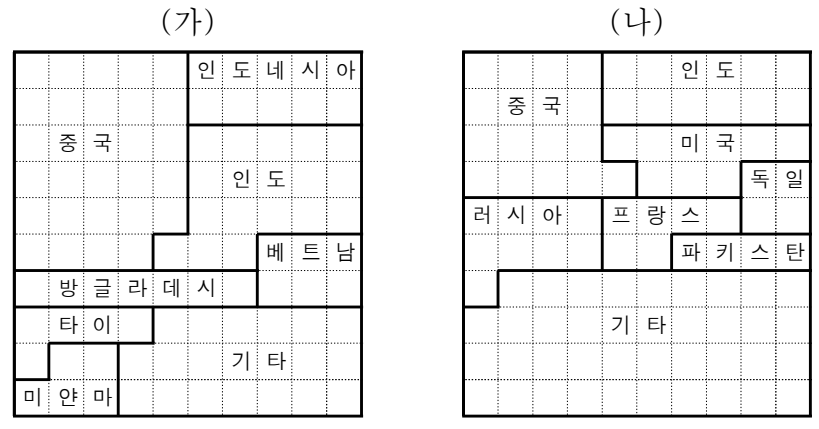
19. 그림은 빙하 지형의 모식도이다. A~C에 대한 옳은 설명을 <보기>에서 고른 것은? [3점]



<보 기>
 ㄱ. A는 주로 화학적 풍화 작용으로 형성되었다.
 ㄴ. B는 혼(horn)으로 뾰족한 산정부의 모습이다.
 ㄷ. C를 통해 빙기 때 빙하의 확장 범위를 알 수 있다.
 ㄹ. A~C 모두 빙하의 침식 작용으로 형성되었다.

- ① ㄱ, ㄴ ② ㄱ, ㄷ ③ ㄴ, ㄷ
 ④ ㄴ, ㄹ ⑤ ㄷ, ㄹ

20. 그래프는 주요 식량 자원의 국가별 생산 비율을 나타낸 것이다. (가), (나)에 대한 설명으로 옳은 것은? (단, (가), (나)는 쌀, 밀, 옥수수 중 하나임.) [3점]



* 생산 비율은 소수점 첫째 자리에서 반올림한 수치이며, 방안 1칸은 1%를 나타냄. (세계 각국 요람, 2010)

- ① (가)는 바이오 에너지 원료로 사용되면서 수요가 급증하였다.
 ② (나)는 사료용 작물로 주로 이용된다.
 ③ (가)는 (나)보다 내한성이 크다.
 ④ (나)는 (가)보다 국제 이동량이 많다.
 ⑤ (나)는 (가)보다 인구 부양력이 높다.

※ 확인사항
 문제지와 답안지의 해당란을 정확히 기입(표기)했는지 확인하시오.