
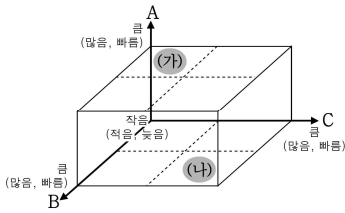


5. (가), (나) 지도의 상대적 특성을 비교할 때, A~C에 들어갈 지표로 적절한 것은?

(가) 메르카토르 지도



(나) T-O 지도



	A	B	C
①	종교적 영향력	제작 시기	지도의 공간적 범위
②	제작 시기	종교적 영향력	지도에 반영된 실제적 지리 정보
③	지도의 공간적 범위	지도에 반영된 실제적 지리 정보	종교적 영향력
④	지도에 반영된 실제적 지리 정보	종교적 영향력	지도의 공간적 범위
⑤	지도에 반영된 실제적 지리 정보	제작 시기	종교적 영향력

6. 다음은 세계지리 수업 장면의 일부이다. 교사의 질문에 답한 내용이 옳은 학생을 고른 것은? [3점]

(가), (나) 시기에 A~D 지역에서 나타나는 특징을 설명해 볼까요?

갑: (가)시기 A지역은 오후에 소나기가 내리요.

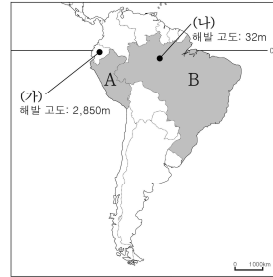
을: (나)시기 B지역은 우기로 초원에 풀이 무성해요.

병: (가)시기 C지역은 계절풍의 영향으로 많은 비가 내리요.

정: (나)시기 D지역은 건기로 물을 구하기 어려워요.

- ① 갑, 을 ② 갑, 병 ③ 을, 병
 ④ 을, 정 ⑤ 병, 정

[7~8] 지도를 보고 물음에 답하시오.



7. 위 지도에 표시된 (가), (나) 지역의 기후에 대한 설명으로 옳은 것은?

- ① (가)의 기온 특성에 가장 큰 영향을 준 요인은 해류이다.
- ② (나)의 강수는 주로 지형성 강수에 기인한다.
- ③ (가)는 (나)보다 연 강수량이 많다.
- ④ (가)는 (나)보다 연 평균 기온이 높다.
- ⑤ (가), (나)는 연교차보다 일교차가 더 크다.

8. 표는 위 지도에 표시된 A, B 국가의 문화적 특성을 나타낸 것이다. 이에 대한 설명으로 옳은 것은? [3점]

국가	인종(민족) 구성(%)				공용어	주요 종교
	㉠	㉡	혼혈	기타		
A	45.0	15.0	37.0	3.0	㉢	가톨릭교
B	0.4	53.7	38.5	7.4	㉣	㉤

<보 기>

가. ㉠은 유럽인 진출 이전 고산 지역에 고대 문명을 발달시켰다.

나. ㉡은 플랜테이션 노동력으로 아프리카에서 강제 동원되어 정착하였다.

다. ㉢은 에스파냐어, ㉣은 포르투갈어이다.

리. ㉤은 영국 식민 지배의 영향으로 개신교이다.

- ① 가, 나 ② 가, 다 ③ 나, 다 ④ 나, 리 ⑤ 다, 리

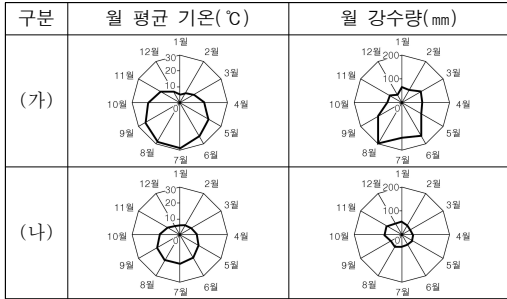
9. (가)에 해당하는 지형으로 옳지 않은 것은?

2014년 ○월 ○일

오늘은 처음으로 이 동물을 타고 이동하였다. 이 동물은 몇 주일 동안 물을 마시지 않아도 생존이 가능하고, 마음대로 여단을 수 있는 코가 있어 콧속으로 모래가 들어오는 것을 막아준다. 이 동물을 타고 가는 동안 TV 프로그램에서 소개되었던 [가] 을/를 보았는데 너무나도 신기했다.

- ① 바람의 침식으로 형성된 버섯 바위
- ② 바람의 퇴적 작용에 의해 형성된 사구
- ③ 비가 내릴 때에만 일시적으로 흐르는 와디
- ④ 지하수가 흘러 나와 물이 항상 고여 있는 플라야
- ⑤ 바람에 의해 모래가 제거되고 자갈만 남아 형성된 사막 포도

10. (가), (나) 기후 지역에 대한 옳은 설명을 <보기>에서 고른 것은? [3점]

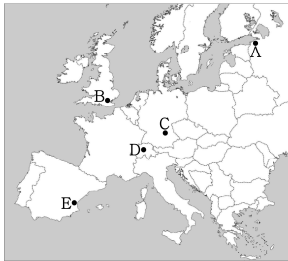


<보 기>

ㄱ. (가)는 목초 재배가 유리하여 혼합 농업이 발달했다.
 ㄴ. (나)는 맑은 날에 사람들이 일광욕을 즐긴다.
 ㄷ. (가)는 (나)보다 계절풍의 영향으로 비농사에 유리하다.
 ㄹ. (나)는 (가)보다 홍수나 가뭄으로 인한 피해가 많다.

- ① ㄱ, ㄴ ② ㄱ, ㄷ ③ ㄴ, ㄷ ④ ㄴ, ㄹ ⑤ ㄷ, ㄹ

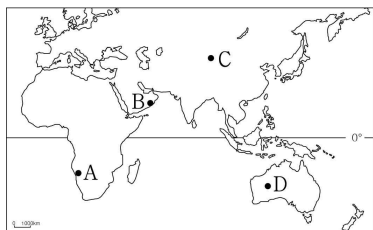
11. 지도의 A~E 지역에서 열리는 축제에 대한 설명으로 적절하지 않은 것은? [3점]



- ① A: 겨울철에 해가 지지 않아 밤새도록 불꽃놀이를 즐긴다.
 ② B: 카리브해 출신 흑인들에게서 유래한 거리 행진을 즐긴다.
 ③ C: 가을의 풍성한 수확을 감사하며 맥주를 마신다.
 ④ D: 눈과 얼음으로 만든 조각상들을 감상한다.
 ⑤ E: 지역 특산물인 토마토를 던지면서 즐긴다.

12. (가), (나)에 해당하는 지역을 지도의 A~D에서 고른 것은?

(가) 이곳은 한류의 영향으로 대기가 안정되어 비가 잘 내리지 않는다. 대신 두텁고 축축한 안개가 자주 발생하여 뱀사람들이 시야를 확보하는 데 어려움을 주기도 한다.
 (나) 이 지역은 대륙 내부에 위치하고 있으므로 수증기 공급이 어려워 강수량이 적다. 이곳 주민들은 고산 지역의 눈이 녹아 만들어진 지하수를 이용해 관개 농업을 한다.



- | | | |
|---|-----|-----|
| | (가) | (나) |
| ① | A | C |
| ② | A | D |
| ③ | B | A |
| ④ | B | C |
| ⑤ | B | D |

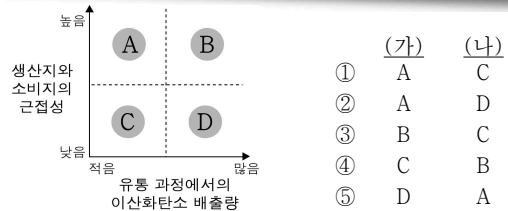
13. 다음은 한 학생이 빙하 지형에 대해 정리한 보고서의 일부이다. 보고서의 내용 중 옳지 않은 것은?

빙하는 높은 곳에서 낮은 곳으로 흐르며 침식과 퇴적 작용을 일으킨다. 산 정상에 마치 뿔과 같이 뾰족한 ㉠ 혼은 빙하의 침식으로 형성된다. 하천에 의해 형성된 골짜기는 ㉡ 빙하의 침식을 받아 U자곡이 형성된다. ㉢ 모래인(빙퇴적)은 물결의 분급이 양호한 빙하 퇴적 지형으로 빙하가 확장되었던 범위를 알 수 있다. ㉣ 빙하의 진행 방향을 알 수 있는 드립린은 순가락을 얹어놓은 것과 같은 모양의 언덕이다. 길게 이어진 제방 모양의 ㉤ 에스커는 용빙수에 의해 토사가 퇴적되어 형성된 지형이다.

- ① ㉠ ② ㉡ ③ ㉢ ④ ㉣ ⑤ ㉤

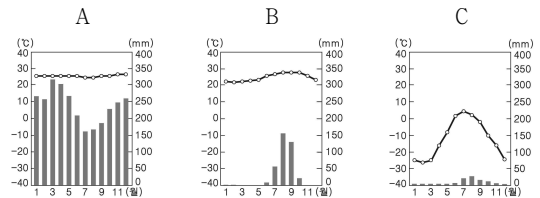
14. (가), (나) 상품 네트워크 간의 상대적 특징을 A~D에서 고른 것은?

(가) 최근에 그 지역에서 생산된 먹거리를 그 지역 내에서 소비하는 로컬 푸드 운동이 활발하다. 대표적 사례로는 미국의 '100마일 다이어트 운동', 일본의 '지산지소(地産地消) 운동' 등을 들 수 있다. 로컬 푸드 운동은 식품의 신선도와 안전성을 확보하여 상품에 대한 신뢰도를 높인다.
 (나) 글로벌 푸드는 곡물 메이저 기업에 의해 생산되어 세계 시장에 공급되고, 계절에 상관없이 대규모로 생산되므로 상대적으로 가격이 저렴하다. 이를 위해 생산 및 유통 과정에서 농약이나 각종 첨가물 등이 많이 사용된다.



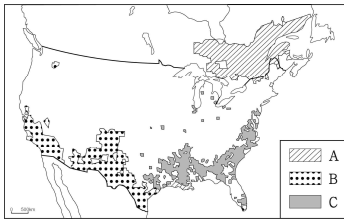
15. (가), (나)의 내용과 관련 있는 지역의 기후 그래프를 A~C에서 고른 것은? [3점]

(가) 지구 온난화로 영구 동토층이 녹으면서 묻혀 있던 동식물의 시체가 부패하게 된다. 이 과정에서 이산화탄소나 메탄가스가 지상에 방출되어 지구 온난화가 가속화되고 있다.
 (나) 최근 기름야자에서 나오는 팜유를 생산하기 위해 농장을 만들면서 숲이 파괴되고 있다. 야자수 농장을 만들면서 숲은 물론이고 그곳에 살던 다양한 동식물들이 사라지고 있다.



- | | | | | | |
|---|-----|-----|---|-----|-----|
| | (가) | (나) | | (가) | (나) |
| ① | A | B | ② | A | C |
| ③ | B | A | ④ | C | A |
| ⑤ | C | B | | | |

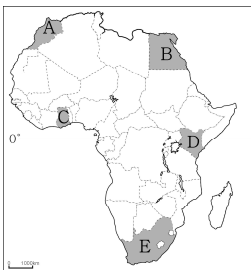
16. 지도의 A~C 지역에 분포하는 주요 인종(민족)에 대한 설명으로 옳은 것은? (단, A~C는 아프리카계, 프랑스계, 히스패닉계 중 하나임.)



- ① A는 대부분 19세기 이후 건설 노동자로 유입되었다.
- ② B는 주로 대농장을 경영하며 사회적 상류층을 구성하고 있다.
- ③ C는 종교적 박해를 피해 유럽에서 이주해 왔다.
- ④ A는 B보다 프랑스어 사용자 비중이 높다.
- ⑤ B는 C보다 출신 지역으로부터 이주해 온 거리가 멀다.

17. 다음은 어느 학생이 여행 중에 작성한 메모이다. 여행 경로로 옳은 것은? [3점]

<p>첫째 주 도시 전체가 미로로 이루어져 세계문화유산으로 지정된 곳을 방문했다. 이곳에서는 양가죽 공장과 염색 공장을 볼 수 있었다.</p>	<p>둘째 주 우거진 숲을 지나서 카카오 농장에 도착하였다. 마침 익은 열매를 수확하는 주민들과 사진을 찍었다.</p>	<p>셋째 주 넓은 초원에는 나무가 드문드문 자라고 있었다. 초식 동물과 육식 동물이 서식하는 모습을 사파리 체험을 통해 볼 수 있었다.</p>
--	---	---

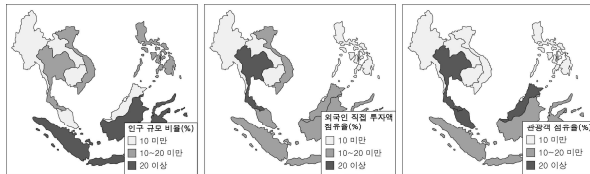


- ① A → B → D
- ② A → C → D
- ③ B → C → E
- ④ E → B → A
- ⑤ E → C → D

18. 다음 <조건>을 모두 만족하는 국가에 여행사의 해외 지점을 설립하고자 한다. 최종 후보 국가를 지도의 A~E에서 고른 것은?

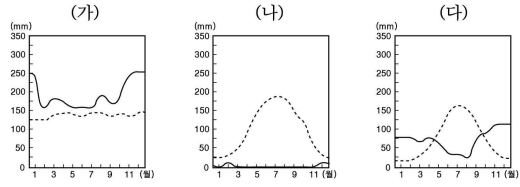
<조건>

- 조건1: ASEAN 내 인구 규모 비율 10% 이상
- 조건2: ASEAN 내 외국인 직접 투자액 점유율 10% 이상
- 조건3: ASEAN 내 관광객 점유율 20% 이상

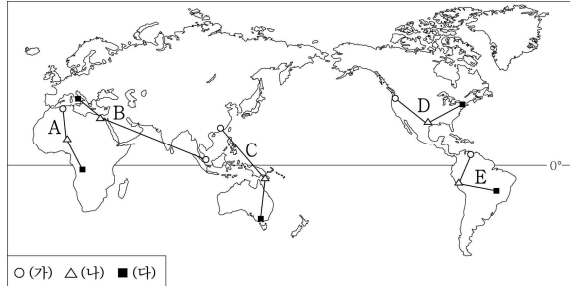


- ① A ② B ③ C ④ D ⑤ E

19. (가)~(다) 물수지가 순서대로 나타나는 경로를 지도의 A~E에서 고른 것은? [3점]



— 강수량 잠재 증발산량
*잠재 증발산량: 한 지점에서 증발할 수 있는 수분의 최대량



- (가) △ (나) ■ (다)
- ① A ② B ③ C ④ D ⑤ E

20. 자료는 세계지리 수업 시간에 실시한 형성 평가지의 일부이다. 진술에 대한 답이 옳게 표시된 것을 고른 것은? [3점]

세계지리 형성 평가

2학년 □반 이름 : ○○○

※ A~D 각 지역의 특성에 맞는 생태 관광에 대한 진술이 옳으면 '예', 틀리면 '아니요'에 √표를 하시오.

진술1: A에서는 원주민이 신성시하는 바위인 울룰루에 관한 전설을 들을 수 있다.
예 아니요 ----- ㉠

진술2: B에서는 산호초 보호를 위해 닻을 내리지 않는 배를 타고 해안을 둘러볼 수 있다.
예 아니요 ----- ㉡

진술3: C에서는 유람선을 타고 빙하가 만든 피오르 해안을 구경할 수 있다.
예 아니요 ----- ㉢

진술4: D에서는 활화산, 간헐천을 구경하고 마오리족의 전통 문화를 체험할 수 있다.
예 아니요 ----- ㉣

- ① ㉠, ㉡ ② ㉠, ㉢ ③ ㉡, ㉣ ④ ㉡, ㉣ ⑤ ㉢, ㉣

※ 확인 사항
○ 답안지의 해당란에 필요한 내용을 정확히 기입(표기)했는지 확인하십시오.