
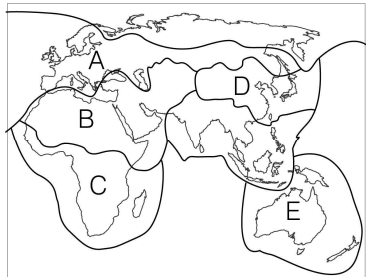


11. 다음 자료의 문화권을 지도의 A~E에서 고른 것은?

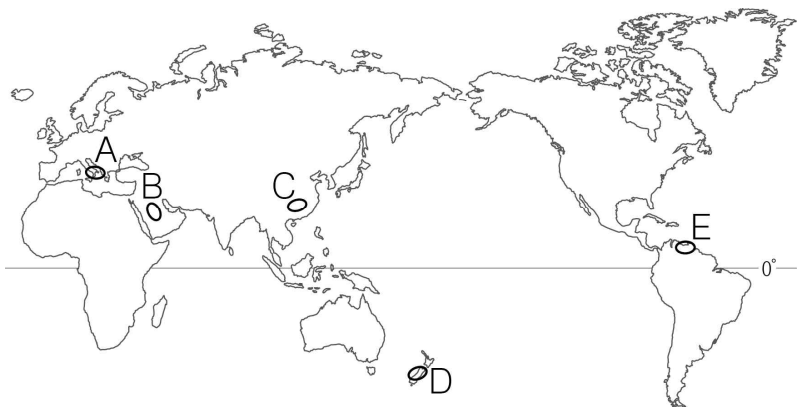


이 문화권에 속한 국가들의 국기에는 달과 별이 함께 그려져 있는 경우가 많다. 그 유래에 대해서는 종교와의 관련성을 많이 언급한다. 달은 유일신을 상징하며, 별은 신자들이 지켜야 할 다섯 가지 의무를 의미한다고 한다.



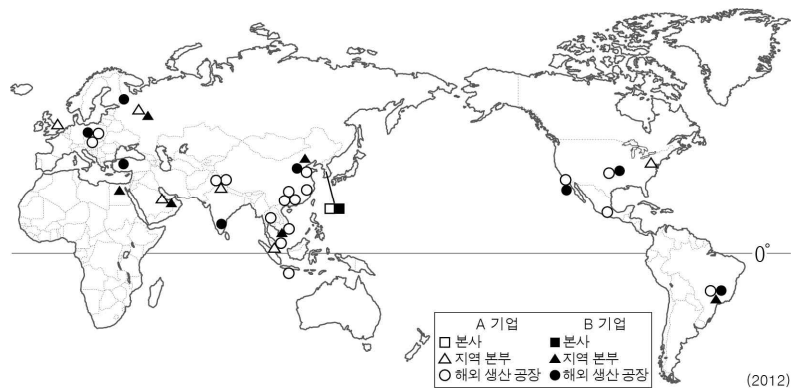
- ① A
- ② B
- ③ C
- ④ D
- ⑤ E

12. 지도의 A~E 지역에서 주로 행해지는 농목업에 대한 설명으로 옳은 것은? [3점]



- ① A - 여름철의 건조함을 잘 견디는 포도, 올리브를 재배한다.
- ② B - 넓은 초지 구성에 유리하여 기업적 목축업이 행해진다.
- ③ C - 낮은 기온으로 농작물 재배가 어려워 순록을 유목한다.
- ④ D - 고온 다습한 기후 조건을 이용하여 카카오를 재배한다.
- ⑤ E - 오아시스의 물을 이용하여 대추야자나 밀을 재배한다.

13. 지도는 두 기업의 조직 분포를 나타낸 것이다. A, B 기업에 대한 옳은 설명을 <보기>에서 고른 것은?





< 보 기 >

ㄱ. A는 중국보다 미국에 더 많은 공장을 두고 있다.
 ㄴ. B는 아프리카와 오세아니아에 지역 본부를 두고 있다.
 ㄷ. A는 B보다 더 많은 해외 생산 공장을 가지고 있다.
 ㄹ. A, B 모두 우리나라에 본사를 둔 다국적 기업이다.

- ① ㄱ, ㄴ ② ㄱ, ㄷ ③ ㄴ, ㄷ ④ ㄴ, ㄹ ⑤ ㄷ, ㄹ

14. 그림은 지도에 표시된 지역의 경관이다. 이 지역 주민들의 전통 의복으로 옳은 것은?



15. 다음 자료에 대한 옳은 설명을 <보기>에서 고른 것은? (단, 상파울루와 대한민국의 시차는 12시간임.) [3점]

2014 브라질 월드컵 대한민국 예선 일정

쿠이아바 상대국: 러시아 현지 시간: 6월 17일 18시 6월 기온: 최고 31°C, 최저 18°C 6월 강수량: 15mm	포르투알레그리 상대국: 알제리 현지 시간: 6월 22일 13시 6월 기온: 최고 19°C, 최저 11°C 6월 강수량: 133mm	상파울루 상대국: 벨기에 현지 시간: 6월 26일 17시 6월 기온: 최고 22°C, 최저 12°C 6월 강수량: 56mm
---	---	---

< 보 기 >

ㄱ. 쿠이아바는 상파울루보다 6월 강수량이 많다.
 ㄴ. 포르투알레그리의 6월 평균 기온은 12월보다 높다.
 ㄷ. 쿠이아바는 포르투알레그리보다 연평균 기온이 높다.
 ㄹ. 상파울루에서 열리는 경기는 한국 시간으로 6월 27일 오전 5시에 시작한다.

- ① ㄱ, ㄴ ② ㄱ, ㄷ ③ ㄴ, ㄷ ④ ㄴ, ㄹ ⑤ ㄷ, ㄹ

16. 다음 자료의 ㉠~㉣ 중 옳게 작성한 항목을 고른 것은? [3점]

형성평가
2학년 ○ 반 ○ 번 이름: △△△

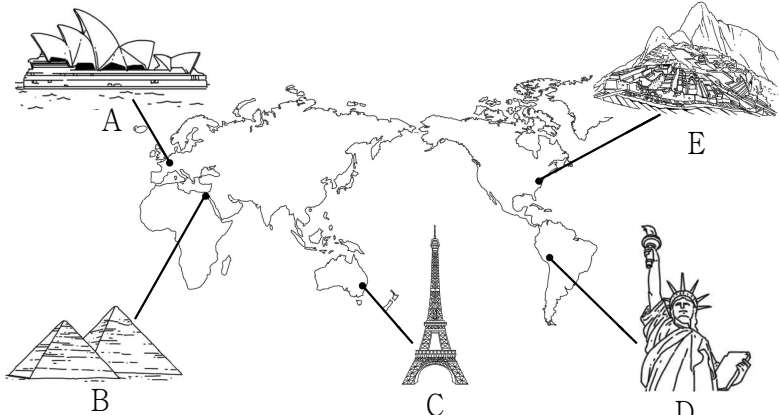
※ 기후 현상의 사례를 정리한 것이다. 각 기후 현상에 영향을 미친 주요 기후 요인을 쓰시오.

기후 현상	기후 요인
사하라 사막은 습도가 낮고 강수량이 적다.	(해발 고도) ... ㉠
영국은 나이지리아보다 연평균 기온이 낮다.	(위도) ... ㉡
히말라야 산지의 여름 계절풍 바람받이 사면은 강수량이 많다.	(지형) ... ㉢
적도 부근의 안데스 고산 지역은 일 년 내내 온화한 기후가 나타난다.	(수륙 분포) ... ㉣

- ① ㉠, ㉡ ② ㉠, ㉢ ③ ㉡, ㉣ ④ ㉡, ㉣ ⑤ ㉢, ㉣

17. 다음 글의 A~E를 지도에 표시한 것 중 옳은 것은?

랜드마크(landmark)는 도시를 상징하는 건축물, 조형물 등을 지칭한다. 세계적으로 유명한 랜드마크에는 프랑스 파리의 A, 이집트 기제의 B, 오스트레일리아 시드니의 C, 페루 쿠스코의 D, 미국 뉴욕의 E 등이 있다.



- ① A ② B ③ C ④ D ⑤ E

18. 다음 자료는 어느 환경 문제에 대한 사이버 지리 학습 화면을 나타낸 것이다. ㉠~㉣ 중 옳은 내용을 고른 것은? [3점]

사이버 지리 학습

지도에 표시된 지역에서 공통적으로 나타나는 환경 문제에 대한 내용을 적어 보세요.

답글(4)

- ㉠ 과도한 목축에 따른 사막화로 토지가 황폐해졌습니다. ㉠
- ㉡ 열대림 파괴로 생물 종의 다양성이 감소하고 있습니다. ... ㉡
- ㉢ 오염 물질이 편서풍을 타고 이동해 피해가 확산됩니다. ... ㉢
- ㉣ 대기 중 산화물이 산성비로 내려 작물에 피해를 줍니다. ... ㉣

- ① ㉠, ㉡ ② ㉠, ㉣ ③ ㉡, ㉣ ④ ㉡, ㉣ ⑤ ㉢, ㉣

19. 다음 자료는 수행평가 보고서의 일부이다. (가)에 들어갈 내용으로 가장 적절한 것은?


주제: _____ (가)
2학년 ○ 반 ○ 번 이름: △△△

교통·통신이 발달함에 따라 세계가 하나의 생활권으로 통합되면서 여러 지역의 문화가 유사해지고 있다. 그러나 일부 문화는 획일화되지 않고 각 지역의 고유성이 반영되어 나타나기도 한다.

이러한 사례는 음식 문화에서도 찾아 볼 수 있다. 미국의 ○○기업에 의해 상품화된 햄버거는 세계 각지에서 판매되고 있다. 전 세계적으로 동일하게 판매되는 제품도 있지만 각 국가의 음식 문화가 반영된 제품들도 많이 있다. 예를 들어 인도네시아에는 쌀로 만든 라이스 버거, 독일에는 전통 소시지가 통째로 들어간 뉴른 버거, 서남아시아에는 아랍식 빵으로 만든 아라비아 버거가 있다.

- ① 지역 특성을 반영한 세계화의 진전
② 국가 및 지역 간 상호 의존성 약화
③ 세계화에 따른 경제적 불평등 심화
④ 문화 전파에 따른 지역 간 갈등 증가
⑤ 외래문화 유입에 따른 전통문화의 소멸

20. 그림은 지도에 표시된 지역을 여행하면서 그린 것이다. ㉠~㉣에 대한 옳은 설명만을 <보기>에서 있는 대로 고른 것은? [3점]



< 보 기 >

㉠. ㉠ - 다양한 종류의 나무가 자라는 밀림이다.
㉡. ㉡ - 연중 강수량이 많기 때문이다.
㉢. ㉢ - 지표의 동결과 용해에 의한 가옥 붕괴를 막기 위해서이다.
㉣. ㉣ - 대규모로 재배하는 플랜테이션이 나타나기도 한다.

- ① ㉠, ㉡ ② ㉠, ㉣ ③ ㉡, ㉣
④ ㉠, ㉢, ㉣ ⑤ ㉡, ㉣, ㉣

※ 확인 사항
○ 답안지의 해당란에 필요한 내용을 정확히 기입(표기)했는지 확인하시오.