

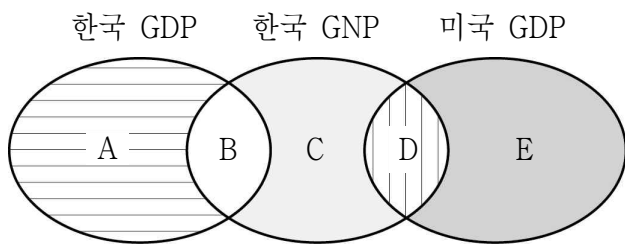
제 4 교시

사회탐구 영역(경제)

성명  수험번호           2

1. 다음 대화에서 ○○○ 선수의 소득이 해당하는 영역으로 옳은 것은?

갑: 너 어제 ○○○ 선수에 관한 스포츠 뉴스 봤니?  
 을: 미국 메이저리그에서 활약 중인 한국 국적의 야구 선수 말이야?  
 갑: 응. 7년간 1억 3천만 달러를 받는 조건으로 계약했대.  
 을: 그런데 ○○○ 선수가 실제 받는 소득은 계약 금액의 50%가 채 안된다고 하더군.



- ① A      ② B      ③ C      ④ D      ⑤ E

2. 다음 대화에서 갑, 을이 말하는 실업의 유형에 해당하는 사례를 <보기>에서 고른 것은? [3점]



- < 보 기 >
- ㄱ. 글로벌 금융 위기의 영향으로 많은 사람들이 정리 해고를 당했다.
  - ㄴ. 무인 경비 시스템이 확대되면서 경비 인력을 줄이는 회사가 늘고 있다.
  - ㄷ. 고용 안정성이 약화되면서 공무원 시험을 준비하는 사람들이 늘고 있다.
  - ㄹ. 장마가 지속되면서 일손을 놓고 있는 일용직 건설 노동자들이 늘고 있다.

- |   |   |   |   |   |   |
|---|---|---|---|---|---|
|   | 갑 | 을 |   | 갑 | 을 |
| ① | ㄱ | ㄴ | ② | ㄱ | ㄷ |
| ③ | ㄴ | ㄷ | ④ | ㄴ | ㄹ |
| ⑤ | ㄷ | ㄹ |   |   |   |

3. 다음은 어느 나라의 시사 토론 장면이다. 이에 대한 설명으로 옳은 것은?



- ① 갑의 주장은 원료의 해외 의존도가 높은 기업에 유리할 것이다.
- ② 을은 중소기업 육성 및 창업 지원 정책에 대해 찬성할 것이다.
- ③ 병은 노동 시장 유연화 정책에 대해 찬성할 것이다.
- ④ 갑은 병에 비해 내수 확대를 통한 경제 성장을 더 선호할 것이다.
- ⑤ 을과 병은 갑과 달리 정부의 적극적인 경제 개입을 옹호할 것이다.

4. 밑줄 친 ㉠ ~ ㉣에 대한 옳은 설명을 <보기>에서 고른 것은? [3점]

㉠ 유로존\* 출범 이후 회원국들 간의 ㉡ 무역 불균형 문제가 대두되었다. 독일은 수출이 큰 폭으로 증가한 반면 다른 회원국들은 무역 적자가 누적된 것이다. 유로존 출범 이전에는 이와 같은 무역 불균형이 발생하면 ㉢ 환율이 변동되어 무역 적자 상황이 자동적으로 개선되었다. 그러나 기존의 각국 통화를 폐기하고 유로화를 회원국들의 통화로 사용한 이후에는 이러한 장치가 사라져 유로존에 경제적 불안정이 나타나게 된 것이다.

\* 유로존: 유로화를 국가 통화로 사용하는 국가나 지역이며 유럽 중앙 은행이 통화 정책의 책임을 맡고 있음.

- < 보 기 >
- ㄱ. ㉠의 출범으로 회원국들 간의 경제적 상호 의존성이 심화되었다.
  - ㄴ. ㉡은 독일의 보호 무역 정책 강화로 인한 부작용이다.
  - ㄷ. ㉢은 독일 상품의 수출 경쟁력을 약화시키는 요인이었다.
  - ㄹ. ㉣은 독일 통화에 대한 다른 국가의 통화 가치 상승을 의미한다.

- ① ㄱ, ㄴ    ② ㄱ, ㄷ    ③ ㄴ, ㄷ    ④ ㄴ, ㄹ    ⑤ ㄷ, ㄹ

5. 그림은 원/달러 환율 변동에 따른 반응을 나타낸다. 이에 대한 설명으로 옳은 것은? [3점]



- ① (가)를 초래한 환율 변동은 외채의 상환 부담을 감소시킨다.
- ② (나)는 원화 가치의 하락에 따른 반응이다.
- ③ (다)는 달러의 수요가 감소할 때 나타날 수 있는 반응이다.
- ④ (가), (다), (라)는 원/달러 환율 상승에 따른 반응이다.
- ⑤ 국내 외환 시장에서 을과 정은 달러의 수요자이다.

6. 다음은 관세가 경상 수지의 변화에 미치는 영향을 설명하기 위한 글이다. 빈 칸 ㉠ ~ ㉢에 들어갈 내용으로 옳은 것은?

경상 수지가 적자 상태인 갑국의 소비자가 국내에서는 생산되지 않는 X재를 가격과 상관없이 일정량 소비하고 있다. 만일 이런 상황에서 갑국이 X재에 관세를 부과하면 X재에 대한 가계의 지출액이 ( ㉠ )하고 가계 소득의 실질적인 가치가 ( ㉡ )하는 효과가 나타난다. 이는 가계의 X재 이외의 수입 상품 소비량에 영향을 주어 갑국의 경상 수지 적자를 ( ㉢ )시키는 요인이 된다.

- |   |    |    |    |
|---|----|----|----|
|   | ㉠  | ㉡  | ㉢  |
| ① | 감소 | 증가 | 확대 |
| ② | 감소 | 감소 | 축소 |
| ③ | 증가 | 증가 | 확대 |
| ④ | 증가 | 감소 | 확대 |
| ⑤ | 증가 | 감소 | 축소 |

7. 표는 인플레이션의 유형을 원인별로 구분한 것이다. (가), (나)에 대한 설명으로 옳지 않은 것은?

유형	(가)	(나)
원인	<ul style="list-style-type: none"> <li>○ 가계 소비의 증가</li> <li>○ 기업 투자의 증가</li> <li>○ 정부 지출의 증가</li> </ul>	<ul style="list-style-type: none"> <li>○ 과도한 임금 인상</li> <li>○ 원자재 가격 상승</li> <li>○ 농산물 가격 상승</li> </ul>

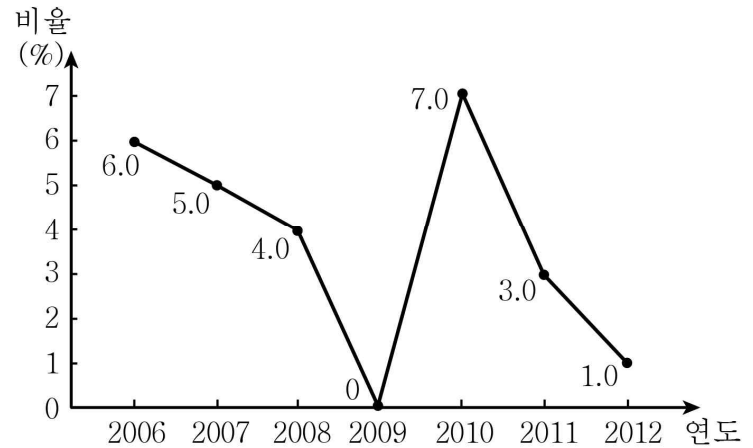
- ① (가)는 경기가 과열되는 호경기에 주로 발생한다.
- ② 확대 재정 정책은 (가)에 적합한 대책이 될 수 있다.
- ③ (나)는 물가 상승과 함께 고용의 불안이 수반한다.
- ④ 혁신을 통한 생산성 향상은 (나)의 대책이 될 수 있다.
- ⑤ (가), (나) 모두 화폐 자산보다 실물 자산을 보유한 사람에게 유리하다.

8. 다음 내용을 종합하여 도출할 수 있는 국내 총생산의 한계로 가장 적절한 것은?

- 자동차의 생산과 판매를 늘리게 되면 교통사고와 교통 체증이 늘어나지만 국내 총생산은 증가할 수 있다.
- 주 5일제 실시와 같이 노동 시간을 줄이게 되면 근로자들의 여가가 늘어나지만 국내 총생산은 감소할 수 있다.

- ① 자국민의 해외 생산을 고려하지 않는다.
- ② 국민의 삶의 질을 정확히 반영하지 못한다.
- ③ 소득의 분배 상태를 정확히 보여주지 못한다.
- ④ 국민의 평균적인 생활수준을 보여주지 못한다.
- ⑤ 시장 밖의 경제활동을 추계에 반영하지 못한다.

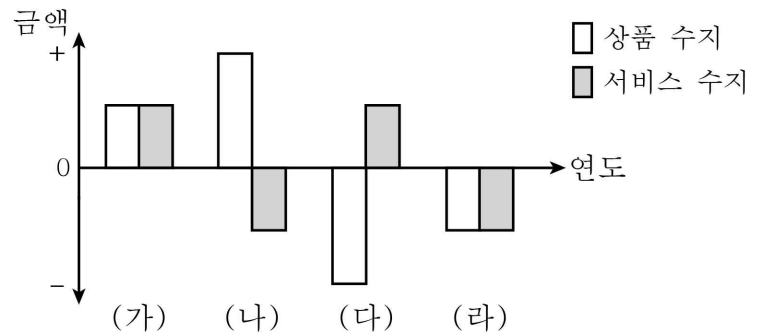
9. 그림은 어느 나라의 경제 성장률 추이를 나타낸다. 이에 대한 옳은 분석을 <보기>에서 고른 것은?



- < 보 기 >
- ㄱ. 2007년의 실질 GDP는 2006년에 비해 작아졌다.
  - ㄴ. 2008년과 2009년의 실질 GDP는 같다.
  - ㄷ. 2011년의 실질 GDP는 2009년에 비해 10% 커졌다.
  - ㄹ. 2012년의 실질 GDP가 가장 크다.

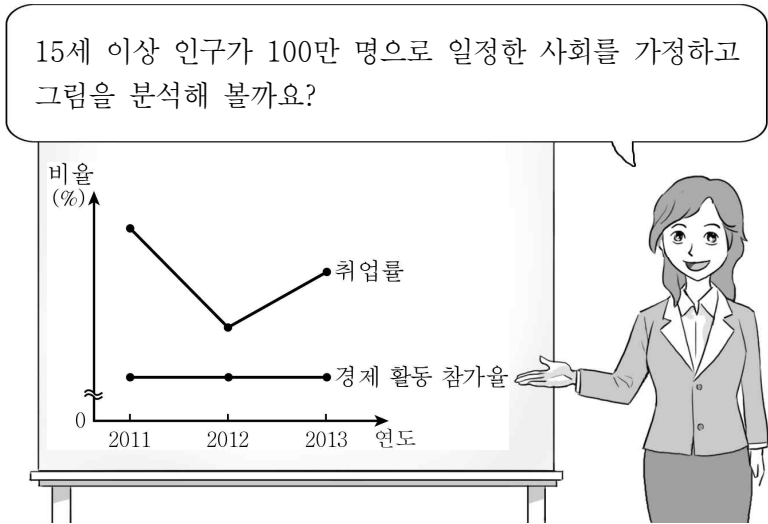
- ① ㄱ, ㄴ    ② ㄱ, ㄷ    ③ ㄴ, ㄷ    ④ ㄴ, ㄹ    ⑤ ㄷ, ㄹ

10. 그림은 어떤 나라의 경상 수지 추이를 나타낸다. (가)~(라) 연도에 대한 설명으로 옳은 것은? (단, 경상 수지는 상품 수지와 서비스 수지만으로 구성된다고 가정한다.) [3점]



- ① (가) 연도에 경상 수지의 균형이 이루어졌다.
- ② (다) 연도에는 자본의 유출보다 유입이 많았다.
- ③ (나)~(라) 연도에는 매년 경상 수지가 적자였다.
- ④ (다) 연도보다 (라) 연도에 상품의 수입이 더 많았다.
- ⑤ (가) 연도에서 (라) 연도로 갈수록 경상 수지는 악화되었다.

11. 다음은 경제 수업의 한 장면이다. 교사의 질문에 옳게 답한 학생을 <보기>에서 고른 것은? [3점]



\* 취업률 = (취업자 수 / 경제 활동 인구) × 100  
 \* 경제 활동 참가율 = (경제 활동 인구 / 15세 이상 인구) × 100

< 보 기 >

갑: 2011년의 실업률보다 2013년의 실업률이 더 낮아요.  
 을: 2011년 ~ 2013년의 비경제 활동 인구는 변함이 없어요.  
 병: 전년 대비 2012년에 감소한 취업자 수와 증가한 실업자 수는 같아요.  
 정: 2013년의 취업자가 60만 명이면 취업률은 60%가 돼요.

- ① 갑, 을    ② 갑, 병    ③ 을, 병    ④ 을, 정    ⑤ 병, 정

12. 다음 글에 대한 옳은 설명을 <보기>에서 고른 것은? [3점]

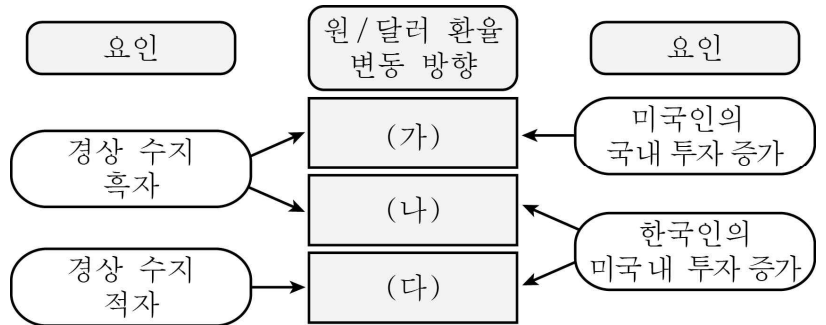
빈곤 국가를 돕기 위해 국제 사회는 ㉠ 공적 개발 원조를 제공하고 있다. 2012년 OECD 개발 원조 위원회 회원국의 공적 개발 원조는 평균적으로 국민 소득 대비 0.29%인데 반해 우리나라는 0.14%에 불과하다. 정부는 이 수치를 높으려 하고 있으나, ㉡ 재정의 악화를 감안하면 쉽지 않은 상황이다. 한편 빈곤 극복을 위해서는 공적 개발 원조뿐만 아니라 성공적인 경제 성장 경험과 관련 지식의 전달도 중요하다. 국제 사회는 ㉢ 우리나라가 이러한 측면에서의 역할을 해줄 것으로 기대하고 있다.

< 보 기 >

ㄱ. 개별 국가가 ㉠을 제공하는 것은 그 국가의 경상 수지 적자 요인이 된다.  
 ㄴ. 경기 침체로 인한 조세 수입 감소는 ㉡의 원인이 될 수 있다.  
 ㄷ. ㉢은 빈곤 국가에 대한 우리나라의 금전적 지원 확대를 의미한다.  
 ㄹ. 국제 사회에서 지역적 경제 협력이 확산되는 모습을 보여주는 사례이다.

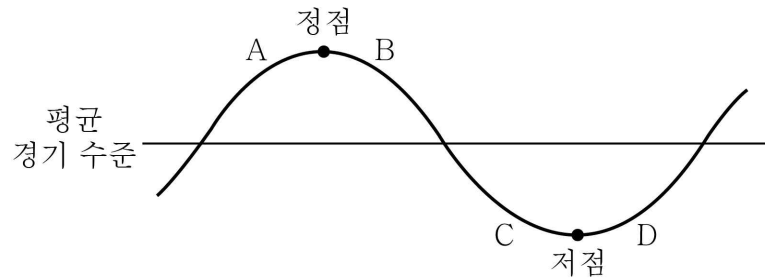
- ① ㄱ, ㄴ    ② ㄱ, ㄷ    ③ ㄴ, ㄷ    ④ ㄴ, ㄹ    ⑤ ㄷ, ㄹ

13. 그림은 환율 변동의 요인과 그에 따른 변동 방향을 나타낸다. 빈 칸 (가)~(다)에 들어갈 내용으로 옳은 것은?



- |   |        |        |        |
|---|--------|--------|--------|
|   | (가)    | (나)    | (다)    |
| ① | 상승     | 알 수 없음 | 하락     |
| ② | 상승     | 하락     | 알 수 없음 |
| ③ | 알 수 없음 | 하락     | 상승     |
| ④ | 하락     | 상승     | 하락     |
| ⑤ | 하락     | 알 수 없음 | 상승     |

14. 그림은 경기 순환 모형을 나타낸다. A~D 국면에 대한 옳은 설명을 <보기>에서 고른 것은?



< 보 기 >

ㄱ. A 국면에서는 기업의 재고가 감소하고 임금이 상승한다.  
 ㄴ. B 국면에서 C 국면으로 전환되는 과정에서 소비와 투자가 활성화된다.  
 ㄷ. A 국면에서는 물가 안정, C 국면에서는 고용 안정이 정책 목표가 된다.  
 ㄹ. B 국면에서는 금리 인상, D 국면에서는 금리 인하를 추진할 필요가 있다.

- ① ㄱ, ㄴ    ② ㄱ, ㄷ    ③ ㄴ, ㄷ    ④ ㄴ, ㄹ    ⑤ ㄷ, ㄹ

15. 다음과 같은 경제 정책을 통해 해결하고자 하는 경제 문제로 옳은 것은?

○ 중앙은행은 기준 금리를 낮추기로 하였다.  
 ○ 정부는 사회 간접 자본 투자를 늘리기로 하였다.  
 ○ 정부는 기업의 투자에 대한 세액 공제를 확대하기로 하였다.

- |            |            |
|------------|------------|
| ① 물가의 상승   | ② 환율의 급등   |
| ③ 실업의 급증   | ④ 재정 적자 누적 |
| ⑤ 국내 저축 감소 |            |

16. 표는 A국, B국의 실질 GDP의 변화를 나타낸다. 이에 대한 옳은 분석을 <보기>에서 고른 것은? (단, 기준 연도는 2010년이다.) [3점]

(단위: 억 달러)

구분	2009년	2010년	2011년
A국	100	120	150
B국	100	110	140

< 보 기 >  
 ㄱ. 2009년 A국과 B국의 1인당 실질 GDP는 같다.  
 ㄴ. 2010년의 명목 GDP는 A국이 B국보다 크다.  
 ㄷ. 2011년의 경제 성장률은 A국이 B국보다 낮다.  
 ㄹ. B국은 A국과 달리 경제 성장 속도가 둔화되고 있다.

- ① ㄱ, ㄴ    ② ㄱ, ㄷ    ③ ㄴ, ㄷ    ④ ㄴ, ㄹ    ⑤ ㄷ, ㄹ

17. 다음은 세계화와 관련한 두 사람의 대화이다. 이에 대한 옳은 설명을 <보기>에서 고른 것은?

갑: 현대 사회에서 많은 국가들이 국제 분업과 협력을 강화하고 있습니다. 이는 국가 간의 상호 경제적 이익 증대 및 국제 평화 유지에도 기여합니다.  
 을: 세계화는 선진국과 후진국 간의 소득 양극화를 심화시킵니다. 또한 개별 국가의 경제적 선택이 국제 경제 사회 전체를 위험에 빠뜨릴 수 있습니다.

< 보 기 >  
 ㄱ. 갑은 세계화를 경제적 측면에서만 분석하고 있다.  
 ㄴ. 을은 세계화의 부정적인 측면을 강조하고 있다.  
 ㄷ. 갑은 을에 비해 경제적 평등에 더 높은 가치를 부여하고 있다.  
 ㄹ. 갑, 을 모두 국가 간의 상호 의존성이 심화되고 있는 현상에 주목하고 있다.

- ① ㄱ, ㄴ    ② ㄱ, ㄷ    ③ ㄴ, ㄷ    ④ ㄴ, ㄹ    ⑤ ㄷ, ㄹ

18. 표에 나타난 환율 변동의 영향에 대한 옳은 추론을 <보기>에서 고른 것은? [3점]

구분	변동 전	변동 후
원/100엔	1,000	900
원/위안	170	200

< 보 기 >  
 ㄱ. 중국인과 달리 일본인의 한국 여행이 유리해졌다.  
 ㄴ. 국내 위안화 예금 보유자가 엔화 예금 보유자보다 불리해졌다.  
 ㄷ. 한국 시장에서 일본 상품에 대한 중국 상품의 가격 경쟁력이 약화되었다.  
 ㄹ. 한국 기업은 중국보다 일본으로부터의 수입 비중을 늘리는 것이 유리해졌다.

- ① ㄱ, ㄴ    ② ㄱ, ㄷ    ③ ㄴ, ㄷ    ④ ㄴ, ㄹ    ⑤ ㄷ, ㄹ

19. 표는 갑국과 을국의 경제 지표를 나타낸다. 이에 대한 옳은 분석을 <보기>에서 고른 것은? (단, 두 국가만 존재하고 비교 우위에 따라 교역한다고 가정한다.) [3점]

(단위: %)

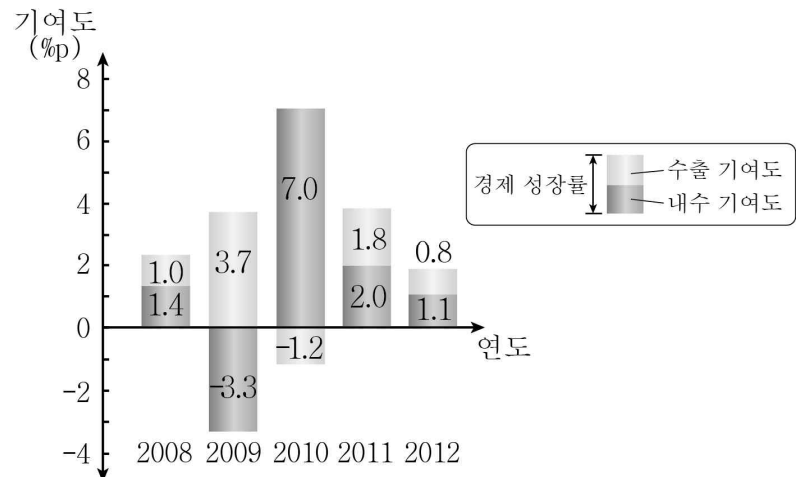
연도	갑국			을국		
	구분	GDP 기여도	수출 비중	구분	GDP 기여도	수출 비중
A (t년)	1차 산업	65	100	1차 산업	20	0
	2차 산업	25	0	2차 산업	55	100
	3차 산업	10	0	3차 산업	25	0
B (t+30년)	1차 산업	30	25	1차 산업	5	0
	2차 산업	50	75	2차 산업	20	30
	3차 산업	20	0	3차 산업	75	70

\* GDP 기여도: 각 산업의 생산액이 GDP에서 차지하는 비중

< 보 기 >  
 ㄱ. 산업 구조가 고도화되면서 비교 우위 산업이 변화했다.  
 ㄴ. A 연도에 갑국은 1차 산업, 을국은 2차 산업에 비교 우위가 있다.  
 ㄷ. B 연도에 양국 모두 1차 산업의 생산액이 가장 작다.  
 ㄹ. 갑국의 2차 산업 생산액은 B 연도가 A 연도의 2배이다.

- ① ㄱ, ㄴ    ② ㄱ, ㄷ    ③ ㄴ, ㄷ    ④ ㄴ, ㄹ    ⑤ ㄷ, ㄹ

20. 그림은 경제 성장에 대한 내수와 수출의 기여도 추이를 나타낸다. 이에 대한 분석으로 옳은 것은? [3점]



\* 수출 기여도: 수출의 증감이 GDP 변화에 미친 영향  
 \* 내수 기여도: 자국 상품에 대한 국내 수요의 증감이 GDP 변화에 미친 영향

- ① 수출 기여도가 클수록 경제 성장률이 높다.  
 ② 2008년의 내수 규모는 2012년보다 크다.  
 ③ 2009년의 내수 규모는 수출의 규모보다 작다.  
 ④ 2010년의 수출은 전년에 비해 감소했다.  
 ⑤ 2012년의 내수 기여도는 수출 기여도보다 낮다.

※ 확인 사항  
 ○ 답안지의 해당란에 필요한 내용을 정확히 기입(표기)했는지 확인하십시오.