

제 4 교시

직업탐구 영역(상업경제)

성명 수험번호 3

1. 그림은 상업의 발달 과정에 대한 수업 내용의 일부이다. (가)에 해당하는 특징으로 옳은 내용을 <보기>에서 고른 것은?

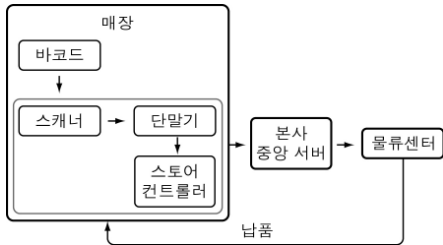


< 보 기 >

ㄱ. 화폐 사용
 ㄴ. 잉여 생산물 교환
 ㄷ. 시장과 상인이 출현
 ㄹ. 물품의 직접 교환 발생

- ① ㄱ, ㄴ ② ㄱ, ㄷ ③ ㄴ, ㄷ
 ④ ㄴ, ㄹ ⑤ ㄷ, ㄹ

2. 그림과 같은 매장 관리 시스템을 도입할 경우 기대할 수 있는 효과를 <보기>에서 고른 것은?

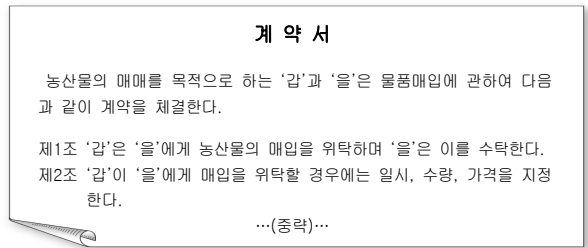


< 보 기 >

ㄱ. 상품별로 판매된 시간을 알 수 있다.
 ㄴ. 할인 판매의 효과를 측정할 수 있다.
 ㄷ. 배송 차량의 위치를 수시로 파악할 수 있다.
 ㄹ. 상품 구매 정보를 토대로 EDI를 구축할 수 있다.

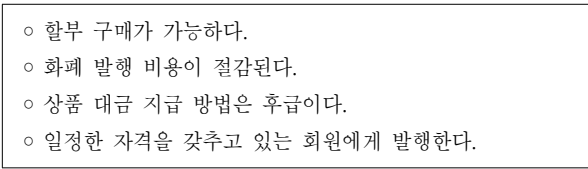
- ① ㄱ, ㄴ ② ㄱ, ㄷ ③ ㄴ, ㄷ
 ④ ㄴ, ㄹ ⑤ ㄷ, ㄹ

3. 다음 계약서에 나타난 보조 상인의 특징에 해당하는 설명으로 옳은 것은?



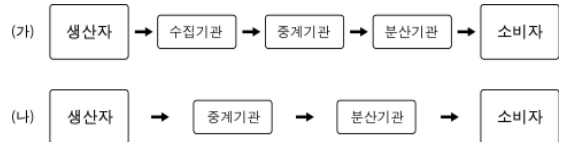
- ① 경업금지 의무가 있다.
 ② 자기 명의로 거래한다.
 ③ 시가 위탁으로 계약한다.
 ④ 특정인을 대상으로 한다.
 ⑤ 거래 차액에 대한 수수료를 받는다.

4. 다음은 어떤 지급 수단 특징을 나열한 것이다. 이에 해당하는 것으로 옳은 것은?



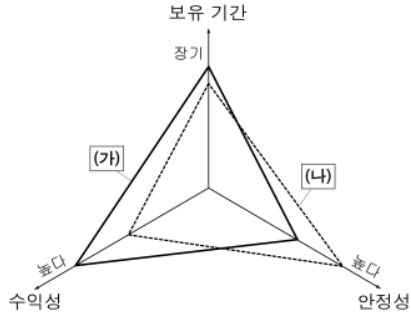
- ① 어음 ② 당좌 수표
 ③ 신용 카드 ④ 선불 카드
 ⑤ 자기앞 수표

5. 그림은 유통 경로의 유형을 나타낸 것이다. (가), (나)에 대한 설명으로 옳은 것은? [3점]



- ① (가) 경로는 공산품의 유통 경로이다.
 ② (가)는 소량 생산되어 대량 소비되는 경로이다.
 ③ (나) 경로는 산업용 원료의 유통 경로이다.
 ④ (나)는 대량 생산되어 소량 소비되는 경로이다.
 ⑤ (가), (나)는 전속적 유통 경로 정책을 사용한다.

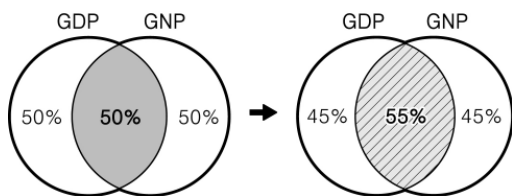
6. 그래프는 자본증권의 특징을 비교한 것이다. (가), (나)에 대한 옳은 설명을 <보기>에서 고른 것은? [3점]



< 보 기 >
 가. (가)는 타인 자본의 성격을 가진다.
 나. (가)는 경영 성과에 따른 배당을 받는다.
 다. (나)는 만기 시 원금 상환을 받는다.
 라. (나)는 영업 이익에 따른 이자를 받는다.

- ① 가, 나 ② 가, 다 ③ 나, 다
 ④ 나, 라 ⑤ 다, 라

7. 그림은 ○○국의 경제지표를 나타낸 것이다. 그림과 같은 변화가 일어날 수 있는 원인을 <보기>에서 고른 것은? (단, GDP, GNP의 규모는 동일하며, 숫자는 해당 영역의 구성비를 나타낸다.) [3점]



< 보 기 >
 가. 내국인의 국내 소득은 증가
 나. 내국인의 해외 소득은 증가
 다. 외국인의 국내 생산은 감소
 라. 국내 기업의 해외 진출 증가

- ① 가, 나 ② 가, 다 ③ 나, 다
 ④ 나, 라 ⑤ 다, 라

8. 다음은 수출상과 수입상의 대화이다. 이 대화에 해당하는 가격 조건의 특징으로 옳은 것은? [3점]

수출상 : 수출품을 어디까지 인도해 드리면 되겠습니까?
 수입상 : 부산항에서 우리가 지정하는 선박에 선적해 주시면 됩니다.
 수출상 : 그럼 뉴욕항까지 해상운임과 보험료는 누가 부담 합니까?
 수입상 : 그건 모두 우리가 직접 부담합니다.

- ① CIF New York 조건이다.
 ② 수출국은 무역외수지를 얻을 수 있는 조건이다.
 ③ 수출 경험이 없는 경우에 이용하는 EXW 조건이다.
 ④ 수출상의 비용 부담 한계는 부산항의 본선까지이다.
 ⑤ 수출상은 수입상이 지정한 운송인에게 인도하는 조건이다.

9. 다음 글은 경쟁 매매에 관한 내용이다. 이에 해당하는 매매의 종류로 옳은 것은?

이 매매 방법은 어떤 물품에 대해 가장 높은 가격을 제시한 희망자에게 매각하는 방법이다. 일반적으로 가격을 정하기 어렵거나 가격 변동이 있는 상품을 매매할 경우에 사용한다.
 보통 구매자가 판매자에게 값을 부르고, 가장 높은 가격을 부른 구매자에게 판매를 하는 것으로 최근에는 인터넷을 이용하는 방법도 널리 이용되고 있다.

- ① 경매 ② 경매매 ③ 입찰판매
 ④ 입찰매입 ⑤ 직접매매

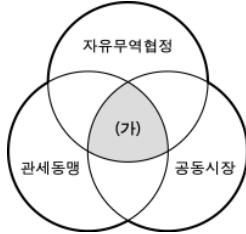
10. 다음은 탄소 배출권에 관한 내용이다. 이를 도입했을 때 나타나는 변화로 옳은 것을 <보기>에서 있는 대로 고른 것은?

2005년에 발효된 교토의정서에 따라 선진 35개국은 2008년부터 2012년까지 이산화탄소 등 온실가스 배출량을 1990년 대비 평균 5.2% 감축해야 한다. 감축하지 않을 경우 감축 의무가 없는 개발도상국가로부터 온실가스 배출권을 매입해야 한다.

< 보 기 >
 가. 대체 에너지 개발이 활성화될 것이다.
 나. 경제성장을 위한 환경 관련 규제는 완화될 것이다.
 다. 환경 문제는 국가 산업 구조에 영향을 미칠 것이다.

- ① 가 ② 나 ③ 가, 다
 ④ 나, 다 ⑤ 가, 나, 다

11. 그림은 경제 통합을 나타낸 것이다. (가)에 해당하는 공통적인 특징으로 옳은 것은? [3점]



- ① 비관세 장벽을 적용한다.
- ② 공동의 경제 정책을 수립한다.
- ③ 관세 및 수량 제한을 철폐한다.
- ④ 생산 요소의 이동 제한을 철폐한다.
- ⑤ 비회원국에 대해 공동 관세를 적용한다.

12. 다음은 증권시장을 분류한 것이다. (가)의 특징으로 옳은 것은?



- ① 추상적 시장이다.
- ② 일일 가격 제한 폭은 ±15%이다.
- ③ 기업에게 간접 금융의 기회를 제공한다.
- ④ 지수의 기준 시점은 2000년 1월 1일이다.
- ⑤ 비상장 기업의 자금 조달을 위한 시장이다.

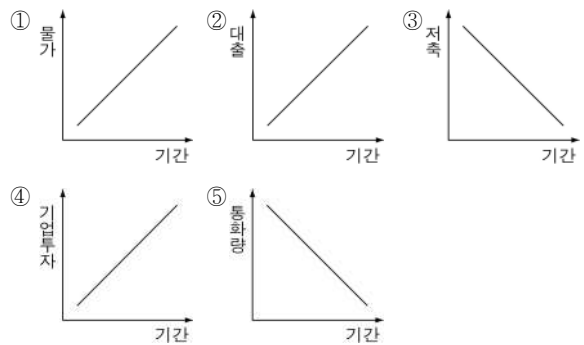
13. 다음은 전자상거래에 관한 내용이다. 이에 대한 추론으로 가장 적절한 것은?

인터넷을 통해 정보, 제품, 서비스 등을 생산, 분배, 소비하는 상거래의 유형으로 인해 물리적 공간에서의 시장과 대비되는 새로운 형태의 가상 시장이 등장하게 되었다. 가상 시장에서는 생산자, 중간인, 소비자가 디지털 통신망을 이용하여 거래를 한다.

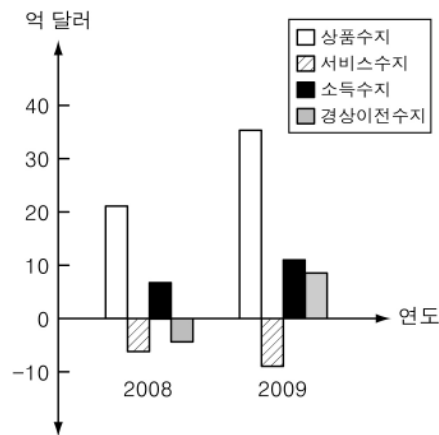
- ① 유통 구조가 단순해질 것이다.
- ② 정보 유출의 문제가 해소될 것이다.
- ③ 전통적 시장의 거래 규모가 커질 것이다.
- ④ 도매상의 증가로 재화의 가격이 상승할 것이다.
- ⑤ 판매자와 소비자의 대면 접촉 기회가 늘어날 것이다.

14. 다음 기사는 기준금리에 관한 내용이다. 이와 같은 정책을 시행한 후 유추할 수 있는 현상의 그래프로 옳은 것은? (단, 금리만 고려한다.) [3점]

한국은행은 9일 열린 금융통화위원회에서 기준금리를 연 2.00%에서 2.25%로 전격 인상했다. 지난해 2월부터 2.00%로 유지됐던 기준금리가 역대 최장 동결 기록에 마침표를 찍고 17개월 만에 인상된 것이다.
- ○○경제신문, 2010년 7월 9일자 -



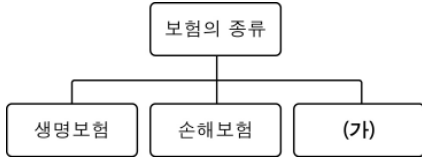
15. 그래프는 ○○국의 경상수지를 나타낸 것이다. 2009년에 관한 설명으로 옳은 것을 <보기>에서 고른 것은? [3점]



- < 보 기 >
- ㄱ. 경상수지는 흑자 폭이 증가하였다.
 - ㄴ. 국제 기구 출연금의 지출은 감소하였다.
 - ㄷ. 임금, 이자 등이 속하는 수지는 적자였다.
 - ㄹ. 해외여행, 유학 등이 속하는 수지는 흑자였다.

- ① ㄱ, ㄴ ② ㄱ, ㄷ ③ ㄴ, ㄷ
- ④ ㄴ, ㄹ ⑤ ㄷ, ㄹ

16. 다음은 보험의 종류를 분류한 것이다. (가)의 특징으로 옳은 내용을 <보기>에서 고른 것은?



< 보 기 >

ㄱ. 저축 기능의 보험이다.
 ㄴ. 필요에 따라 가입하는 보험이다.
 ㄷ. 사회보장제도의 성격을 가진 보험이다.
 ㄹ. 정책 목적 달성을 위해 강제성을 가진 보험이다.

- ① ㄱ, ㄴ ② ㄱ, ㄷ ③ ㄱ, ㄹ
 ④ ㄴ, ㄹ ⑤ ㄷ, ㄹ

17. 다음은 국제 경영에 관한 사례이다. (가)~(다)에 대한 설명으로 옳은 것은? [3점]

(가) ○○산업은 사우디아라비아의 탬, 도로 등 총 300억 달러 규모의 공사를 계약하였다.
 (나) □□회사는 원가 절감을 위해 필리핀에 제조 공장을 설립하고, 동남아시아 시장으로 사업 다변화를 적극 추진할 예정이다.
 (다) △△엔터테인먼트는 자사가 제작한 영화와 음반을 수출하고 총 1,000만 달러의 수익을 올렸다.

- ① (가)는 컨트랙팅 방식이다.
 ② (나)는 BOT 방식이다.
 ③ (다)는 라이선싱 방식이다.
 ④ (가), (나)는 해외 간접투자 형태이다.
 ⑤ (나), (다)는 해외 직접투자 형태이다.

18. 다음 글에 해당하는 무역 정책으로 옳은 것은?

세계 경제가 비교적 호황을 누리던 1960년대에는 무역의 자유화를 통해 경제를 성장시킬 수 있었다. 그러나 두 차례의 석유 파동을 겪고 세계 경제가 불황에 접어들면서 선진국을 비롯한 국가들이 자국의 산업 경쟁력 확보와 사양 산업을 지키기 위한 무역 정책이 등장하였다.

- ① 중상주의 정책 ② 보호무역 정책
 ③ 자유무역 정책 ④ 신자유무역 정책
 ⑤ 신보호무역 정책

19. 다음과 같은 시스템을 시행할 경우에 나타날 수 있는 내용으로 옳은 것을 <보기>에서 고른 것은? [3점]

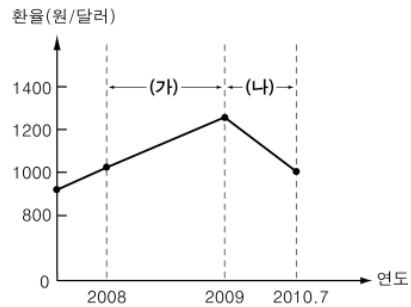
‘트레이드 에스크로(Trade Escrow)’는 국내외 수입상과 수출상이 외환은행과 에스크로 약정 체결 시 수입상이 결제 대금을 국내 외환은행에 예치하고 물품을 확인한 후 대금지급을 요청하면 수출상 앞으로 대금을 결제해 주는 서비스로 수출상의 허위 거래 등을 막을 수 있다.

< 보 기 >

ㄱ. EOS 시스템이 발전하게 될 것이다.
 ㄴ. 수출·입 승인 절차가 간단해 질 것이다.
 ㄷ. 전자 결제 수단에 의한 대금 결제가 증가할 것이다.
 ㄹ. 대금 결제의 안정성으로 무역 거래가 활성화될 것이다.

- ① ㄱ, ㄴ ② ㄱ, ㄷ ③ ㄴ, ㄷ
 ④ ㄴ, ㄹ ⑤ ㄷ, ㄹ

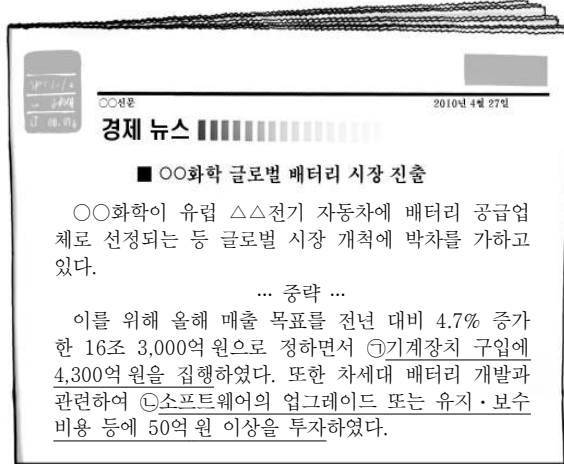
20. 그래프는 환율 변화를 나타낸 것이다. (가), (나) 구간에 대한 설명으로 옳은 것은? (단, 환율 이외의 요인은 고려하지 않는다.) [3점]



- ① (가) 구간에서는 원화 가치가 상승한다.
 ② (가) 구간에서는 수입품 가격이 하락한다.
 ③ (나) 구간에서는 국내 물가가 상승한다.
 ④ (나) 구간에서는 외채 상환 부담이 줄어든다.
 ⑤ (나) 구간에서는 수입대금 결제 시 선급방식이 유리하다.

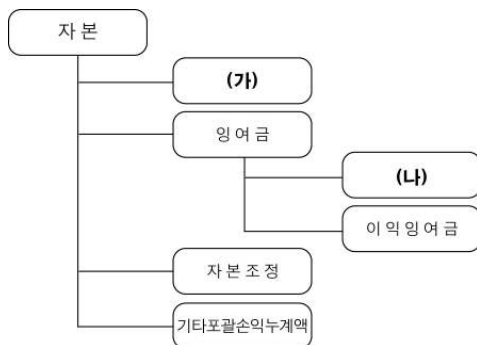
※ 확인 사항
 ○ 답안지의 해당란에 필요한 내용을 정확히 기입(표기)했는지 확인하십시오.

6. 다음 자료에서 ㉠, ㉡에 해당되는 자산의 분류로 옳은 것은?
[3점]



- ㉠ ㉡
- ① 유동자산 유형자산
 - ② 유동자산 무형자산
 - ③ 비유동자산 유형자산
 - ④ 비유동자산 무형자산
 - ⑤ 비유동자산 투자자산

7. 다음은 주식회사의 자본을 분류한 것이다. (가), (나)에 대한 옳은 설명을 <보기>에서 고른 것은? [3점]

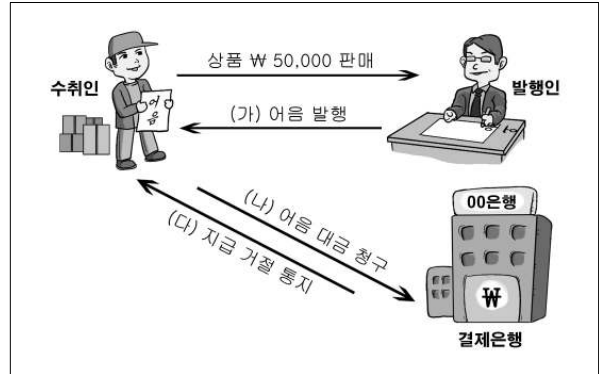


< 보 기 >

ㄱ. (가)는 주식을 발행하여 조달한다.
 ㄴ. (가)에는 감자차익과 주식발행초과금 등이 있다.
 ㄷ. (나)는 자본 거래에 의하여 발생하는 잉여금이다.
 ㄹ. (나)에는 자기주식과 주식할인발행차금 등이 있다.

- ① ㄱ, ㄴ ② ㄱ, ㄷ ③ ㄴ, ㄷ
- ④ ㄴ, ㄹ ⑤ ㄷ, ㄹ

8. 그림은 약속어음을 발행하고 결제하는 과정이다. (가)~(다) 중 부도어음 계정과목이 발생하는 것만을 있는 대로 고른 것은?



- ① (가) ② (나) ③ (다)
- ④ (가), (나) ⑤ (나), (다)

9. 다음 자료를 상품재고장에 기장할 경우, 10월 5일 잔액란의 금액으로 옳은 것은?

10월 1일 전월이월 갑상품 200개 @₩100 ₩20,000
 10월 3일 매 입 갑상품 200개 @₩120 ₩24,000

↓ 상품재고장

선입선출법 품명: 갑상품 (단위: 개)

2010년	적요	인 수		인 도		잔 액		
		수량	단가	수량	단가	수량	단가	금액

↑

10월 5일 매 출 갑상품 300개 @₩130 ₩39,000

- ① ₩10,000 ② ₩12,000 ③ ₩13,000
- ④ ₩39,000 ⑤ ₩44,000

10. 다음 약식 전표의 거래 내용을 외상매출금 계정에 전기하였다. 1월 31일 현재 외상매출금 계정 잔액으로 옳은 것은? [3점]

대 체 전 표	
1/10 외상매출금 20,000	1/10 매 출 20,000

입 금 전 표	출 금 전 표
1/15 외상매출금 10,000	1/20 외상매입금 30,000

외 상 매 출 금	
1/1 전 기 이 월	10,000

- ① ₩20,000 ② ₩30,000 ③ ₩40,000
- ④ ₩50,000 ⑤ ₩60,000

11. 다음 자료에서 (가), (나)에 들어갈 계정과목으로 옳은 것은?

(1) 실제 현금이 부족함을 발견하였을 때, 분개는 차변에 **(가)**으로 처리한다.

(2) 결산 시 원인을 알 수 없을 때에는 차변에 **(나)**으로 대체분개한다.

※ (1)과 (2)는 연속된 거래임.

- | | |
|---------|-----|
| (가) | (나) |
| ① 현금 | 잡손실 |
| ② 현금 | 잡이익 |
| ③ 미수금 | 잡손실 |
| ④ 현금과부족 | 잡손실 |
| ⑤ 현금과부족 | 잡이익 |

12. 다음 자료에서 설비자산에 대한 감가상각 내용으로 옳게 추론한 것을 <보기>에서 고른 것은? [3점]

제1기 2008년 12월 31일 현재		제2기 2009년 12월 31일 현재	
회사명 : ○○ 주식회사 (단위 : 원)			
과목	제2(당)기 금액	제1(전)기 금액	
자산			
비유동자산			
유형자산		2009년 12월 31일 산존가액	2008년 12월 31일 산존가액
설비자산	100,000	100,000	
(-)감가상각누계액	(51,000)	49,000	(30,000)
무형자산			70,000

< 보 기 >

ㄱ. 감가상각 방법은 정률법이다.
 ㄴ. 2008년도의 감가상각비는 ₩70,000이다.
 ㄷ. 2009년도의 감가상각비는 ₩21,000이다.
 ㄹ. 2009년도의 감가상각누계액은 ₩49,000이다.

① ㄱ, ㄴ ② ㄱ, ㄷ ③ ㄴ, ㄷ
 ④ ㄴ, ㄹ ⑤ ㄷ, ㄹ

13. 다음은 [제6기 상품에 관한 자료]를 이용하여 작성한 손익계산서의 일부이다. ㉠, ㉡의 금액으로 옳은 것은? [3점]

제5기 2009년 1월 1일부터 2009년 12월 31일까지			제6기 2010년 1월 1일부터 2010년 12월 31일까지		
(주)◇◇			(단위 : 원)		
과목	제6(당)기 금액		제5(전)기 금액		
매출액		150,000	전		
매출원가		㉠	기		
기초상품재고액	30,000		분		
당기순매입액	㉡		생		
기말상품재고액	(20,000)		략		
:	:	:			

[제6기 상품에 관한 자료]

○ 총매입액 ₩130,000	○ 매입 예누리 ₩20,000
○ 매출 환입 ₩30,000	○ 매입 환출 ₩10,000

- | | |
|-----------|---------|
| ㉠ | ㉡ |
| ① 70,000 | 80,000 |
| ② 70,000 | 110,000 |
| ③ 100,000 | 80,000 |
| ④ 100,000 | 110,000 |
| ⑤ 130,000 | 140,000 |

14. 다음 자료에 대한 설명으로 옳은 것을 <보기>에서 고른 것은? [3점]

11월 1일 6개월 분 임대료 ₩60,000을 현금으로 받다.
 12월 31일 기말 결산일 현재 선수분을 계상하고, 당기분은 손익계정에 대체하다.

11/1 12/31(결산일) 4/30

11월	12월	1월	2월	3월	4월
← <당기분>		← <차기분>			

- < 보 기 >
- ㄱ. 임대료는 영업외수익에 속한다.
 ㄴ. 당기분 임대료는 ₩20,000이다.
 ㄷ. 임대료는 영업이익을 감소시킨다.
 ㄹ. 차기분 ₩40,000은 미수임대료이다.

- ① ㄱ, ㄴ ② ㄱ, ㄷ ③ ㄴ, ㄷ
 ④ ㄴ, ㄹ ⑤ ㄷ, ㄹ

15. 다음 자료에서 설명하는 재무제표로 옳은 것은?

- 일정 기간 동안 기업에 대한 현금 유입과 현금 유출에 대한 정보를 제공한다.
- 영업 활동을 통한 현금 창출에 관한 정보, 투자 활동에 관한 정보, 자본 조달을 위한 재무 활동에 관한 정보 등을 제공한다.

- ① 대차대조표 ② 손익계산서
 ③ 현금흐름표 ④ 자본변동표
 ⑤ 이익잉여금처분계산서

16. 다음 대화의 ㉠에 해당하는 대변 계정과목으로 옳은 것은?



- ① 미수금 ② 선급금 ③ 선수금
- ④ 미지급금 ⑤ 외상매입금

17. 다음 자료를 바르게 추정한 것만을 <보기>에서 있는 대로 고른 것은? [3점]

수정 전 잔액시산표			
...
외상매출금	60,000	대손충당금	1,000
받을어음	40,000
...

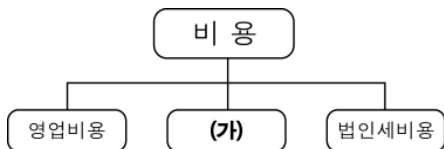
[결산 정리 분개]
(차변) 대손상각비 1,000 (대변) 대손충당금 1,000

< 보 기 >

ㄱ. 당기 대손 예상액은 ₩1,000이다.
 ㄴ. 매출채권 잔액에 대하여 2%의 대손을 예상하다.
 ㄷ. 수정 후 잔액시산표의 대손충당금은 ₩2,000이다.

- ① ㄱ ② ㄴ ③ ㄷ
- ④ ㄱ, ㄷ ⑤ ㄴ, ㄷ

18. 다음은 비용의 분류를 나타낸 것이다. (가)와 관련된 내용으로 옳은 것은?



- ① 종업원의 급여 지급
- ② 사무실 임차료 지급
- ③ 단기차입금에 대한 이자 지급
- ④ 업무와 관련한 인터넷 사용료 지급
- ⑤ 영업용 차량에 대한 종합 보험료 지급

19. 다음은 총계정원장 마감의 일부이다. ㉠ ~ ㉣에 들어갈 내용으로 옳은 것을 <보기>에서 고른 것은?

현 금			
11/3 외상매출금	30,000	11/10 외상매입금	60,000
12/7 이자수익	50,000	12/31 (㉠)	20,000
	80,000		80,000
1/1 (㉡)	20,000		

급 여			
12/7 현 금	40,000	12/31 (㉢)	40,000

손 익			
12/31 급 여	40,000	12/31 이자수익	50,000
12/31 (㉣)	10,000		
	50,000		50,000

< 보 기 >

ㄱ. ㉠ - 전기이월 ㄴ. ㉡ - 차기이월
 ㄷ. ㉢ - 손익 ㄹ. ㉣ - 자본금

- ① ㄱ, ㄴ ② ㄱ, ㄷ ③ ㄴ, ㄷ
- ④ ㄴ, ㄹ ⑤ ㄷ, ㄹ

20. 다음 거래를 분개한 것으로 옳은 것은? [3점]

7월 4일 여유자금을 활용하기 위하여 6개월간 보유하고 있던 (주)○○주식 100주(액면 @₩5,000, 장부금액 @₩6,000)를 @₩8,000으로 처분하고 대금은 타인발행 수표로 받다.

- | (차변) | (대변) |
|----------------|--|
| ① 현금 600,000 | 매도가능증권 600,000 |
| ② 현금 800,000 | { 매도가능증권 600,000
매도가능증권처분이익 200,000 |
| ③ 현금 800,000 | { 단기매매증권 600,000
단기투자자산처분이익 200,000 |
| ④ 당좌예금 800,000 | { 매도가능증권 600,000
매도가능증권처분이익 200,000 |
| ⑤ 당좌예금 800,000 | { 단기매매증권 600,000
단기투자자산처분이익 200,000 |

※ 확인 사항
 ○ 답안지의 해당란에 필요한 내용을 정확히 기입(표기)했는지 확인하십시오.