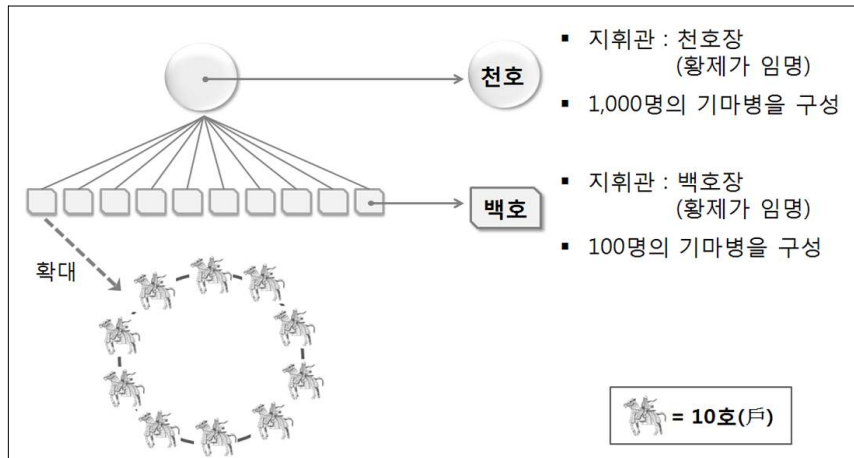




5. 그림과 같은 군사 조직을 운영하였던 국가에 대한 설명으로 옳지 않은 것은? [3점]



- ① 통치를 원활히 하기 위하여 역참을 정비하였다.
- ② 말기에는 재정 악화로 인하여 교초를 남발하였다.
- ③ 희곡이 발달하여 서상기, 비파기 등이 등장하였다.
- ④ 가혹한 통치에 반발하여 진승·오광의 난이 일어났다.
- ⑤ 색목인을 등용하여 행정과 재정 실무를 담당하게 하였다.

6. 연표의 (가) 시기에 활동한 이슬람 왕조에 대한 설명으로 옳은 것을 <보기>에서 고른 것은?

			(가)		
헤지라	칼리프 선출	세습 칼리프 등장	바그다드 천도	술탄 등장	

< 보 기 >

ㄱ. 예루살렘을 점령하여 십자군 전쟁을 유발하였다.  
 ㄴ. 후계자 문제를 둘러싸고 시아파와 수니파로 분열하였다.  
 ㄷ. 탈라스 전투에서 승리하여 비단길의 지배권을 장악하였다.  
 ㄹ. 정복 활동을 통하여 이베리아 반도까지 영토를 확장하였다.

- ① ㄱ, ㄴ
- ② ㄱ, ㄷ
- ③ ㄴ, ㄷ
- ④ ㄴ, ㄹ
- ⑤ ㄷ, ㄹ

7. 그림은 역사 인물을 검색한 것이다. (가)에 들어갈 내용으로 적절하지 않은 것은?

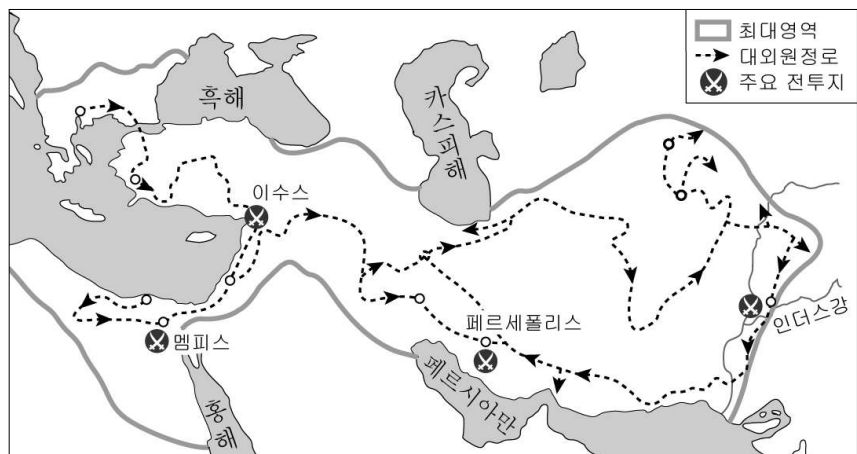
- ① 화폐, 도량형, 문자 등을 통일하였다.
- ② 흉노를 정벌하고, 만리장성을 축조하였다.
- ③ 향거리선제를 실시하여 인재를 등용하였다.
- ④ 사상을 통제하기 위하여 분서갱유를 단행하였다.
- ⑤ 중앙 집권을 강화하기 위하여 군현제를 실시하였다.

8. 다음 설명에 해당하는 종교가 성립된 시기의 문화적 특징으로 옳지 않은 것은? [3점]

인도의 민족 의식이 부활하고 '아리아 인의 전통을 계승하자'는 운동이 일어나면서 새로운 종교가 성립하였다. 이것은 브라마 교, 불교 및 인도의 민간 신앙이 융합된 다신교로 인도인의 모든 생활을 지배하게 되었다. 이 종교의 본질은 업과 윤회에 대한 믿음으로 자신이 속한 카스트에 따른 의무 수행을 강조하였다.

- ① 샤쿤탈라 같은 산스크리트 문학이 발달하였다.
- ② 자연 과학이 발달하고, 영(0)의 개념을 발견하였다.
- ③ 인도 고유의 색채를 강조하는 굽타 양식이 나타났다.
- ④ 마누 법전이 편찬되어 종교와 일상 생활의 규범이 되었다.
- ⑤ 우주와의 일치를 주장하는 우파니샤드 철학이 등장하였다.

9. 지도에 표시된 정복 활동의 결과로 성립된 문화에 대한 설명으로 옳은 것은?



- ① 소피스트들이 출현하여 수사와 변론을 가르쳤다.
- ② 모든 민족에게 적용되는 만민법 체제가 마련되었다.
- ③ 세계 시민주의와 개인주의 경향의 철학이 발달하였다.
- ④ 호메로스의 일리아드와 오디세이 등의 서사시들이 쓰여졌다.
- ⑤ 실용적인 토목 기술이 발전하여 아피아 가도, 수도교가 만들어졌다.

10. 다음은 아테네 정치가와 가상의 인터뷰이다. (가)에 들어갈 내용으로 적절한 것을 <보기>에서 고른 것은? [3점]

기 자 : 최고 행정관으로 취임하신 소감 한 말씀 부탁드립니다.  
 정치가 : 드디어 50여 년의 참주 정치가 끝났습니다. 이제 시민의 자유와 권리를 확대할 수 있는 개혁을 추진하겠습니다.  
 기 자 : 앞으로 어떤 개혁을 추진하시겠습니까?  
 정치가 : 기존의 혈연 중심 부족 체제를 지역 단위 행정 구역으로 개편하고, \_\_\_\_\_ (가)

< 보 기 >

ㄱ. 도편 추방제를 실시하겠습니다.  
 ㄴ. 500인(평의)회를 설치하겠습니다.  
 ㄷ. 공무 수행에 대한 수당을 지급하겠습니다.  
 ㄹ. 재산 정도에 따라 차등 있게 참정권을 부여하겠습니다.

- ① ㄱ, ㄴ
- ② ㄱ, ㄷ
- ③ ㄴ, ㄷ
- ④ ㄴ, ㄹ
- ⑤ ㄷ, ㄹ

11. 그림의 대화를 통해서 알 수 있는 왕조의 불교 문화에 대한 설명으로 옳은 것은?



- ① 아잔타 석굴 같은 대규모 사원을 건립하였다.
- ② 불경을 결집하고 실론 등지로 불교를 전파하였다.
- ③ 국왕의 불교 보호 조치가 새겨진 석주가 세워졌다.
- ④ 날란다 사원을 중심으로 불교 교리 연구가 활발하였다.
- ⑤ 그리스 조각의 영향으로 간다라 양식의 불상이 제작되었다.

12. 다음은 중국의 어느 왕조에 대하여 정리한 것이다. (가)에 들어갈 내용으로 적절한 것은? [3점]

**○○ 왕조의 발전**

1. 건국(386)
  - 왕조 개창 : 선비족 출신 탁발규
  - 수도 : 평성 → 낙양
2. 영토의 확장(429~439)
  - 외몽골에서 황하 일대 장악, 화북 지방 완전 통일
3. 효문제의 정책
  - 중국식 관제 및 복식을 적극적으로 도입
  - \_\_\_\_\_ (가)

- ① 관리 선발을 위한 과거제 실시
- ② 자영농 육성을 위한 균전제 실시
- ③ 3성 6부를 기초로 한 통치 체제 정비
- ④ 재산의 정도를 기준으로 한 양세법 도입
- ⑤ 국방력 강화를 위한 보갑법·보마법 실시

13. (가), (나) 왕조의 통치 정책에 대한 설명으로 옳지 않은 것은? [3점]

(가) 10세기 초 발해를 멸망시키고 화북 지방의 연운 16주를 점령하여 송과 대립하였다. 만주와 몽골 고원, 연운 16주를 지배하는 제국으로 성장하였으나, 국력이 급속히 쇠퇴하여 멸망하였다.

(나) 12세기 초 만주 동부 지역에서 건국된 후 송과 연합하여 요를 멸망시키고 화북 지방으로 진출하였다. 수도를 베이징으로 옮긴 뒤에 점차 북방 민족의 강건한 기상이 사라지면서 결국 100여 년만에 멸망하였다.


- ① (가) - 남면관·북면관제로 제국을 통치하였다.
- ② (가) - 세폐를 받는 조건으로 송과 화친을 맺었다.
- ③ (나) - 맹안·모극제와 균현제로 나누어 통치하였다.
- ④ (나) - 중앙 아시아로 진출하여 4한국을 건설하였다.
- ⑤ (가), (나) - 고유 문자를 만들어 사용하게 하였다.

14. 그림은 어느 고대 문명에 대한 방송 안내이다. 방송에서 이 문명의 특징을 재현한 장면으로 적절한 것은?

교양 TV 오늘의 방송 1 2 3

▶▶ 고대 ○○ 문명

**방송시간 : 밤 11시**



고대 ○○ 문명은 유카탄 반도의 신전 도시 티칼의 발굴로 처음 그 존재가 증명되었다. ○○ 인들은 고구마·옥수수를 주로 경작하였고, 위가 평평한 계단식 신전 피라미드를 건축하였다.

특히 그들은 천문학 분야에서 뛰어났는데, 주기가 다른 3개의 톱니바퀴를 순환시켜 1년을 365일로 계산하는 달력을 사용하였다.

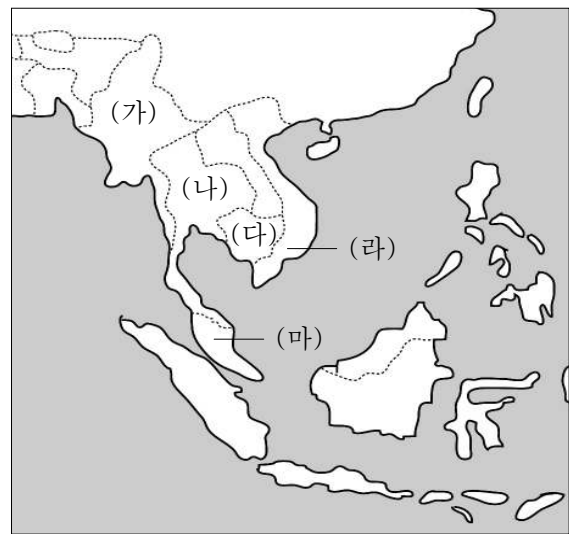
고대 ○○ 천문대(치첸이트사 소재)

- ① 태양신 '라'를 위해 제사를 주관하고 있는 왕
- ② 자연신들을 찬미하는 노래인 베다를 짓는 신자
- ③ 지구라트 건설을 위해 진흙 벽돌을 만드는 노예
- ④ 파피루스 종이에 그려진 사자의 서를 묶는 사제
- ⑤ 20진법을 사용하여 작물의 수확량을 계산하는 농부

15. 다음 편지글에 나타난 문화 유산이 있는 국가를 지도의 (가)~(마)에서 찾은 것은?


사랑하는 친구에게

나는 오늘 이 나라의 수도에 있는 문묘에 다녀왔어, 문묘는 11세기에 공자의 위패를 모시기 위해 건립하였대, 경내에는 과거 합격자의 이름을 새겨 놓은 82개의 비석도 세워져 있더구나, 자신들의 독자적인 전통 위에 중국 문물을 적극 수용하였던 근대 이전의 문화적 특징을 잘 보여주고 있었어, 나는 이번 여행에서 동남 아시아의 역사에 대해 많이 배운 것 같아, 너랑 같이 왔으면 더 좋았을 걸, 또 소식 전할게, 안녕.




- ① (가)    ② (나)    ③ (다)    ④ (라)    ⑤ (마)

16. 자료의 인물들이 활약했던 시대의 사회 모습으로 옳은 것은? [3점]



이백

이백과 두보는 이 시대에 활약한 최고의 시인이었다. 이백은 도교에 바탕을 둔 낭만적이고 귀족적인 시를, 두보는 유교에 바탕을 둔 평민의 비참함과 현실 사회의 부조리에 대한 시를 주로 지었다. 이백이 양귀비의 미움을 사 궁정에서 쫓겨난 후, 두 사람은 뱃길에서 만나 짧으나마 교류하기도 하였다.



두보

- ① 절도사들이 변방 지역의 군사와 행정을 장악하였다.
- ② 죽림칠현과 같은 지식인들이 청담 사상에 심취하였다.
- ③ 태평도, 오두미도 같은 신앙이 민중 사이에 확산되었다.
- ④ 5호의 침입으로 인하여 한족의 강남 이주가 증가하였다.
- ⑤ 호족들이 구품 중정제를 이용하여 중앙 관직에 진출하였다.


17. 다음은 로마의 정치 상황을 서술한 것이다. ㉠ ~ ㉤에 해당하는 역사적 사실로 옳지 않은 것은? [3점]

㉠ 서지중해의 패권을 장악하며 세력을 확대하였음에도 불구하고 기원전 2세기 후반 이후 약 100여 년간 로마는 ㉡ 커다란 위기에 직면하게 되었다. 이에 그라쿠스 형제는 ㉢ 개혁을 통하여 ㉣ 빈민 증가와 군사력의 부족 등을 해결하려 하였으나 실패하였다. 이후 귀족들 간의 권력 다툼과 노예의 반란 등으로 심각한 내란 상태에 빠졌고, 로마 공화정은 ㉤ 새로운 국면을 맞이하게 되었다.

- ① ㉠ - 포에니 전쟁에서 승리하였다.
- ② ㉡ - 동·서 로마로 영토가 분열되었다.
- ③ ㉢ - 토지의 재분배로 자영농을 육성하려 하였다.
- ④ ㉣ - 속주의 값싼 곡물이 유입되어 농민이 몰락하였다.
- ⑤ ㉤ - 군인 정치가에 의한 삼두 정치가 전개되었다.

18. 다음 자료와 관련된 시대의 문화에 대한 옳은 설명을 <보기>에서 고른 것은?

권	해이조궁 (평성궁)	권	정창원	권
우	경	좌	경	
	주	축	대로	
	서	시	동	시



<도다이 사(寺)>


< 보 기 >

ㄱ. 일본 고유의 국풍 문화가 발달하였다.  
 ㄴ. 견당사를 파견하여 중국 문물을 적극 수용하였다.  
 ㄷ. 아스카 지방을 중심으로 불교 문화가 발달하였다.  
 ㄹ. 일본서기, 고사기 등의 역사서와 만엽집이 편찬되었다.

- ① ㄱ, ㄴ
- ② ㄱ, ㄷ
- ③ ㄴ, ㄷ
- ④ ㄴ, ㄹ
- ⑤ ㄷ, ㄹ

19. 그림은 역사책의 목차 가운데 일부분이다. (가)에 들어갈 내용으로 적절하지 않은 것은? [3점]

A왕조의 성립과 발전



**목 차**

제1장 황제 독재 체제의 성립

1. 건국과 5대 10국의 통일
2. 전시의 도입과 과거 제도의 완성

:


제3장 경제 구조와 산업의 발달

1. 모내기 시작과 생산력 증대
2. (가)

- ① 행, 작의 활동과 상업 도시의 번영
- ② 나침반의 발명과 해상 무역의 확대
- ③ 교자, 회자의 사용과 화폐 경제의 발달
- ④ 석탄 사용의 보편화와 제철 공업의 발전
- ⑤ 목화의 전국적 재배와 가내 수공업의 발달

20. 그림을 통해 알 수 있는 교역로에 대한 탐구 활동으로 적절한 것을 <보기>에서 고른 것은?

장간이 황제의 명령으로 대월지로 출발하는 모습을 그린 벽화예요. 그가 다녀온 길을 따라 개척된 교역로는 근대 이전 동서를 잇는 대표적인 길이었어요.



< 보 기 >

ㄱ. 훈족이 유럽으로 이동한 경로를 조사한다.  
 ㄴ. 스키타이족이 청동기를 전파한 경로를 찾아본다.  
 ㄷ. 중국 비단과 제지술이 유럽으로 전파된 과정을 조사한다.  
 ㄹ. 로마의 유리 제조 기술이 중국에 전래된 경로를 조사한다.

- ① ㄱ, ㄴ
- ② ㄱ, ㄷ
- ③ ㄴ, ㄷ
- ④ ㄴ, ㄹ
- ⑤ ㄷ, ㄹ

**※ 확인사항**  
 문제지와 답안지의 해당란을 정확히 기입(표기)했는지 확인하십시오.