

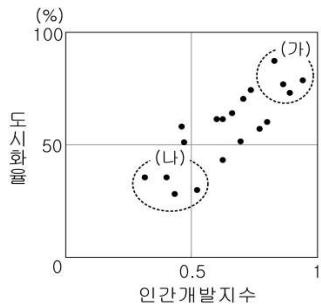
제 4 교시

사회탐구 영역 (경제지리)

성명 수험번호 3

- 자신이 선택한 과목의 문제지인지 확인하십시오.
- 문제지에 성명과 수험번호를 정확히 써 넣으시오.
- 답안지에 성명과 수험번호를 써 넣고, 또 수험번호와 답을 정확히 표시하십시오.
- 과목을 선택한 순서대로 풀고, 답은 답안지의 '제1선택'란에서부터 차례대로 표시하십시오.
- 문항에 따라 배점이 다르니, 각 물음의 끝에 표시된 배점을 참고하십시오. 3점 문항에만 점수가 표시되어 있습니다. 점수 표시가 없는 문항은 모두 2점입니다.

1. (가)에 비해 (나) 국가군에서 높게 나타나는 지표로 옳은 것을 <보기>에서 고른 것은?



- <보 기>
- 가. 1인당 에너지 소비량 나. 유·소년층 인구 비중
 - 다. 생산자 서비스업의 비중 리. 생산 요소 중 토지의 비중

- ① 가, 나 ② 가, 다 ③ 나, 리 ④ 나, 리 ⑤ 다, 리

2. 자료는 서로 다른 유형의 상거래 방식이다. (가)에 대한 (나)의 상대적 특징으로 옳은 것을 <보기>에서 고른 것은?

(가) 장(場)은 특정한 장소에 정기적으로 행상과 주민들이 모여서 물건을 사고파는 곳을 지칭하며, 5일마다 열리는 경우가 많아 '5일장'이라고도 한다. 인구가 증가하고 구매력이 향상되면 상설 시장으로 전환된다.

(나) 소셜커머스(Social Commerce)는 트위터와 페이스북으로 대표되는 소셜네트워크서비스(SNS)와 쇼핑몰이 결합한 신개념 전자상거래 사업이다. 국내에 첫선을 보인지 만년 만에 50개가 넘는 소셜커머스 회사가 생겨났다.

- <보 기>
- 가. 유통 비용이 많이 든다.
 - 나. 상품의 구매·판매권이 넓다.
 - 다. 상품 구입의 시간적 제약이 적다.
 - 리. 구매 전 상품의 품질을 직접 확인할 수 있다.

- ① 가, 나 ② 가, 다 ③ 나, 리 ④ 나, 리 ⑤ 다, 리

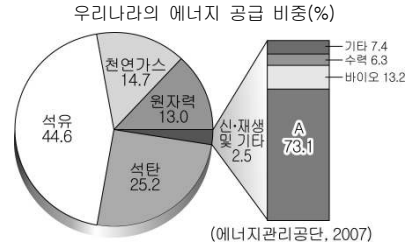
3. 표는 ○○국가의 농업 현황을 나타낸 것이다. 이 국가의 농업 생산성 지표 변화로 옳은 것은? [3점]

(호당 평균)

구분 연도	농업부가가치 (천 원)	농업자본투입액 (천 원)	경지면적 (10a)	영농시간 (시간)
1995	12,919	21,323	13.54	1,376
2009	16,467	52,517	13.39	1,171

- | | 노동 생산성 | 토지 생산성 | 자본 집약도 |
|---|--------|--------|--------|
| ① | 증가 | 증가 | 증가 |
| ② | 증가 | 증가 | 감소 |
| ③ | 증가 | 감소 | 감소 |
| ④ | 감소 | 증가 | 증가 |
| ⑤ | 감소 | 감소 | 증가 |

4. A를 이용한 발전 시설의 입지 선정 시 고려해야 할 내용으로 옳은 것은?



- ① 조수 간만의 차이는 얼마나 큰가?
- ② 도시 및 산업 단지에 얼마나 근접한가?
- ③ 빠른 해수의 흐름을 이용할 수 있는가?
- ④ 연중 바람의 세기가 강하게 유지되는가?
- ⑤ 일조 시간을 연중 얼마나 확보할 수 있는가?

5. 표는 우리나라의 무역 현황을 나타낸 것이다. 이에 대한 설명으로 옳은 것은? [3점]

우리나라의 수출입액 (단위: 10억 달러)			우리나라의 주요 교역국별 수출입 비중 (단위: %)						
구분	수입액	수출액	구분 연도	미국		중국		일본	
연도	수입액	수출액		수입	수출	수입	수출	수입	수출
1990	70	65	1990	24.3	29.8	3.3	0.9	26.6	19.4
2000	160	172	2000	18.2	21.8	8.0	10.7	19.8	11.9
2010	425	466	2010	9.5	10.7	16.8	25.1	15.1	6.0

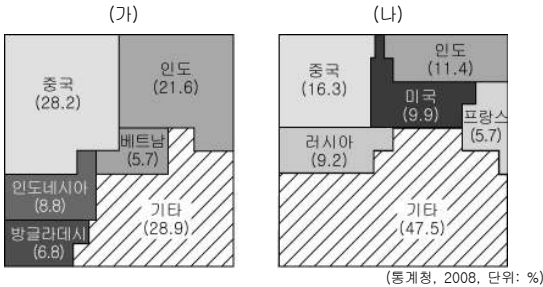
- ① 우리나라는 2010년 무역 수지가 적자이다.
- ② 중국과의 무역액이 가장 빠르게 증가하고 있다.
- ③ 미·중·일 3국에 대한 수입 비중이 높아지고 있다.
- ④ 미국에 대한 수출액과 수출 비중 모두 증가하고 있다.
- ⑤ 일본과의 무역 수지는 모든 시기에 흑자를 나타내고 있다.

6. 자료는 어떤 관광 산업에 대해 정리한 것이다. 이와 관련된 내용으로 옳지 않은 것은?

- 정의: 환경 피해를 최대한 억제하면서 자연을 관찰하고 이해하며 즐기는 여행 방식 또는 여행 문화
- 관광 자원: 천수만 철새도래지, 우포늪, 제주도 올레길 등

- ① 자연 보호와 지역 경제 발전을 동시에 꾀할 수 있다.
- ② 주로 개별 또는 소규모 자유 관광 형태로 이루어진다.
- ③ 슬로시티와 같은 문화콘텐츠 개발이 이루어지고 있다.
- ④ 지역의 고유한 자원을 활용한 체험 관광이 이루어진다.
- ⑤ 대규모 외부 자본 투자와 위탁 시설 건설이 활성화된다.

7. 그래프는 주요 식량 작물의 세계 생산량 비중을 나타낸 것이다. (가), (나) 작물에 대한 설명으로 옳은 것을 <보기>에서 고른 것은?



- <보기>
- ㄱ. (가)는 (나)보다 기후의 제약이 적어 재배 범위가 넓다.
 - ㄴ. (가)는 (나)보다 단위 면적 당 생산량이 많아 인구 부양력이 높다.
 - ㄷ. (나)는 (가)보다 기업적·상업적으로 재배되는 비중이 높다.
 - ㄹ. (나)는 (가)보다 생산지와 소비지가 일치하여 국제 이동량이 적다.

- ① ㄱ, ㄴ ② ㄱ, ㄷ ③ ㄴ, ㄷ ④ ㄴ, ㄹ ⑤ ㄷ, ㄹ

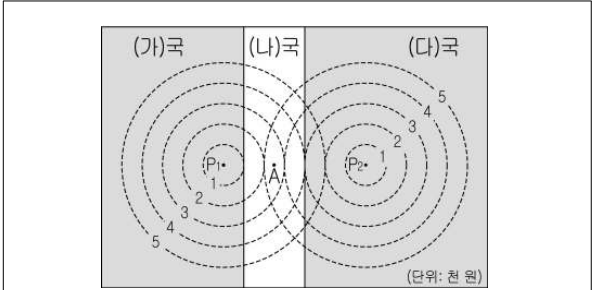
8. (가)~(라)에 해당하는 적절한 사례를 <보기>에서 고른 것은?

구분	개념	사례
순환 자원	자연적 순환	무한대로 재생 가능 (가)
	인공적 순환	인간이 어떻게 이용하느냐에 따라 순환될 수도 있고 고갈될 수도 있는 자원 (나)
고갈 자원	재활용 가능	사용 후에 다시 수거하여 재활용할 수 있는 광물 자원 (다)
	재활용 불가능	한번 쓰면 소멸되어 없어지는 화석 연료 (라)

- <보기>
- ㄱ. (가) - 아이슬란드에서 개발하고 있는 지열
 - ㄴ. (나) - 유가 상승으로 각광 받고 있는 오일샌드
 - ㄷ. (다) - 폐 전자기기에서 추출하는 금
 - ㄹ. (라) - 의료용으로 사용되는 천연 고무

- ① ㄱ, ㄴ ② ㄱ, ㄷ ③ ㄴ, ㄷ ④ ㄴ, ㄹ ⑤ ㄷ, ㄹ

9. 다음은 베버의 공업 입지론에 근거하여 최적의 입지 지점을 찾는 과정을 나타낸 것이다. 밑줄 친 ㉠~㉤ 중 옳지 않은 것은? (단, 주어진 조건만 고려함.) [3점]



- 공장 P₁, P₂를 중심으로 한 동심원은 총 운송비가 같은 지점을 연결한 등비용선임.
- 노동비는 (가)국 6,000원, (나)국 4,000원, (다)국 8,000원이며, 한 국가 내 모든 지역의 노동비는 동일함.
- 공장 P₁, P₂가 함께 입지할 때 발생하는 집적 이익은 1,000원

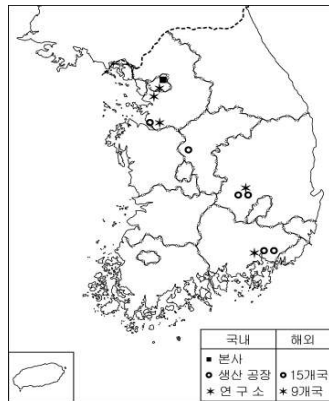
운송비만 고려하면 ㉠ P₁, P₂가 입지한 지점이 (가), (다)국의 최소 생산비 지점이다.

노동비도 고려하여 P₁이 A로 이전하게 되면 ㉡ A의 노동비 절감액이 P₁의 운송비 증가액보다 적으므로 손해가 발생한다. 그러나 P₂가 A로 이전하게 되면 ㉢ A는 P₂의 한계동비용선 안에 위치하게 되므로 이익이 발생한다.

그리고, 집적이익도 고려하여 ㉣ P₁, P₂가 함께 A로 이전할 경우에는 각각 500원의 이익이 발생한다. 그러므로 모든 조건을 고려하면 P₁, P₂는 ㉤ 최소 생산비 지점인 A로 이전하게 된다.

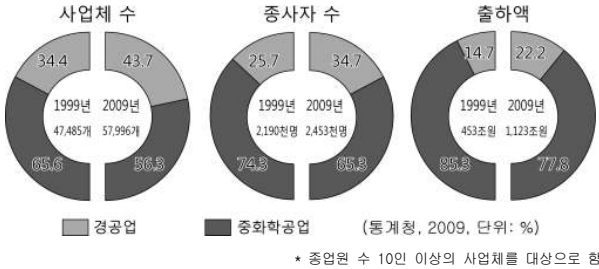
- ① ㉠ ② ㉡ ③ ㉢ ④ ㉣ ⑤ ㉤

10. 지도는 △△전자의 주요 시설 입지 분포를 나타낸 것이다. 이에 대한 설명으로 옳지 않은 것은? [3점]



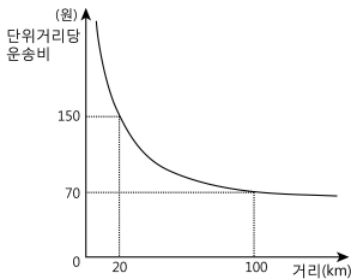
- ① 생산, 판매, 연구 개발 기능의 공간적 분화가 나타난다.
- ② 본사는 자본 및 우수 인력 확보에 유리한 대도시에 입지한다.
- ③ 해외 생산 공장은 무역 규제를 피하거나 생산비를 절감할 수 있는 곳에 입지한다.
- ④ 국내 생산 공장은 전략적 의사 결정에 유리한 곳에 입지하며 해외 생산 공장을 지원한다.
- ⑤ 연구소는 연구 개발 관련 시설이 집적되어 있는 수도권이나 생산 공장에 인접하여 입지한다.

11. 자료는 우리나라의 공업 구조 변화를 나타낸 것이다. 이에 대한 분석으로 옳은 것은? [3점]



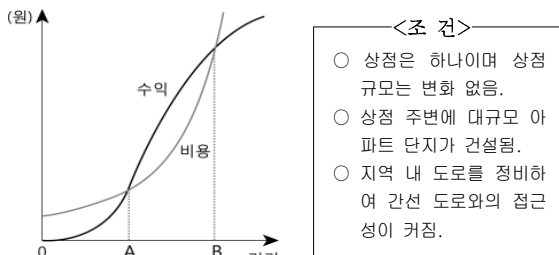
- ① 출하액은 사업체 수보다 증가율이 높다.
- ② 출하액은 경공업과 중화학 공업 모두 감소하였다.
- ③ 사업체 수는 중화학 공업이 경공업보다 더 증가하였다.
- ④ 사업체 당 종사자 수는 경공업이 중화학 공업보다 많다.
- ⑤ 경공업은 중화학 공업보다 제조업에서 차지하는 비중이 크다.

12. 그래프는 어떤 교통 수단의 운송비 구조를 나타낸 것이다. 이 교통 수단의 기종점 비용으로 옳은 것은? (단, 주행 비용은 거리에 정비례함.) [3점]



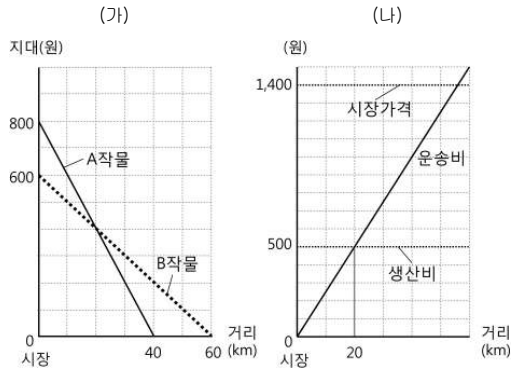
- ① 1,000원
- ② 2,000원
- ③ 3,000원
- ④ 4,000원
- ⑤ 5,000원

13. 그래프는 어느 상점의 수익과 비용 곡선을 나타낸 것이다. 아래의 <조건>을 고려했을 때 A, B의 변화를 옳게 나타낸 것은? (단, 크리스탈리의 중심지 이론을 적용함.) [3점]



- 변화 전
- 상점 A B →
- ① 상점 A B →
 - ② 상점 A B →
 - ③ 상점 A B →
 - ④ 상점 A B →
 - ⑤ 상점 A B →

14. (가)는 A, B작물의 지대 곡선을 나타낸 것이다. A작물이 (나)처럼 변화되었을 경우 A, B작물에 대한 옳은 설명을 <보기>에서 고른 것은? (단, 입지 지대=시장 가격-생산비-운송비) [3점]



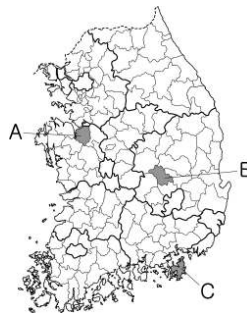
- <보 기>
- ㄱ. A작물은 운송비가 감소하였다.
 - ㄴ. A작물은 시장에서의 지대가 높아졌다.
 - ㄷ. B작물은 재배 지역이 확대되었다.
 - ㄹ. A, B작물의 재배 경계는 변화가 없다.

- ① ㄱ, ㄴ
- ② ㄱ, ㄷ
- ③ ㄴ, ㄷ
- ④ ㄴ, ㄹ
- ⑤ ㄷ, ㄹ

15. 자료는 우리나라의 지역별 수출 현황을 나타낸 것이다. 밑줄 친 (가)~(다)에 해당하는 도시를 지도에서 고른 것은?

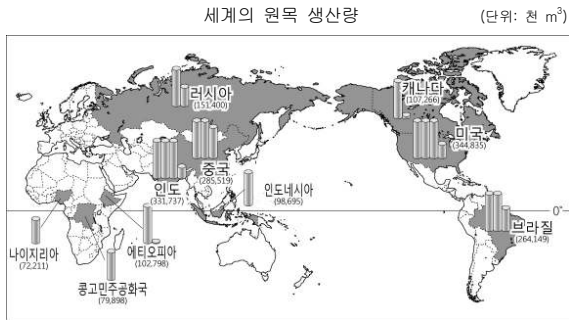
광역시·도별 순위는 석유 제품, 자동차, 선박 등을 수출한 울산이 전체의 16.7%로 2008년에 이어 1위를 차지했고, 경기, 경남, 충남, 경북, 서울 순으로 나타났다.

시·군별 순위는 휴대폰, TV 등을 수출한 (가)가 1위, 액정디바이스, 자동차 등을 수출한 (나)가 2위, 조선업이 주종인 (다)가 2008년 대비 수출액이 10.1% 증가하면서 3위를 기록했다.



- | | (가) | (나) | (다) |
|---|-----|-----|-----|
| ① | A | B | C |
| ② | A | C | B |
| ③ | B | A | C |
| ④ | B | C | A |
| ⑤ | C | A | B |

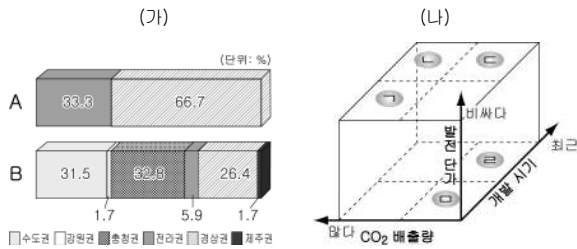
16. 자료를 토대로 추론한 내용으로 적절한 것은?



* 생산량 상위 10개국을 나타냄. (FAO, 2009)

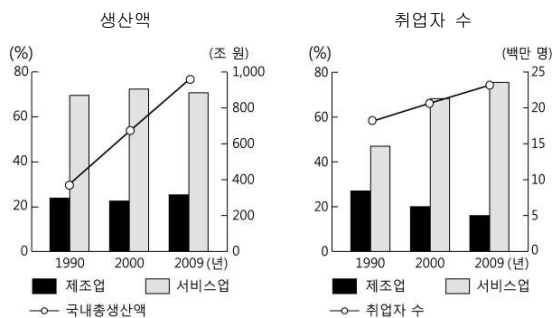
- ① 러시아는 활엽수의 생산 비중이 높을 것이다.
- ② 캐나다는 브라질보다 임목축적량이 많을 것이다.
- ③ 미국은 나이지리아보다 나무의 성장 속도가 빠를 것이다.
- ④ 고위도에 위치한 국가들의 나무는 재질이 단단할 것이다.
- ⑤ 인도네시아는 가구나 건축재로 이용되는 나무의 생산 비중이 높을 것이다.

17. (가)는 발전원별에 따른 지역별 설비 용량 비중을 나타낸 것이다. A에 대한 B 발전 양식의 상대적 특성을 (나)에서 고른 것은?



- ① 가 ② 나 ③ 다 ④ 르 ⑤ 모

18. 그래프는 우리나라 제조업과 서비스업의 변화를 나타낸 것이다. 이에 대한 옳은 해석을 <보기>에서 고른 것은? [3점]

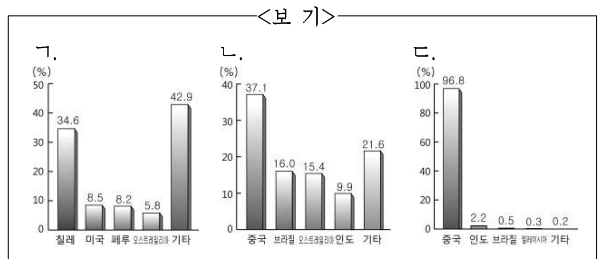


- <보기>
- 가. 서비스업의 생산액은 감소하고 있다.
 - 나. 제조업은 고용 없는 성장이 나타나고 있다.
 - 다. 서비스업이 제조업보다 노동 생산성이 크다.
 - 르. 서비스업이 제조업보다 고용 창출 효과가 크다.
- ① 가, 나 ② 가, 다 ③ 나, 다 ④ 나, 르 ⑤ 다, 르

19. 자료는 광물 자원에 대한 설명이다. (가), (나)에 해당하는 생산량 비중 그래프를 <보기>에서 고른 것은? [3점]

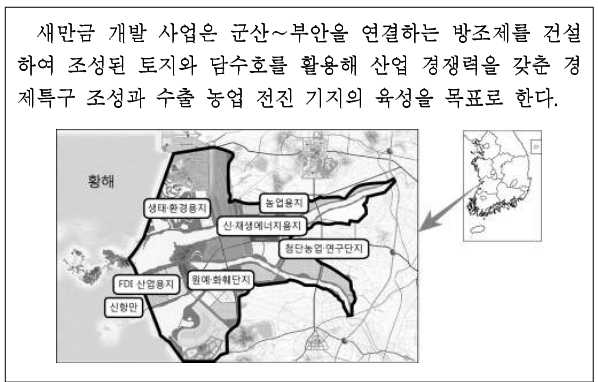
(가) 하이브리드 자동차, 2차 전지, 디스플레이, 풍력 발전 같은 미래 산업에 사용되는 자원으로 소량만으로도 제품의 성능 및 품질을 향상시킬 수 있어 '산업의 비타민'으로 불린다.

(나) 순상지, 고기 습곡 산지에 대규모로 매장되어 있고 근대 산업의 기초가 되는 자원으로 '산업의 쌀'로 불리며, 석탄과 함께 산업 혁명의 바탕이 된 자원이다.



- (가) (나) (가) (나)
- ① 가 나 ② 가 다
 - ③ 나 다 ④ 다 가
 - ⑤ 다 나

20. 자료와 같은 개발로 나타나게 될 이 지역의 변화를 추론한 내용으로 적절한 것을 <보기>에서 고른 것은?



- <보기>
- 가. 어업 종사자 비율이 증가할 것이다.
 - 나. 군산과 부안 간의 시간 거리가 단축될 것이다.
 - 다. 담수호 조성으로 전력 생산량이 증가할 것이다.
 - 르. 산업 단지 조성으로 인구 유입이 활발해질 것이다.
- ① 가, 나 ② 가, 다 ③ 나, 다 ④ 나, 르 ⑤ 다, 르

* 확인 사항

○ 답안지의 해당란에 필요한 내용을 정확히 기입(표기)했는지 확인 하시오