

제 4 교시

사회탐구 영역(경제)

성명  수험번호           3

1. 표는 2008년 갑국의 생산 활동을 나타낸 것이다. 이에 대한 옳은 분석만을 <보기>에서 있는 대로 고른 것은? (단, 갑국에는 A사와 B사 2개의 기업만 있고, B사는 A사가 만든 부품만으로 재화를 생산하고 있다.) [3점]

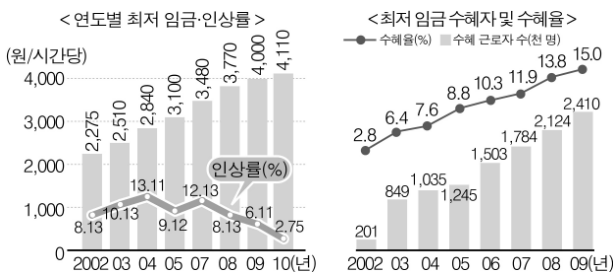
(단위 : 만 달러)

구분	A사	B사
매출액	800	2,000
중간 투입물	0	800
임금	500	700
이자	100	100
임대료	50	150
이윤	150	250
부가 가치	(㉠)	1,200

< 보 기 >  
 가. ㉠은 800이다.  
 나. 생산 요소에 대한 총지급액은 2,000만 달러이다.  
 다. 갑국의 2008년 국내 총생산은 2,800만 달러이다.  
 라. 갑국 국민의 2008년 재산 소득은 400만 달러이다.

- ① 가, 나                      ② 가, 라                      ③ 다, 라  
 ④ 가, 나, 라                ⑤ 나, 다, 라

2. 그림에 대한 옳은 분석을 <보기>에서 고른 것은? [3점]



\* 수혜 근로자 수 : 새롭게 적용되는 최저 임금 미만을 받고 있던 근로자 수  
 \*\* 최저 임금 수혜율 = (수혜 근로자 수 / 전체 근로자 수) × 100

< 보 기 >  
 가. 2010년 빈곤층의 소득은 전년도보다 2.75% 증가한다.  
 나. 최저 임금제의 혜택을 받을 수 있는 근로자 수는 매년 증가하고 있다.  
 다. 2002년에 최저 임금 수혜율이 낮은 것은 최저 임금이 높게 결정된 것도 하나의 원인이 된다.  
 라. 최저 임금이 철저히 지켜진다면 2009년에는 시간당 4,000원 미만을 받는 근로자는 없어질 것이다.

- ① 가, 나                      ② 가, 다                      ③ 나, 다                      ④ 나, 라                      ⑤ 다, 라

3. 다음 신문 기사를 토대로 판단할 때 가장 유리한 사람은? (단, 갑 ~ 무 모두 한국인이다.)

○○ 신문                      2009년 ○○월 ○○일

외국인들이 한국에서 주식을 팔고 나가면서 원화 가치가 급락하고 있으며, 세계적인 금융 위기로 국내 경기도 침체될 조짐이 ... (중략) ... 그런데 엔화의 대달러 환율(¥/\$)은 오히려 점점 내리고 있으며 ...

- ① 갑 : 일본에서 도자기류를 국내에 반입하여 팔고 있다.  
 ② 을 : 미국에서 수입한 상품의 결제 시한이 다가오고 있다.  
 ③ 병 : 주말에 일본에서 개최되는 세미나에 참석할 예정이다.  
 ④ 정 : 일본에서 취업하고 있는데 임금을 달러화로 받고 있다.  
 ⑤ 무 : 미국 소재 부동산을 판 대금을 외화 통장에 넣어두고 있다.

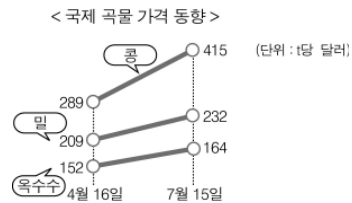
4. 다음 사례에 대한 옳은 분석만을 <보기>에서 있는 대로 고른 것은?

대기업에 근무하는 민지는 특기를 살려 집에서 컴퓨터 프로그래머로 일할 수 있는 곳으로 직장을 옮기고 싶어한다. 현재 월급 200만 원을 받고 있으나, 직장을 옮기면 연봉 3,000만 원을 받을 수 있다. 그런데 채택 근무를 위해 매년 들어갈 컴퓨터 업그레이드 비용 400만 원과 1년 전에 업무용으로 구입한 300만 원짜리 전자수첩이 맘에 걸린다.

< 보 기 >  
 가. 민지는 직장을 옮기는 것이 합리적이다.  
 나. 전자수첩 구입 금액은 민지의 선택에서 고려 사항이 아니다.  
 다. 직장 변경 시 감수해야 할 기회 비용은 연간 2,400만 원이다.  
 라. 직장을 옮겼을 때 얻을 수 있는 편익은 연간 200만 원이다.

- ① 가, 나                      ② 가, 라                      ③ 다, 라  
 ④ 가, 나, 다                ⑤ 나, 다, 라

5. 그림에 나타난 변화의 원인이 될 수 있는 수요와 공급측 요인을 바르게 연결한 것은? [3점]



- |  |  |
|--|--|
| <p>수요측 요인</p> <p>① 경작지 감소</p> <p>② 쌀 수확량 감소</p> <p>③ 투기 자본의 유입</p> <p>④ 국제 원유 가격의 하락</p> <p>⑤ 바이오 에탄올 연료 수요 급증</p> | <p>공급측 요인</p> <p>투기 자본의 유입</p> <p>바이오 에탄올 연료 수요 급증</p> <p>경작지 감소</p> <p>쌀 수확량 감소</p> <p>국제 원유 가격의 하락</p> |
|--|--|

6. 다음 글의 빈 칸 ㉠~㉣에 들어갈 내용이 바르게 연결된 것은?

현대 경제에 있어 중앙 은행은 화폐 발권력에 독점적 권한을 가지고 있으므로 화폐의 공급 곡선은 중앙 은행이 각각의 가격에 대하여 얼마나 화폐를 공급할 것인가를 나타낸다고 할 수 있다. 일반적으로 화폐의 공급이 ㉠이라고 가정하는 이유는, 중앙 은행이 이자율의 상승이나 하락에 따라 화폐의 공급량을 조절하는 것이 아니고 경제 전반의 상황에 따라 화폐의 공급량을 미리 결정하기 때문이다. 이 경우 화폐 수요의 변화는 이자율만을 변화시키게 되며 공급량에는 아무런 영향을 주지 못하게 된다. 그런데 만일 중앙 은행의 목표가 어떤 일정한 수준의 ㉡을 유지하는 것이라고 가정해 보자. 이때 화폐 수요가 증가하면 중앙 은행은 화폐의 공급 곡선을 ㉢으로 변화시켜야 한다.

- |           |     |     |
|-----------|-----|-----|
| ㉠         | ㉡   | ㉢   |
| ① 완전 탄력적  | 통화량 | 오른쪽 |
| ② 완전 비탄력적 | 통화량 | 왼쪽  |
| ③ 완전 탄력적  | 이자율 | 왼쪽  |
| ④ 완전 비탄력적 | 이자율 | 오른쪽 |
| ⑤ 단위 탄력적  | 이자율 | 왼쪽  |

7. 다음 글과 관련하여 옳은 설명만을 <보기>에서 있는 대로 고른 것은?

영국의 곡물법(Corn Laws)은 국내로 들어오는 밀, 호밀, 보리를 포함한 곡물의 수입을 제한하였다. 애덤 스미스는 『국부론』의 한 장 전체를 곡물법에 대해 할애하여 “곡물법에 보내는 칭찬은...(중략)... 모두 잘못된 것이다.”라고 주장하였다. 그러나 영국 정부는 1791년에 곡물 수입에 대한 관세를 더 올렸다. 곡물법은 근로자들을 가난하게 하고 심지어 굶어 죽게 만들었으며, ㉠제조업의 성장을 방해하였다. 그리고 ㉡부자들에게 많은 이득을 가져다주는 결과를 초래했다. 1845년 아일랜드의 감자 기근은 농산물 가격을 훨씬 더 오르게 만들었고, 이는 곡물법 폐지로 이어졌다.

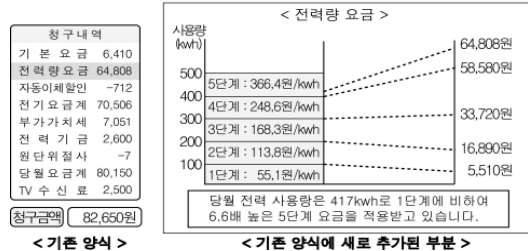
< 보기 >

ㄱ. 곡물 가격 상승으로 인한 임금 인상 요구도 ㉠을 설명할 수 있는 요소이다.  
 ㄴ. ㉡은 주로 산업 자본가들을 지칭한다.  
 ㄷ. 곡물법 폐지로 영국의 국내 곡물 가격이 내렸을 것이다.  
 ㄹ. 곡물법과 오늘날의 FTA는 모두 자유 무역을 추구한다.

- |           |           |        |
|-----------|-----------|--------|
| ① ㄱ, ㄷ    | ② ㄱ, ㄹ    | ③ ㄴ, ㄷ |
| ④ ㄱ, ㄴ, ㄷ | ⑤ ㄴ, ㄷ, ㄹ |        |

8. 다음 정책에 대한 옳은 분석만을 <보기>에서 있는 대로 고른 것은? [3점]

정부는 전기 요금 청구서를 다음과 같이 개선한다고 밝혔다.

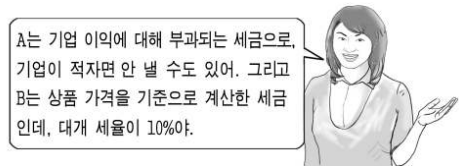


< 보기 >

ㄱ. 전력 시장에서 공급 측면의 변화를 기대하고 있다.  
 ㄴ. 소비자가 경제적 유인에 반응한다고 전제하고 있다.  
 ㄷ. 제도 개선을 통해 소비자의 행동 변화를 유도하고 있다.  
 ㄹ. 정보의 부족을 합리적인 소비 생활의 장애 요인으로 보고 있다.

- |           |           |        |
|-----------|-----------|--------|
| ① ㄱ, ㄴ    | ② ㄴ, ㄷ    | ③ ㄷ, ㄹ |
| ④ ㄱ, ㄴ, ㄹ | ⑤ ㄴ, ㄷ, ㄹ |        |

9. 그림은 세금 A, B에 대한 교사의 설명이다. A, B를 잘못 이해하고 있는 학생은?



- ㄱ : A에는 주로 누진세율을 적용하고 있어요.
- ㄴ : B의 세율 증가는 소비자의 후생을 감소시킬 수 있어요.
- ㄷ : A는 목적세, B는 보통세로 분류돼요.
- ㄹ : A에 비해 B는 일반적으로 조세 저항이 작아요.
- 무 : A와 달리 B는 납세자와 담세자가 일치하지 않아요.

10. 표는 최근 각국의 경제 정책이다. 이 경제 정책들에 대한 공통된 평가로 가장 적절한 것은?

<ul style="list-style-type: none"> <li>○ 오바마 대통령, 국내 자동차 산업에 대한 지원 천명</li> <li>○ 옥수수 제배 농가에 보조금 지급</li> </ul>	<ul style="list-style-type: none"> <li>○ 장난감, 가구 수출입에 대해 세금 환급금 인상</li> <li>○ 쌀, 면화, 설탕에 대한 수입 관세 인상</li> </ul>
<ul style="list-style-type: none"> <li>○ 외국의 탄소 배출 기업 상품에 대한 관세 부과 방침</li> <li>○ 투자 은행 소시에테 제네랄 지분 외국 매각 반대</li> </ul>	<ul style="list-style-type: none"> <li>○ 러시아 기업의 도이치 텔레콤 지분 인수 저지</li> <li>○ 비유럽 펀드의 독일 기업 지분 25% 이상 인수 반대</li> </ul>

- ① 세계화를 더욱 더 가속화시킨다.
- ② 국가 간 통상 마찰을 완화시킨다.
- ③ 경쟁 제한적 요소를 찾아볼 수 있다.
- ④ 신자유주의적 요소가 더 강조되고 있다.
- ⑤ 무역 통제를 통해 자국의 유치 산업을 보호하려 한다.

11. 다음 글에 대한 옳은 분석만을 <보기>에서 있는 대로 고른 것은?

대부분의 아이들이 예방 주사를 맞았기 때문에 전염병이 나돌지 않는다면, 내 아이가 예방 주사를 맞지 않았더라도 병에 걸릴 가능성은 매우 희박하다. 다른 사람이 전염병 예방 주사를 맞으면 내가 병에 걸릴 확률이 낮아지고, 내가 맞을 경우에는 남이 마찬가지로 덕을 본다.

- < 보 기 >
- ㄱ. 전염병 예방 접종은 사회적 최적 수준보다 많이 이루어진다.
  - ㄴ. 전염병 예방 접종으로 사회적 편익보다 사적 편익이 더 커진다.
  - ㄷ. 전염병 예방 접종을 개인에게 맡겨 두면 자원이 효율적으로 사용되지 못한다.
  - ㄹ. 국민 건강을 위해 보건소의 기능을 확대해야 한다는 주장의 근거가 될 수 있다.

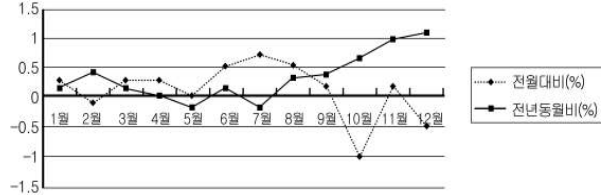
- ① ㄱ, ㄴ                      ② ㄱ, ㄷ                      ③ ㄷ, ㄹ  
 ④ ㄱ, ㄴ, ㄹ                ⑤ ㄴ, ㄷ, ㄹ

12. 그림에서 정부가 보조금을 지급하게 된 배경을 가장 잘 나타낸 것은? [3점]



- ①
- ②
- ③
- ④
- ⑤

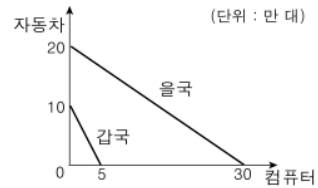
13. 그림은 A국의 2008년 물가 상승률이다. 이에 대한 옳은 분석만을 <보기>에서 있는 대로 고른 것은? [3점]



- < 보 기 >
- ㄱ. 2008년에는 7월의 물가 수준이 가장 높다.
  - ㄴ. 3/4분기의 물가가 2/4분기보다 높게 나타난다.
  - ㄷ. 2008년의 물가 수준은 전년도에 비해 높은 편이다.
  - ㄹ. 2008년 임금 상승률이 1%라면 임금이 물가 상승 요인으로 작용하지 않는다.

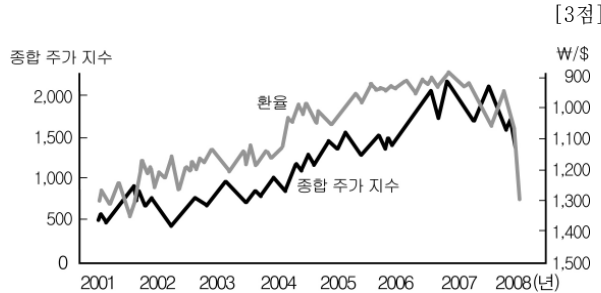
- ① ㄱ, ㄹ                      ② ㄴ, ㄷ                      ③ ㄷ, ㄹ  
 ④ ㄱ, ㄴ, ㄷ                ⑤ ㄴ, ㄷ, ㄹ

14. 그림은 자동차와 컴퓨터만을 생산하는 갑국과 을국의 생산 가능 곡선이다. 비교 우위에 따라 교역을 할 경우 자동차 수출국과 교역 조건을 바르게 연결한 것은?



- | 자동차 수출국 | 자동차 1대와 교환되는 컴퓨터 수 |
|---------|--------------------|
| ① 갑국    | 0.5대 초과 1.5대 미만    |
| ② 갑국    | 2/3대 초과 2대 미만      |
| ③ 을국    | 0.5대 초과 1.5대 미만    |
| ④ 을국    | 2/3대 초과 2대 미만      |
| ⑤ 을국    | 2대 초과 3대 미만        |

15. 그림은 우리나라의 주가와 환율의 움직임을 보여주고 있다. 그림을 옳게 분석한 사람만을 <보기>에서 있는 대로 고른 것은? [3점]



- < 보 기 >
- 갑 : 2007년의 원화 가치가 가장 낮은 수준이군요.
  - 을 : 대체로 원화 가치가 오를 때 주가도 올랐군요.
  - 병 : 환율이 높을수록 우리 기업의 가치가 높게 평가되었군요.

- ① 갑                      ② 을                      ③ 병                      ④ 갑, 병                      ⑤ 을, 병

16. 자료에 대한 분석으로 옳은 것은? [3점]

<2009년 3월 소득 5분위별 가계 수지>

(단위 : 천 원, %)

구분	분위	1분위	2분위	3분위	4분위	5분위
소득(A)		856	2,036	2,983	4,081	7,425
소비 지출(B)		1,139	1,594	2,022	2,465	3,469
비소비 지출(C)		220	377	516	728	1,392
처분 가능 소득(A-C)		636	1,659	2,467	3,353	6,033
흑자액(A-B-C)		-503	65	445	888	2,564
평균 소비 성향		179	96	82	74	58

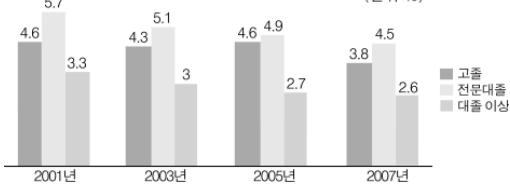
\* 비소비 지출 : 가계의 지출 가운데 생활비(소비 지출) 이외의 지출(세금, 연금, 사회 보장비 등)

\*\* 평균 소비 성향 = (소비 지출/처분 가능 소득) × 100

- ① 5분위의 경우 소비보다 저축이 많다.
- ② 평균 소비 성향이 높을수록 소비 지출이 많아진다.
- ③ 3분위와 5분위의 재산액 증가분 차이는 200만 원보다 크다.
- ④ 1분위의 경우 생활비를 절반으로 줄여도 적자를 못 면하게 된다.
- ⑤ 소득에 대한 비소비 지출의 비중은 5분위에서 가장 높게 나타난다.

17. 그림에 대한 분석으로 옳은 것은?

< 교육 정도에 따른 실업률 > (단위:%)



- ① 교육 정도와 실업률은 높은 상관 관계를 가진다.
- ② 대졸 이상의 경우 취업자 수가 계속 증가하였다.
- ③ 고졸의 경우 2001년과 2005년의 실업자 수는 동일하다.
- ④ 전문대졸 실업자 수가 매년 가장 많은 것으로 나타나고 있다.
- ⑤ 대졸 이상과 고졸 간의 실업률 격차가 2005년에 가장 크게 나타났다.

18. 기사에 대한 옳은 분석만을 <보기>에서 있는 대로 고른 것은?

○○신문 2009년 ○○월 ○○일

### 골판지 생산 업체 숨통 터어

불황에다가 골판지 원자재인 펄프와 폐지 가격 상승까지 겹쳐 얼마 전까지 연쇄적으로 도산하는 등 어려움을 겪던 골판지 생산 업체들이 숨통을 트고 있다. 이는 경기가 회복되면서 각종 제품의 포장재로 쓰이는 골판지 상자 수요가 증가하고 있기 때문이다. 그럼에도 불구하고 골판지 가격은 여전히 제자리 걸음이다.

< 보 기 >

- ㄱ. 골판지 가격이 제자리인 이유는 공급 증가 때문이다.
- ㄴ. 골판지의 수요 증가는 보완재의 수요 증가 때문이다.
- ㄷ. 골판지 수요 증가로 골판지 시장의 총 거래액은 증가했다.
- ㄹ. 골판지의 공급 증가가 골판지 업체의 연쇄 도산을 초래했다.

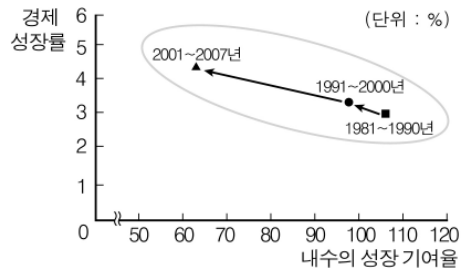
- ① ㄱ, ㄴ                      ② ㄱ, ㄷ                      ③ ㄷ, ㄹ
- ④ ㄱ, ㄴ, ㄷ                ⑤ ㄴ, ㄷ, ㄹ

19. (가)의 사례 분석에서 전제하고 있는 (나)의 밑줄 친 '체테리스 파리부스'의 내용으로 적절하지 않은 것은? [3점]

- (가) 누군가 사과 재배에 큰 영향을 끼치는 매미를 친환경적으로 퇴치할 신기술을 찾아 무료로 공개했다고 하자. 이제 매미 때문에 사과가 주렁주렁 달린 가지 하나가 통째로 말라버리는 일은 없다. 이로 인해 사과 농사의 매력이크게 높아져 사과의 공급이 늘고 가격은 하락하게 된다.
- (나) 경제학자는 무수히 많은 '체테리스 파리부스(ceteris paribus, 다른 모든 조건이 동일하다면)'를 전제하고 있다. 경제학자들이 애용하는 이 라틴어 문구는, 생물학과와 같이 이상적인 조건을 인공적으로 만들어두고 같은 실험을 반복할 수 없기 때문에 실제로 할 수 없는 실험을 머릿속에서라도 해보기 위한 학문적 가정이다.

- ① 사과에 대한 소비자의 선호도
- ② 사과가 열리는 시점의 온도와 강수량
- ③ 대체 관계에 있는 배의 거래량과 가격
- ④ 사과 농사에 새로 참여하려는 농부의 수
- ⑤ 사과 수출국인 중국의 위안화에 대한 환율

20. 그림에 대한 옳은 해석만을 <보기>에서 있는 대로 고른 것은? [3점]



\* 전체 181개국에 대한 내수의 성장 기여율과 경제 성장률의 관계임.(자료: UN)  
\*\* 경제 성장에의 기여 요인은 내수와 수출로 양분됨.

< 보 기 >

- ㄱ. 수출보다 내수가 성장에 더 크게 기여하였다.
- ㄴ. 세계 경제에서 내수가 점차 줄어드는 추세이다.
- ㄷ. 1980년대에는 수출이 성장에 전혀 기여하지 못했다.
- ㄹ. 국제 무역이 활발한 시기에 경제 성장률이 낮게 나타났다.

- ① ㄱ, ㄴ                      ② ㄱ, ㄷ                      ③ ㄷ, ㄹ
- ④ ㄱ, ㄴ, ㄷ                ⑤ ㄴ, ㄷ, ㄹ

※ 확인 사항

○ 답안지의 해당란에 필요한 내용을 정확히 기입(표기)했는지 확인하십시오.