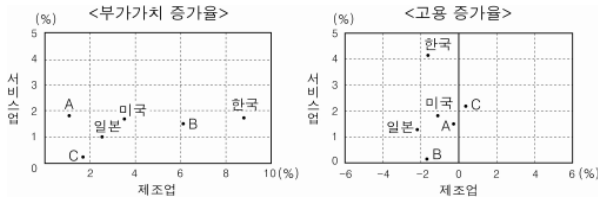


제 4 교시

사회탐구 영역(경제 지리)

성명  수험번호         3

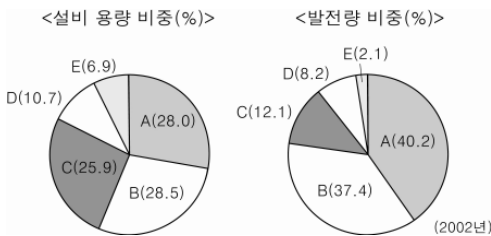
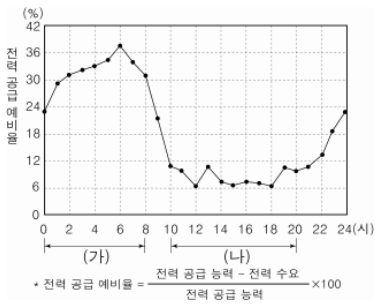
1. 그래프는 OECD 주요 국가의 산업 구조 변화(1990~2001년)에 관한 것이다. 이에 대한 옳은 분석을 <보기>에서 고른 것은?



- < 보 기 >
- ㄱ. 한국은 제조업의 부가가치와 고용이 모두 증가하였다.
  - ㄴ. A국만 부가가치 증가율에서 서비스업이 제조업보다 높다.
  - ㄷ. 모든 국가는 고용 증가율에서 서비스업이 제조업보다 높다.
  - ㄹ. B국은 C국보다 제조업의 부가가치 증가율과 고용 증가율이 모두 높다.

- ① ㄱ, ㄴ    ② ㄱ, ㄷ    ③ ㄴ, ㄷ    ④ ㄴ, ㄹ    ⑤ ㄷ, ㄹ

2. 자료는 우리나라의 시간대별 전력 공급 예비율과 에너지원별 전력 생산 비중을 나타낸 것이다. 이에 대한 설명으로 옳은 것은? [3점]



- ① (가) 시간대의 전력 생산에는 A, B가 주로 사용된다.
- ② (가) 시간대는 (나) 시간대에 비해 전력 생산량이 많다.
- ③ C는 (나) 시간대보다 (가) 시간대에 전력 생산량이 많다.
- ④ D의 소비 구조에서 발전용이 가장 큰 비중을 차지한다.
- ⑤ E는 높은 연료비 때문에 설비 용량에 비해 발전량 비중이 작다.

3. 자료는 학생이 작성한 가상의 제품 개발 계획서이다. 밑줄 친 산업 모델의 모식도로 가장 적절한 것은? [3점]

**휴대용 만능 로봇 개발 계획**

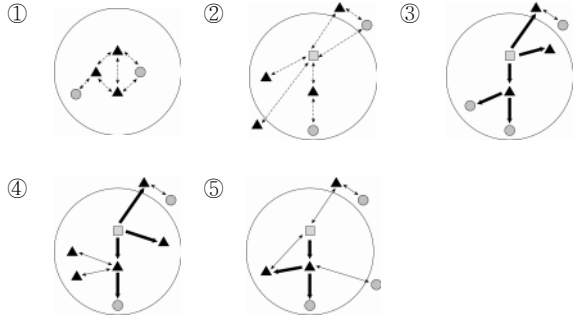
- 회사명 : ○○ 로봇
- 사업 목표 : 세계 최저가의 휴대용 만능 로봇 개발
- 주 대상 고객 : 신중 공업국 청소년
- 추진 방법 : 글로벌 네트워크형 산업 모델 적용
  - 각 협력 회사와 개별적인 계약 체결
  - 사업 계획 및 추진(○○로봇), 기술 개발(한국 연구소), 부품 공급(한국, 일본), 제조(대만 전문 제조 회사), 디자인(이탈리아), 판매망(인도, 중국 현지 영업망 활용)

**기업 간 관계**

- 상호 독립적    • 반 독립적    • 단일 기업

**제품 기획 및 추진**    **제품 제조 및 부품 공급**    **제품 판매 및 영업**

□ 국내    ▲ 해외

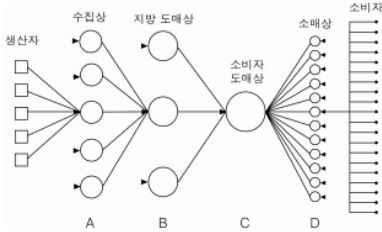


4. 다음 글의 밑줄 친 ㉠~㉥에 대한 설명으로 옳지 않은 것은?

최근 전 세계적인 경기 침체로 각국이 ㉠보호무역 정책을 잇달아 내놓고 있다. 또 원자재 가격의 급등락에 따라 ㉡자원민중주의도 강화되고 있다. ㉢WTO의 규제에 의해 전면적인 무역 분쟁으로 비화되지는 않았지만, 경기 부양을 구실로 자국 기업을 차별적으로 지원하거나 ㉣환경 및 기술 규제와 연계하여 비관세 장벽을 구축하는 등 우회적인 방식의 보호주의는 더욱 강화될 전망이다. 이에 따라 무역 의존도가 높은 국가들은 주요 무역 상대국과의 ㉤FTA 체결을 통해 보호무역 정책에 대응하고 있다.

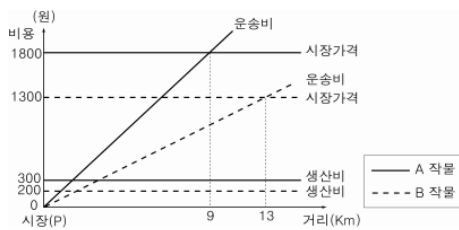
- ① ㉠ : 자국 산업에 대한 수출 지원 및 경쟁 품목에 대한 관세 인상 등의 조치가 이루어지고 있다.
- ② ㉡ : 과거에는 원유가 주 대상이었으나, 최근에는 천연가스화 철광석 및 비철금속 등으로 대상이 확대되고 있다.
- ③ ㉢ : 국가간 자유 무역을 위해 각국의 무역 규제 조치를 제한하고 있다.
- ④ ㉣ : 각종 환경 규제를 통해 무역 상대국에 대해 무역 장벽을 높이고 있다.
- ⑤ ㉤ : 회원국간 노동 및 자본의 자유로운 이동을 보장하는 협정이다.

5. 그림은 농산물의 유통 단계를 나타낸 것이다. 이에 대한 설명으로 옳은 것은? (단, 원의 크기는 상점의 중심성 정도이다.)



- ① 상점의 수는 A에서 C로 갈수록 증가한다.
- ② 각 상점의 농산물 유통량은 C가 D보다 적다.
- ③ 각 상점의 기능은 A에서 C로 갈수록 감소한다.
- ④ 단계별 동일 상점 간의 평균 거리는 A가 B보다 짧다.
- ⑤ 교통과 통신이 발달할수록 생산자와 소비자 간의 유통 단계가 증가한다.

6. 그래프는 A, B 작물의 거리에 따른 시장가격과 비용의 변화를 나타낸 것이다. 이에 대한 옳은 설명을 <보기>에서 고른 것은? (단, 입지 지대 = 시장 가격 - 생산비 - 운송비) [3점]



- < 보 기 >
- ㄱ. A 작물은 시장에서 5km까지 재배된다.
  - ㄴ. A 작물의 운송비가 50% 감소하면 A 작물만 재배된다.
  - ㄷ. B 작물의 생산비가 100원 상승하면 A, B 작물의 재배 면적 비율은 1:3이 된다.
  - ㄹ. A, B 작물의 시장 가격이 각각 100원씩 상승해도 A, B 작물의 재배 면적 비율에는 변화가 없다.

- ① ㄱ, ㄴ    ② ㄱ, ㄷ    ③ ㄴ, ㄷ    ④ ㄴ, ㄹ    ⑤ ㄷ, ㄹ

7. 다음 글은 제3 이탈리아 지역의 공업에 관한 것이다. 이 지역의 공업 특성으로 옳지 않은 것은?

장인을 존중하는 전통이 강한 제3 이탈리아 지역(이탈리아 중북부 일대)에서는 단계별로 전문화된 다수의 중소기업들이 긴밀한 네트워크를 형성하고 있다. 이들 기업은 소비자 취향에 민감하게 대처하여 디자인이 중요한 섬유·의류, 피혁 등의 제품에서 높은 성과를 거두었다. 특히 특화 산업에 대한 이미지 홍보를 통해 세계적인 경쟁력을 갖추었다.

- ① 기업 간 분업이 유기적으로 진행되고 있다.
- ② 주로 소수의 제품을 대량으로 생산하고 있다.
- ③ 생산 과정에서 숙련 노동력의 역할이 중요하다.
- ④ 기업들은 효율적 생산을 위해 서로 가까이 입지하고 있다.
- ⑤ 기업 간 협력과 정보 교류가 지역 경제 성장에 기여하였다.

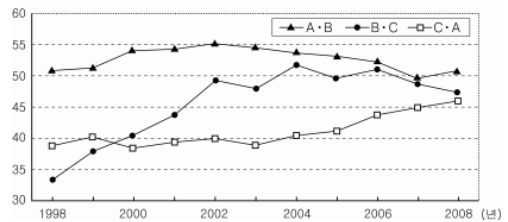
8. (가), (나) 교통 수단 상대적 특성을 그래프에서 골라 바르게 연결한 것은?

(가) 기동성과 문전 연결성이 뛰어나며, 택배 산업의 발달과 도시 외곽의 대형 매장 성장에 영향을 주었다.

(나) 기상 조건의 영향을 많이 받으며, 우리나라에서는 국제 무역 수송량의 대부분을 담당하고 있다.

- |   |     |     |   |     |     |
|---|-----|-----|---|-----|-----|
|   | (가) | (나) |   | (가) | (나) |
| ① | A   | B   | ② | A   | D   |
| ③ | B   | C   | ④ | C   | B   |
| ⑤ | D   | A   |   |     |     |

9. 그래프는 아세안 시장에서 한·중·일 3국의 수출경합도지수 변화를 나타낸 것이다. 이에 대해 바르게 분석한 내용을 <보기>에서 고른 것은? (단, 아세안 시장만 고려한다.) [3점]



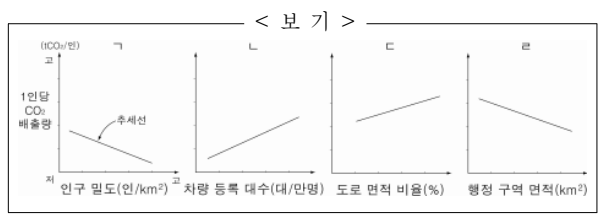
\* 수출경합도지수: 특정 시장에서 두 국가 간 수출 상품의 유사성을 나타내는 지수로 100에 가까울수록 두 국가 간 수출 경쟁이 심함.

- < 보 기 >
- ㄱ. A, B, C국은 각각 한국, 중국, 일본이다.
  - ㄴ. A국과 B국의 수출 품목 구조가 가장 유사하다.
  - ㄷ. A국은 B국보다 C국과의 수출 경쟁이 심하다.
  - ㄹ. C국의 수출 품목이 가장 빠르게 변화하고 있다.

- ① ㄱ, ㄴ    ② ㄱ, ㄷ    ③ ㄴ, ㄷ    ④ ㄴ, ㄹ    ⑤ ㄷ, ㄹ

10. 다음 글의 내용을 뒷받침할 수 있는 그래프를 <보기>에서 고른 것은? [3점]

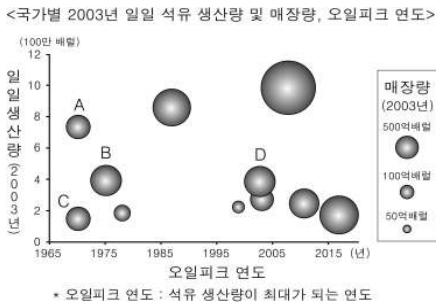
여러 대도시들을 비교하면 인구와 건물의 밀집도가 높고 도시 면적이 좁을수록 1인당 온실가스 배출량이 적다. 그러나 차량 이용이 많고 도로 면적이 좁은 대도시들은 교통 정체 등으로 인해 1인당 온실가스 배출량이 많다.



- ① ㄱ, ㄴ    ② ㄱ, ㄷ    ③ ㄴ, ㄷ    ④ ㄴ, ㄹ    ⑤ ㄷ, ㄹ



16. 그래프에 대한 옳은 분석을 <보기>에서 고른 것은? [3점]

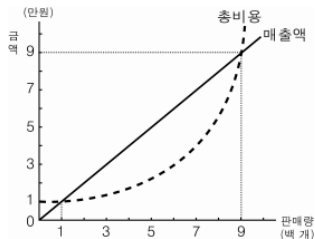


< 보 기 >

- ㄱ. A국이 C국보다 가채연수가 길 것이다.
- ㄴ. 2005년 이후 D국의 석유 생산량은 감소하였을 것이다.
- ㄷ. B국의 1975년 석유 생산량은 그 이전보다 많았을 것이다.
- ㄹ. 매장량이 많은 국가일수록 오일피크 연도가 늦을 것이다.

- ① ㄱ, ㄴ    ② ㄱ, ㄷ    ③ ㄴ, ㄷ    ④ ㄴ, ㄹ    ⑤ ㄷ, ㄹ

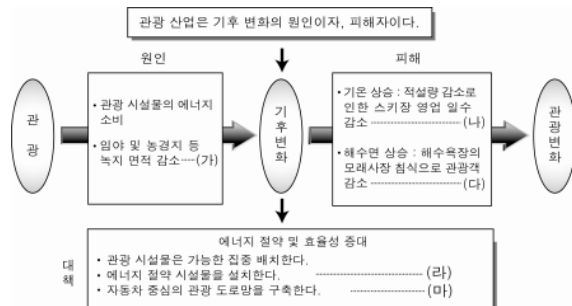
17. 그래프는 어느 상점의 총비용과 매출액을 나타낸 것이다. 이 상점의 최소요구범위와 최대도달범위를 바르게 연결한 것은? (단, 주어진 조건만 고려한다.) [3점]



- 1㎡당 100명의 소비자가 고르게 분포함.
- 소비자 1인당 1단위만 구매하며, 1단위당 가격은 100원임.

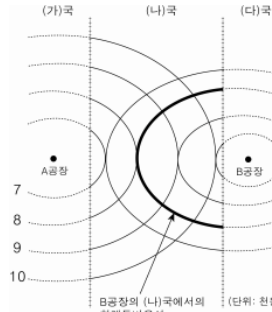
- |   | 최소요구범위 | 최대도달범위 |   | 최소요구범위 | 최대도달범위 |
|---|--------|--------|---|--------|--------|
| ① | 0km    | 1km    | ② | 1km    | 3km    |
| ③ | 1km    | 9km    | ④ | 3km    | 6km    |
| ⑤ | 3km    | 9km    |   |        |        |

18. 표는 관광 산업과 기후 변화의 상호 영향을 탐구 설계한 모형이다. (가)~(마)의 내용 중 타당하지 않은 것은?



- ① (가)    ② (나)    ③ (다)    ④ (라)    ⑤ (마)

19. 그림에서 A, B 공장이 함께 입지할 수 있는 최대 범위를 바르게 표시(■)한 것은? (단, 주어진 조건만 고려한다.) [3점]



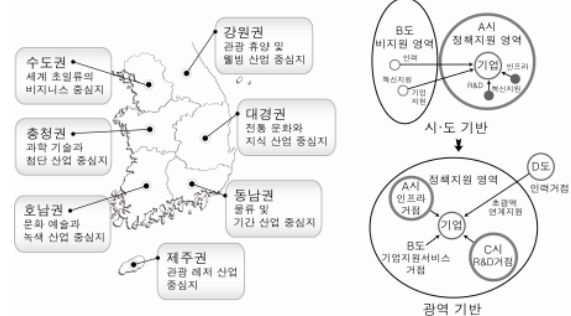
- (가)국 노동비 : 13,000원
- (다)국 노동비 : 10,000원
- 한 국가 내 모든 지역의 단위당 노동비는 동일하다.
- A, B가 같은 곳에 입지하면 두 기업 모두 1,000원의 집적 이익이 발생한다.
- 각각의 원은 등비용선이다.

\* 한계등비용선 : 노동비 절감액과 동일한 수치의 등비용선

- ①    ②    ③    ④    ⑤
- 

20. 자료는 정부에서 최근 추진 중인 광역 경제권에 관한 것이다. 이에 대한 설명으로 옳은 것은?

<광역 경제권별 발전 목표>    <선도 사업 추진 방식 변화>



- ① 권역별 선도 사업의 추진은 하향식 의사 결정 구조를 갖는다.
- ② 권역별로 단일 핵심 도시가 선정되어 선도 사업을 주도한다.
- ③ 지하 자원의 효율적 개발을 통해 지역 경제 활성화를 추구한다.
- ④ 광역 경제권 체제에서는 지역의 상호 보완적 역할이 강조된다.
- ⑤ 권역별 선도 사업은 시·도 단위의 행정 구역 내에서 추진된다.

※ 확인 사항

- 답안지의 해당란에 필요한 내용을 정확히 기입(표기)했는지 확인하시오.