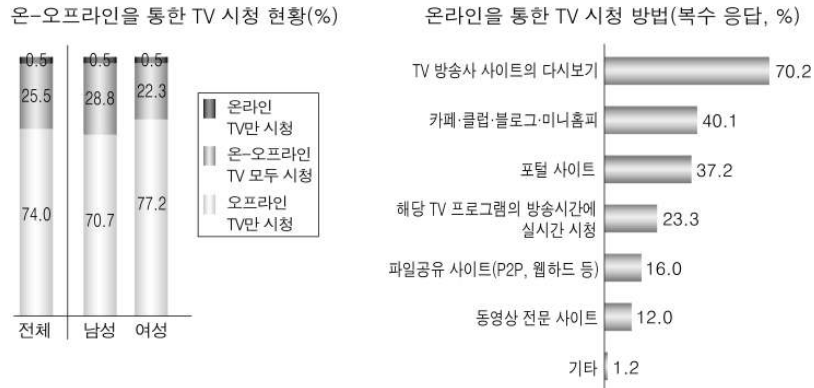




# 사회탐구 영역(사회·문화)

5. 그림에 대한 분석 및 추론으로 옳은 것만을 <보기>에서 있는 대로 고른 것은? [3점]

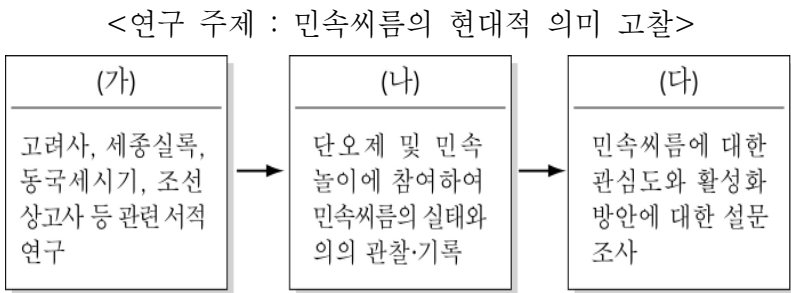


<보 기>

ㄱ. 여성보다 남성의 인터넷 이용률이 높다.  
 ㄴ. 정보화로 TV 시청의 시간적 제약 극복이 가능해졌다.  
 ㄷ. 정보 통신 기술의 발달로 TV 시청 방법이 다양화되었다.  
 ㄹ. TV 프로그램 생산자와 소비자의 경계가 모호해지고 있다.


- ① ㄱ, ㄴ                      ② ㄴ, ㄷ                      ③ ㄷ, ㄹ  
 ④ ㄱ, ㄴ, ㄹ                ⑤ ㄴ, ㄷ, ㄹ

6. 다음은 어떤 연구에 사용된 자료 수집 방법을 순서대로 나타낸 것이다. 이에 대한 설명으로 옳지 않은 것은? [3점]



- ① (가)는 시·공간적 제약을 극복할 수 있는 방법이다.  
 ② (나)를 통해 실제성 있는 자료 수집이 가능하다.  
 ③ (나)는 (다)보다 연구자의 주관에 개입될 가능성이 크다.  
 ④ (다)를 통해 수집된 자료는 계량화가 용이하다.  
 ⑤ 연구 주제와 과정으로 보아 질적 자료를 첨가한 양적 연구이다.

7. 그림 (가), (나)의 사회화 기관에 대한 설명으로 옳은 것은?



- ① (가)는 체계적으로 사회화를 수행한다.  
 ② (가)는 사회화 기관으로서의 기능이 강화되는 추세이다.  
 ③ (나)는 재사회화가 주된 기능이다.  
 ④ (가)는 1차적 사회화 기관, (나)는 2차적 사회화 기관이다.  
 ⑤ (가), (나) 모두 공식적인 보상과 처벌 체계를 가지고 있다.

8. 표는 '가구주의 혼인 상태별 구성'을 조사한 것이다. 이를 보고 옳게 진술한 사람을 <보기>에서 고른 것은? [3점]

(단위 : %)

구 분	1990년	1995년	2000년	2005년	
남성	유배우	91.2	89.9	88.4	84.7
	사 별	2.0	1.9	1.9	2.3
	이 혼	0.8	1.2	2.1	3.2
	미 혼	6.0	7.0	7.6	9.8
여성	유배우	17.7	15.7	16.5	17.9
	사 별	56.3	56.1	50.5	44.4
	이 혼	5.6	7.1	11.6	14.4
	미 혼	20.4	21.1	21.4	23.3

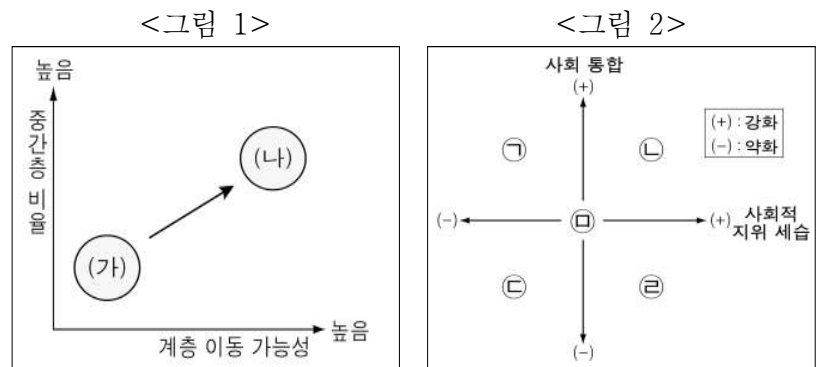
\* 전체 가구주 중 여성 가구주의 비율은 2005년이 20%로 가장 높았음.

<보 기>

갑 : 모든 연도에서 여성 가구주 중 사별로 인한 가구주 수가 가장 많군.  
 을 : 가족 관계가 여성보다 남성 중심이라는 것을 알 수 있어.  
 병 : 2005년 미혼 가구주 수는 여성이 남성의 2배가 넘는군.  
 정 : 결혼을 반드시 해야한다는 인식이 확산되고 있어.

- ① 갑, 을    ② 갑, 병    ③ 을, 병    ④ 을, 정    ⑤ 병, 정

9. <그림 1>의 (가)에서 (나)로 사회 계층 구조가 변화할 때 예상 되는 사회의 변화 방향을 <그림 2>에서 고른 것은?



- ① ㉠    ② ㉡    ③ ㉢    ④ ㉣    ⑤ ㉤

10. 사회·문화 현상을 이해하는 관점과 관련하여, 그림의 두 사람의 입장에 부합하는 진술로 옳은 것은?



- ① 개인의 행위는 실재하는 사회의 강제에 의해 이루어진다.  
 ② 사회 구성원들은 기존 질서에 따라 규격화된 행동을 한다.  
 ③ 사회 구성원의 행동은 각자의 상황 해석에 따라 달라진다.  
 ④ 사회는 생태계처럼 균형이 깨지면 회복하려는 경향이 있다.  
 ⑤ 사회 구성 요소들은 기본적으로 대립과 갈등의 관계에 있다.

# 사회탐구 영역(사회·문화)

사회·문화

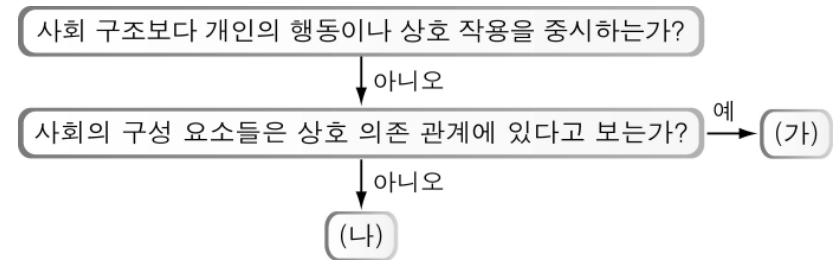
11. 다음 연구에 적합한 사회·문화 연구 방법의 특징에만 '✓'를 표시한 학생은?

[연구 주제] 우리 사회의 '부러움'에 관한 정서 조망  
 [연구 목적] 한국 문화 내에서 발견되는 '부러움'의 정서를 조망하고자 한다. 이를 위해 일상을 관찰하면서 '부러움'의 정서가 갖는 의미를 밝혀내고, 시샘·질투 등의 정서와 어떻게 다른지 이해한다.

특 징	학 생				
	갑	을	병	정	무
통계적 기법을 적극적으로 활용한다.	✓	✓		✓	
연구 대상자의 동기와 가치를 중시한다.		✓	✓		✓
사회 현상을 행위자의 의도와 분리한다.	✓		✓	✓	
연구자의 직관적 통찰로 자료를 해석한다.		✓		✓	✓

- ① 갑    ② 을    ③ 병    ④ 정    ⑤ 무

12. 그림은 사회·문화 현상을 이해하는 관점을 분류한 것이다. (가), (나)에 대한 옳은 설명을 <보기>에서 고른 것은?



<보 기>  
 ㄱ. (가)는 사회 갈등을 비정상적인 것으로 본다.  
 ㄴ. (나)는 일상 생활의 의미에 대한 주관적 해석을 중시한다.  
 ㄷ. (나)는 (가)보다 기존 질서 유지에 기여할 가능성이 높다.  
 ㄹ. (가)와 (나)는 개인의 자율성과 능동성을 간과하기 쉽다.

- ① ㄱ, ㄷ    ② ㄱ, ㄹ    ③ ㄴ, ㄷ    ④ ㄴ, ㄹ    ⑤ ㄷ, ㄹ

13. 다음은 수업 시간에 교사가 제시한 자료이다. 이를 통해 다룰 수 있는 적절한 수업 주제를 <보기>에서 고른 것은? [3점]

인간의 뇌는 대뇌, 소뇌 등 고유의 기능을 담당하는 여러 부분으로 구성되어 있다. 뇌에는 뉴런과 그 크기의 10배에 달하는 교세포가 있고 이들은 긴 밀한 세포 사회를 형성하고 있다. 뉴런은 신경 세포로 뇌 전체에 1,000억 개가 있으며, 축삭이라고 불리는 긴 돌기를 통해 다른 신경 세포와 연결돼 있다.

<보 기>  
 ㄱ. 문화의 이해에 있어 총체적 관점이 필요한 이유는?  
 ㄴ. 개인의 행동에 있어 준거 집단이 차지하는 중요성은?  
 ㄷ. 사회 구조의 이해에서 기능론적 관점이 가지는 유용함은?  
 ㄹ. 사회 현상의 분석에서 사회 구조적 요인보다 개인적 요소가 우선되는 이유는?

- ① ㄱ, ㄴ    ② ㄱ, ㄷ    ③ ㄴ, ㄷ    ④ ㄴ, ㄹ    ⑤ ㄷ, ㄹ

14. 다음은 어떤 문학 작품의 줄거리이다. 이에 대한 설명으로 옳은 것은? [3점]

일제 강점기에서 고등 교육을 받고도 마땅한 일자리를 얻지 못한 채 살아가던 주인공 P는 차라리 농민이나 노동자였다면 실직하지 않았을 것이라며, 자신과 같은 지식인 실업자를 양산해 낸 사회를 원망한다. ... (중략) ... P는 어느 인쇄소의 사장을 찾아 가서 아들을 무료 견습공으로 써달라고 부탁한다. 아들만은 자신과 같은 지식인 실업자를 만들지 않겠다고 다짐한 것이다. 그리고 P는 자신과 아들 모두 팔려가기를 기다리는 인생이라고 생각한다.

- ① P는 자본가 계급에 속한다.  
 ② P는 지위 불일치를 경험하고 있다.  
 ③ 세대 간에 수직적 사회 이동이 나타나 있다.  
 ④ 당시 사회에서는 계층 구조가 고착화되어 있다.  
 ⑤ 교육이 계층 상승의 가장 중요한 수단이 되고 있다.

15. 표는 '정보화가 소득 격차를 감소시키는 효과가 있는가?'에 대한 응답을 조사한 것이다. 이를 옳게 해석한 것은? [3점]

(단위 : %)

구 분	2002년			2006년			
	그렇다	그렇지 않다	모르겠다	그렇다	그렇지 않다	모르겠다	
성 별	남	21.1	59.4	19.5	17.8	56.7	25.5
	여	19.9	54.7	25.4	16.3	52.5	31.2
학 력	초졸이하	16.9	37.1	46.0	15.9	37.6	46.5
	중졸	23.5	50.7	25.8	19.4	48.5	32.1
	고졸	21.3	62.4	16.3	17.4	58.6	24.0
	대졸이상	19.4	71.6	9.0	15.8	66.8	17.4

- ① 2002년 초졸 이하의 '그렇다'라는 응답자 수는 '모르겠다'라는 응답자 수보다 많다.  
 ② 2006년 중졸에서 '그렇지 않다'라는 응답자 수는 2002년에 비해 2.2% 감소하였다.  
 ③ 2006년은 2002년에 비해 전체 응답자 중 '그렇다'라고 대답한 비율이 늘었다.  
 ④ 학력이 높을수록 정보화가 소득 격차를 감소시키지 못한다고 생각하고 있다.  
 ⑤ 여자는 남자보다 정보화로 인한 소득 격차 감소에 대해 더 많은 관심을 가지고 있다.

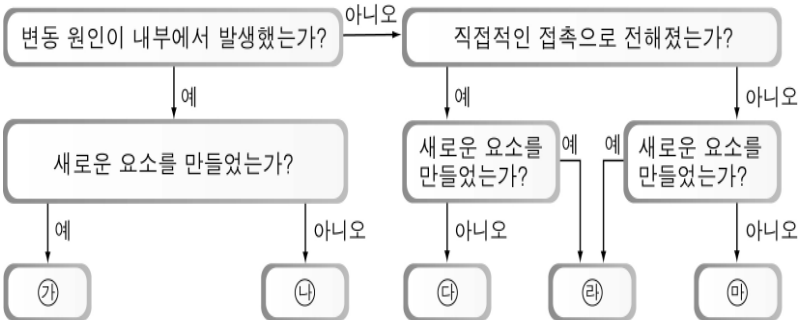
# 사회탐구 영역(사회·문화)

16. 다음은 우리나라의 사회 보장 제도 중 하나인 ‘긴급 복지 지원 제도’의 내용이다. 이 제도에 대한 설명으로 가장 적절한 것은?

- 목적 : 생계 곤란 등의 위기 상황에 처하여 도움이 필요한 자를 신속하게 지원함으로써 이들이 위기 상황에서 벗어나 건강하고 인간다운 생활을 영위하게 함.
- 정의 : ‘위기 상황’은 다음 어느 하나에 해당하는 사유로 인해 생계 유지가 어렵게 된 것.
  1. 주소득자가 소득을 상실하고 가구 구성원에게 다른 소득원이 없는 때
  2. 가구 구성원으로부터 방임·유기·학대 등을 당한 때
  3. 가정 폭력으로 가구 구성원과 원만한 생활이 곤란할 때
- 지원 방법 : 금전·현물 등의 직접 지원

- ① 공공 부조의 성격을 가진다.
- ② 국민의 조세 부담을 경감시킨다.
- ③ 생산과 복지를 연계한 복지 정책이다.
- ④ 상대적 빈곤층의 증가가 도입 배경이다.
- ⑤ 개인, 국가, 기업이 비용을 공동 부담한다.

17. 그림은 문화 변동의 원인을 구분한 것이다. ㉠~㉡에 대한 설명으로 옳지 않은 것은? [3점]



- ① 사냥을 위해 활을 만들어 낸 것은 ㉠에 해당한다.
- ② 만유인력의 법칙을 알아낸 것은 ㉡에 해당한다.
- ③ 조선 통신사가 조선의 문화를 일본에 전달한 것은 ㉢에 해당한다.
- ④ 전통 된장과 토종 감을 이용하여 감 장아찌를 만들어 낸 것은 ㉣에 해당한다.
- ⑤ 한국 드라마를 통해 동남아시아에 한국 문화가 전파된 것은 ㉡에 해당한다.

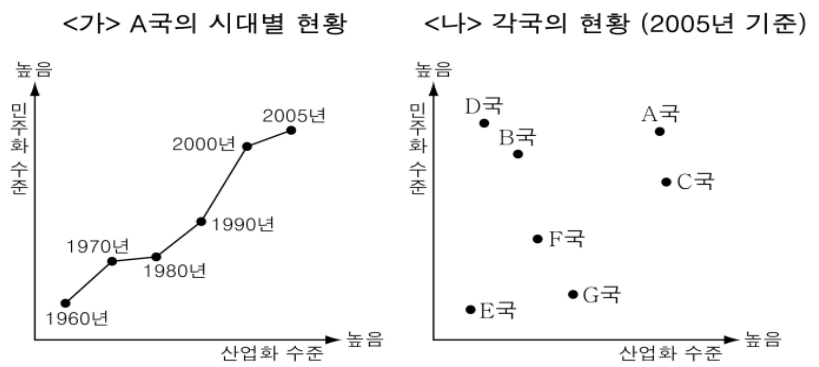
18. 다음 글의 밑줄 친 ㉠, ㉡에 대한 옳은 설명을 <보기>에서 고른 것은?

㉠○○팀은 신규 사업의 개발을 위해 사내에 설립한 자율적이며 독립적인 조직이다. 독자적으로 사업을 개발·수행할 수 있도록 사업 실행의 권한 및 책임을 광범위하게 부여 받고, 중요한 의사 결정에서 자율성을 발휘한다. 팀 구성원들은 평등하고 유기적인 관계 속에서 쌍방향으로 의사 소통을 하는 구조를 가진다. 따라서 ㉡기존 조직의 복잡한 제반 절차, 수직적 의사 결정 과정에 얽매이지 않는다.

- <보 기>
- ㉠. ○은 자발적 결사체에 속한다.
  - ㉡. ○은 ○의 유연한 조직 운영에 기여한다.
  - ㉢. ○은 ○에 비해 구성원의 지위와 역할이 명확히 구분된다.
  - ㉣. ○은 비공식적 절차, ○은 공식적 절차에 따라 업무가 처리된다.

- ① ㉠, ㉡    ② ㉠, ㉢    ③ ㉡, ㉣    ④ ㉡, ㉣    ⑤ ㉢, ㉣

19. 그림은 산업화와 민주화의 관계를 조사한 것이다. 이에 대한 분석으로 옳지 않은 것은? [3점]



- ① A국은 산업화 수준이 지속적으로 높아졌다.
- ② A국에서는 민주화와 산업화가 정(+)의 관계를 보인다.
- ③ D국은 정치적 수준과 경제적 수준이 부조화를 이루고 있다.
- ④ 2차 대전 후 신흥 공업 국가들은 B국보다는 G국에 가깝다.
- ⑤ 민주화 수준을 높이기 위해서는 경제 발전이 필수적이다.

20. 표에 대한 분석으로 옳은 것은? [3점]

<중간층 귀속 의식에 관한 추이>

조사 연도	조사 지역	표본수 (명)	중간층 귀속률 (%)		
			중의 상	중의 중	중의 하
1986	전국	1,016	6.1	37.2	31.6
1996	전국	1,000	5.1	35.2	36.7
2006	전국	2,002	12.0	43.6	24.5
	서울	1,500	6.3	46.0	39.0

\* 중간층 귀속률 : 스스로 중간층이라고 생각하는 사람의 비율임.

- ① 계층의 상승 이동이 하강 이동보다 많이 나타났다.
- ② 객관적인 사회 계층의 측정이 가능한 방법을 사용하였다.
- ③ 장기간에 걸쳐 동일한 표본을 대상으로 연구가 이루어졌다.
- ④ 도시 지역의 중간층 귀속률이 전국 평균보다 높은 경향을 보였다.
- ⑤ 계층 의식을 기준으로 할 때 피라미드 형보다는 다이아몬드 형 계층 구조에 가깝다.

※ 확인 사항

문제지와 답안지의 해당란을 정확히 기입(표기)했는지 확인하십시오.