

2009학년도 3월 고3 전국연합학력평가 문제지

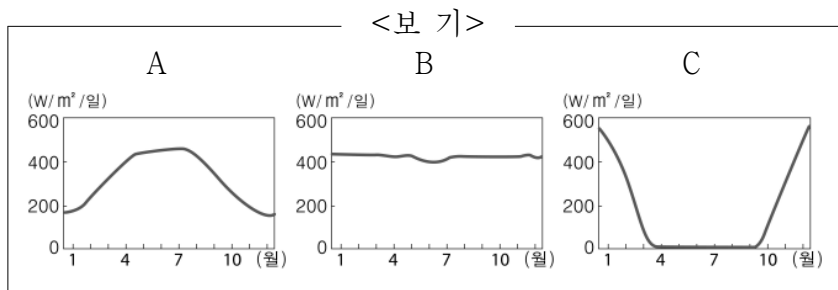

제 4 교시 사회탐구 영역(세계 지리)

성명 수험 번호 3

1

- 자신이 선택한 과목의 문제지인지 확인하시오.
- 문제지의 해당란에 성명과 수험 번호를 정확히 쓰시오.
- 답안지의 해당란에 성명과 수험 번호를 쓰고, 또 수험 번호와 답을 정확히 표시하시오.
- 선택한 과목 순서대로 문제를 풀고, 답을 표시하시오.
- 문항에 따라 배점이 다르니, 각 물음의 끝에 표시된 배점을 참고하시오. 3점 문항에만 점수가 표시되어 있습니다. 점수 표시가 없는 문항은 모두 2점입니다.

1. 그림은 인터넷으로 대화를 나누는 장면이다. (가), (나) 지역의 일사량 분포를 <보기>에서 고른 것은?



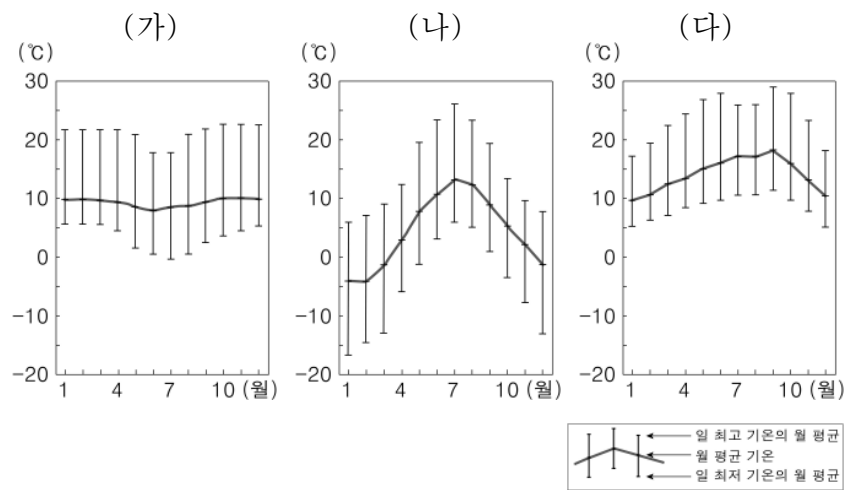
- | | | | | | |
|---|-----|-----|---|-----|-----|
| | (가) | (나) | | (가) | (나) |
| ① | A | B | ② | A | C |
| ③ | B | A | ④ | B | C |
| ⑤ | C | B | | | |

2. 다음 글의 밑줄 친 (가)에 들어갈 기후 현상과 관련된 내용으로 적절하지 않은 것은?

비에레는 그린란드의 척박한 땅에 살고 있다. 그가 사는 마을은 여름이 짧고 9월만 되면 차가운 얼음으로 덮였었는데, (가) (으)로 인해 최근 영구 동토층의 범위가 축소되고 농사가 가능하게 되었다. 설원에서 수렵을 했던 비에레는 지금 채소를 재배하는 농부가 되었다. 마을에는 비에레처럼 농업에 종사하는 사람이 늘어나고 있다.

- 알프스 산지의 빙하 범위가 축소되고 있다.
- 침엽수림의 분포 한계가 고위도로 이동하고 있다.
- 북극 항로를 이용할 수 있는 기간이 길어지고 있다.
- 해발고도가 낮은 섬나라들은 수몰 위기에 처해 있다.
- 태평양 주변 국가들의 지진 해일 피해가 증가하고 있다.

3. 그래프의 (가)~(다) 지역에 대한 설명으로 옳은 것은? [3점]



- (가)는 연교차보다 일교차가 크다.
- (나)는 남반구에 위치한다.
- (가)는 (다)보다 연평균 기온이 높다.
- (다)는 (나)보다 연교차가 크다.
- (가)는 열대, (나)는 온대 기후에 속한다.

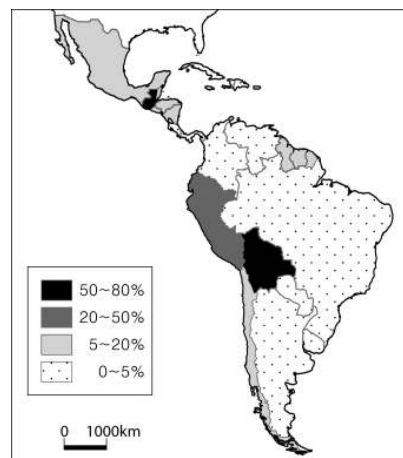
4. 표는 북아메리카 여러 지역의 기후 자료이다. (가)~(마) 지역에 대한 설명으로 옳은 것은? [3점]

(단위 : °C, mm)

지역	최난월 평균 기온	최한월 평균 기온	월 최대 강수량	월 최소 강수량	연 강수량
(가)	23.0	-1.3	48.0	13.0	394.0
(나)	24.7	-0.2	103.4	72.7	1,068.8
(다)	17.8	9.2	110.5	0.9	501.6
(라)	19.8	-18.4	84.0	19.0	503.0
(마)	4.1	-25.2	24.0	4.0	112.0

- (가) - 넓은 초원에서 기업적 방목이 행해진다.
- (나) - 여름철이 건조하여 수목 농업이 발달한다.
- (다) - 바나나, 커피 등이 플랜테이션으로 재배된다.
- (라) - 노동력이 저렴하여 목화 농업이 행해진다.
- (마) - 소비 시장과 가까워 낙농업이 발달한다.

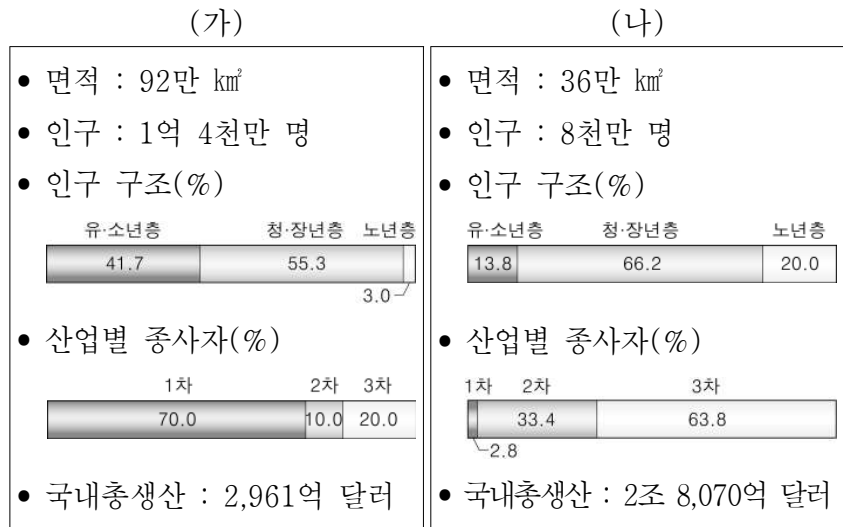
5. 지도는 어느 인종이 각 국가에서 차지하는 비율을 나타낸 것이다. 이 인종에 대한 설명으로 옳은 것은? [3점]



- 노예 무역으로 강제 이주되었다.
- 잉카 및 마야 문명을 발달시켰다.
- 원주민과 백인과의 혼혈 인종이다.
- 16세기 이후 유럽에서 이주해 왔다.
- 대부분의 국가에서 상류층을 형성하고 있다.

사회탐구 영역(세계 지리)


6. 자료의 (가) 국가에 비해 (나) 국가에서 뚜렷이 나타나는 특징으로 옳은 것은?



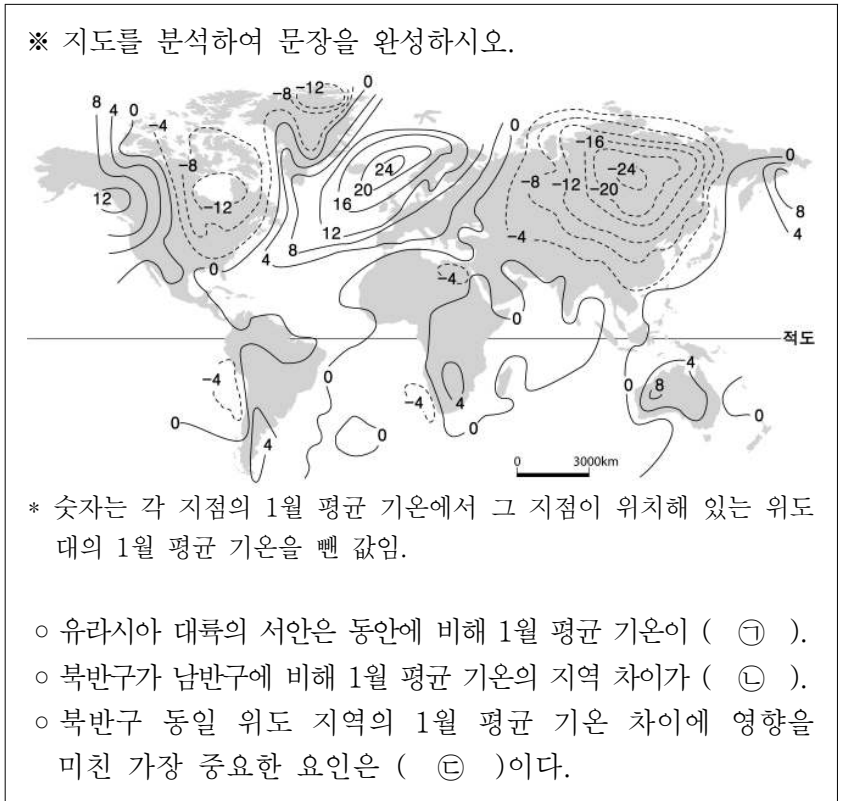
- ① 인구 밀도가 낮다.
- ② 도시 인구 비율이 낮다.
- ③ 농업 종사자 수가 많다.
- ④ 1인당 국민 소득이 낮다.
- ⑤ 노년 인구 부양비가 크다.

7. 다음 글의 밑줄 친 지형 형성 작용의 결과 나타나는 지형의 사례로 가장 적절한 것은?

증발량이 강수량보다 많은 지역에서는 바람이 지형 형성에 중요한 역할을 한다. 바람은 다양한 크기의 모래를 운반한다. 모래는 입자 크기에 따라 운반되는 방식이 다르다. 굵은 모래는 지표면 가까이에서, 가는 모래는 좀 더 높이 떠서 운반된다. 이렇게 운반되는 모래에 의해 침식이 이루어질 경우, 같은 암석이라도 차별적으로 침식이 진행되는 경우가 많다.



8. 자료의 ㉠~㉣에 들어갈 내용으로 옳은 것은? [3점]



- | | | | |
|---|----|----|------|
| | ㉠ | ㉡ | ㉢ |
| ① | 높다 | 크다 | 수륙분포 |
| ② | 낮다 | 크다 | 수륙분포 |
| ③ | 높다 | 작다 | 수륙분포 |
| ④ | 낮다 | 작다 | 해발고도 |
| ⑤ | 높다 | 크다 | 해발고도 |

9. 표는 주요 에너지 자원의 국가별 생산 비중을 나타낸 것이다. (가)~(다) 자원의 특징을 비교하여 바르게 표현한 것은? [3점]

(단위 : %)

순위	(가)		(나)		(다)	
	국가	비중	국가	비중	국가	비중
1위	중국	41.1	사우디아라비아	12.7	러시아	20.6
2위	미국	18.7	러시아	12.6	미국	18.8
3위	오스트레일리아	6.9	미국	8.0	캐나다	6.2
4위	인도	5.8	이란	5.4	이란	3.8
5위	남아프리카공화국	4.8	중국	4.8	노르웨이	3.0

(국제 통계 연감, 2008년)

	항목	(가)	(나)	(다)
①	국제 이동량			
②	대기 오염 물질 배출량			
③	본격적으로 이용된 시기			
④	세계 전체에서 소비되는 양			
⑤	주로 매장되어 있는 지층의 형성 시기			

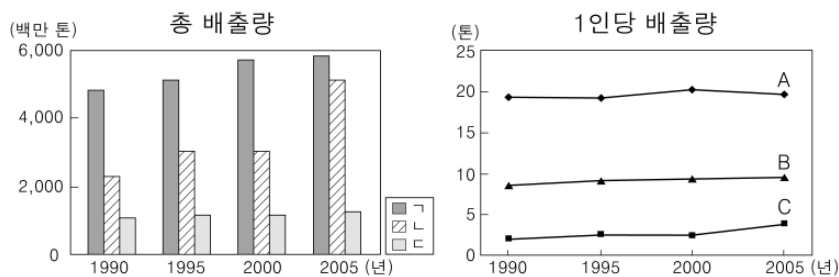
■ 많음(오래됨) ■ 중간 □ 적음(최근)

사회탐구 영역(세계 지리)

세계 지리

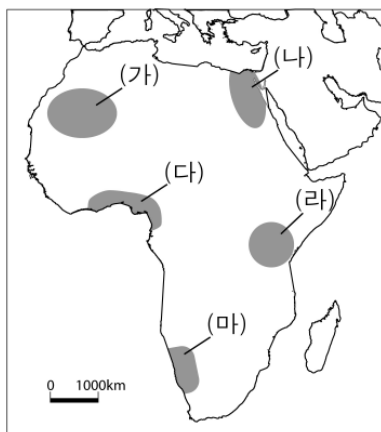
10. 다음 (가)~(다) 국가의 이산화탄소 배출량을 그래프에서 고른 것은? [3점]

- (가) 개혁 개방 정책으로 공업이 빠르게 성장하여 '세계의 공장'이라고 불린다. 최근 경제 성장으로 화석 에너지의 소비량이 급증하고 있다.
- (나) 2차 세계 대전에서 패전하여 산업 시설이 파괴되었으나, 경제 선진국으로 발전하였다. 에너지 해외 의존도가 높고 태평양 연안 지역에 공업이 발달하였다.
- (다) 각종 자원이 풍부하게 매장되어 있으나 에너지 자원 수입량이 많다. 최근 스노벨트 지역은 쇠퇴하고, 선벨트 지역이 성장하고 있다.



- (가) (나) (다) (가) (나) (다)
- ① ㄱ, A ㄴ, B ㄷ, C ② ㄴ, B ㄷ, A ㄱ, C
- ③ ㄴ, C ㄷ, B ㄱ, A ④ ㄷ, A ㄱ, C ㄴ, B
- ⑤ ㄷ, B ㄴ, C ㄱ, A

11. (가)~(마) 지역의 관광 홍보 내용으로 적절하지 않은 것은?



- ① (가) - 낙타와 함께 사막 종단, 사구에서 보드 타기
- ② (나) - 고대 문명의 유적지, 웅장한 이슬람 사원
- ③ (다) - 열대 우림 탐험, 카카오 농장 견학
- ④ (라) - 동물의 왕국, 사바나에서의 사파리 관광
- ⑤ (마) - 피오르 해안 일주, 설원 속의 온천탕

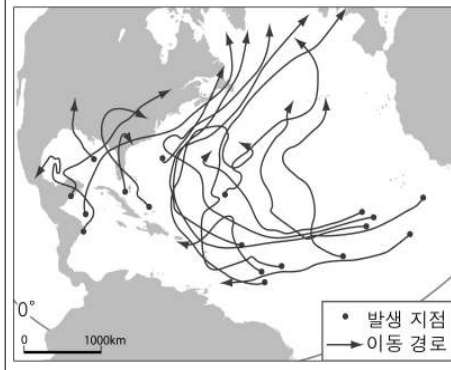
12. 그림은 어느 국가에 대한 지리 수업 장면이다. 발표 내용이 옳지 않은 학생은?



- ① 갑: 이촌향도 현상으로 도시 인구가 증가하고 있어요.
- ② 을: 공업이 발달하면서 자원 수입량이 증가하고 있어요.
- ③ 병: 인구 증가를 억제하기 위해 출산을 제한하고 있어요.
- ④ 정: 에너지 소비 구조에서 석유보다 석탄 사용 비중이 커요.
- ⑤ 무: 경제가 성장하면서 해안과 내륙의 소득 격차가 줄었어요.

13. 자료는 세계 지리 서술형 시험 문제와 학생이 작성한 답안이다. 이 학생이 감점을 받은 항목은?

<서술형 1> 지도는 한 해 동안 발생한 어떤 바람의 이동 경로를 나타낸 것이다. 이 바람에 대하여 서술하시오. (단, 채점 기준을 고려할 것) [각 1점 / 총 5점]



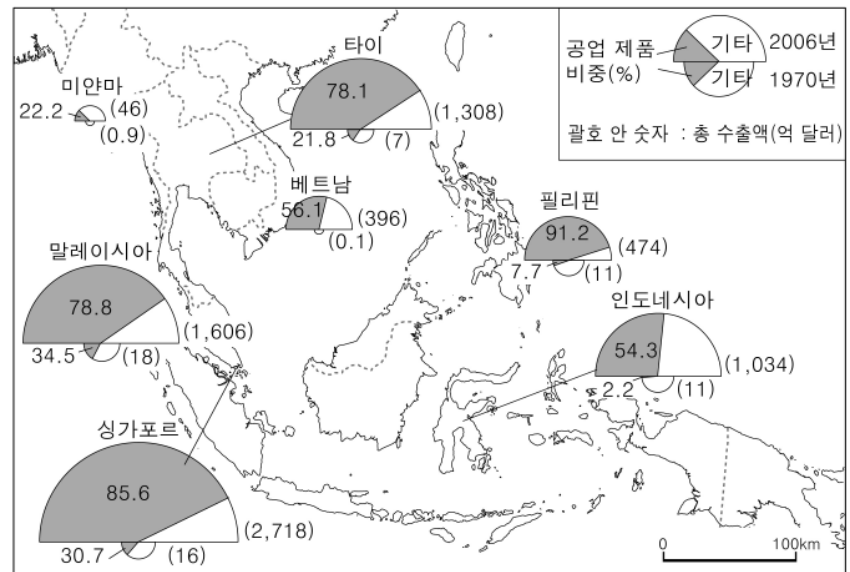
채점 기준	
바람의 이름	- (가)
발생 지역	- (나)
바람의 특징	- (다)
영향을 미치는 계절	- (라)
인간에게 미치는 피해	- (마)

번호	답	점수
1	이 바람은 페리케인이며, 적도 부근의 바다에서 발생한 열대 저기압이다. 겨울에 주로 영향을 미치며, 강한 바람과 폭우를 동반하여 풍수해를 유발한다.	04

- ① (가) ② (나) ③ (다) ④ (라) ⑤ (마)

14. 자료는 동남 아시아 국가 연합의 무역에 관한 것이다. 이를 분석한 내용으로 옳지 않은 것은? [3점]

<동남 아시아 국가 연합 주요 국가별 수출액 변화>



<동남 아시아 국가 연합의 주요 무역 상대국(2006년)>

무역 상대국 (지역)	무역 비중(%)		무역 상대국 (지역)	무역 비중(%)	
	수출	수입		수출	수입
동남 아시아 국가 연합	25.2	25.0	대한민국	3.4	4.1
일본	10.8	12.3	오스트레일리아	3.1	2.0
미국	12.9	9.8	인도	2.5	1.5
유럽 연합	12.6	10.1	기타	20.8	23.7
중국	8.7	11.5	합계(억 달러)	7,587	6,541

- ① 대부분 국가들에서 공업화에 의한 경제 성장이 있었다.
- ② 미국 및 유럽 연합과의 교역에서 흑자를 내고 있다.
- ③ 태평양 연안 국가들에 대한 무역 의존도가 높다.
- ④ 중국보다 일본에 대한 무역 비중이 높다.
- ⑤ 수출액 증가율은 싱가포르가 가장 높다.

사회탐구 영역(세계 지리)

15. 자료의 밑줄 친 (가)에 들어갈 내용으로 옳은 것을 <보기>에서 고른 것은?

사회자: 이 국가를 여행하고 느낀 소감을 말씀해 주시죠.
 마르크: 이 국가를 겨울에 여행했는데, 그렇게 춥지 않았어요. 바다에서 바람이 불어 비가 내릴 때에도 따뜻했지요. 온도가 발달된 베네치아와 화산의 흔적이 고스란히 남아있는 폼페이가 특히 인상적이었어요. 특산물인 올리브와 포도주를 먹을 수 있어서 즐거웠고, 음식을 먹은 후 우리 나라에서 사용하는 유로화를 그대로 지불할 수 있어 편리했어요.

사회자: 그렇다면, 이 국가는 _____ (가)
 마르크: 예, 그렇습니다.

<보 기>

- ㄱ. 고기조산대에 해당하겠군요.
- ㄴ. 유럽 연합에 가입되어 있겠군요.
- ㄷ. 일 년 내내 무역풍의 영향을 받겠군요.
- ㄹ. 여름보다 겨울에 비가 더 많이 오겠군요.

- ① ㄱ, ㄴ ② ㄱ, ㄷ ③ ㄴ, ㄷ ④ ㄴ, ㄹ ⑤ ㄷ, ㄹ

16. 다음 글의 ㉠~㉣에 관한 설명으로 옳지 않은 것은?

서남 아시아 국가들이 지역 발전을 위해 해결해야 할 중요한 과제 중 하나는 수자원 확보이다. ㉠물 공급이 부족할 뿐만 아니라 ㉡물 소비량이 크게 증가하고 있기 때문이다. 그래서 폭이 4~5m밖에 안 되는 ㉢요르단 강과 같은 소규모 하천도 매우 중요한 수자원이 된다.

수자원 문제를 해결하기 위해 각 국가들은 다양한 노력을 하고 있다. 페르시아 만 국가들은 식수를 확보하기 위해 ㉣해수 담수화 시설을 마련하였으며, 터키는 ㉤아나톨리아 프로젝트*와 같은 대규모 수자원 개발 사업을 진행 중이다.

* 아나톨리아 프로젝트 : 티그리스·유프라테스 강 상류에 22개의 댐을 건설하는 사업임.

- ① ㉠ - 아열대 고압대의 영향으로 강수량이 적기 때문이다.
- ② ㉡ - 인구가 증가하고 관개 농지가 넓어지고 있기 때문이다.
- ③ ㉢ - 하천 유역 개발을 위해 이스라엘과 팔레스타인의 협력이 강화되고 있다.
- ④ ㉣ - 사우디아라비아, 쿠웨이트 등의 담수화 사업에 우리나라 기업이 참여하고 있다.
- ⑤ ㉤ - 농업 용수 확보 및 전력 생산을 목표로 한다.

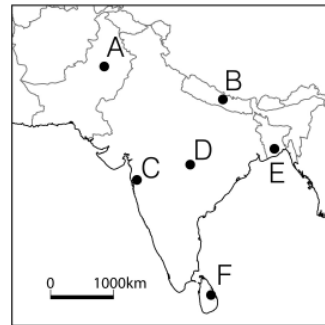
17. 다음 글의 밑줄 친 '이곳'에 해당하는 도시는? (단, 우리나라의 표준시는 135°E를 기준으로 함.) [3점]

인천 국제 공항을 이륙하여 약 10시간 후 이곳에 도착하니 약간 쌀쌀한 날씨에 가랑비가 흩날렸다. 이곳은 서울보다 1시간밖에 빠르지 않아 시차 적응에는 어려움이 없었다. 시내를 둘러보니 북쪽을 향하고 있는 집들이 많았는데, 북향집이 햇빛을 많이 받을 수 있기 때문이라고 한다.

- ① 캔버라(35°S, 149°E) ② 웰링턴(41°S, 175°E)
- ③ 마가단(59°N, 150°E) ④ 앵커리지(61°N, 150°W)
- ⑤ 로스앤젤레스(34°N, 118°W)

18. 자료는 학생들이 제출한 지리 조사 계획이다. (가), (나) 모두에서 조사하고자 하는 지역을 지도에서 고른 것은?

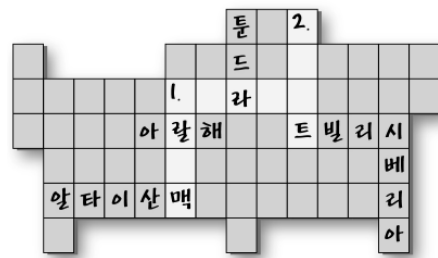
모둠	조사 주제	조사 목적
(가)	삼각주와 주민 생활	쌀이 많이 생산되고 홍수 피해가 자주 발생하는 이유를 알아본다.
(나)	산업 발달 배경	면방직 공업의 중심지가 정보·통신 산업의 중심지로 변화한 이유를 알아본다.



- (가) (나)
- ① A C
 - ② A D
 - ③ B D
 - ④ E C
 - ⑤ E F

19. 교사가 학생들에게 제시한 학습지의 일부이다. 밑줄 친 (가)에 들어갈 내용으로 옳은 것은? [3점]

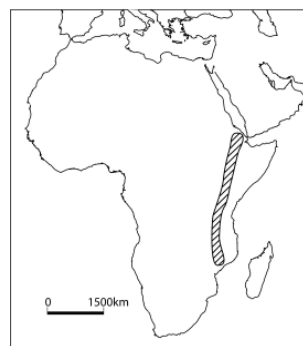
<퍼즐로 학습 내용 정리하기>



세로1. 러시아 평원과 서시베리아를 구분해 주는 고기 습곡 산지
 세로2. '기업 집단의 형태'라는 뜻, 광물·동력 자원이 결합된 공업 지역
 가로1. 풍부한 철광석과 석탄을 바탕으로 중화학 공업이 발달한 러시아 주위 국가, (가)

- ① 사막이 넓게 발달함.
- ② 주민들은 대부분 무슬림임.
- ③ 비옥한 흑토가 넓게 분포함.
- ④ 지진과 화산 활동이 빈번함.
- ⑤ 우리나라 동포가 가장 많이 분포함.

20. 지도의 빗금 친 지역을 여행하면서 메모한 내용이다. 이 지역의 지형에 대한 옳은 설명을 <보기>에서 고른 것은? [3점]



<세계에서 가장 긴 지구대>

- 길이 약 4,000km의 골짜기
- 많은 호수와 장엄한 폭포들
- 아이슬란드에도 비슷한 지형 발달

<보 기>

- ㄱ. 교통로로 이용된다. ㄴ. 신기 습곡 산지이다.
- ㄷ. 화산 활동이 활발하다. ㄹ. 지각판 충돌로 형성되었다.

- ① ㄱ, ㄴ ② ㄱ, ㄷ ③ ㄴ, ㄷ ④ ㄴ, ㄹ ⑤ ㄷ, ㄹ

※ 확인 사항
 문제지와 답안지의 해당란을 정확히 기입(표기)했는지 확인하십시오.