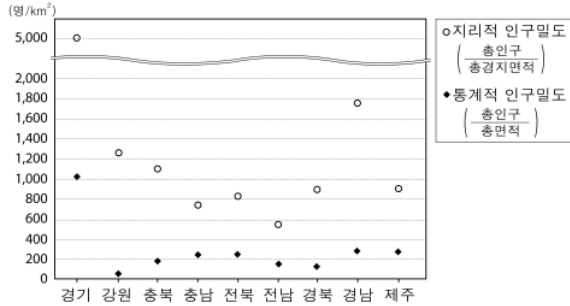


사회탐구 영역(한국 지리)

17. 그림은 도별 인구밀도를 나타낸 것이다. 이에 대한 옳은 설명을 <보기>에서 고른 것은?



- <보 기>
- ㄱ. 충북은 충남에 비해 경지율이 낮다.
 - ㄴ. 경기도는 도시화율이 높아 지리적 인구밀도가 높다.
 - ㄷ. 경남은 강원보다 임야 면적이 넓어 지리적 인구밀도가 높다.
 - ㄹ. 통계적 인구밀도가 높은 도(道)일수록 지리적 인구밀도가 높다.

- ① ㄱ, ㄴ ② ㄱ, ㄷ ③ ㄴ, ㄷ ④ ㄴ, ㄹ ⑤ ㄷ, ㄹ

18. 자료에 제시된 과제를 수행한 내용이 옳은 것은? [3점]

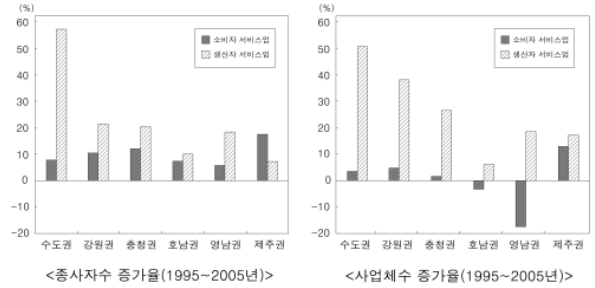
수행 평가 안내 : 지도를 분석하여 과제를 수행한다.

<시·군·구별 인구 이동(2005년)>

- 과제1: 인구 이동의 특징을 서술한다.
- 과제2: 이와 같은 특징이 나타나게 된 배경을 파악하기 위한 탐구 주제를 설정한다.

- | 과제1 | 과제2 |
|--------------------------------|-------------------------|
| ① 광역시를 축으로 하는 근거리 이동이 많다. | 경부 고속 철도의 개통이 끼친 영향 |
| ② 충청권은 수도권과의 인구 이동이 가장 활발하다. | 서울 소재 대기업 본사의 이전 현황 |
| ③ 권역 내 이동은 수도권에서 가장 많이 이루어진다. | 위성 도시 및 신도시의 성장 과정 |
| ④ 강원권은 다른 권역에 비해 평균 이동 거리가 멀다. | 거주지의 교외화가 통근권 확대에 미친 영향 |
| ⑤ 원거리 이동이 근거리 이동보다 이동 인구수가 많다. | 이촌 향도 현상의 둔화 원인 |

19. 자료를 분석한 내용으로 옳은 것만을 <보기>에서 있는 대로 고른 것은? [3점]

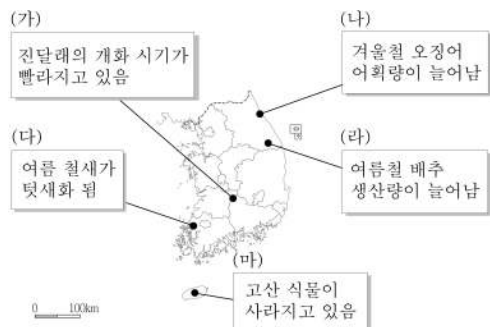


- <보 기>
- ㄱ. 강원권의 생산자 서비스업체당 종사자수는 감소하였다.
 - ㄴ. 영남권은 소비자 서비스업체수의 감소로 종사자수도 감소하였다.
 - ㄷ. 생산자 서비스업의 종사자수와 사업체수 증가율이 가장 높은 곳은 수도권이다.
 - ㄹ. 종사자수 증가율은 전 지역에서 생산자 서비스업이 소비자 서비스업보다 높다.

- ① ㄱ, ㄴ ② ㄱ, ㄷ ③ ㄴ, ㄹ
④ ㄱ, ㄷ, ㄹ ⑤ ㄴ, ㄷ, ㄹ

20. 다음 글과 관련된 현상으로 적절하지 않은 것을 그림의 (가)~(마)에서 고른 것은?

북극에 사는 바다코끼리의 송곳니는 원래 유빙 위로 올라 설 때 몸을 끌어당기거나 새끼와의 관계를 돈독히 하는 데 쓰인다. 그러나 최근에는 작아진 유빙 위에 더 많은 바다코끼리들이 모여 앉아 영역 싸움을 하는 바람에 상대를 위협하는 수단으로 이용하는 경우가 더 많아졌다. 바다코끼리 이외에도 북극곰, 일각고래 등은 줄어든 얼음 때문에 먹이를 구하기 힘들어졌으며, 서로 간에 영역을 차지하기 위한 다툼이 심해졌다.



- ① (가) ② (나) ③ (다) ④ (라) ⑤ (마)

※ 확인 사항
문제지와 답안지의 해당란을 정확히 기입(표기)했는지 확인하십시오.