

# 사회탐구 영역(세계사)

## 제 4 교시

성명

수험번호

3

1

- 먼저 수험생이 선택한 과목의 문제지인지 확인하시오.
- 반드시 자신이 선택한 과목의 문제지를 풀어야 합니다.
- 문제지에 성명과 수험 번호를 정확히 기입하시오.
- 답안지에 수험 번호, 선택 과목, 답을 표기할 때에는 반드시 ‘수험생이 지켜야 할 일’에 따라 표기하시오.
- 문항에 따라 배점이 다르니, 각 물음의 끝에 표시된 배점을 참고하시오. 3점 문항에만 점수가 표시되어 있습니다. 점수 표시가 없는 문항은 모두 2점씩입니다.

### 1. 자료와 관련한 시대의 생활 모습에 대한 설명으로 옳은 것은?



당시 사람들은 큰 짐승을 잡고 싶어 하면서도 한편으로는 두려워하였다. 그래서 사냥감의 번성과 성공적인 사냥을 기원하는 마음으로 바위나 동굴의 벽에 동물의 모습을 그리기 시작하였다.

- ① 베틀과 북을 이용하여 옷을 짜 입었다.
- ② 농작물을 경작하고 가축을 사육하였다.
- ③ 일정한 주거지 없이 이동 생활을 하였다.
- ④ 문자를 사용하여 교역 관계를 기록하였다.
- ⑤ 다양한 모양의 토기를 만들어 사용하였다.

### 2. 다음과 관련된 시대의 사회 모습에 대한 옳은 설명을 <보기>에서 고른 것은?

각 제후국들은 안으로는 군주권을 강화하고 부국 강병을 추구했으며, 밖으로는 약한 제후국을 병합하고 통일하려 하였다. 이에 전국 7웅의 주요 제후국들은 능력 있는 신하를 필요로 하였고 이러한 국가적 요구와 맞물리면서 능력 있는 인재들이 중용되었다.

< 보기 >

- ㄱ. 태평도, 오두미도와 같은 민간 신앙이 유행하였다.
- ㄴ. 도전, 포전 등 여러 종류의 청동 화폐를 사용하였다.
- ㄷ. 중앙에서 파견한 중정관이 지방의 인재를 추천하였다.
- ㄹ. 유가, 도가 등 난세를 극복하려는 다양한 사상이 등장하였다.

- ① ㄱ, ㄴ                      ② ㄱ, ㄷ                      ③ ㄴ, ㄷ
- ④ ㄴ, ㄹ                      ⑤ ㄷ, ㄹ

### 3. 다음 대화를 통해 알 수 있는 종교의 발생 배경으로 옳은 것은? [3점]

문 : 핵심 교리는 무엇입니까?

답 : 자비와 평등입니다. 브라만 계급의 특권과 신분 차별에 고통 받고 있는 많은 백성을 구제하고 싶습니다.

문 : 어떻게 하면 고통에서 벗어날 수 있을까요?

답 : 8정도를 올바르게 실천할 수만 있다면 신분을 초월하여 누구라도 완전한 자유 혹은 해탈의 즐거움을 누릴 수 있다는 것이 제 생각입니다.

- ① 크샤트리아와 바이샤 계급이 성장하였다.
- ② 인도의 혼란을 틈타 이슬람 세력이 침입하였다.
- ③ 굽타 왕조가 분열 상태의 북인도를 통일하였다.
- ④ 아소카 왕 때 마우리아 왕조가 전성기를 누렸다.
- ⑤ 카니슈카 왕 때 동·서를 연결하는 중계 무역이 번성하였다.

### 4. 자료는 어느 왕조에 대한 역사 신문이다. (가)에 들어갈 기사의 제목으로 적절한 것은? [3점]

역사신문

△△△△년

---

○○ 왕조 특집 - 개창에서 멸망까지

750년에 마르완 2세를 무찌르고 왕조 개창  
1258년 몽골족의 침입으로 멸망

○○ 왕조는 수도 바그다드를 중심으로 성장하여, 탈라스 전투에서 승리하는 등 번영을 누렸으나, 9세기에 접어들면서 약화되다가 몽골족의 침입으로 멸망하였다. ... (중략) ... 이번 호에서는 ○○ 왕조의 기획 기사를 실는다.

<p>○○ 왕조 기획 기사</p> <p>정치 : (가) ...2면</p> <p>경제 : 비단길 장악 ...3면</p> <p>서평 : 아라비안 나이트 ...4면</p>	<p>◎ 명소 탐방</p> <p>- ○○ 사원</p>
--	-------------------------------

- ① 셀주크 투르크, 술탄의 칭호 획득!
- ② 오미야드 가문, 칼리프 지위를 세습!
- ③ 비아랍 인의 관직 진출, 드디어 허용!
- ④ 이슬람 세계, 시아파와 수니파로 분열!
- ⑤ 헤지라에서 돌아온 무함마드, 메카에 입성!

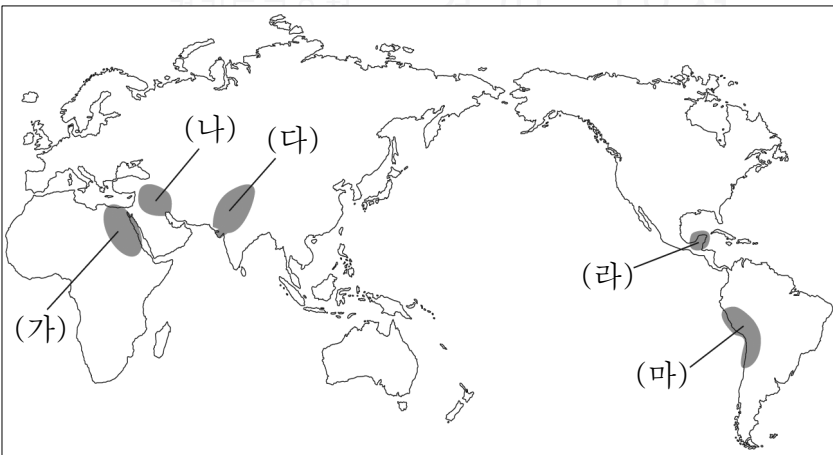
5. 다음을 통해 알 수 있는 통치 체제에 대한 설명으로 옳은 것은?

성왕은 주 왕실을 안정시키고 주공(周公)의 아들을 노 나라 제후로 삼아 지배하게 하고 곡부를 그의 영지로 봉하였다. 이를 시작으로 새로 정복한 영토를 일족과 공신에게 분봉하고 혈연적인 조직 원리에 기초하여 국가를 운영하였다.

- ① 종법을 기초로 한 주종 관계를 중시하였다.
- ② 전국을 군현으로 나누고 관리를 파견하였다.
- ③ 동중서의 건의를 수용하여 유교를 국교화하였다.
- ④ 수도 근방은 관리를 파견하고, 먼 지방은 제후를 봉하였다.
- ⑤ 토지를 매개로 보호와 봉사의 계약 관계를 맺어 운영하였다.

6. 다음의 판서 내용과 관련된 지역을 지도에서 찾으시오?

○○ 문명  
 - 전성기 : 300~900년경  
 - 특 징 : 그림 문자, 20진법 사용  
           옥수수 재배  
           천문학과 수학 발달  
 - 멸 망 : 16세기 에스파냐의 침략으로 멸망




- ① (가)      ② (나)      ③ (다)      ④ (라)      ⑤ (마)

7. 밑줄 친 ㉠ ~ ㉥에 대한 설명으로 옳지 않은 것은? [3점]

그는 ㉠이사를 기용하여 천하를 통일하고 스스로 황제라 칭하였다. 안으로는 법령을 정비하고, ㉡여러 가지 통일 정책을 시행하였으며, ㉢분서 강유를 단행하여 사상을 탄압하였다. 밖으로는 ㉣영토를 확장하여 중국 영토의 원형을 이루었다. 그러나 무리한 토목 공사와 가혹한 통치로 백성의 고통을 가중시켜 그의 사후 ㉤농민 반란이 일어났다.

- ① ㉠ : 법치에 의한 부국 강병책을 건의하였다.
- ② ㉡ : 문자, 도량형, 화폐 등을 통일하였다.
- ③ ㉢ : 한(漢)대에 훈고학이 발달하는 배경이 되었다.
- ④ ㉣ : 흉노를 토벌하고 만리장성을 축조하였다.
- ⑤ ㉤ : 황건적이 주도하여 전국으로 확산되었다.

8. 자료와 관련한 왕조의 문화에 대한 옳은 설명을 <보기>에서 고른 것은? [3점]



낙타와 낙타를 타고 있는 악사들의 옷차림새, 수염, 얼굴 표정 등은 당시 수도 장안을 휩쓸던 이국 정서를 잘 보여준다. 이러한 도기는 대체로 백색, 녹색, 갈색의 3색으로 배합된 것이 많아 삼채라 불리었다.

< 보기 >

- ㄱ. 독립철현으로 대표되는 청담 사상이 유행하였다.
- ㄴ. 서역에서 조로아스터 교, 네스토리우스 교가 전래되었다.
- ㄷ. 인간의 본성과 우주의 원리를 밝히려는 신유학이 등장하였다.
- ㄹ. 한자, 율령 체제 등을 공통으로 하는 문화권 형성에 영향을 끼쳤다.

- ① ㄱ, ㄴ                      ② ㄱ, ㄷ                      ③ ㄴ, ㄷ
- ④ ㄴ, ㄹ                      ⑤ ㄷ, ㄹ

9. 밑줄 친 (가)에 들어갈 내용으로 적절한 것은?

티그리스 강과 유프라테스 강 사이의 유역은 개방적인 지리 조건으로 인하여 다른 민족과의 교섭이 활발하였으나, 한편으로는 이민족의 침략을 많이 받아 국가의 흥망이 거듭되었다. 이처럼 불안하고 유동적인 정세로 인하여 이곳에서는 \_\_\_\_\_ (가)

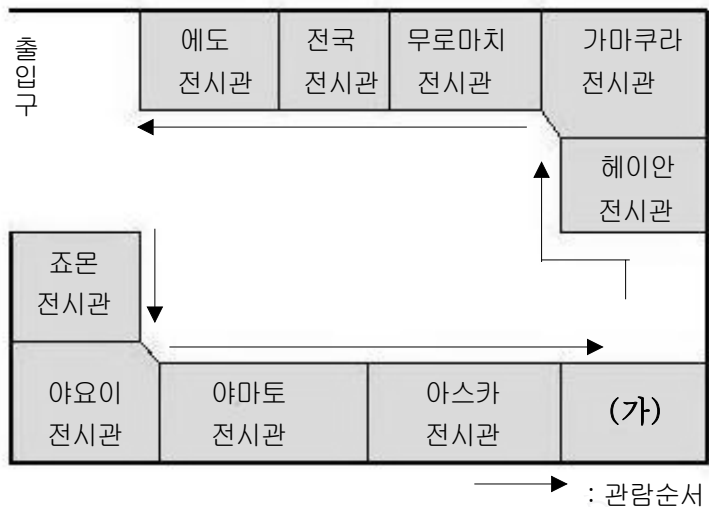
- ① 태양신 라를 주신으로 숭배하였다.
- ② 점복의 내용을 갑골에 기록하였다.
- ③ 물, 불 등의 자연을 찬미하는 베다를 만들었다.
- ④ 시체를 미라로 만들고 사자의 서와 함께 매장하였다.
- ⑤ 현세의 삶과 운명을 중시하는 길가메시 서사시를 남겼다.

10. 다음 사건의 결과로 나타난 역사적 사실로 옳은 것은? [3점]

국가 발전과 더불어 평민의 수가 늘어나고 그 일부는 귀족과 동등한 경제력을 소유하기도 하였다. 동시에 평민을 주력 부대로 하여 만든 중장 보병은 기병을 대신하여 전투에서 중요한 역할을 하게 되었다. 이에 평민은 정치·사회적 평등을 요구하면서 성산에 모여 농성을 하며 귀족과 투쟁하였다.

- ① 독재자의 출현을 방지하는 법이 제정되었다.
- ② 노예 노동에 의한 대농장 제도가 성행하였다.
- ③ 호민관을 설치하여 평민의 권리를 보호하였다.
- ④ 500인회가 설치되어 민주 정치의 기초가 마련되었다.
- ⑤ 혼란을 수습한 옥타비아누스에 의해 제정이 시작되었다.

11. 그림은 시대 순으로 배치된 가상의 일본 역사관 전시도이다. (가)에 들어갈 전시물로 가장 적절한 것은? [3점]



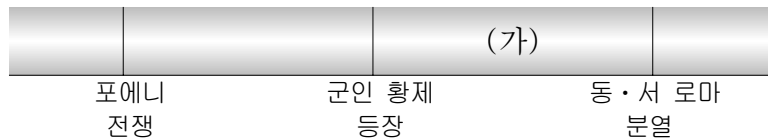
- ①
- ②
- ③
- ④
- ⑤

12. 다음 국가의 경제 정책으로 옳은 것은?

5호 16국의 혼란을 수습하고 화북 지방을 통일하였으나, 인구의 수적 열세와 문화적 차이로 정체성 유지에 한계를 느껴 적극적인 한화 정책을 실시하였다. 특히 효문제는 자기 성씨뿐만 아니라, 복식과 제도·의식·풍습 등도 중국식으로 바꾸었다.

- ① 노비 매매 금지 정책을 실시하였다.
- ② 자영농을 육성하기 위해 균전제를 실시하였다.
- ③ 균수법과 평준법을 실시하여 물가를 조절하였다.
- ④ 금·은과 함께 지폐인 교초를 화폐로 사용하였다.
- ⑤ 재산에 따라 차등 수취하는 양세법을 시행하였다.

13. 연표의 (가) 시기를 배경으로 로마에 대한 극화 수업을 할 때, 수업 장면으로 적절하지 않은 것은? [3점]



- ① 토지를 잃고 소작을 하는 콜로누스
- ② 로마군과 싸우는 스파르타쿠스 반란군
- ③ 국경 수비를 위해 이동하는 게르만 용병
- ④ 수도인 콘스탄티노플로 장사하러 가는 상인
- ⑤ 밀라노 칙령 반포에 기뻐하는 크리스트 교도

14. 다음과 관련된 국가의 문화에 대한 설명으로 옳지 않은 것은?

부족 단위의 촌락 공동체에서 시작하여 교역이 늘어나고 방위의 필요성이 커지면서 출현하였다. 그 중심부의 언덕에 위치한 아크로폴리스에는 신전이 건축되었고 그 밑에는 아고라라고 하는 넓은 광장이 있어서 시장과 공공 회합의 장소로 이용되었다.

- ① 올림피아 경기를 통해 동족 의식을 다졌다.
- ② 조화와 균형미를 갖춘 아테네 여신상을 제작하였다.
- ③ 인간의 모습과 감정을 가진 올림푸스 12신을 숭배하였다.
- ④ 트로이 전쟁을 주제로 한 일리아드와 오디세이가 쓰여졌다.
- ⑤ 스토아 학파와 에피쿠로스 학파 등의 철학 사조가 유행하였다.

15. 다음 상황의 역사적 배경으로 적절한 것을 <보기>에서 고른 것은? [3점]

이제부터 자자손손 삼가 신하된 자의 충의를 다하여 귀국 황제의 탄생일과 정월에는 예를 다하겠습니다. 세공으로는 은 25만 냥, 비단 25만 필을 소흥 12년(1142년)부터 해마다 봄에 찬저우로 가져가 상납하겠습니다. 만약 이 약속을 지키지 않을 때에는 내 목숨을 끊고 민족을 멸하고 나라를 멸망시켜도 좋습니다.  
- 중국 황제가 금 황제에게 보낸 편지 -

< 보기 >

- ㄱ. 지나친 문치주의로 군사력이 약화되었다.
- ㄴ. 보수파 관료와 대지주층의 반발로 변법이 실패하였다.
- ㄷ. 철도사의 난을 계기로 중앙 정부의 통치력이 약화되었다.
- ㄹ. 귀족들이 정권 투쟁을 위해 유목 민족의 병력을 끌어들였다.

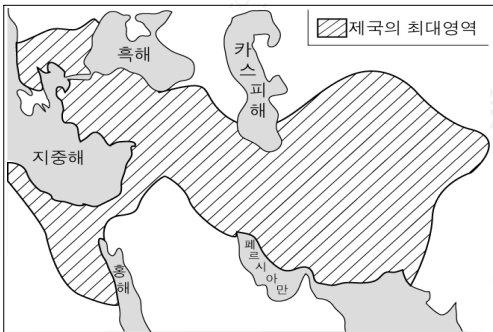
- ① ㄱ, ㄴ                      ② ㄱ, ㄷ                      ③ ㄴ, ㄷ
- ④ ㄴ, ㄹ                      ⑤ ㄷ, ㄹ

16. 밑줄 친 ‘이 시대’의 문화에 대한 탐구 주제로 적절하지 않은 것은? [3점]

이 시대의 인도 불상은 이전에 비하여 상당히 인도적으로 표현되었다. 서구적인 얼굴을 했던 불상들은 이제 인도인의 얼굴을 되찾았고, 옷 주름을 섬세하게 표현하던 이전과 달리 옷 주름의 선을 완전히 생략하고 인체의 윤곽을 그대로 드러내어 인도 고유 양식을 뚜렷하게 보여 주었다.

- ① ‘0’ 개념의 발견
- ② 마누 법전의 사상
- ③ 마하바라타의 종교적 역할
- ④ 우파니샤드 철학의 등장 배경
- ⑤ 아잔타 석굴 사원의 미술사적 의의

17. 밑줄 친 ‘그’가 추진한 정책을 <보기>에서 고른 것은? [3점]



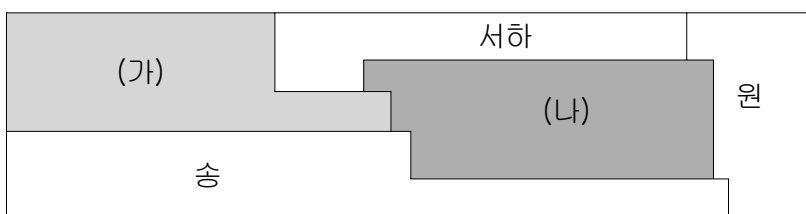
지도와 같이 유럽과 아시아, 아프리카에 걸친 제국을 세운 그는 “나는 민족과 인종, 국가를 떠나 세계가 평화롭게 하나로 통합되는 제국을 건설하겠다.”라고 말했다.

< 보기 >

- ㄱ. 그리스 인과 페르시아 인의 결혼을 권장하였다.
- ㄴ. 이교도의 종교를 허용하는 대신 인두세를 부과하였다.
- ㄷ. 알렉산드리아를 건설하고 그리스어를 공용어로 하였다.
- ㄹ. 이민족에게 관대하여 바빌론에 끌려 온 유대인을 풀어주었다.

- ① ㄱ, ㄴ                      ② ㄱ, ㄷ                      ③ ㄴ, ㄷ
- ④ ㄴ, ㄹ                      ⑤ ㄷ, ㄹ

18. 도표는 중국의 왕조 변천도의 일부이다. (가), (나) 왕조에 대한 사실로 옳은 것은?



- ① (가) - 파스파 문자를 만들어 공용 문자로 삼았다.
- ② (가) - 맹안·모극의 단위로 행정과 군사를 조직하였다.
- ③ (나) - 연운 16주의 지배권을 놓고 송과 대립하였다.
- ④ (나) - 자민족 제일주의 정책을 펴면서 색목인을 우대하였다.
- ⑤ (가), (나) - 고유 문화를 지키기 위해 이중 통치 정책을 실시하였다.

19. 자료를 통해 알 수 있는 시기의 경제 상황에 대한 설명으로 옳은 것은?



잡곡이 크게 유행하여 잡곡의 희곡이 시대를 대표하는 문학 형식으로 발전하였다. 이 희곡은 작가의 출신지나 노래의 격조에 따라 남·북곡으로 분류되는데, 남곡으로는 비파기, 북곡으로는 서상기가 대표작으로 꼽힌다.

- ① 상업이 발달하여 상인 조합인 행이 등장하였다.
- ② 화폐 경제가 발달하여 약속 어음인 비전이 출현하였다.
- ③ 역참제를 시행하여 육로를 통한 동서 무역이 활발하였다.
- ④ 참과벼가 강남 일대에 보급되어 벼의 2기작이 시작되었다.
- ⑤ 강남과 화북의 원활한 물자 유통을 위해 대운하 건설이 시작되었다.

20. 다음을 통해 알 수 있는 교역로와 관련된 역사적 사실로 옳은 것은?

포도·석류·오이·참깨·호두 등은 장건이 서역에서 들여왔거나 그가 개척한 경로를 따라 중국에 전해진 것들이다. 이 식물들은 대체로 페르시아 등 서역에서 들여왔다고 하여 그 이름에 호(胡)라는 글자가 붙어 있는데, 호과(오이)·호마(참깨)·호도(호두) 등으로 불린다.

- ① 바투가 유럽 원정에 이용하였다.
- ② 중국의 제지술이 유럽에 전해졌다.
- ③ 불교와 힌두 교가 동남 아시아에 전파되었다.
- ④ 스키타이의 청동기 문화가 우리 나라에 전해졌다.
- ⑤ 흉노가 이동하여 게르만 족의 서진을 유발하였다.

※ 확인사항

○ 문제지와 답안지의 해당란을 정확히 기입(표기)했는지 확인하십시오.