

5. 다음은 영아의 언어 발달 과정을 나타낸 것이다. (가), (나)에 들어갈 언어적 특징을 <보기>에서 골라 바르게 짝지은 것은? [3점]

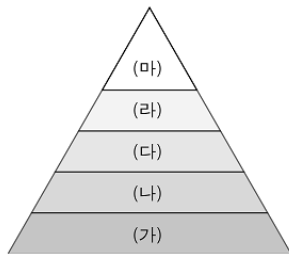
0~1개월	울음, 표정, 몸짓 등의 비언어적 의사 표현을 한다.
4~5개월	(가)
10~12개월	한 단어의 말을 사용하며, 의미 있는 말을 하게 된다.
13~24개월	(나)

< 보 기 >

ㄱ. 웅얼이를 한다.
 ㄴ. 과잉 일반화가 나타난다.
 ㄷ. 전보식 언어를 사용한다.
 ㄹ. 부정적인 개념을 표현할 때 '안'을 붙여 말한다.

- | | | |
|---|-----|-----|
| | (가) | (나) |
| ① | ㄱ | ㄴ |
| ② | ㄱ | ㄷ |
| ③ | ㄴ | ㄷ |
| ④ | ㄴ | ㄹ |
| ⑤ | ㄷ | ㄹ |

6. 그림은 매슬로의 위계적 욕구 단계를 나타낸 것이다. 이에 대한 옳은 설명을 <보기>에서 모두 고른 것은? [3점]



< 보 기 >

ㄱ. 인간의 자유의지와 자아실현에 대한 욕구를 강조한 인본주의 이론이다.
 ㄴ. 인간 발달에서 생물학적인 기초를 고려한 점이 긍정적으로 평가된다.
 ㄷ. (가)~(라)의 욕구가 단계적으로 충족되어야 (다)의 욕구가 이루어질 수 있다.
 ㄹ. "배고픈 사람에게는 음악회 티켓보다 식은 밥 한 그릇이 더 소중하다."라는 말은 (가)의 욕구에 해당한다.

- | | | |
|-----------|-----------|--------|
| ① ㄱ, ㄴ | ② ㄱ, ㄷ | ③ ㄴ, ㄷ |
| ④ ㄱ, ㄷ, ㄹ | ⑤ ㄴ, ㄷ, ㄹ | |

7. 다음은 분당실에 들어간 산모를 두고 사돈끼리 나눈 대화이다. 대화를 통해 알 수 있는 분당 방법은?

시어머니: 너무 걱정하지 마세요.
 어머니: 네. 사위가 함께 들어가서 조금 안심이 됩니다만.....
 시어머니: 출산 전에 부부가 함께 훈련을 받았잖아요.
 아편의 도움으로 호흡을 조절하여 안정을 찾아 순산할 수 있을 거예요.

- | | | |
|----------|------------|---------|
| ① 그네 분당 | ② 흡인 분당 | ③ 결자 분당 |
| ④ 라마즈 분당 | ⑤ 제왕 절개 분당 | |

8. 다음은 잡지 기사의 일부이다. (가), (나)와 관련 있는 청년기 심리 발달 특성을 바르게 짝지은 것은?

청년기의 자기중심성은 아이들을 반항하게 만들기도 하지만, 어린아이에서 어른으로 넘어가는 시기를 극복하는 에너지이기도 하다. (가)무슨 일이 일어나도 나는 무사할 것이라는 믿음 덕분에 난생 처음 겪는 위기도 용감하게 극복할 수 있고, 세상에 나만큼 소중한 존재가 따로 없다는 믿음 덕분에 자기 내면의 소리에 귀를 기울이면서 자기 성찰을 하고, (나)남들이 언제나 나를 주시하고 있다는 믿음 덕분에 아무리 외로워도 나는 혼자가 아니라고 여길 수 있기 때문이다. ... 후략 ...

- | | | |
|---|--------|--------|
| | (가) | (나) |
| ① | 조합적 사고 | 상상적 관중 |
| ② | 개인적 우화 | 조합적 사고 |
| ③ | 개인적 우화 | 상상적 관중 |
| ④ | 상상적 관중 | 조합적 사고 |
| ⑤ | 상상적 관중 | 개인적 우화 |

9. 다음 대화에서 두 아이에게 나타난 발달 특징으로 옳은 것은?



- | | | |
|---|-------|-----------|
| | (가) | (나) |
| ① | 자율성 | 만족 지연 |
| ② | 자율성 | 자아 통제 |
| ③ | 주도성 | 자아 통제 |
| ④ | 주도성 | 성 역할의 동일시 |
| ⑤ | 만족 지연 | 성 역할의 동일시 |

직업탐구영역


10 다음은 유아 돌보기 체험 일지이다. 학습 이론 관점에서 볼 때 대상 아이를 돌보는 방법으로 가장 적절한 것은? [3점]

유아 돌보기 체험 일지 000

대상	박다연(여, 3세)
일시	2007년 0월 0일 ~ 0월 0일
돌보기 방법	가. 미끄럼틀을 타고 놀게 하였다. 나. 역할을 분담해서 병원 놀이를 하였다. 다. 학습지를 이용하여 셈하기를 가르쳤다. 라. 혼자 수저 사용을 잘해서 칭찬해 주었다. 마. 자전거를 타고 싶어 해서 세발자전거를 주었다.

- ① 가 ② 나 ③ 다 ④ 라 ⑤ 마

11 다음은 '아버지 모임'의 토의 장면이다. 주제와 관련하여 바르게 말한 사람은? [3점]



- ① A, B ② A, D ③ B, C ④ B, D ⑤ C, D

12 다음은 어떤 학생의 수행평가 내용의 일부이다. 잘못 작성한 것은?

수행평가지 ○○○

◎ 직업 선택에 영향을 주는 요인

가. 적성 : 변하지 않음. 직업에서의 성공 여부를 결정지음.
 나. 지능 : 의사 결정 능력과 관계가 있어 직업 선택에 영향을 줌.
 다. 흥미 : 직업에 흥미가 크면 클수록 그 분야에서 성공할 확률이 높음.
 라. 부모의 영향 : 자녀의 직업에 대한 포부는 부모의 포부 수준과 무관함.

- ① 가, 나 ② 가, 라 ③ 나, 다 ④ 나, 라 ⑤ 다, 라

13 표는 중년기 위기에 대한 반응 양식을 제시한 것이다. (가)유형의 특징으로 옳은 것을 <보기>에서 모두 고른 것은? [3점]

	위기의 개방적 수용	위기의 부정·거부
만족	(가) 개방-만족	부정-만족
불만족	개방-불만족	부정-불만족

< 보 기 >

가. 자기중심적이고 자녀에게 허용적이다.
 나. 중년기를 성취나 완성의 시기로 본다.
 다. 대인 관계에서 적대감과 실망감이 크다.
 라. 문제에 대한 해결책을 발견하고 통제하는 능력이 있다.

- ① 가, 나 ② 나, 라 ③ 다, 라
 ④ 가, 나, 라 ⑤ 가, 다, 라

14 그림은 초등학교 학생들의 운동경기 모습이다. 이러한 운동 경기를 통해 이룰 수 있는 발달과업으로 옳은 것을 <보기>에서 모두 고른 것은?



< 보 기 >

가. 경쟁과 협동을 통해 사회성을 기른다.
 나. 활동적인 놀이를 통해 공격성을 기른다.
 다. 승리와 실패를 경험함으로써 성숙함을 키운다.
 라. 운동 중독 특성상 성 역할 고정관념을 얻는다.

- ① 가, 나 ② 가, 다 ③ 나, 다 ④ 나, 라 ⑤ 다, 라

15 다음은 어떤 노인이 노화에 대한 질문에 답한 결과이다. 이 노인이 노화에 적응하는 유형으로 옳은 것은?

※ 본 설문은 여러분들이 노화에 잘 적응하고 있는지 알아보기 위한 조사입니다. 해당하는 항목에 V 표시를 해 주십시오.

1. 노화에 대해 비교적 인정하는 편이다.	그렇다 (V) 그렇지 않다 ()
2. 경제적 도움을 거부하고 자립을 원한다.	그렇다 () 그렇지 않다 (V)
3. 자신이 보잘것없는 존재라는 생각이 든다.	그렇다 () 그렇지 않다 (V)
4. 은퇴하면 편안할 것 같아 은퇴를 고대한다.	그렇다 () 그렇지 않다 (V)
5. 과거에 대한 후회나 미래에 대한 두려움이 없다.	그렇다 (V) 그렇지 않다 ()

- ① 성숙형 ② 분노형 ③ 자학형
 ④ 흔들리지자형 ⑤ 무장방어형

직업탐구영역

16 다음은 신생아를 둔 부부의 대화이다. (가)에 들어갈 엄마의 대답으로 옳은 것을 <보기>에서 모두 고른 것은?



< 보 기 >

- ㄱ. 연습을 시키면 더 잘 할 수 있대요.
- ㄴ. 그런 행동은 6개월 후 놀람 반사로 대치된대요.
- ㄷ. 우리 아기의 신경계 기능이 정상적이라는 의미예요.
- ㄹ. 출생 시부터 나타나는데 그런 행동은 조금 더 크면 없어 진대요.

- ① ㄱ, ㄴ ② ㄱ, ㄷ ③ ㄴ, ㄷ ④ ㄴ, ㄹ ⑤ ㄷ, ㄹ

17 다음 퍼즐에서 가로 (가)에 들어갈 시기의 발달 내용으로 옳은 것을 <보기>에서 모두 고른 것은? [3점]

			신		<가로> (가) 수정란 착상 이후 8주까지의 시기 (나)
			생		
			아		
	(가)		기		

< 보 기 >

- ㄱ. 척추 등 신경계가 형성된다.
- ㄴ. 머리 크기가 신장의 반이 된다.
- ㄷ. 성기가 구분되며 호흡이 가능해진다.
- ㄹ. 지방층 형성으로 팔다리가 통통해진다.

- ① ㄱ, ㄴ ② ㄱ, ㄷ ③ ㄴ, ㄷ ④ ㄴ, ㄹ ⑤ ㄷ, ㄹ

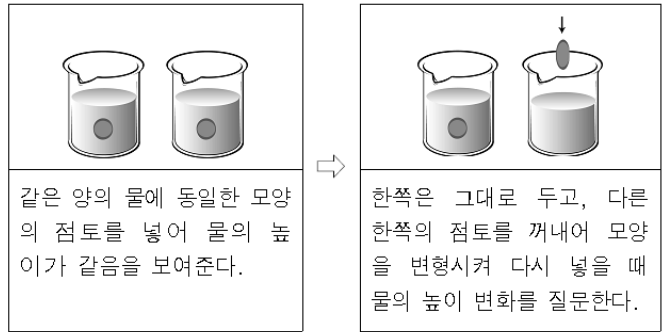
18 다음 문제들을 풀 때 사용되는 기억의 인출 방법을 바르게 짝지은 것은?

(가) 대한민국의 수도는 어디인가?
 (나) 워싱턴, 세비아, 마드리드 중 에스파냐의 수도는 어디인가?

(가) (나)

- ① 시연 암송
- ② 개인 회상
- ③ 회상 개인
- ④ 정교화 조직화
- ⑤ 조직화 부호화

19 다음은 아동의 인지 발달 정도를 알아보기 위한 실험이다. 이 실험으로 확인할 수 있는 내용으로 적절한 것은? [3점]



같은 양의 물에 동일한 모양의 점토를 넣어 물의 높이가 같음을 보여준다.

한쪽은 그대로 두고, 다른 한쪽의 점토를 꺼내어 모양을 변형시켜 다시 넣을 때 물의 높이 변화를 질문한다.

- ① 보존 개념 획득 여부
- ② 서열화 개념 획득 여부
- ③ 물체의 질감 비교 여부
- ④ 유독 간의 분류 개념 이해 여부
- ⑤ 전체와 부분 간의 관계 이해 여부

20 다음은 어떤 상황에 대한 도덕적 판단 과정이다. 콜버그의 이론을 적용할 때 진희와 진모의 도덕 단계는? [3점]

상황
 남편이 죽어가는 아내를 살리기 위해 약을 구하려 했으나 약값은 비쌌고, 약사는 싼 값에 팔려고 하지 않았다. 결국 남편은 약국 문을 부수고 약을 훔쳤다. 이 남편의 행동은 정당한가, 그렇지 않은가?

판단	진희 : () 도덕 단계 약을 훔친 건 벌 받을 일이다. 허락을 받지 않고 비싼 약을 훔치고 약국 문을 부수으로써 큰 손해를 입혔다. 따라서 약을 훔친 것은 정당하지 못하다.	진모 : () 도덕 단계 약을 훔치지 않았어야 한다. 아내가 죽는다고 해도 남편을 비난할 수는 없다. 그가 법을 지키는 것은 아내를 사랑하지 않기 때문이 아니다. 따라서 약을 훔친 것은 정당하지 못하다.
-----------	--	--

- | | | |
|---|-----------|-----------|
| | 진희 | 진모 |
| ① | 타율적 | 사회 체계 지향적 |
| ② | 개인주의적 | 보편 원리 지향적 |
| ③ | 상호 관계적 | 타율적 |
| ④ | 사회 체계 지향적 | 개인주의적 |
| ⑤ | 보편 원리 지향적 | 상호 관계적 |

※ 확인 사항

문제지와 답안지의 해당란을 정확히 기입(표기)했는지 확인하십시오.