

2007학년도 10월 고3 전국연합학력평가 문제지

제 4 교시 **직업탐구영역(회계원리)**

성명  수험번호           3

1


- 먼저 수험생이 선택한 과목의 문제지인지 확인하시오.
- 문제지에 성명과 수험 번호를 정확히 기입하시오.
- 답안지에 수험 번호, 선택 과목, 답을 표기할 때는 반드시 '수험생이 지켜야 할 일'에 따라 표기하시오.
- 문항에 따라 배점이 다르니, 각 물음의 끝에 표시된 배점을 참고하시오. 3점 문항에만 점수가 표시되어 있습니다. 점수 표시가 없는 문항은 모두 2점씩입니다.

1. 다음 내용에서 ○○주식회사의 회계단위 개수로 옳은 것은?

독립채산계를 채택하고 있는 ○○주식회사는 서울특별시  
에 본점을 두고 있다. 소비자의 만족도 향상과 자사 브랜드  
이미지 확대뿐만 아니라 물류비용을 절감시키기 위하여  
부산, 대구, 인천, 광주, 대전 광역시에 각각 1개씩의 지점  
을 개설하여 적극적인 마케팅 투자 전략을 추진하고 있다.  
\* 독립채산계: 한 기업 내에서 사업부별로 독립적으로  
손익계산을 하는 책임 경영 제도

- ① 1개    ② 2개    ③ 3개    ④ 5개    ⑤ 6개

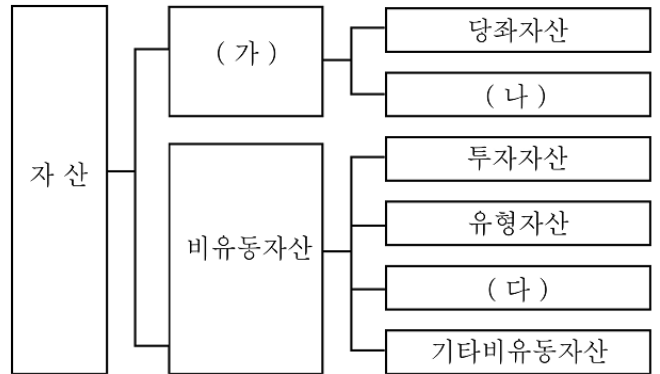
2. 그림은 수익에 관한 수업 장면이다. 교사의 질문에 대해 옳게  
답변한 학생을 <보기>에서 모두 고른 것은? [3점]



< 보 기 >  
철수: 호텔업의 객실료 수입이 해당됩니다.  
영희: 상품대매업의 건물 임대료도 있지요.  
길동: 부동산 중개업의 중개수수료도 포함됩니다.  
영철: 은행에서 고객에게 대출한 대출금에 대한 이자도 포함  
되겠네요.

- ① 철수    ② 영희    ③ 길동  
④ 철수, 영철    ⑤ 영희, 길동

3. 그림은 자산의 분류이다. (가)~(다)에 대한 설명으로 옳은 것을  
<보기>에서 모두 고른 것은?



< 보 기 >  
ㄱ. (가)는 장기간 투자활동에 이용할 목적으로 보유한다.  
ㄴ. (나)에는 상품, 제품, 반제품, 원재료, 저장품 등이 있다.  
ㄷ. (다)에는 토지, 건물, 산업재산권, 임차보증금 등을 포함한다.

- ① ㄱ    ② ㄴ    ③ ㄱ, ㄴ  
④ ㄱ, ㄷ    ⑤ ㄴ, ㄷ

4. 다음 분개장의 기입 내용에 해당되는 어음 용어로 옳은 것은?

분 개 장

날짜	적 요	원면	차 변	대 변
9 1	(대 입) (받을 어음) 상품을 대입하고 소지하고 있던 어음 지급	생 략	500,000	500,000

- ① 추심    ② 부도    ③ 할인  
④ 개서    ⑤ 배서양도

5. 기업회계기준에서 결산 시 감가상각비로 계상할 수 있는 것을  
<보기>에서 모두 고른 것은?

< 보 기 >  
ㄱ. 업무용 화물트럭 1대를 5백만 원에 현금으로 구입하다.  
ㄴ. 공장 부지로 3,000㎡(㎡당 5만 원)를 현금으로 대입하다.  
ㄷ. 투자 수익 목적으로 비업무용 임야를 10억 원에 현금으  
로 대입하다.  
ㄹ. 사업 확장을 위하여 건물을 신축하기로 하고, 계약금  
1천만 원을 현금 지급하다.

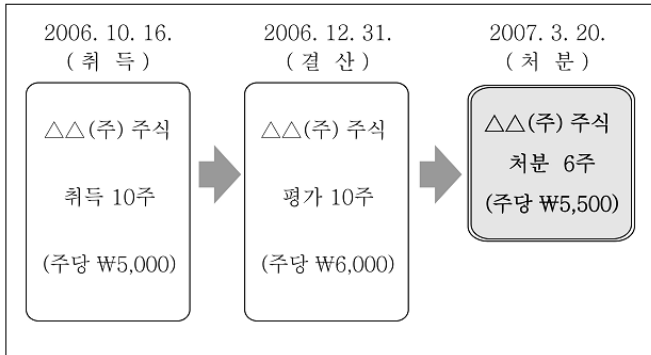
- ① ㄱ    ② ㄴ    ③ ㄷ  
④ ㄱ, ㄷ    ⑤ ㄴ, ㄹ





# 직업탐구영역

16 그림은 (주)○○이 일시적인 여유 자금으로 주식을 취득하여 평가 및 처분한 과정이다. 단기매매증권 처분손익으로 옳은 것은?



- ① 처분이익 ₩2,000                      ② 처분이익 ₩3,000
- ③ 처분손실 ₩3,000                      ④ 처분손실 ₩5,000
- ⑤ 처분손실 ₩6,000

17 다음 대화에서 교사의 질문 중 (가)의 내용으로 옳은 것은?

교사 : □ (가) 계정으로 회계처리하는 예를 들어 보세요.  
 철수 : 인터넷 통신 사용료가 해당되지요.  
 영희 : 전화 및 팩스 요금도 포함됩니다.  
 길동 : 택배 요금도 포함됩니다.  
 교사 : 철수와 영희가 바르게 이해하고 있네요.

- ① 통신비                      ② 운반비                      ③ 이차비용
- ④ 세금과공과                ⑤ 수도광열비

18 다음은 결산전 잔액시산표의 수익과 비용에 관한 자료이다. 결산 수정 사항 반영 후의 당기순이익으로 옳은 것은? [3점]

잔액시산표

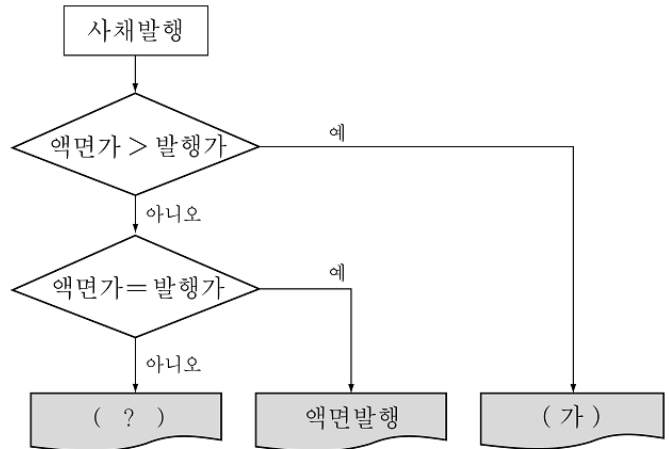
급 여	600,000	상품매출이익	900,000
보험료	120,000	이자수익	100,000
통신비	200,000		
	<u>2,000,000</u>		<u>2,000,000</u>

○ 결산 수정 사항 (결산일 : 12월 31일)  
 - 보험료 선급분 계상 (6월1일 1년분 ₩120,000 지급)

6월	7월	8월	9월	10월	11월	12월	1월	2월	3월	4월	5월
← 당기분 ₩70,000						→ 선급분 ₩50,000					

- ① ₩30,000                      ② ₩50,000                      ③ ₩80,000
- ④ ₩130,000                    ⑤ ₩150,000

19 그림은 사채발행의 흐름도이다. (가)에 대한 설명으로 옳은 것을 <보기>에서 모두 고른 것은? [3점]



< 보기 >

- ㄱ. 사채 할인발행의 경우이다.
- ㄴ. 사채할증발행차금이 발생한다.
- ㄷ. 액면이자율 < 시장(유효)이자율

- ① ㄱ                              ② ㄴ                              ③ ㄱ, ㄴ
- ④ ㄱ, ㄷ                        ⑤ ㄴ, ㄷ

20 ○○상점에서 작성한 9월 7일의 일계표이다. 일계표에서 추정할 수 있는 거래를 <보기>에서 모두 고른 것은? [3점]

일 계 표

○○상점	2007년 9월 7일		(단위:원)
차 변	원면	계 정 과 목	대 변
130,000	생 략	현 금	180,000
		외 상 대 출 금	
40,000		외 상 대 입 금	40,000
50,000		대 출	
220,000		대 입	220,000

< 보기 >

- ㄱ. 상품 ₩50,000을 외상으로 매출하다.
- ㄴ. 외상 대입한 상품 중 ₩40,000을 반품하다.
- ㄷ. 외상대출금 ₩130,000을 현금으로 회수하다.

- ① ㄱ                              ② ㄴ                              ③ ㄱ, ㄴ
- ④ ㄱ, ㄷ                        ⑤ ㄴ, ㄷ

※ 확인 사항

문제지와 답안지의 해당란을 정확히 기입(표기)했는지 확인하시오.