

2007학년도 10월 고3 전국연합학력평가 문제지

제 4 교시 **직업탐구영역(상업경제)**

성명 수험번호 3

1

- 먼저 수험생이 선택한 과목의 문제지인지 확인하시오.
- 문제지에 성명과 수험 번호를 정확히 기입하시오.
- 답안지에 수험 번호, 선택 과목, 답을 표기할 때는 반드시 '수험생이 지켜야 할 일'에 따라 표기하시오.
- 문항에 따라 배점이 다르니, 각 물음의 끝에 표시된 배점을 참고하시오. 3점 문항에만 점수가 표시되어 있습니다. 점수 표시가 없는 문항은 모두 2점씩입니다.

1. 그림에서 (가)에 대한 설명으로 옳은 것은?



- ① 소매상은 도매상을 상대로 판매를 한다.
- ② 매매업자로 상업의 보조 기능을 담당한다.
- ③ 도매상은 다른 도매상이나 소매상에게 판매를 한다.
- ④ 소매상은 담당 기능에 따라 수집, 중계, 분산 기관으로 나뉜다.
- ⑤ 소매상은 상품 수집과 발송이 유리한 교통 기관의 발착지나 항만 부근에 위치한다.

2. 그림의 유가증권에 대한 옳은 설명을 <보기>에서 모두 고른 것은?



< 보 기 >

- ㉠. 일정한 금액을 표시한 금전증권이다.
- ㉡. 기업이 자금을 조달하기 위해 발행한다.
- ㉢. 물품구입 시에 화폐 대신 이용하는 증권이다.
- ㉣. 운송 또는 보관 중인 화물을 대표하는 증권이다.

- ① ㉠, ㉡
- ② ㉠, ㉢
- ③ ㉠, ㉣
- ④ ㉡, ㉢
- ⑤ ㉡, ㉣

3. 표에서 (가), (나)에 해당하는 매매 방법을 바르게 짝지은 것은? [3점]

구분	파는 이	사는 이	매매 방법	이용
입찰판매			서면 입찰, 최저가격 신청자에게 낙찰	관청, 공기업 등의 공매매
입찰매입			서면 입찰, 최저가격 신청자에게 낙찰	관청 등에서 물품 매입, 공사 발주 등
(가)			가격 구두 경쟁, 최고가격에 낙찰	중앙 도매 시장에서 부패성 식품 거래
(나)			동시 경쟁으로 거래 결정	증권 선물 거래소, 상품 거래소

- | | |
|------|------|
| (가) | (나) |
| ① 경매 | 경매 |
| ② 경매 | 위탁매매 |
| ③ 경매 | 직접매매 |
| ④ 경매 | 위탁매매 |
| ⑤ 경매 | 경매 |

4. 그림은 수입 절차를 나타낸 것이다. (가), (나)와 관련 있는 기관을 바르게 연결한 것은? [3점]



- | | |
|---------|-------|
| (가) | (나) |
| ① 거래은행 | 산업자원부 |
| ② 외교통상부 | 산업자원부 |
| ③ 외교통상부 | 거래은행 |
| ④ 산업자원부 | 금융감독원 |
| ⑤ 산업자원부 | 거래은행 |

5. (가), (나)에 해당하는 은행 업무를 바르게 짝지은 것은?

(가) 갑은 가정에서 인터넷을 통해 상품 대금을 이체하였다.
 (나) ○○은행은 A기업과 고객 갑의 대대에서 고객 갑의 디결제 채권을 인수하고 A기업에 자금을 융통하여 주었다.

(가)

(나)

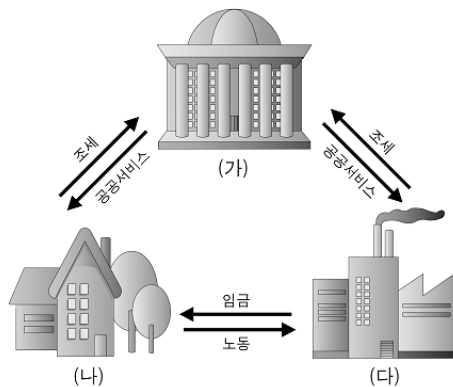
- | | |
|--------------|----------|
| ① 폰뱅킹 서비스 | 팩터링 업무 |
| ② 인터넷 뱅킹 서비스 | 어음 할인 업무 |
| ③ 인터넷 뱅킹 서비스 | 팩터링 업무 |
| ④ 모바일 뱅킹 서비스 | 어음 할인 업무 |
| ⑤ 모바일 뱅킹 서비스 | 신용카드 업무 |

6. 다음 자료에 해당되는 금융의 종류가 바르게 나열된 것은? [3점]

○ ○○은행이 은행권 최초로 최대 30년까지 마이너스 대출이 가능한 '자동 상환 마이너스 주택모기지론'을 판매한다.
 ○ 갑은 ○○은행에서 위 상품으로 대출을 받았다.

- ① 간접금융, 산업금융, 단기금융
- ② 직접금융, 산업금융, 장기금융
- ③ 직접금융, 소비금융, 단기금융
- ④ 간접금융, 소비금융, 단기금융
- ⑤ 간접금융, 소비금융, 장기금융

7. 다음은 국민 경제 순환 과정이다. 이를 잘못 설명한 것은?



- ① (가)는 재정 주체이다.
- ② (나)는 소비 주체이다.
- ③ (다)는 생산·소비 주체이다.
- ④ (가), (나), (다)는 경제 활동 주체이다.
- ⑤ (다)는 국민의 후생·복지를 담당하는 주체이다.

8. 다음 자료에 해당되는 국제 협정으로 옳은 것은?

**주요 경제협력개발기구(OECD)
국가별 먼지오염도**

국 가	오염지수
이탈리아	104.5
그리스	66.1
스웨덴	58.8
멕시코	54.7
슬로바키아	52.6

자료 : 세계경제포럼(WEF) '2005 환경지속지수'

- 국가별 환경오염 문제가 심각함을 알 수 있다.
- 환경문제를 유발시키는 상품에 대해서는 무역 제재를 가하는 새로운 무역 규제 장벽이 출현하게 되었다.

- ① 노동라운드(BR)
- ② 기술라운드(TR)
- ③ 부패라운드(CR)
- ④ 환경라운드(GR)
- ⑤ 인터넷라운드(IR)

9. 그림의 내용에 적합한 전자 상거래의 유형으로 옳은 것은? [3점]

입찰가입력

상 호 : ○○장터(주)
 대표자명 : 홍길동

입찰금액은 부가가치세 등
 제세공과금을 포함합니다.

입찰자

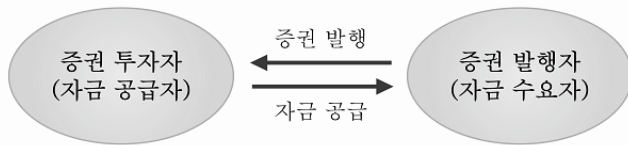
원정

- 정부(조달청)는 이동이 잦은 기업인들의 편의를 높이기 위해 개인휴대단말기(PDA)로 전자입찰에 참가할 수 있는 '모바일 전자입찰 서비스'를 실시하기로 하였다.

- ① B to B
- ② B to C
- ③ B to G
- ④ C to G
- ⑤ C to C

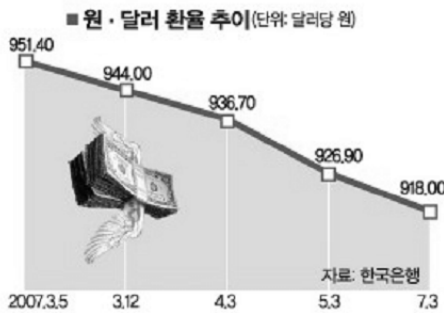
직업탐구영역

10 그림은 유가증권의 발행 시장을 나타낸 것이다. 시장의 기능과 성격을 바르게 짝지은 것은?



- | | |
|------------|-----------|
| <u>기능</u> | <u>성격</u> |
| ① 자금 조달 기능 | 추상적 시장 |
| ② 자금 조달 기능 | 구체적 시장 |
| ③ 간접 금융 기능 | 추상적 시장 |
| ④ 간접 금융 기능 | 구체적 시장 |
| ⑤ 자금 조달 기능 | 제2차 시장 |

11 자료를 분석한 내용으로 옳지 않은 것은? (단, 환율 이외의 요인은 고려하지 않는다.) [3점]



- ① 원화가 평가절하되고 있다.
- ② 수출 채산성이 악화될 것이다.
- ③ 한국으로 여행 오는 미국인에게 불리하다.
- ④ 경제성장이 둔화되고 고용시장이 어렵게 된다.
- ⑤ 수입대금을 달러로 지급하는 사람이 유리하다.

12 (가)~(다)에 해당하는 보험 용어로 알맞은 것은?

○○주식회사는 시가 20억 원인 건물에 대하여 △△보험회사
(가) (나)
에 15억 원의 화재보험에 가입하여 매월 80만 원을 납입하고 있다.
(다)

- | | | |
|------------|------------|------------|
| <u>(가)</u> | <u>(나)</u> | <u>(다)</u> |
| ① 보험금액 | 피보험자 | 보험료 |
| ② 보험금액 | 보험자 | 보험료 |
| ③ 보험가액 | 피보험자 | 보험금액 |
| ④ 보험가액 | 보험자 | 보험료 |
| ⑤ 보험금액 | 보험 수익자 | 보험가액 |

13 다음 대화 내용에 알맞은 품질 결정 방법은?



- | | | |
|-------|-------|------|
| ① 현품 | ② 통명 | ③ 견품 |
| ④ 명세서 | ⑤ 표준품 | |

14 (가), (나)에 해당하는 무형 재화를 바르게 짝지은 것은? [3점]

(가) 미국과 일본 등 교민들이 많은 지역을 중심으로 이른바 한류가 확산되면서 드라마를 비롯한 방송 콘텐츠의 불법 유통 사례가 급증하고 있습니다.
(나) 입지 조건의 우수성, 거래선이나 단골과의 특수 관계, 고객 등 이해자 집단의 호의, 기업의 역사 등이 여기에 속하는데, 이것들이 결합하여 초과수익력이 되는 것이 보통이다.

- | | |
|------------|------------|
| <u>(가)</u> | <u>(나)</u> |
| ① 상표권 | 영업권 |
| ② 저작권 | 특허권 |
| ③ 영업권 | 특허권 |
| ④ 영업권 | 저작권 |
| ⑤ 저작권 | 영업권 |

15 자료를 바탕으로 할 때 투자국의 기업이 얻을 수 있는 경제적 효과를 <보기>에서 모두 고른 것은? [3점]

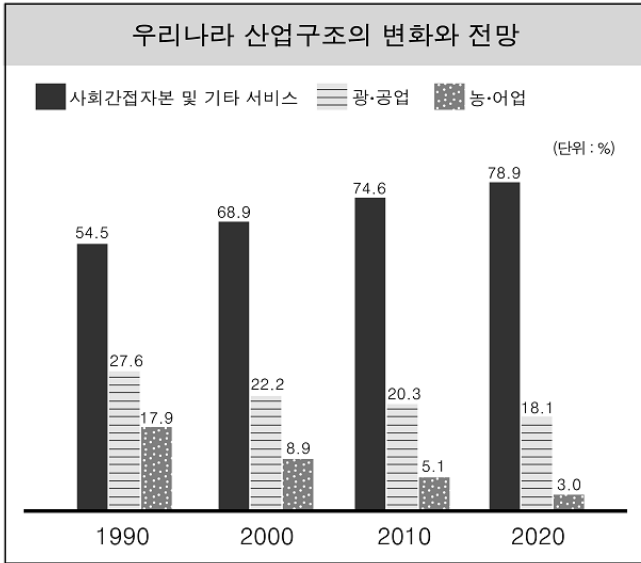
구 분	'05년	'06년	'07.1 ~ 6	
			1~6	'07.1/4 2/4
금 액 (증감률,%)	90.3 (14.2%)	185.1 (105.1%)	71.5 (84.1%)	103.0 (44.0%) 39.0 (1.8%) 64.0 (92.6%)

자료: 재정경제부

< 보 기 >
 가. 우리 기업의 국제 경쟁력이 강화될 것이다.
 나. 역수입 증가로 국제 수지가 개선될 것이다.
 다. 제조업의 해외 이전으로 국내 고용이 증가될 것이다.

- | | | |
|--------|-----------|--------|
| ① 가 | ② 나 | ③ 가, 나 |
| ④ 가, 다 | ⑤ 가, 나, 다 | |

16 그래프에 대한 옳은 설명을 <보기>에서 모두 고른 것은? [3점]



< 보 기 >

- ㄱ. 제조업의 비율이 가장 많다.
- ㄴ. 선진국형 산업 구조를 갖추었다.
- ㄷ. 3차 산업의 비중이 증가하고 있다.
- ㄹ. 농·어업 중심의 산업구조로 개편될 것이다.

- ① ㄱ, ㄴ ② ㄱ, ㄷ ③ ㄱ, ㄹ
- ④ ㄴ, ㄷ ⑤ ㄴ, ㄹ

17. 다음 글에서 추론할 수 있는 내용으로 옳은 것을 <보기>에서 모두 고른 것은? [3점]

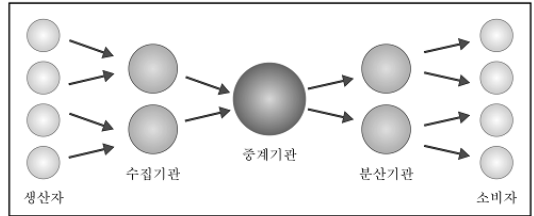
○ 물시장은 금융기관들만이 참여하기 때문에 중앙은행이 보다 쉽게 통제할 수 있다.
○ 장기금리는 경기 전망, 채권 수급 등 여러 요인이 복합적으로 작용해 결정되는 반면 물금리는 주로 자금 수급에 따라 달라진다.

< 보 기 >

- ㄱ. 물금리가 오르면 일반 은행의 금리도 함께 오를 것이다.
- ㄴ. 한국은행은 통화량이 많은 경우 국채나 공채를 매입할 것이다.
- ㄷ. 한국은행은 장기금리를 조절하여 재할인 정책을 운용할 것이다.
- ㄹ. 한국은행은 물가 안정을 달성하기 위한 수단으로 물금리를 사용할 것이다.

- ① ㄱ, ㄴ ② ㄱ, ㄹ ③ ㄴ, ㄷ
- ④ ㄴ, ㄹ ⑤ ㄷ, ㄹ

18 그림은 유통 경로의 한 유형을 나타낸 것이다. 이 유형에 알맞은 상품으로 옳은 것은?



- ① 치약 ② 석유 ③ 텔레비전
- ④ 소비자 농산물 ⑤ 가공용 수산물

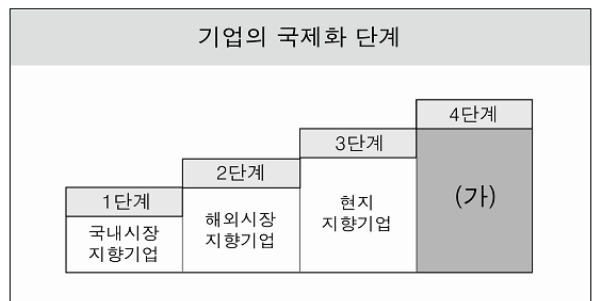
19. 다음 탐구 보고서에 해당되는 기구로 옳은 것은?

탐구 보고서

1. 탐구 일자 2007. 7. 18.
2. 탐구 주제 국제 금융 기구
3. 탐구 방법 인터넷 검색
4. 탐구 결과
 - 국제 수지 조정 자금의 지원
 - 특별인출권(SDR)의 창출과 운영 관리
 - 가맹국의 환율 정책 및 외환 제도에 대한 감시

- ① 국제결제은행(BIS)
- ② 국제통화기금(IMF)
- ③ 국제개발협회(IDA)
- ④ 아시아개발은행(ADB)
- ⑤ 국제부흥개발은행(IBRD)

20. 그림은 기업의 국제화 과정을 나타낸 것이다. (가)에 대한 설명으로 옳은 것은? [3점]



- ① 종합무역상사가 대표적이다.
- ② 초기의 제조업이 대표적이다.
- ③ 경제 활동의 세계화를 지향한다.
- ④ 무역 규제를 피하는 것을 목표로 한다.
- ⑤ 국내 시장의 점유율 증대를 목표로 한다.

※ 확인 사항

문제지와 답안지의 해당란을 정확히 기입(표기)했는지 확인하십시오.