

제 4 교시

사회탐구 영역 (세계지리)

|    |  |      |  |  |  |  |   |  |  |
|----|--|------|--|--|--|--|---|--|--|
| 성명 |  | 수험번호 |  |  |  |  | 3 |  |  |
|----|--|------|--|--|--|--|---|--|--|

- 자신이 선택한 과목의 문제지인지 확인하시오.
- 답안지에 성명과 수험 번호를 써 넣고, 또 수험 번호와 선택과목 번호, 답을 정확히 표시하시오.
- 과목을 선택한 순서대로 풀고, 답은 답안지의 '제1선택'란부터 차례대로 표시하시오.
- 문항에 따라 배점이 다르니, 각 물음의 끝에 표시된 배점을 참고하시오. 3점 문항에만 점수가 표시되어 있습니다. 점수 표시가 없는 문항은 모두 2점입니다.

1. (가), (나)에 해당하는 지리 학습 주제를 알맞게 연결한 것은?

(가) 대형 트럭을 모는 트러커(Trucker), 이들이 멈추면 미국도 멈춘다. 트레일러를 끌고 주와 주의 경계를 넘나들며 미국 경제의 동력을 제공한다.  
 (나) LA의 게토인 와츠(Watts)는 가난과 빈곤의 상징으로, 풍요로운 LA에서 고립된 빈곤의 섬이다. 이처럼 미국에는 도로 하나를 사이에 두고 말 그대로 천국과 지옥이 마주하고 있는 곳이 많다.

\* 게토(Ghetto) : 미국의 대도시에 형성된 불량 거주지

- |   |     |        |   |        |     |
|---|-----|--------|---|--------|-----|
|   | (가) | (나)    |   | (가)    | (나) |
| ① | 장소  | 위치     | ② | 이동     | 지역  |
| ③ | 위치  | 장소     | ④ | 인간과 환경 | 지역  |
| ⑤ | 이동  | 인간과 환경 |   |        |     |

2. 다음 지형을 순서대로 관찰할 수 있는 이동 경로로 알맞은 것은? [3점]

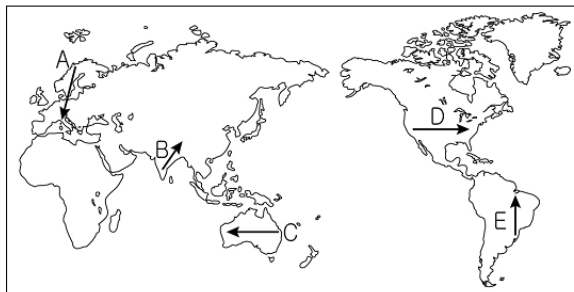
고생대의 조산 운동 후 오랜 침식으로 형성된 저기복의 산지



수평 지층이 넓은 범위에 걸쳐 융기한 대규모 평야




신생대에 두 대륙판의 충돌에 의해 형성된 높고 험준한 산지



- ① A      ② B      ③ C      ④ D      ⑤ E

3. (가)~(라) 지형에 대한 설명으로 알맞은 것을 <보기>에서 모두 고른 것은?



<보기>

- ㄱ. (가)는 바람에 의한 침식 작용으로 형성되었다.  
 ㄴ. (나)는 기반암의 차이에 따른 차별 침식으로 형성되었다.  
 ㄷ. (다)는 빗물에 의한 기반암의 용식 작용으로 형성되었다.  
 ㄹ. (라)는 산정부의 빙하가 아래쪽으로 이동하면서 형성되었다.

- ① ㄱ, ㄴ    ② ㄱ, ㄷ    ③ ㄴ, ㄷ    ④ ㄴ, ㄹ    ⑤ ㄷ, ㄹ

4. 다음은 지리 수업의 한 장면이다. 교사의 질문에 바르게 대답한 학생을 모두 고른 것은? [3점]

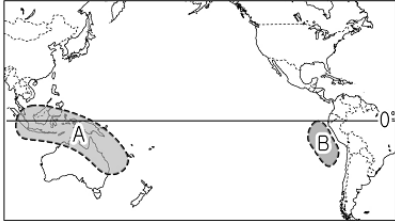
|   |  |
|---|--|
| 교사 : 지도의 (가)~(라) 지역은 어떤 특징이 있을까요?                   |  |
| 희영 : (가)는 힌두교도와 불교도 간의 분쟁이 자주 발생합니다.                |  |
| 민호 : (나)는 과거에 면방직 공업이 발달했으나, 최근에는 영화 산업이 발달하고 있습니다. |  |
| 진주 : (다)는 지형의 영향으로 세계적인 다우지입니다.                     |  |
| 성재 : (라)는 많은 양의 철광석을 수입해야 하기 때문에 해안가에 제철소가 입지합니다.   |  |
| 교사 : 그럼, 이 나라에 IT산업이 발달한 이유는 무엇 때문일까요?              |  |
| 현수 : 영어에 능숙한 저임금의 전문 인력이 풍부하기 때문입니다.                |  |

- ① 희영, 민호      ② 희영, 진주      ③ 민호, 현수  
 ④ 진주, 성재      ⑤ 성재, 현수

5. 자료는 뉴스의 일부이다. (가)와 관련하여 추론한 내용으로 적절한 것을 <보기>에서 모두 고른 것은? [3점]

앵커 : 올해는 지구 온난화와 ( 가 )의 영향으로 역사상 가장 더운 해가 될 것이라는 전망이 나왔습니다. 호주와 상황을 알아보겠습니다.

기자 : 호주 기상국은 지난 2주 간 태평양 중부와 동부 적도 수역의 해수면 온도가 평균보다 1~2℃ 높게 나타나 전형적인 ( 가 ) 현상을 보여 주고 있다고 밝혔습니다.



<보기>

- ㉠. A에서는 가뭄으로 농작물의 수확량이 감소할 것이다.
- ㉡. B에서는 한류성 어족의 어획량이 증가할 것이다.
- ㉢. 예년에 비해 무역풍의 세력이 약할 것이다.
- ㉣. 적도 부근 동태평양에서는 용승하는 해류가 강할 것이다.

- ① ㉠, ㉡    ② ㉠, ㉢    ③ ㉡, ㉣    ④ ㉢, ㉣    ⑤ ㉢, ㉣

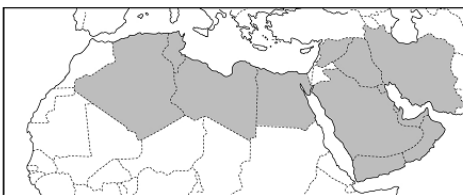
6. 다음 자료에 해당하는 토양으로 알맞은 것은?

- 빙기에 대륙 빙하 주변이나 사막으로부터 바람에 의해 운반·퇴적되었으며, 지표면의 약 10%를 덮고 있다.
- 입자가 곱고 산소를 많이 함유하고 있으며, 60℃ 이상으로 열을 가하면 원적외선이 방출된다.
- 단열이 뛰어나기 때문에 일부 지역에서는 혈거(穴居) 생활을 한다.



- ① 토티스                      ② 포드졸                      ③ 체르노젬  
 ④ 테라로사                    ⑤ 라테라이트

7. 지도의 표시된 지역에 대한 설명으로 적절하지 않은 것은?



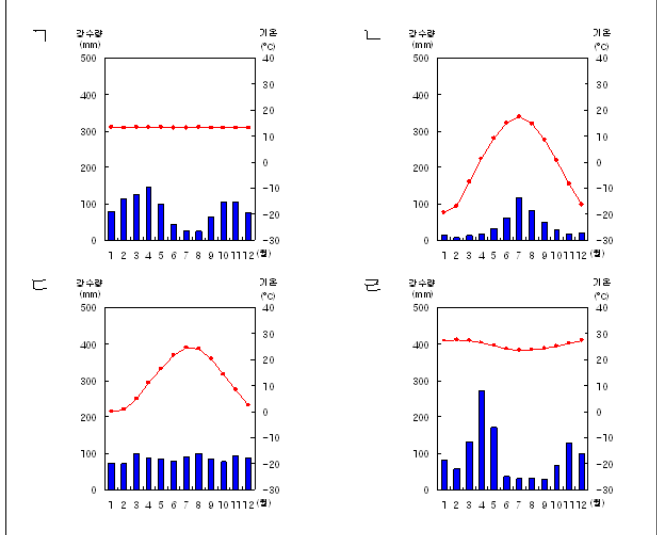
- ① 아시아와 아프리카 인종이 주로 분포한다.
- ② 엄격한 계율을 강조하는 종교를 신봉하고 있다.
- ③ 석유 개발에 따른 이익이 일부 계층에 집중되고 있다.
- ④ 창이 작고 벽이 두꺼운 흙으로 만든 가옥이 분포한다.
- ⑤ 사막화를 방지하기 위해 유목민에게 정착을 유도하고 있다.

8. (가), (나) 지역의 기후 그래프를 <보기>에서 찾아 알맞게 연결한 것은? [3점]

(가) 열차 창 밖의 풍경은 이전의 닳새와 다를 게 없이 침엽수림 지대가 끝없이 반복되었다. 그러나 열차 침대에 누웠을 때의 안락함은 사라지고 자칫 통로로 떨어질 만큼의 심한 요동을 느꼈다. 이것은 추위와 더위의 반복으로 인한 수축과 팽창이 철로를 뒤틀어 놓았기 때문이다.

(나) 모든 것이 바삭 말라 건조하여 어딜 가도 물이 없다. 온몸은 먼지투성이고 목은 타 들어가 하루하루 비를 기다려야만 한다. 하지만, 우기가 시작되면 건기를 겨우 버텨온 나무와 풀들이 단물을 품은 지 이틀만에 새로운 싹을 돌아내고, 많은 동물들이 물을 찾아 이곳으로 다시 온다.

<보기>



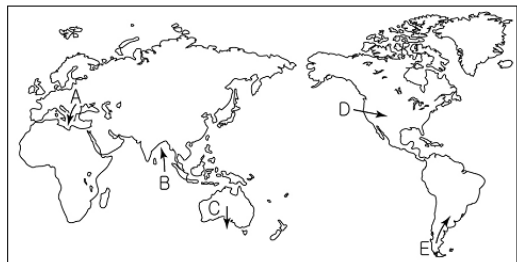
- (가) (나)                      (가) (나)                      (가) (나)

- ① ㉠    ㉡                      ② ㉠    ㉣                      ③ ㉡    ㉣  
 ④ ㉢    ㉣                      ⑤ ㉣    ㉣

9. 다음 글에서 설명하는 것과 유사한 성질의 바람을 지도에서 고른 것은? [3점]

프로방스의 채소밭 앞에 도착했을 때 장은 많은 작물들이 고개를 숙이거나 시든 광경을 보고 경악했다. “조금 전까지만 해도, 모두 멀쩡했었는데! 도대체 어떻게 된 거지?”

“오후에 이렇게 된 것이죠. 형씨께선 4~5시경 숨막히는 더위를 못 느끼셨습니까? 그게 아프리카풍(風)입니다. 이제 막 시든 것이니까, 물을 주기만 하면 아무 이상 없을 것입니다.” 라고 위골랭이 말했다.                      - 마농의 샘 -



- ① A                      ② B                      ③ C                      ④ D                      ⑤ E

10. 다음에서 설명하고 있는 문화에 영향을 준 문화권을 지도에서 모두 고른 것은? [3점]

- 인구의 절반 이상이 혼혈 인종  
: 메스티소, 몰라토, 삼보
- 검은 머리와 갈색 피부를 가진 과달루페 성모마리아
- 정열적이고, 리듬감이 강하면서도 에수를 띤 독특한 음악  
: 탱고, 레게, 살사



- ① A, C    ② A, D    ③ B, C    ④ B, E    ⑤ D, E

11. 다음 자료와 가장 관련 깊은 국가를 지도에서 고른 것은?

80년 간의 프랑스 식민지

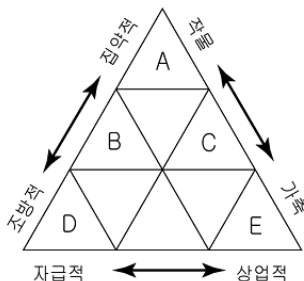
브릭스(BRICS)의 뒤를 이을 비스타(VISTA)의 대표 주자  
아시아의 브라질. 원유, 커피 등 넘치는 천연 자원



- ① A    ② B    ③ C    ④ D    ⑤ E

12. (가), (나)와 관련된 농업의 특색을 그림에서 찾아 바르게 연결한 것은? [3점]

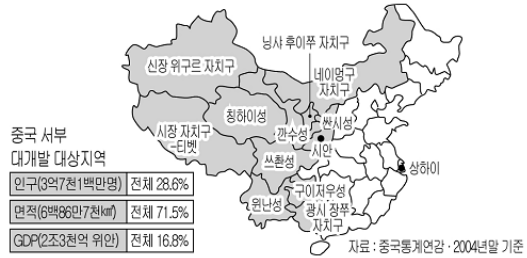
- (가) 서구의 자본과 기술이 현지의 노동력과 토지를 이용하여 열대·아열대성 작물을 대규모로 단일 경작하는 농업
- (나) 열대 지역에서 밀림을 불태운 후 그 재를 비료로 하여 작물을 재배하다가 지력이 떨어지면 다른 곳으로 이동하는 농업



- |   |     |     |
|---|-----|-----|
|   | (가) | (나) |
| ① | A   | D   |
| ② | A   | E   |
| ③ | B   | C   |
| ④ | C   | E   |
| ⑤ | D   | B   |

13. 자료와 같은 개발의 결과 나타날 수 있는 변화로 알맞은 것을 <보기>에서 모두 고른 것은? [3점]

신장 위구르 자치구의 천연 가스를 상하이까지 연결하는 서기동수(西氣東輸), 쓰촨성에 수력 발전소를 지어 전력을 동부 연안 지방에 보내는 서전동송(西電東送), 양쯔강 물을 황하까지 공급하는 남수북조(南水北調), 중국 전역을 격자형 교통망으로 연결하는 오종칠횡(五縱七橫) 팔중팔횡(八縱八橫) 프로젝트 등이 대표적인 사업이다.



<보기>

- ㄱ. 동부 지역으로 인구 이동이 가속화될 것이다.
- ㄴ. 양쯔강 하류 지역의 홍수 피해가 감소할 것이다.
- ㄷ. 동베이 지방의 공업 용수 부족이 해소될 것이다.
- ㄹ. 동·서 지역 간 소득 격차를 완화시킬 수 있을 것이다.

- ① ㄱ, ㄴ    ② ㄱ, ㄷ    ③ ㄴ, ㄷ  
④ ㄴ, ㄹ    ⑤ ㄷ, ㄹ

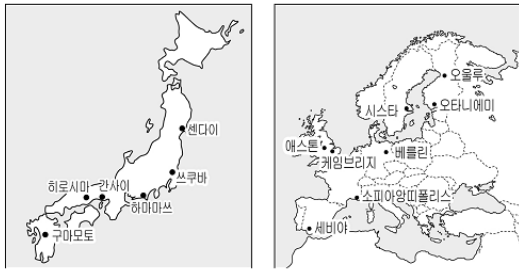
14. (가)~(다)에 해당하는 지역을 지도에서 바르게 고른 것은?

- (가) 드디어 축제다. 험란한 복장을 한 여자의 삼바 춤을 시작으로 가지각색의 화려한 행렬이 삼바 리듬에 맞추어 몰밀듯이 리우카니발 대회를 메우며 들어온다.
- (나) 잉카 트레일은 옛 잉카 제국의 왕명을 전달하던 길이다. 총 1만km가 넘었던 이 길은 이제 대부분 없어지고 온전하게 남아 있는 것이 쿠스코에서 마추픽추에 이르는 45km의 산길이다.
- (다) 팜파스는 원주민 말로 '평원'을 의미한다. 이 지역은 기후가 온화하고 토양이 비옥하며, 유럽인들이 가져온 소와 양을 사육하기 시작하면서 대규모의 기업적 목축이 크게 발달하였다.



- |   |     |     |     |
|---|-----|-----|-----|
|   | (가) | (나) | (다) |
| ① | A   | B   | E   |
| ② | B   | A   | C   |
| ③ | D   | A   | C   |
| ④ | E   | C   | D   |
| ⑤ | E   | B   | D   |

15. 지도의 표시된 지역에 공통적으로 발달한 산업의 입지 요인으로 가장 적절한 것을 <보기>에서 모두 고른 것은?

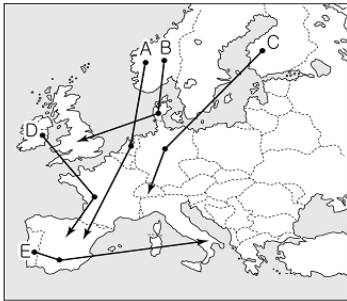


<보기>

- ㉠. 풍부한 원료
- ㉡. 관련 산업의 집적
- ㉢. 공업 용수의 확보
- ㉣. 연구 개발 시설과의 접근성

- ① ㉠, ㉡    ② ㉠, ㉢    ③ ㉡, ㉣    ④ ㉡, ㉣    ⑤ ㉢, ㉣

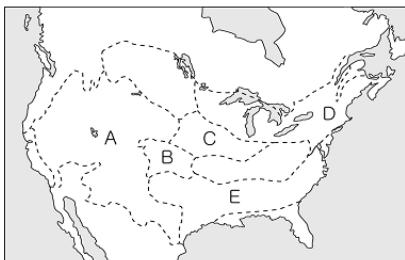
16. 유럽 여행 중 촬영한 사진이다. 사진의 순서대로 여행한 국가를 바르게 연결한 것은? [3점]



- ① A    ② B    ③ C    ④ D    ⑤ E

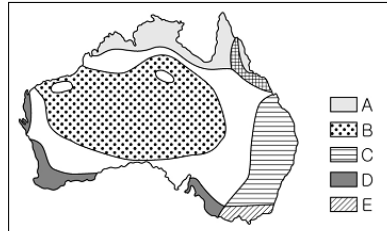
17. 자료가 설명하고 있는 영화의 배경이 된 농업 지역을 지도에서 고른 것은?

영화 ‘바람과 함께 사라지다’는...(중략)...  
신사도와 목화밭으로 상징되는 이 지역은 기사도가 살아 있는 마지막 땅으로, 용감한 기사와 우아한 숙녀 그리고 지주와 노예가 함께 존재하는, 책 속에서나 볼 수 있는, 과거가 꿈처럼 기억되는 곳이다.



- ① A    ② B    ③ C    ④ D    ⑤ E

18. 다음과 같은 농작물이 주로 재배되는 기후 지역으로 가장 알맞은 곳은?



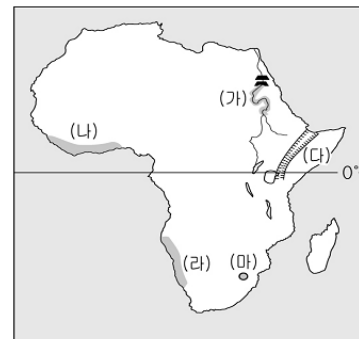
- ① A    ② B    ③ C    ④ D    ⑤ E

19. 자료에서 설명하고 있는 작물의 특색으로 알맞은 것은?

- 이 작물은 국제적인 이동량이 적어, 수확량의 변화에 따라 국제 가격 변동 폭이 크다.
- 열대·아열대 주민들은 끈기가 적은 ‘인디카’를, 온대 주민들은 끈기가 많은 ‘자포니카’를 선호한다.

- ① 아시아의 계절풍 기후 지역에서 주로 생산된다.
- ② 생육 기간은 서늘하고 추수기는 건조해야 한다.
- ③ 대농장에서 생산되며 이익의 분배가 불평등하다.
- ④ 농업의 기계화가 어려워 많은 노동력을 필요로 한다.
- ⑤ 가축의 사료로 많이 사용되며 단위 면적당 생산량이 많다.

20. (가)~(마) 지역에 대한 설명으로 알맞지 않은 것은? [3점]



- ① (가)는 댐 건설로 고대 문화 유산이 훼손되고 있다.
- ② (나)는 카카오가 주요 외화 수입원이 되고 있다.
- ③ (다)는 단층 활동에 의한 지각의 균열이 나타나고 있다.
- ④ (라)는 벵겔라 해류에 의해 사막 기후가 나타나고 있다.
- ⑤ (마)는 비행기와 음료수 캔의 원료가 되는 자원의 주산지이다.

\* 확인 사항  
○ 답안지의 해당란에 필요한 내용을 정확히 기입(표기)했는지 확인 하시오.