

2007학년도 3월 고3 전국연합학력평가 문제지

제 4 교시

사회 탐구 영역(세계 지리)

성명 수험번호 3

1

- 먼저 수험생이 선택한 과목의 문제지인지 확인하십시오.
- 문제지에 성명과 수험 번호를 정확히 기입하십시오.
- 답안지에 수험 번호, 선택 과목, 답을 표기할 때는 반드시 '수험생이 지켜야 할 일'에 따라 표기하십시오.
- 문항에 따라 배점이 다르니, 각 물음의 끝에 표시된 배점을 참고하십시오. 3점 문항에만 점수가 표시되어 있습니다. 점수 표시가 없는 문항은 모두 2점씩입니다.

1. 다음은 지리 정보에 관한 수업 장면이다. 교사의 질문에 대해 옳게 대답한 학생을 <보기>에서 모두 고른 것은?

교사 : 칠레에 관한 다음 자료에서 ㉠~㉣ 지리 정보에 대해 말해 볼까요?

■ 지리 정보의 예 ■

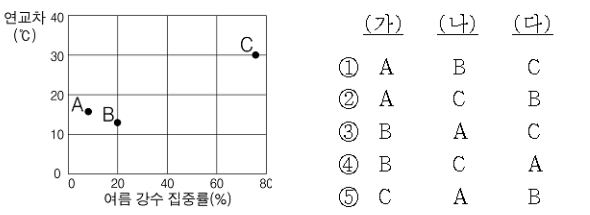
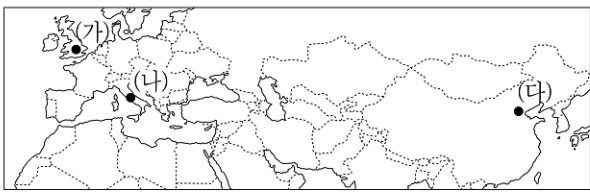
㉠ 남위 17°~56°에 걸쳐 있음
 ㉡ 혼혈 인종과 가톨릭 교도가 많음
 ㉢ 우리나라와 자유 무역 협정(FTA)을 체결하였음

< 보 기 >

갑: ㉠은 다른 지역과의 관계를 나타내는 지리 정보입니다.
 을: ㉡은 지역의 속성을 나타내는 지리 정보입니다.
 병: ㉢은 시대 상황에 따라 변화하는 지리 정보입니다.

- ① 갑 ② 을 ③ 갑, 병
 ④ 을, 병 ⑤ 갑, 을, 병

2. 그래프의 A~C는 지도에 표시된 (가)~(다) 지역의 연교차와 여름 강수 집중률을 나타낸 것이다. 이를 연결한 것으로 옳은 것은? [3점]



3. 다음은 영희가 여행지에서 철이에게 보낸 엽서이다. 밑줄 친 ㉠~㉣과 관련된 내용으로 옳지 않은 것은? [3점]

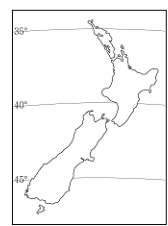
안녕!

여기는 일광절약제*를 실시해서 ㉠ 지금 밤 10시니까 우리나라는 저녁 6시쯤 됐겠다. 한국은 요즘 아주 춥지? 여기는 ㉡ 여름에도 별로 덥지 않고 겨울에도 그리 춥지 않다. 오늘은 ㉢ ○○ 민속촌에 갔는데, 이곳에서 원주민들의 민속 춤 공연을 봤어. 그리고 온천에 갔지. 이 지역에는 ㉣ 온천이나 간헐천 등이 발달해 있거든.

며칠 후면 크리스마스네. ㉤ 여기서는 눈 내리는 화이트 크리스마스를 경험하기 어렵다는 점이 좀 아쉬워. 어쨌든 Merry Christmas!!

2006. 12. 22. 멀리서 영희가

*일광절약제: 낮 시간의 효율적인 사용을 위해 표준시를 평소보다 1시간 앞당겨 적용하는 제도



- ① ㉠ - 우리나라보다 서쪽에 위치한다.
 ② ㉡ - 편서풍의 영향을 많이 받는다.
 ③ ㉢ - 마오리 족의 문화가 관광 상품으로 개발된 것이다.
 ④ ㉤ - 환태평양 조산대에 해당되기 때문이다.
 ⑤ ㉣ - 남반구에 위치해 있어 우리나라와 계절이 반대이다.

4. 표는 중국의 무역 수지를 나타낸 것이다. 이를 해석한 내용으로 옳은 것을 <보기>에서 모두 고른 것은? [3점]

(단위 : %)

지역	수입		수출	
	2001년	2005년	2001년	2005년
아시아 (서남 아시아)	60.4 (3.9)	66.9 (4.8)	53.0 (3.3)	48.1 (3.8)
유럽	19.9	14.6	18.5	21.7
북아메리카	12.4	8.5	21.7	22.9
기타	7.3	10.0	6.8	7.3
합계(달러)	2,436억	6,601억	2,662억	7,620억

< 보 기 >

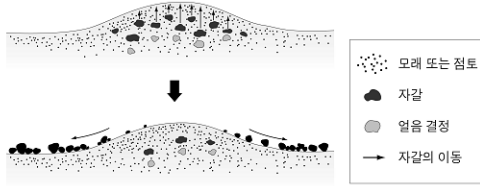
ㄱ. 전체 무역 수지가 적자이다.
 ㄴ. 북아메리카와의 무역액이 감소하였다.
 ㄷ. 아시아 국가들에 대한 무역 의존도가 높다.
 ㄹ. 서남 아시아로부터의 수입 증가는 자원 수입과 관련 깊다.

① ㄱ, ㄴ ② ㄱ, ㄷ ③ ㄴ, ㄹ
 ④ ㄴ, ㄹ ⑤ ㄷ, ㄹ

2

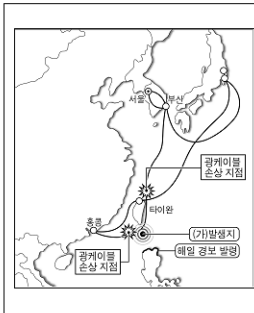
사회탐구영역

5. 그림과 같은 지형 형성 작용이 두드러진 지역의 특징으로 옳은 것은? [3점]



- ① 일년 내내 빙하로 덮여 있다.
- ② 라테라이트 토양이 분포한다.
- ③ 화학적 풍화 작용이 활발하다.
- ④ 짧은 여름 동안 이끼류가 자란다.
- ⑤ 거의 매일 대류성 강수가 내린다.

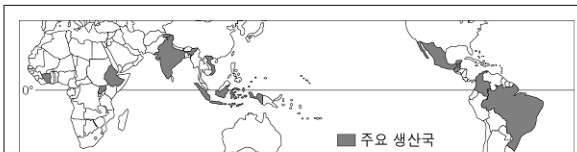
6. 자료의 (가) 현상으로 인해 나타나는 피해 사례를 다른 지역에서 찾아본 것으로 가장 적절한 것은?



타이완에서 발생한 (가) (으)로 인해 해저 광케이블이 손상돼 동북아시아 지역에서 통신·금융 장애가 속출했다. (가) 발생 이후 홍콩에서는 한국과 연결되는 인터넷과 유선 전화·팩시밀리 연결이 끊겼고, 홍콩과 미국을 잇는 통신망에도 일부 문제가 발생했다.
- ○○일보, 2006. 12. -

- ① 집중 호우에 따른 갠지스 강의 범람
- ② 지진에 의한 인도 북서부 지역의 건물 파손
- ③ 지구 온난화로 인한 투발루 공화국의 침수
- ④ 허리케인 상륙에 따른 멕시코 만 정유 시설 파괴
- ⑤ 가뭄으로 인한 오스트레일리아 산림 지역의 산불 확산

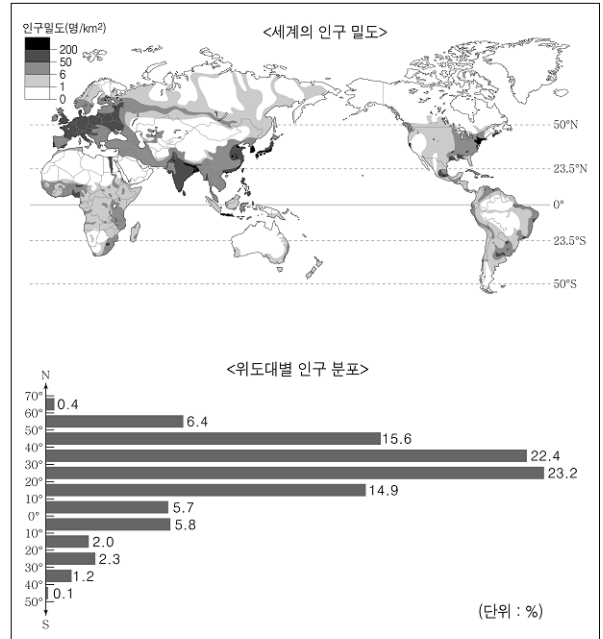
7. 자료는 어느 작물의 주요 생산국과 전파 과정을 나타낸 것이다. 이 작물에 대한 설명으로 옳지 않은 것은?



이 작물은 '아라비아의 와인'이라는 이름으로 유럽에 소개되면서 유럽인에게 선풍적인 인기를 끌게 되었다. 17세기에 네덜란드인들은 이 작물을 당시 식민지였던 인도네시아 자바섬에서 재배하였으며, 1714년 프랑스는 이를 카리브 해 지역으로 전파하였다. 브라질은 1727년에 이 작물을 본격적으로 재배하기 시작하여 지금은 세계 1위 생산국이 되었다.

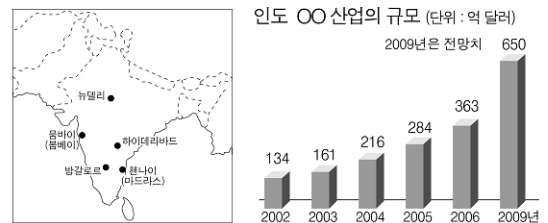
- ① 플랜테이션 작물에 해당한다.
- ② 기호 식품의 원료로 이용된다.
- ③ 하천 하류의 충적지에서 주로 재배된다.
- ④ 라틴 아메리카 국가들의 생산 비중이 높다.
- ⑤ 건기와 우기가 뚜렷한 열대 기후에서 잘 자란다.

8. 자료를 분석한 내용으로 옳지 않은 것은? [3점]



- ① 고위도로 갈수록 인구 밀도가 높아진다.
- ② 20° ~ 40°N의 지역에 거주 인구가 가장 많다.
- ③ 건조 기후 지역은 습윤 기후 지역보다 인구 밀도가 낮다.
- ④ 남반구는 북반구에 비해 인구 밀도가 높은 지역의 범위가 좁다.
- ⑤ 40° ~ 50°N에 비해 40° ~ 50°S의 인구 수가 적은 것은 육지 면적의 차이와 관계가 깊다.

9. 지도의 ●으로 표시된 도시에서 ○○산업이 주로 발달하게 된 배경을 탐구하고자 한다. 조사할 내용으로 적절한 것을 <보기>에서 모두 고른 것은?



- < 보기 >
- ㄱ. 지하 자원의 매장량은 얼마나 많은가?
 - ㄴ. 공용어는 무엇이며 미국과의 시차는 얼마인가?
 - ㄷ. 연구 개발 시설 및 고급 기술 인력은 얼마나 많은가?
 - ㄹ. 대규모 댐에 인접하여 용수 및 전력 확보가 유리한가?

- ① ㄱ, ㄴ ② ㄱ, ㄷ ③ ㄴ, ㄷ
- ④ ㄴ, ㄹ ⑤ ㄷ, ㄹ

사회탐구영역

3

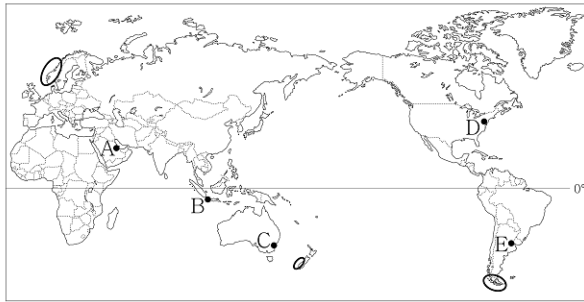
세계 지리

10 지도는 미국의 도시 성장을 나타낸 것이다. 이에 대한 설명으로 옳지 않은 것은? [3점]




- ① 대서양 연안의 메갈로폴리스가 쇠퇴하였다.
- ② 첨단 산업이 발달한 지역의 도시가 성장하였다.
- ③ 에너지 다소비형 공업이 발달한 도시는 쇠퇴하였다.
- ④ 북동부에 비해 남부 도시들의 인구 증가율이 높았다.
- ⑤ 따뜻한 기후가 나타나는 지역의 도시 성장이 두드러졌다.

【11-12】 지도를 보고 물음에 답하시오.



11 자료는 어느 국제 경기의 마스코트에 관한 것이다. 이를 토대로 이 경기가 개최되었을 것으로 추정되는 도시를 위 지도에서 바르게 고른 것은? [3점]



이 동물의 생존 비밀은 체온과 수분 조절로 요약된다. 대부분의 포유동물은 뇌의 온도가 43℃가 넘으면 생존하기 어렵지만, 이 동물은 체온이 45℃까지 치솟아도 견뎌낸다. 그 비밀은 코에 있다. 심장에서 공급된 피가 뇌에 이르기 전에 비강(鼻腔)*을 지나게 되는데, 이 비강이 뇌로 들어가는 피의 온도를 낮춰주는 것이다. 그리고 항상 바깥 기온보다 체온을 더 높게 유지함으로써 수분 증발을 최소화하여 이 지역에 적응하여 살고 있다.

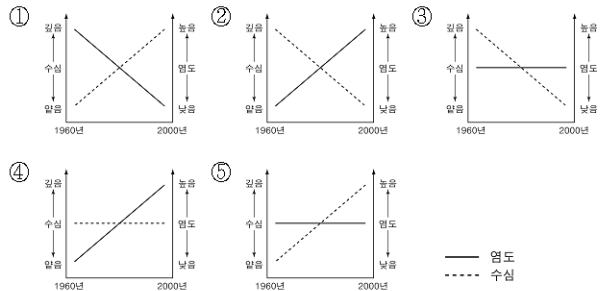
*비강 : 콧구멍에서 목젓 윗부분에 이르는 코 안의 빈 곳

- ① A
- ② B
- ③ C
- ④ D
- ⑤ E

12 위 지도에 ○로 표시된 해안 지역의 공통점으로 옳은 것은?


- ① 조경 수역으로 어족이 풍부하다.
- ② 조차가 작아 삼각주가 발달한다.
- ③ 용기로 인해 해안선이 단조롭다.
- ④ 한류의 영향으로 사막이 분포하다.
- ⑤ 빙하의 영향으로 좁고 긴 협만이 발달한다.

13 그림은 아랄 해의 변화 과정을 나타낸 것이다. 이를 토대로 아랄 해의 수심과 염도의 변화를 추론하여 바르게 표현한 것은?




14 자료를 토대로 (가) ~ (다) 지역에 대한 설명으로 옳은 것을 <보기>에서 모두 고른 것은?

(가) 지역




유목민의 후예인 우리의 전통 음식은 '케밥'인데, 이것은 얇게 저민 양고기를 쇠꼬챙이에 차곡차곡 쌓아 올려 돌려가며 구운 요리를 말합니다.

(나) 지역



우리의 전통 음식은 '커리'입니다. 그런데, 사람들에 따라 커리에 돼지고기를 넣지 않기도 하고 쇠고기를 넣지 않기도 합니다.

(다) 지역



우리의 전통 음식은 고래 고기를 소금에 짬어 날 것으로 먹는 '막탁'입니다. 또한, 말린 순목 고기를 물개 기름에 절인 '키낙탁'이라는 음식도 있습니다. 이처럼 우리는 생식을 주로 합니다.

< 보기 >

- ㄱ. (가) 지역의 음식은 강수량이 풍부한 기후 조건과 관계 깊다.
- ㄴ. (나) 지역의 음식 문화에는 종교적 특징이 반영되었다.
- ㄷ. (다) 지역은 (가) 지역에 비해 고위도에 위치한다.
- ㄹ. (다) 지역은 (나) 지역에 비해 농업의 비중이 높다.

- ① ㄱ, ㄴ
- ② ㄱ, ㄷ
- ③ ㄴ, ㄷ
- ④ ㄴ, ㄹ
- ⑤ ㄷ, ㄹ

4

사회탐구영역

15 다음 글의 밑줄 친 '이곳'의 특징에 대한 추론으로 옳은 것은?

조선 중기, 조완벽이라는 인물은 특이하게도 우리나라와 멀리 떨어져 있는 '이곳'을 세 번이나 다녀왔다. 조완벽 일행은 한번 '이곳'에 가면 석 달 정도 머물렀다. 이때 조완벽의 눈에 신기했던 것은 불과 석 달 사이에 한쪽에서는 논을 갈고, 다른 논에서는 곡식이 무르익고, 또 다른 논에서는 곡식을 거두는 것이었다.

— 이수광, 『지봉유설』 —

- ① 연중 서늘한 열대 고산 지역이다.
- ② 연교차가 큰 고위도 대륙 내부이다.
- ③ 편서풍의 영향을 받는 대륙 서안이다.
- ④ 연평균 기온이 높고 강수량이 많은 저위도 지역이다.
- ⑤ 강수량보다 증발량이 많은 아열대 고압대에 위치한다.

16 지도는 남부 유럽의 농업 구분도에서 어느 농업 지역을 검게 표시한 것이다. 이 지역의 전통적인 농업 특징이 반영된 농장의 사례로 가장 적절한 것은? [3점]



구분	농장	A	B	C	D	E
경지별 면적 (ha)	곡물 경작지	106.2	12.3	17.5	6.4	3.2
	목초지	5.7	11.8	56.8	92.6	0
	과수원	2.0	26.0	0	0	0
	합계	113.9	50.1	74.3	99.0	3.2
가축 두수 (마리)	소	42	0	70	30	2
	돼지	4	3	12	0	0
	양	0	35	0	56	0

- ① A ② B ③ C ④ D ⑤ E

17 자료를 바탕으로 A 국가의 특징을 추론한 내용으로 옳지 않은 것은? [3점]

주민 구성 (500여 종족)

- 아프리카 계 52%
- 아랍 계 39%
- 기타 9%

종교

- 이슬람 교 70%
- 기타 25%
- 기독교 5%
- 토착 신앙 25%

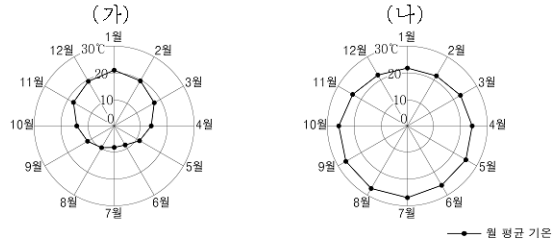
산업별 인구 구조

- 농업 80%
- 서비스업 13%
- 공업 7%

(2006년)

- ① 사막화 문제로 경지 이용에 어려움이 있을 것이다.
- ② 다양한 부족과 종교로 인해 갈등이 발생할 것이다.
- ③ 도시에 비해 농촌 지역의 인구 비율이 높을 것이다.
- ④ 국경선 설정에 열강의 이해 관계가 작용하였을 것이다.
- ⑤ 인구 노령화에 따른 노동력 부족 문제가 심각할 것이다.

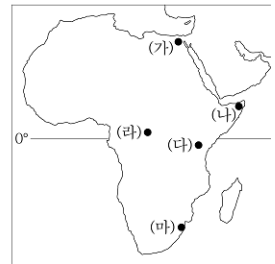
18 그래프는 (가), (나) 지역의 월별 기온 분포를 나타낸 것이다. 이에 대한 설명으로 옳은 것은? [3점]



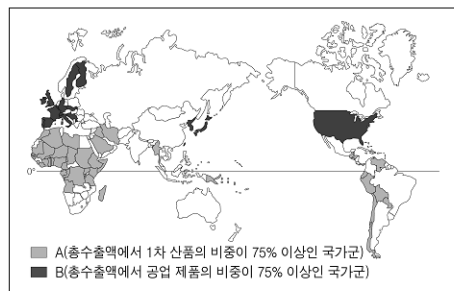
- ① (가)는 북반구, (나)는 남반구에 위치한다.
- ② (가)는 열대 기후, (나)는 온대 기후이다.
- ③ (가)는 (나)보다 기온의 연교차가 크다.
- ④ (가)는 (나)보다 연평균 기온이 높다.
- ⑤ (가)는 (나)보다 여름 기온이 높다.

19 (가)~(마) 지역을 여행할 때 체험할 수 있는 사실로 옳지 않은 것은?

- ① (가) - 히잡을 쓴 여자들을 볼 수 있다.
- ② (나) - 기아에 시달리는 난민을 위해 봉사하는 한국인을 만난다.
- ③ (다) - 넓은 사바나 초원에서 사파리 관광을 즐긴다.
- ④ (라) - 수층이 다양한 열대 밀림을 관찰한다.
- ⑤ (마) - 한류에 의해 형성된 모래사막에서 낙타를 탄다.



20 지도의 A 국가군에 비해 B 국가군의 수치가 높은 항목을 <보기>에서 모두 고른 것은?



- < 보기 >
- ㄱ. 문맹률 ㄴ. 도시 인구율 ㄷ. 유아 사망률
 - ㄹ. 인터넷 이용률 ㅁ. 1인당 에너지 소비량
- ① ㄱ, ㄷ ② ㄴ, ㄹ ③ ㄴ, ㅁ
 - ④ ㄱ, ㄷ, ㄹ ⑤ ㄴ, ㄹ, ㅁ

※ 확인 사항
○ 문제지와 답안지의 해당란을 정확히 기입(표기)했는지 확인하십시오.