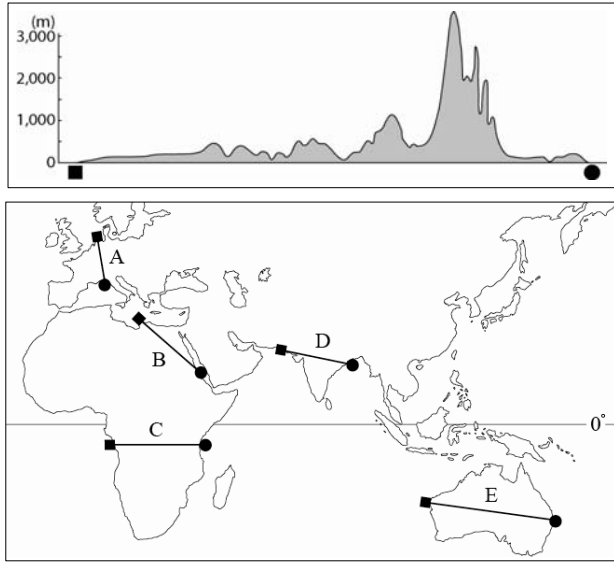




6. 그림의 단면도에 해당하는 구간을 지도의 A~E에서 고른 것은?  
(단, 지도에서 축척에 따른 거리는 고려하지 않음.)



- ① A      ② B      ③ C      ④ D      ⑤ E

7. 다음과 같은 수행 평가지의 <정답>란의 서술 내용으로 옳은 것만을 있는 대로 고른 것은?

**수행 평가지**

2학년 ○반 ○번 이름 : △ △ △

1. 사진은 지도의 각 지역에서 관찰한 지형을 촬영한 것이다. A~D에 나타난 지형의 형성 원인을 서술하시오.

A

B

C

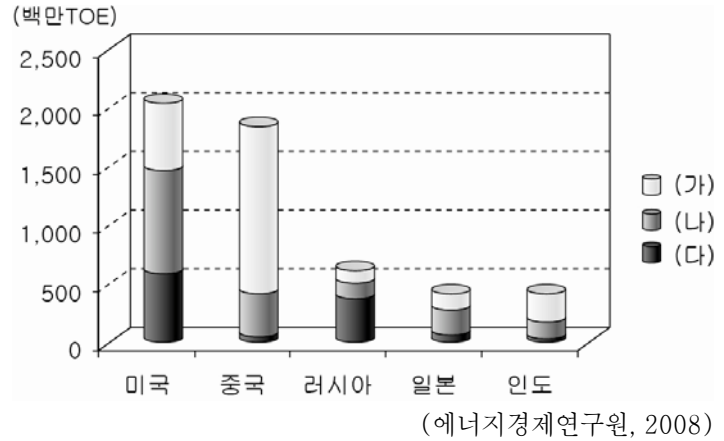
D

<정답>

사진	지형 형성 원인
A	연암층과 경암층이 차별 침식을 받아 형성
B	지하수에 녹은 석회암이 침전되어 형성
C	바람에 날려 온 모래가 암석 하부를 침식하여 형성
D	지반이 융기하면서 하천의 침식으로 깊은 계곡 형성

- ① A, B      ② A, D      ③ C, D
- ④ A, B, C      ⑤ B, C, D

8. 그래프는 주요 국가별 1차 에너지 자원의 소비량을 나타낸 것이다.  
(가)~(다) 자원에 대한 옳은 설명을 <보기>에서 고른 것은? [3점]

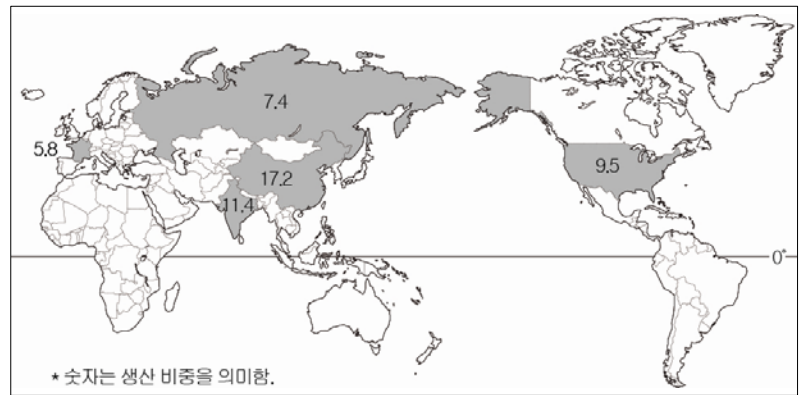


< 보 기 >

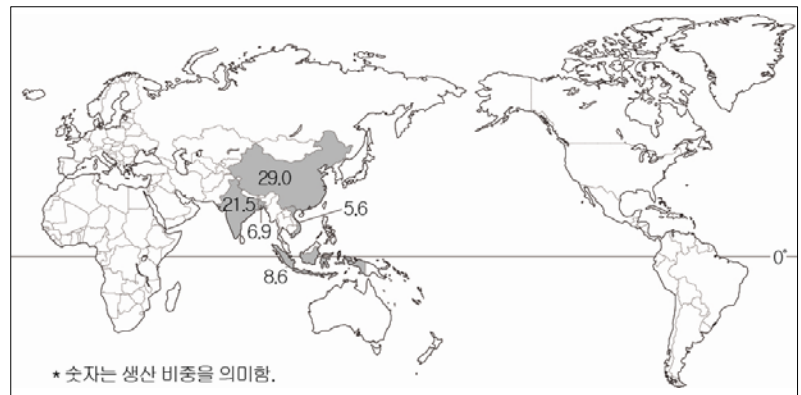
ㄱ. (가)는 수송 부문에서 주로 소비되고 있다.  
 ㄴ. (나)는 편재성이 강하여 국제적인 이동이 활발하다.  
 ㄷ. (다)는 공해 물질의 배출이 적어 사용량이 증가하고 있다.  
 ㄹ. 세계 총 소비량은 (가) > (나) > (다) 순으로 많다.

- ① ㄱ, ㄴ      ② ㄱ, ㄷ      ③ ㄴ, ㄹ
- ④ ㄴ, ㄹ      ⑤ ㄷ, ㄹ

9. 지도는 A, B 식량 작물의 주요 생산국과 국가별 생산 비중을 나타낸 것이다. 이에 대한 설명으로 적절한 것은? [3점]



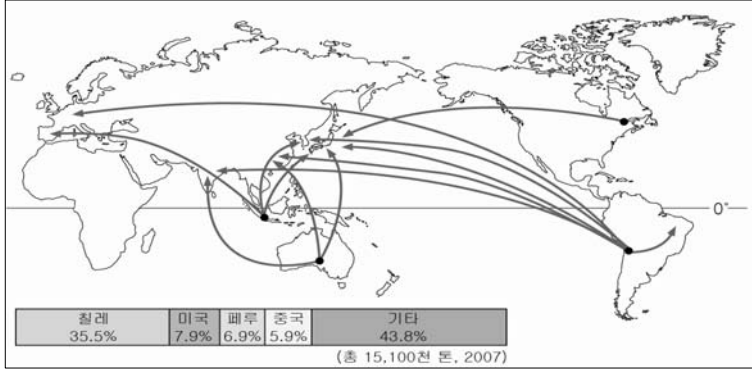
<A 작물의 주요 생산국과 생산 비중>



<B 작물의 주요 생산국과 생산 비중>

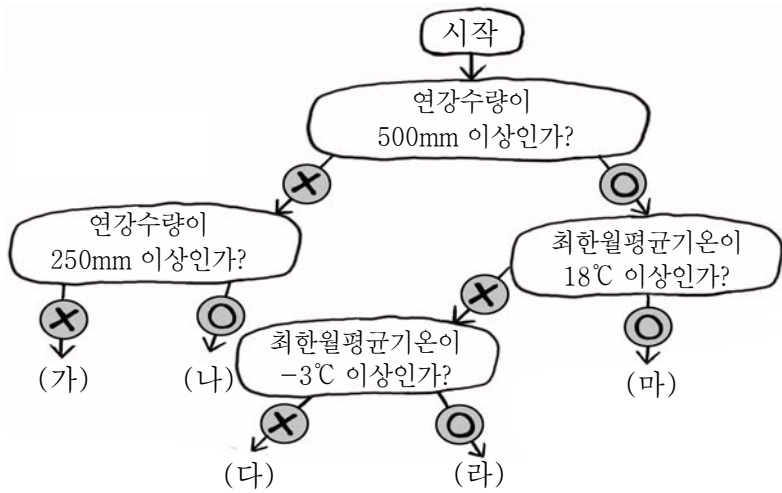
- ① A는 고온 다습한 환경에서 주로 재배된다.
- ② A는 주로 자급적인 영농 방식으로 재배된다.
- ③ B는 배수가 양호한 토양에서 재배된다.
- ④ A는 B보다 단위 면적당 인구 부양력이 크다.
- ⑤ B는 A에 비해 국제 이동량이 적다.

10. 자료는 어떤 광물 자원의 국제 이동과 생산량 비중을 나타낸 것이다. 이 자원에 대한 설명으로 옳은 것은? [3점]



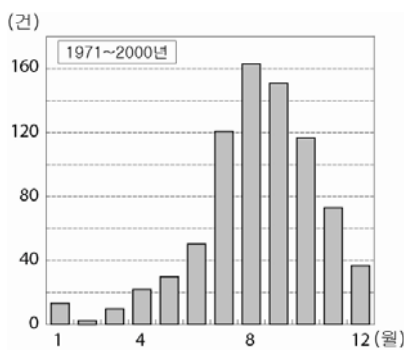
- ① 전기·전자 공업의 발달로 수요가 증가한다.
- ② 내열성이 높아 전구의 필라멘트에 사용된다.
- ③ 산업혁명의 바탕이 되는 자원으로 '산업의 쌀'이라 불린다.
- ④ 가볍고 부식에 강해 항공기 몸체, 음료수 캔으로 이용된다.
- ⑤ 변색·변질이 적어 장식품, 통조림의 내부 도금용으로 이용된다.

11. 다음은 기후 구분에 대한 퀴즈이다. (가)~(마) 기후가 나타나는 지역의 주요 식생에 대한 설명으로 적절한 것은?(단, 께펜의 기후 구분에 의함.)



- ① (가) - 나무는 거의 없고, 키 작은 풀이 자란다.
- ② (나) - 낙엽활엽수와 침엽수가 섞인 혼합림이 나타난다.
- ③ (다) - 경제성이 높은 침엽수림이 넓게 나타난다.
- ④ (라) - 수종이 다양한 상록활엽수림이 다층구조를 이룬다.
- ⑤ (마) - 선인장과 같은 내건성이 우수한 식생이 주종을 이룬다.

12. 자료를 통해 알 수 있는 기후 현상에 의한 재해의 대책으로 가장 적절한 것은? [3점]



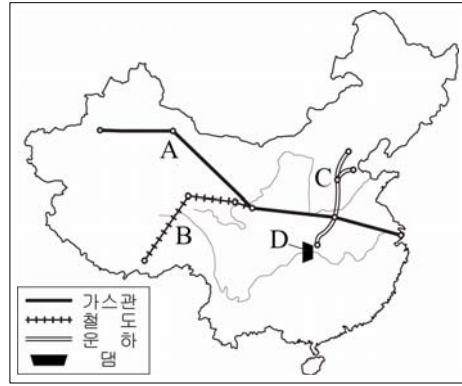
<일본에서 관측된 ○○의 발생 건수>



<재해 발생 지역>

- ① 고속도로에 열선을 설치한다.
- ② 상가의 간판을 견고하게 고정시킨다.
- ③ 농경지 주변에 바람개비를 설치한다.
- ④ 지하수를 개발하여 상수원을 확보한다.
- ⑤ 토양에 석회질 비료를 뿌려 피해를 예방한다.

13. 지도는 중국의 주요 지역 개발 사업을 나타낸 것이다. A~D 개발의 목적으로 옳은 것을 <보기>에서 고른 것은?



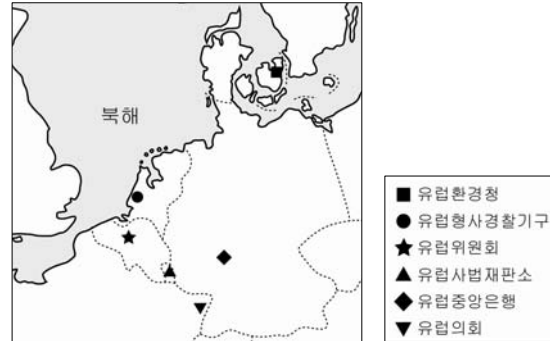
<보기>

- ㄱ. A - 천연 자원을 동부로 수송
- ㄴ. B - 티베트와 외부 지역 간의 접근성 개선
- ㄷ. C - 화북 지방의 방목 지대에 용수 공급
- ㄹ. D - 인접 국가에 수출할 전력 생산

- ① ㄱ, ㄴ
- ② ㄱ, ㄷ
- ③ ㄴ, ㄷ
- ④ ㄴ, ㄹ
- ⑤ ㄷ, ㄹ

14. 자료는 유럽의 어떤 국제 기구에 관한 것이다. (가)에 들어갈 내용으로 적절하지 않은 것은?

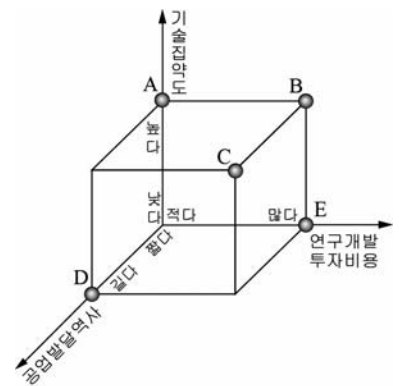
- 가입국 : 27개국 (2010년 7월 현재)
- 주요 산하 기구 위치



○ 효과 및 영향 : \_\_\_\_\_ (가)

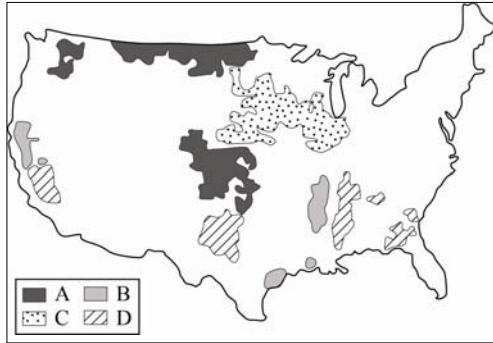
- ① 지역 경제권의 출범으로 세계 경제 다극화
- ② 공동 화폐의 사용으로 회원국 간 거래 비용의 절감
- ③ 이슬람 문화권 국가의 가입으로 문화적 다양성 증대
- ④ 회원국 간 원활한 노동력 이동으로 공업 입지의 유연성 강화
- ⑤ 역외 국가들에 대한 공동 대응으로 회원국의 경제적 이익 확대

15. 지도는 서부 유럽의 공업 지역을 나타낸 것이다. (가)와 비교한 (나) 지역의 공업 특징을 그래프에서 고른 것은? [3점]



- ① A
- ② B
- ③ C
- ④ D
- ⑤ E

16. 지도는 미국의 주요 농작물 재배 지역을 나타낸 것이다. A~D 작물에 대한 옳은 설명을 <보기>에서 고른 것은? [3점]

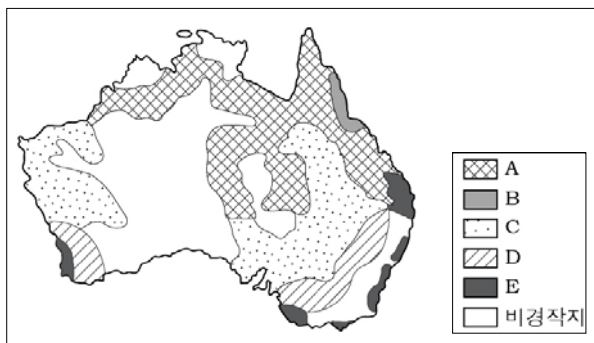


< 보기 >  
 ㄱ. A - 북부에서는 겨울, 남부에서는 봄에 파종한다.  
 ㄴ. B - 관개 시설의 확충으로 재배 면적이 확대되었다.  
 ㄷ. C - 주로 가축의 사료용으로 재배되고 있다.  
 ㄹ. D - 신·재생 에너지 소비 증가로 생산량이 증가하고 있다.

- ① ㄱ, ㄴ                      ② ㄱ, ㄷ                      ③ ㄴ, ㄷ  
 ④ ㄴ, ㄹ                      ⑤ ㄷ, ㄹ

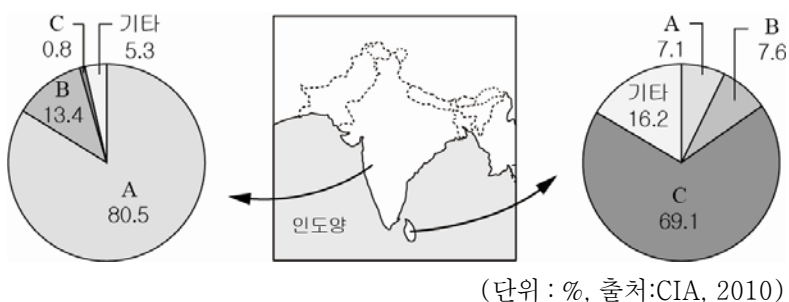
17. 다음은 오스트레일리아의 어떤 농목업에 대해 정리한 것이다. (가)에 해당하는 지역을 지도의 A~E에서 고른 것은?

○ 역사 : 1700년대 말 시드니 일대에서 시작  
 ○ 입지 요인 : 온화한 기후, 편리한 교통, 소비지와의 근접성  
 ○ 주요 생산품 : 치즈, 버터, 크림, 우유 등  
 ○ 주요 분포 지역 : \_\_\_\_\_ (가)



- ① A                      ② B                      ③ C                      ④ D                      ⑤ E

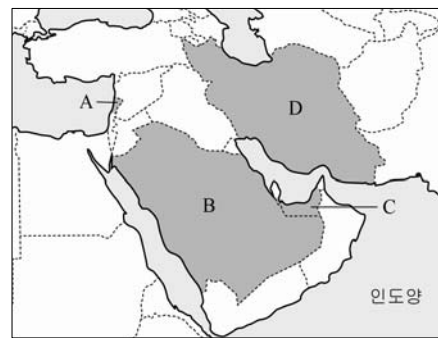
18. 자료는 남부 아시아에 위치한 두 나라의 종교 비율을 나타낸 것이다. A~C 종교에 대한 설명으로 가장 적절한 것은? [3점]



- ① A의 신자는 라마단 기간 동안 금식한다.  
 ② A는 연꽃과 보리수 전파에 크게 영향을 미쳤다.  
 ③ B는 소고기 먹는 것을 금한다.  
 ④ B의 신자는 매일 성지를 향해 기도한다.  
 ⑤ C는 카스트 제도와 함께 주민 생활에 영향을 미친다.

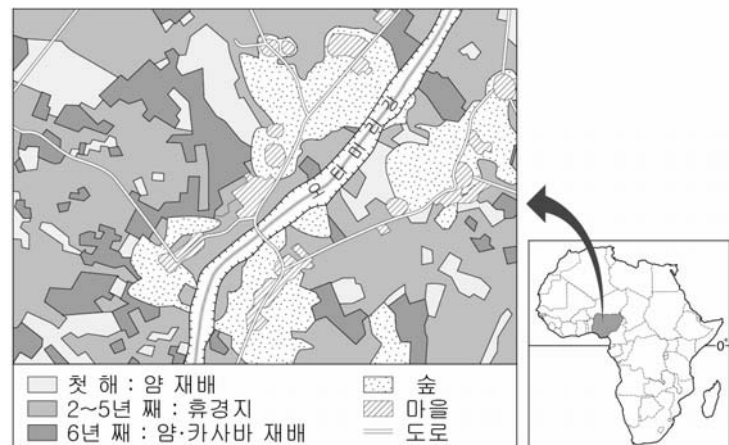
19. (가), (나)에 해당하는 국가를 지도의 A~D에서 찾아 바르게 짝지은 것은? [3점]

(가) 이 국가는 종교로 인한 갈등으로 내전을 경험하고 있으며, 겨울철에는 온난 습윤한 기후가 나타난다. 유엔 평화 유지군의 일원으로 우리나라의 ○○부대가 활동하고 있다.  
 (나) 이 국가는 7개의 부족 국가가 연합하여 건국되었으며, 국토의 대부분이 사막을 이루고 있다. 최근 우리나라와 원자력 발전소 건설과 관련된 협약을 체결하였다.



- |   |     |     |   |     |     |
|---|-----|-----|---|-----|-----|
|   | (가) | (나) |   | (가) | (나) |
| ① | A   | B   | ② | A   | C   |
| ③ | B   | C   | ④ | B   | D   |
| ⑤ | C   | D   |   |     |     |

20. 자료는 지도의 검게 표시된 국가에서 행해지는 어떤 농업 방식을 나타낸 것이다. 이와 같은 농업의 특징에 대한 적절한 설명을 <보기>에서 고른 것은? [3점]



< 보기 >  
 ㄱ. 원주민에 의해 식량 작물이 재배된다.  
 ㄴ. 외국 자본에 의한 집약적 농업이 이루어진다.  
 ㄷ. 지력을 높이기 위해 나무를 베어내고 태운다.  
 ㄹ. 재배 작물은 국제 시장 가격 변동에 민감하다.

- ① ㄱ, ㄴ                      ② ㄱ, ㄷ                      ③ ㄴ, ㄷ  
 ④ ㄴ, ㄹ                      ⑤ ㄷ, ㄹ

※ 확인사항  
 문제지와 답안지의 해당란을 정확히 기입(표기)했는지 확인하시오.