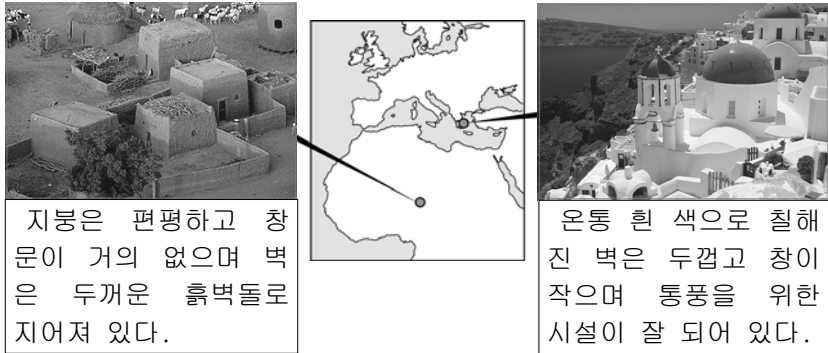


5. 자료와 같은 가옥 형태의 형성에 공통적으로 영향을 미친 요인으로 알맞은 것은?

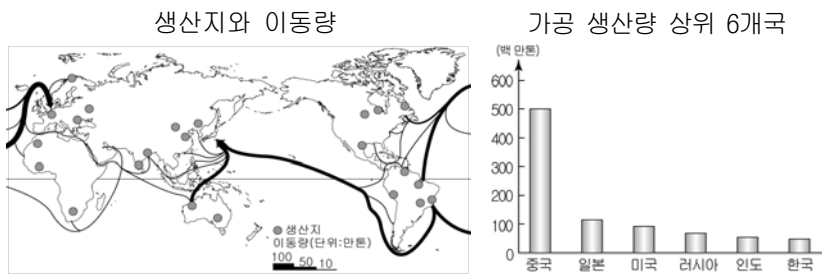


지붕은 편평하고 창문이 거의 없으며 벽은 두꺼운 흙벽돌로 지어져 있다.

온통 흰 색으로 칠해진 벽은 두껍고 창이 작으며 통풍을 위한 시설이 잘 되어 있다.

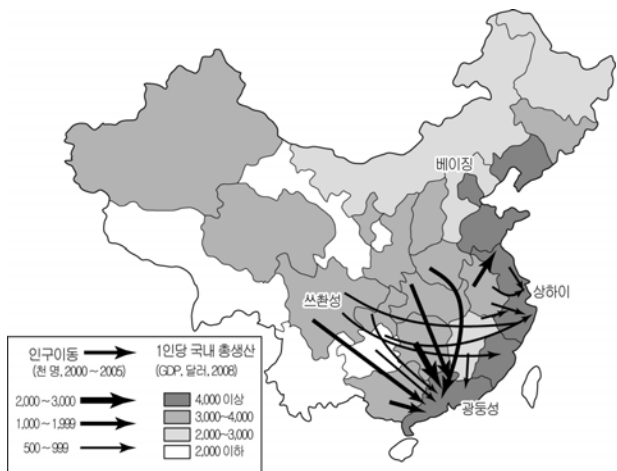
- ① 편서풍 ② 격해도 ③ 제트 기류
- ④ 아열대 고압대 ⑤ 열대성 저기압

6. 자료에 해당하는 자원에 대한 설명으로 알맞은 것은?



- ① 반도체와 유리 공업의 원료로 이용된다.
- ② 전기·통신 사업의 발달로 수요가 급증하였다.
- ③ 가볍고 부식에 강해 항공기 산업에 주로 이용된다.
- ④ 귀금속의 원료이며 경도가 높아 공업용으로 사용된다.
- ⑤ '산업의 쌀'이라 불리우며 제철 공업의 원료로 사용된다.

7. 자료를 바탕으로 추론한 내용으로 알맞은 것을 <보기>에서 고른 것은? [3점]



<보 기>

ㄱ. 주된 인구 이동 요인은 석유 자원의 개발 때문일 것이다.

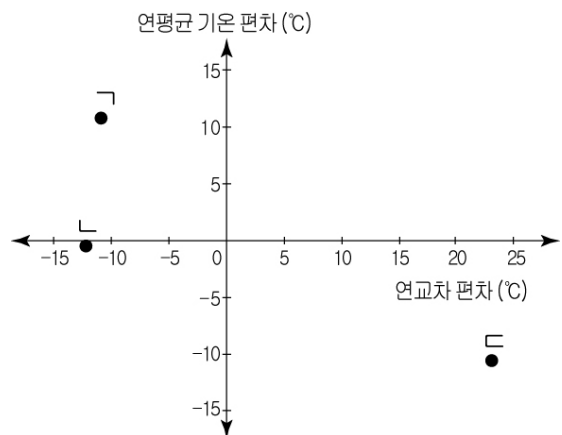
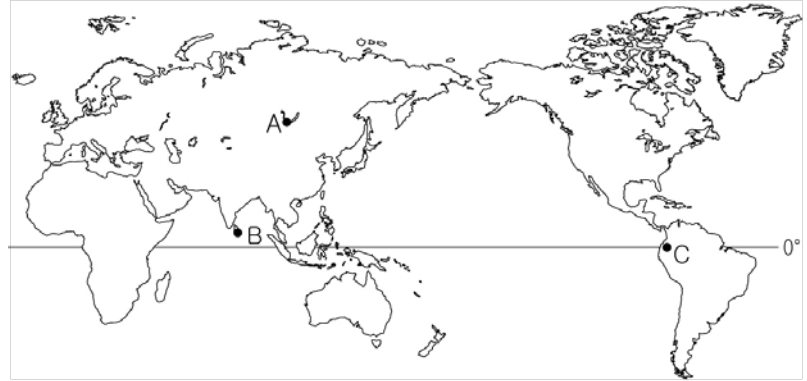
ㄴ. 중부 내륙 지역보다 동부 해안 지역의 도시화율이 높을 것이다.

ㄷ. 1인당 국내총생산이 높은 지역일수록 1차 산업의 비중이 높을 것이다.

ㄹ. 동부 해안 지역 중심의 개발로 경제적 불균형이 심화되었을 것이다.

- ① ㄱ, ㄴ ② ㄱ, ㄷ ③ ㄴ, ㄷ ④ ㄴ, ㄹ ⑤ ㄷ, ㄹ

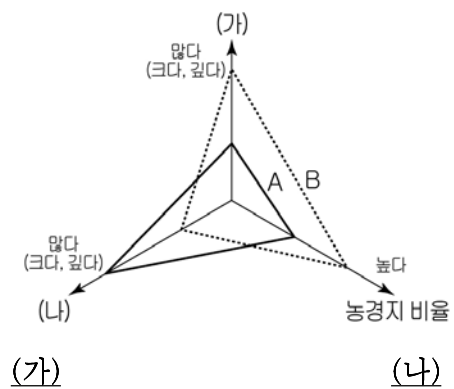
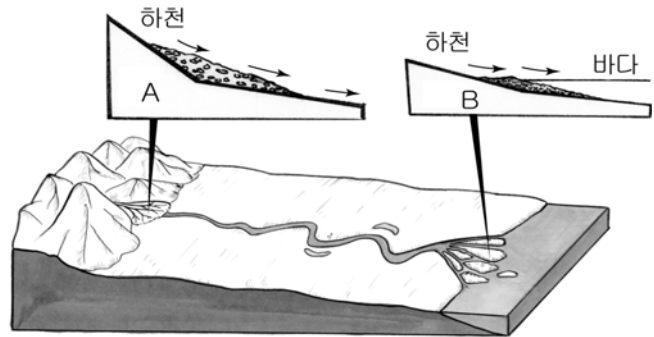
8. A~C 세 지역의 기후값을 그래프에서 골라 알맞게 연결한 것은? [3점]



* 연평균 기온 편차 = 연평균 기온 - 세 지역 연평균 기온의 평균값
연교차 편차 = 연교차 - 세 지역 연교차의 평균값

- | | | | | | | | |
|---|---|---|---|---|---|---|---|
| | A | B | C | | A | B | C |
| ① | ㄱ | ㄴ | ㄷ | ② | ㄱ | ㄷ | ㄴ |
| ③ | ㄴ | ㄷ | ㄱ | ④ | ㄷ | ㄱ | ㄴ |
| ⑤ | ㄷ | ㄴ | ㄱ | | | | |

9. A, B 지형의 특성을 비교할 때 그래프의 (가), (나)에 해당하는 내용을 알맞게 연결한 것은? [3점]



- | | |
|----------------|--------------|
| ① 평균 유량 | 퇴적물입자의 평균 크기 |
| ② 지면 경사도 | 퇴적물입자의 평균 크기 |
| ③ 지하수면 깊이 | 평균 유량 |
| ④ 퇴적물입자의 평균 크기 | 지하수면 깊이 |
| ⑤ 퇴적물입자의 평균 크기 | 지면 경사도 |

10. (가), (나) 지형에 대한 학습 주제를 <보기>에서 골라 알맞게 연결한 것은?



<보 기>
 가. 파랑이 지형 발달에 미치는 영향
 나. 탁월풍이 지형 발달에 미치는 영향
 다. 빙하의 이동이 지형 발달에 미치는 영향
 르. 수분의 동결과 융해가 지형 발달에 미치는 영향

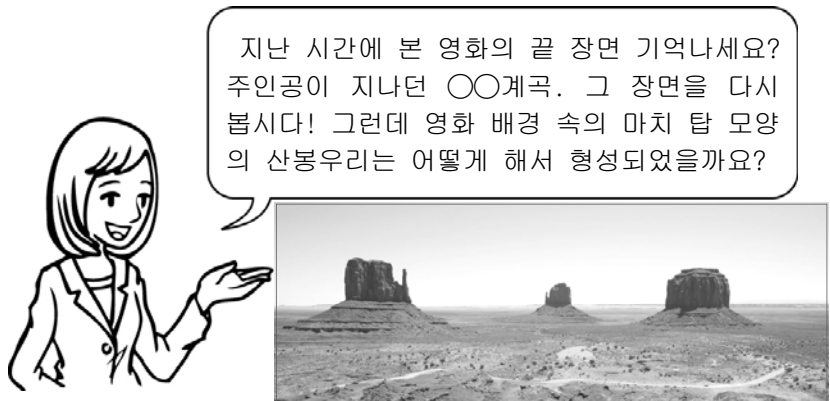
- | | | | | | |
|---|-----|-----|---|-----|-----|
| | (가) | (나) | | (가) | (나) |
| ① | 가 | 나 | ② | 가 | 르 |
| ③ | 다 | 가 | ④ | 다 | 르 |
| ⑤ | 르 | 나 | | | |

11. A, B 작물에 대한 설명으로 알맞은 것은? [3점]



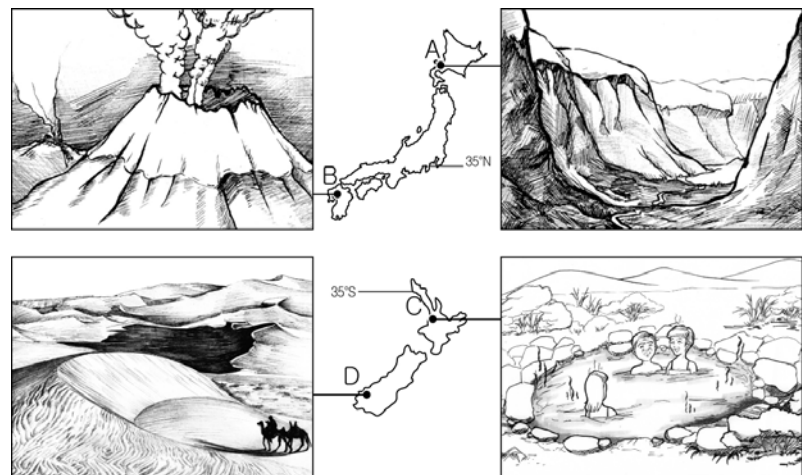
- ① A는 남미가 원산지이며 초콜릿의 원료로 사용된다.
- ② A는 나무의 수액에서 추출되며 최근 침구재료로 사용된다.
- ③ B는 잎을 따서 찌거나 말려 음료로 만든다.
- ④ B는 건기와 우기가 뚜렷한 지역에서 재배에 유리하다.
- ⑤ A, B는 생산지와 소비지가 거의 일치해 국제적 이동량이 적다.

12. 교사의 질문에 대한 대답으로 알맞은 것은?



- ① 지각이 단층 작용을 받아서 형성되었습니다.
- ② 유동성이 작은 용암이 분출하여서 형성되었습니다.
- ③ 지각 판의 충돌로 습곡 작용을 받아서 형성되었습니다.
- ④ 절리가 많은 기반암이 용식 작용을 받아서 형성되었습니다.
- ⑤ 암석의 경연 차에 따른 차별 침식을 받아서 형성되었습니다.

13. A~D 중 지역과 경관이 알맞게 연결된 것은? [3점]



- ① A, B ② A, D ③ B, C ④ B, D ⑤ C, D

14. A, B 지역에서 이루어지는 목축업의 특징으로 알맞은 것은? [3점]



- ① A는 가축 사육과 함께 사료 작물을 재배한다.
- ② B는 계절에 따라 산지와 평지를 오가며 사육한다.
- ③ A는 B보다 노동 생산성이 높고 생산물의 수출 비중이 크다.
- ④ B는 A보다 가족 노동력에 대한 의존도가 높다.
- ⑤ B는 A보다 자본의 투자가 많고 경영 규모가 크다.

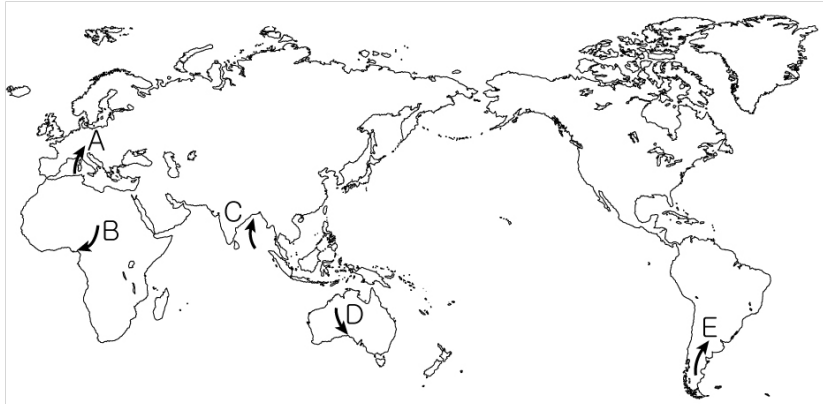
15. A~C에 대한 설명으로 알맞은 것은? [3점]



- ① 종교·문화적 동질성이 통합의 가장 큰 배경이다.
- ② 모든 회원국이 단일 화폐를 사용하여 하나의 경제권을 형성하고 있다.
- ③ EU는 B의 가입으로 인해 역내 경제적 격차를 해소하기 위한 재정 부담이 감소하였다.
- ④ C는 낮은 경제 수준 때문에 EU 가입에 제약을 받고 있다.
- ⑤ B는 A보다 인건비가 저렴하여 외국 기업의 투자가 증가하고 있다.

16. 자료와 유사한 성격의 바람을 지도에서 알맞게 고른 것은?

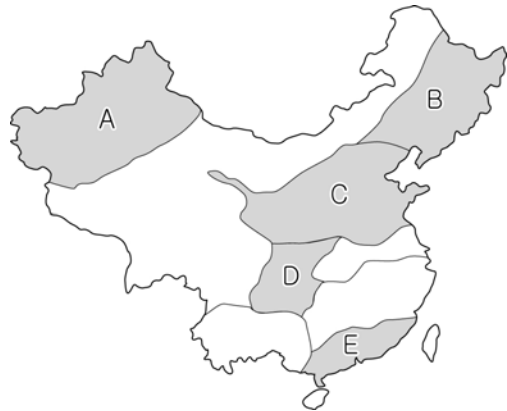
로키 산맥의 동편에 위치한 이 지역에는 고온 건조한 바람이 불어올 때가 있다. 잠잠했다가도 갑자기 160km/h 이상의 엄청난 속도로 바람이 불어 내려올 때는 한 시간 만에 기온이 10℃ 이상 올라가 하룻밤 사이 30~40cm의 눈이 녹기도 한다.



- ① A ② B ③ C ④ D ⑤ E


17. A~E 지역에 대한 설명으로 알맞은 것은? [3점]

중국의 농업 지역



- ① A는 콩, 옥수수 등과 같은 잡곡류 생산량이 많다.
- ② B는 벼, 사탕수수 등이 재배되는 중국 농업의 축소판이다.
- ③ C는 밀재배가 이루어지는 세계적인 밭농사 지역이다.
- ④ D는 층적 평야를 중심으로 벼의 2기작이 주로 이루어진다.
- ⑤ E는 오아시스 농업 지역으로 최근 관개 시설이 확충되고 있다.

18. 자료에 해당하는 국가를 지도에서 고른 것은?

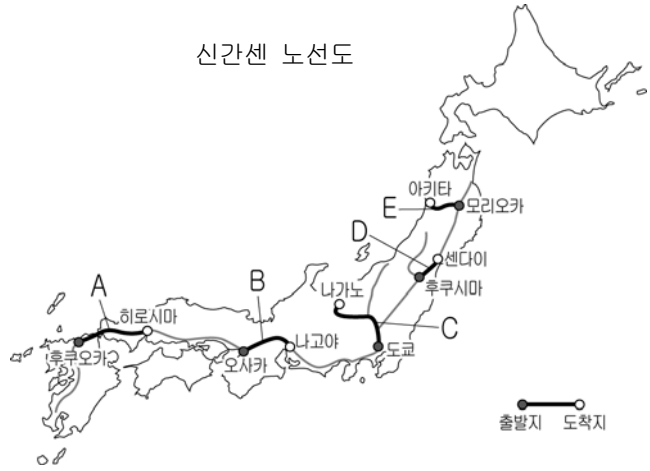
 육지의 3분의 1 이상이 바다보다 낮은 이 나라는 지속적인 간척 사업으로 국토를 늘려왔다고 한다. 풍차 마을에서의 치즈 공장 and 나막신 공장 견학은 무척 색다른 경험이었다.



- ① A
- ② B
- ③ C
- ④ D
- ⑤ E

19. 자료에 해당하는 구간을 지도에서 고른 것은?

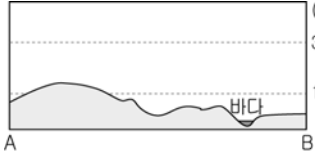
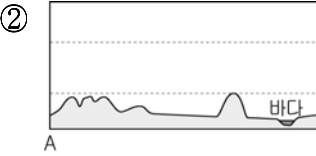
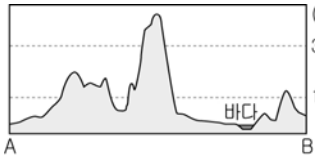
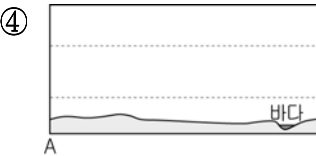
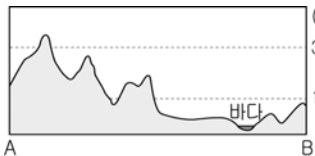
○ 출발지 : 전통적인 상업의 중심지로 재일 동포가 가장 많이 거주하는 도시
○ 도착지 : 섬유, 도자기 등 전통 산업 도시에서 철강, 자동차 등 중화학 공업 중심으로 변화한 도시



- ① A ② B ③ C ④ D ⑤ E

20. A - B 구간의 지형 단면으로 알맞은 것은? [3점]



- ① 
- ② 
- ③ 
- ④ 
- ⑤ 

* 확인 사항

○ 답안지의 해당란에 필요한 내용을 정확히 기입(표기)했는지 확인 하시오.