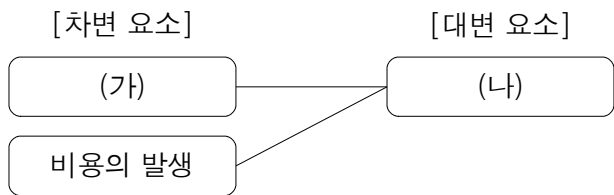


# 제 4 교시      직업탐구 영역 (회계원리)

|    |  |      |  |  |  |  |   |  |  |
|----|--|------|--|--|--|--|---|--|--|
| 성명 |  | 수험번호 |  |  |  |  | 2 |  |  |
|----|--|------|--|--|--|--|---|--|--|

1. 다음 거래를 거래 요소의 결합 관계로 나타낼 때 (가), (나)에 들어갈 거래 요소로 바르게 짝지어진 것은?

사용 중인 영업용 건물을 수리하고 수리비 ₩3,000,000을 수표를 발행하여 지급하다. 그 중 ₩2,800,000은 자본적 지출이다.



- |          |        |
|----------|--------|
| (가)      | (나)    |
| ① 자산의 증가 | 자산의 감소 |
| ② 자산의 증가 | 자본의 증가 |
| ③ 부채의 감소 | 자본의 증가 |
| ④ 자본의 감소 | 자산의 감소 |
| ⑤ 자본의 감소 | 부채의 증가 |

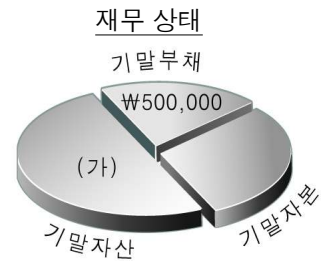
2. 그림의 대화에 나타난 거래를 회계 처리할 때 대변 계정과목으로 옳은 것은?



- |               |               |
|---------------|---------------|
| ① 보통예금, 이자수익  | ② 단기대여금, 보통예금 |
| ③ 단기대여금, 이자수익 | ④ 장기대여금, 보통예금 |
| ⑤ 장기대여금, 이자수익 |               |

3. 다음 자료는 개인회사인 ○○기업의 2008년 말 손익계정과 재무상태의 일부를 나타낸 것이다. (가)에 들어갈 금액으로 옳은 것은? (단, 기초자본은 ₩1,000,000이다.) [3점]

| 손 익  |                          |
|--|--------------------------|
| :<br>이자비용 15,000<br>자본금 200,000<br><hr/> ××× | :<br>:<br>:<br><hr/> ××× |



- |              |              |              |
|--------------|--------------|--------------|
| ① ₩700,000   | ② ₩800,000   | ③ ₩1,500,000 |
| ④ ₩1,700,000 | ⑤ ₩1,800,000 |              |

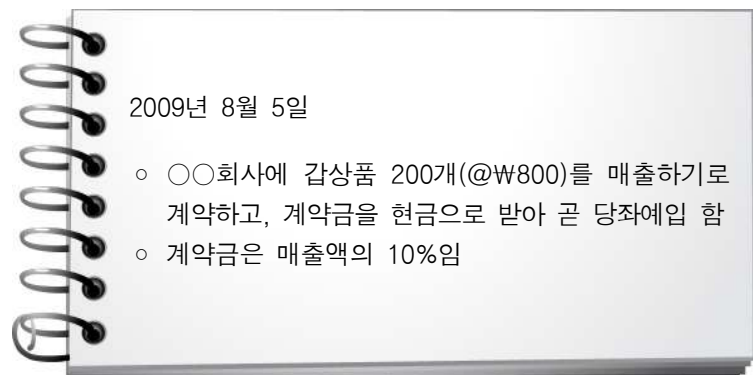
4. 다음 거래를 회계 처리할 때 계정과목과 금액이 기입될 계좌로 옳은 것만을 <보기>에서 있는 대로 고른 것은? (단, 상품은 단일상품 계정으로 처리한다.) [3점]

상품 ₩700,000을 매입하고, 대금 중 ₩500,000은 현금으로 지급하고 잔액은 외상으로 하다.

| < 보 기 > |   |      |   |
|---------|---|------|---|
| 자산계정    |   | 부채계정 |   |
| ㄱ       | ㄴ | ㄷ    | ㄹ |

- |           |           |        |
|-----------|-----------|--------|
| ① ㄱ, ㄴ    | ② ㄱ, ㄹ    | ③ ㄴ, ㄷ |
| ④ ㄱ, ㄴ, ㄹ | ⑤ ㄴ, ㄷ, ㄹ |        |

5. 다음 자료에 나타난 거래를 분개한 것으로 옳은 것은? (단, 상품계정은 3분법으로 처리한다.)



- |                     |                    |
|---------------------|--------------------|
| ① (차변) 현금 16,000    | (대변) 선 수 금 16,000  |
| ② (차변) 현금 160,000   | (대변) 매 출 160,000   |
| ③ (차변) 당좌예금 16,000  | (대변) 선 수 금 16,000  |
| ④ (차변) 당좌예금 160,000 | (대변) 매 출 160,000   |
| ⑤ (차변) 당좌예금 160,000 | (대변) 선 수 금 160,000 |

6. 다음 거래에 대한 분개가 잘못되었다. 이 거래를 바르게 분개했을 경우 (가)에 들어갈 계정과목으로 옳은 것은?

[거래]  
 사원 김○○에게 출장을 명하고, 여비 개산액 ₩300,000을 현금으로 지급하다.

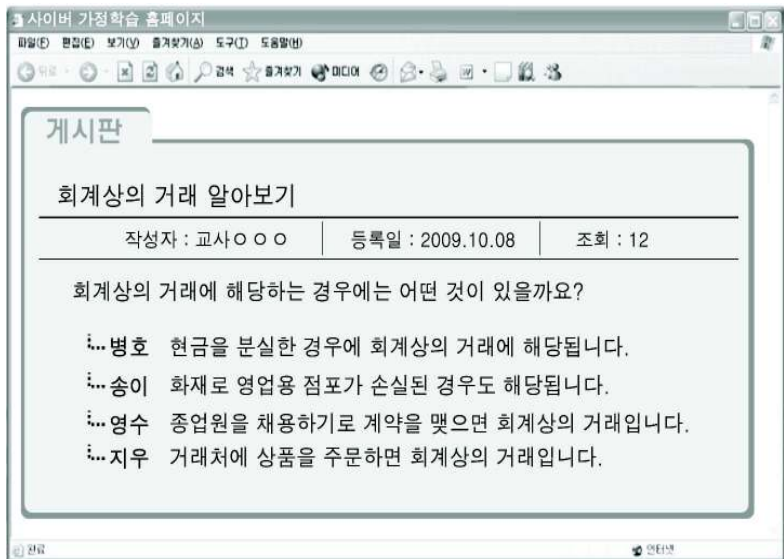
[분개]  
 (차변) 여비교통비 300,000 (대변) 현 금 300,000



[옳은 분개]  
 (차변) (가) 300,000 (대변) 현 금 300,000

- ① 가수금                      ② 대여금                      ③ 선급금
- ④ 예수금                      ⑤ 가지급금

7. 그림은 사이버 가정학습 게시판을 나타낸 것이다. 교사의 질문에 대한 답글이 옳은 학생을 고른 것은?



- ① 병호, 송이                      ② 병호, 영수                      ③ 송이, 영수
- ④ 송이, 지우                      ⑤ 영수, 지우

8. 다음 회계 장부를 바탕으로 (가)에 들어갈 금액을 계산한 것으로 옳은 것은? (단, 임대차 계약일은 10월 1일이며 임차보증금은 없다.) [3점]

**분개장**

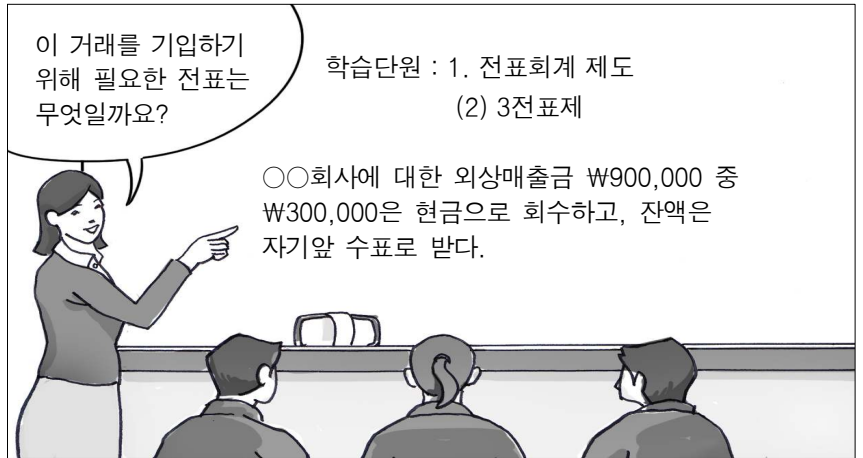
| 2008년 | 적요              | 원면 | 차변  | 대변  |
|-------|-----------------|----|-----|-----|
| 10    | 1 (임차료)         |    | (가) |     |
|       | (현 금)           | 생  |     | xxx |
|       | 임차료 5개월 분 현금 지급 | 락  |     |     |

**이월시산표**

| ○○기업  | 2008년 12월 31일 현재 |         | (단위 : 원) |   |
|-------|------------------|---------|----------|---|
| ∴     | ∴                | ∴       | ∴        | ∴ |
| 선급임차료 | 400,000          | 단기차입금   | 150,000  |   |
| ∴     | ∴                | 선 수 이 자 | 60,000   |   |

- ① ₩400,000                      ② ₩600,000                      ③ ₩800,000
- ④ ₩1,000,000                      ⑤ ₩1,400,000

9. 그림은 3전표제에 대한 수업 장면이다. 선생님의 질문에 대한 답으로 옳은 것만을 <보기>에서 있는 대로 고른 것은?

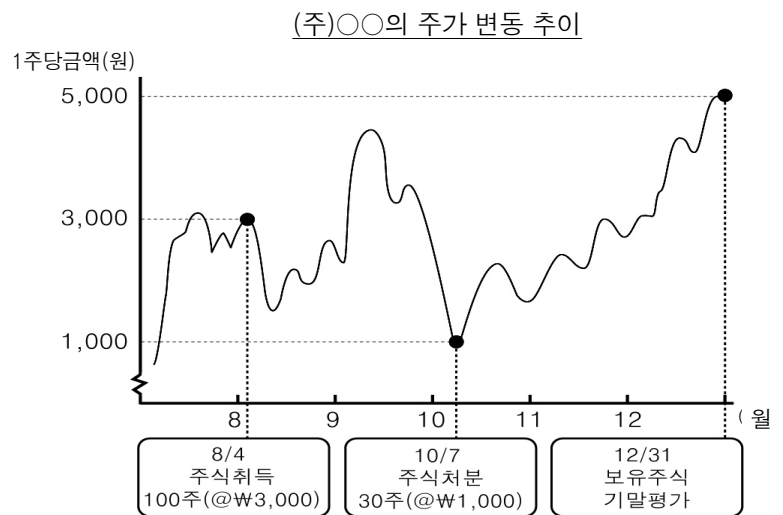


< 보 기 >

㉠. 입금 전표    ㉡. 출금 전표    ㉢. 대체 전표

- ① ㉠                                      ② ㉡                                      ③ ㉢
- ④ ㉠, ㉢                                      ⑤ ㉡, ㉢

10. 그래프는 단기시세차익을 목적으로 취득한 (주)○○의 주가 변동 추이와 거래 내역을 나타낸 것이다. 이에 대한 회계 처리 결과를 주어진 계정에 기입하였을 때 (가), (나)에 들어갈 내용으로 바르게 짝지어진 것은? (단, 모든 거래는 현금 거래이며, 유가증권 거래에 따른 비용은 고려하지 않는다.) [3점]



**단기매매증권**

| 8/4   | 현     | 금     | 300,000 | 10/7  | 제    | 좌 | 90,000 |
|-------|-------|-------|---------|-------|------|---|--------|
| 12/31 | ( 가 ) | ( 나 ) |         | 12/31 | 차기이월 |   | xxx    |
|       |       |       | xxx     |       |      |   | xxx    |

- |              | (가) | (나)     |
|--------------|-----|---------|
| ① 단기매매증권평가이익 |     | 140,000 |
| ② 단기매매증권평가이익 |     | 280,000 |
| ③ 단기매매증권평가손실 |     | 280,000 |
| ④ 단기매매증권처분손실 |     | 140,000 |
| ⑤ 단기매매증권처분손실 |     | 280,000 |

11. 다음은 ○○기업의 회사내 공고문 일부를 나타낸 것이다. 밑줄 친 부분의 거래가 발생되어 회계 처리할 경우 차변 계정과목으로 옳은 것은?

**공 고 문**

- 공고번호 : 제2009-23호
- 담당부서 : 총무팀
- 제 목 : 직원 복지 향상을 위한 규정 신설

1. 내 용  
 범사회적인 출산 장려 운동에 동참하고 종업원들의 근무 만족도를 향상시키기 위해 3자녀 이상 출산할 경우에 출산에 따른 병원비 보조 및 기념품을 지급한다.

2. 세부 방침

2009년 9월 1일  
 ○○기업 대표이사 홍길동

- ① 급여
- ② 기부금
- ③ 잡손실
- ④ 복리후생비
- ⑤ 세금과공과

12. 다음 자료를 이용하여 정액법과 정률법으로 각각 감가상각 하였을 경우 <보기>에서 비교 항목에 대한 결과가 옳은 것만을 있는 대로 고른 것은? (단, 기계장치 이외의 유형자산은 고려하지 않는다.) [3점]

[기계장치 감가상각 자료]

- 취득일 : 2007년 1월 1일
- 취득원가 : ₩1,000,000
- 내용연수 : 10년
- 잔존가액 : ₩0
- 기장방법 : 간접법
- 결산 : 연 1회(매년 12월 말)

[감가상각 방법]

- 정액법
- 정률법(상각률 연 25.9%)

| 연도별 비교 항목           | 결과        |
|---------------------|-----------|
| ㄱ. 2007년 말의 감가상각비   | 정액법 < 정률법 |
| ㄴ. 2008년 말의 미상각 잔액  | 정액법 > 정률법 |
| ㄷ. 2008년 말의 감가상각누계액 | 정액법 = 정률법 |

- ① ㄱ
- ② ㄴ
- ③ ㄱ, ㄴ
- ④ ㄱ, ㄷ
- ⑤ ㄴ, ㄷ

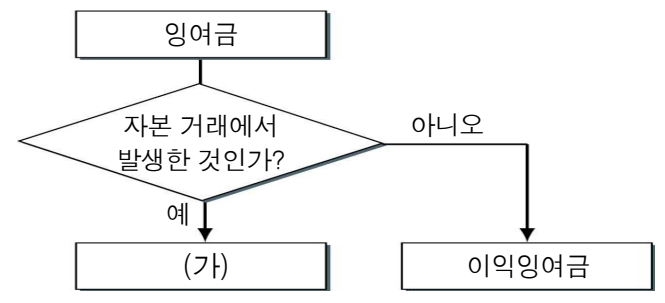
13. 다음은 거래와 그 분개를 A회사와 B전자의 입장에서 나타낸 것이다. (가), (나)에 들어갈 계정과목으로 옳은 것은? (단, 상품계정은 3분법으로 처리한다.)

[거래]  
 A회사는 B전자로부터 업무용으로 사용할 컴퓨터 1대를 구입하고, 그 대금 ₩900,000을 월말에 지급하기로 하다.

[분개]  
 A회사 : (차변) 비 품 900,000 (대변) (가) 900,000  
 B전자 : (차변) (나) 900,000 (대변) 매 출 900,000

- | (가)     | (나)   |
|---------|-------|
| ① 미수금   | 외상매출금 |
| ② 미지급금  | 미수금   |
| ③ 미지급금  | 외상매출금 |
| ④ 외상매입금 | 미수금   |
| ⑤ 외상매입금 | 외상매출금 |

14. 그림은 잉여금을 발생 원천에 따라 구분한 것이다. (가)로 분류할 수 있는 것만을 <보기>에서 있는 대로 고른 것은? [3점]



< 보 기 >

- ㄱ. 상법의 규정에 의해서 회사내에 유보된 이익준비금
- ㄴ. 결손금을 보전하기 위해 감자한 경우 발생한 감자차익
- ㄷ. 주식을 액면금액보다 높게 발행한 경우 발생한 주식발행초과금

- ① ㄱ
- ② ㄴ
- ③ ㄱ, ㄴ
- ④ ㄱ, ㄷ
- ⑤ ㄴ, ㄷ

15. 그림은 현금성자산의 종류에 대한 학습 장면이다. 발표 내용이 옳은 학생을 고른 것은? [3점]

단기금융상품도 취득 당시 만기가 1년 이내이면 현금성자산이지.

학습목표 : 현금성자산의 종류를 말할 수 있다.

취득 당시 만기가 3개월 이내에 도래하는 채권도 해당 돼.

가입 당시 만기가 3개월 이내인 정기 예금은 현금성자산 이야.

양도성 예금증서도 취득 당시 만기가 6개월 이내이면 해당되지.

명철

영희

지혜

하늘

- ① 명철, 영희
- ② 명철, 지혜
- ③ 영희, 지혜
- ④ 영희, 하늘
- ⑤ 지혜, 하늘

16. 그림은 수익과 비용의 종류를 구분하는 게임을 나타낸 것이다. 게임 과제에 맞는 풍선을 모두 맞추면 얻을 수 있는 점수의 합계로 옳은 것은?

**게임 과제**

판매비와 관리비에 속하는 계정과목이 기입된 풍선을 모두 맞춰 보세요.

**점수 : 000**

- ① 10점
- ② 22점
- ③ 30점
- ④ 37점
- ⑤ 44점

17. 다음 거래를 당좌예금출납장에 기입된 내용을 바탕으로 분개했을 때 대변에 기입될 내용으로 옳은 것은? (단, 은행과 ₩500,000 한도의 당좌차월계약이 체결되어 있다.) [3점]

11월 2일 ○○회사에 대한 외상매입금 ₩800,000을 수표를 발행하여 지급하다.

| 2009년 | 적요     | 예입      | 인출 | 차·대 | 잔액      |
|-------|--------|---------|----|-----|---------|
| 11    | 1 전월이월 | 600,000 |    | 차   | 600,000 |

- ① 현 금 800,000
- ② 당좌예금 800,000
- ③ 외상매입금 600,000
- ④ 당좌예금 600,000
- 당좌차월 200,000
- 현 금 200,000
- ⑤ 당좌예금 600,000
- 당좌차월 200,000

18. 다음 자료는 ○○기업의 2008년 말 갑상품 재고 현황이다. 이를 회계 처리한 결과로 옳은 것만을 <보기>에서 있는 대로 고른 것은? [3점]

[갑상품 재고 현황]

- 장부상 재고액 : ₩300,000 (100개, @₩3,000)
- 실제 재고액 : ₩270,000 (90개, @₩3,000)

(단, 감모 금액은 모두 비정상적으로 발생된 것임)

< 보기 >

ㄱ. 자산이 감소되었다.                      ㄴ. 자본이 증가되었다.

ㄷ. 매출원가가 증가되었다.                ㄹ. 영업외비용이 증가되었다.

- ① ㄱ, ㄷ
- ② ㄱ, ㄹ
- ③ ㄴ, ㄹ
- ④ ㄱ, ㄴ, ㄷ
- ⑤ ㄴ, ㄷ, ㄹ

19. 다음은 ○○기업의 8월 중 상품재고장과 손익계정의 일부를 나타낸 것이다. (가)에 들어갈 금액으로 옳은 것은? (단, 상품계정은 3분법에 의하며 갑상품 단일품목만 취급한다.)

| 2009년 | 적요      | 인 수 |     |         | 인 도 |     |         | 잔 액 |     |         |
|-------|---------|-----|-----|---------|-----|-----|---------|-----|-----|---------|
|       |         | 수량  | 단가  | 금액      | 수량  | 단가  | 금액      | 수량  | 단가  | 금액      |
| 8     | 1 전월이월  | 300 | 250 | 75,000  |     |     |         | 300 | 250 | 75,000  |
|       | 10 매 입  | 100 | 250 | 25,000  |     |     |         | 400 | 250 | 100,000 |
|       | 31 차월이월 |     |     |         | 100 | 500 | 50,000  |     |     |         |
|       |         | 800 |     | 650,000 | 800 |     | 650,000 |     |     |         |

|          |     |
|----------|-----|
| 8/31 매 입 | (가) |
|----------|-----|

- ① ₩25,000
- ② ₩100,000
- ③ ₩550,000
- ④ ₩600,000
- ⑤ ₩650,000

20. 다음의 잔액시산표를 통해 알 수 있는 회계정보로 옳은 것만을 <보기>에서 있는 대로 고른 것은? [3점]

| 차 변     | 원면 | 계 정 과 목 | 대 변     |
|---------|----|---------|---------|
| 200,000 |    | 현 금     |         |
| 300,000 |    | 당 좌 예 금 |         |
| 140,000 |    | 외상매출금   |         |
| 170,000 | 생  | 받 을 어 음 |         |
| 50,000  | 락  | 이 월 상 품 |         |
|         |    | 단기차입금   | 300,000 |
|         |    | 외상매입금   | 200,000 |
|         |    | 지 급 어 음 | 150,000 |
|         |    | 자 본 금   | 410,000 |

< 보기 >

ㄱ. 당좌자산의 합계액은 ₩300,000이다.  
 ㄴ. 매입채무의 합계액은 ₩350,000이다.  
 ㄷ. 유동부채의 합계액은 ₩500,000이다.

- ① ㄱ
- ② ㄴ
- ③ ㄱ, ㄴ
- ④ ㄱ, ㄷ
- ⑤ ㄴ, ㄷ

**※ 확인사항**

문제지와 답안지의 해당란을 정확히 기입(표기)했는지 확인하십시오.