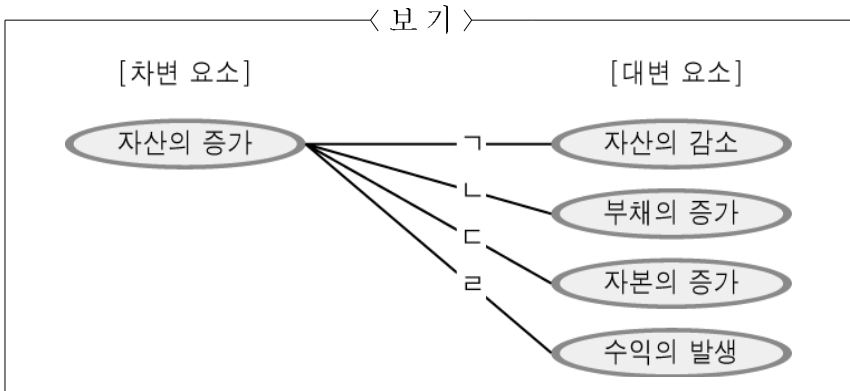


6. 다음 분개에 대한 거래 요소의 결합 관계를 <보기>에서 고른 것은?

[분개]
 (차) 상품 2,000,000 (대) 당좌예금 1,500,000
 외상매입금 500,000



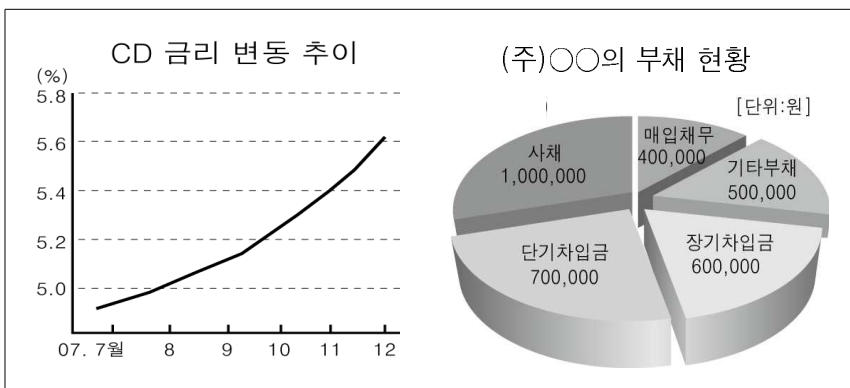
- ① 가, 나 ② 가, 다 ③ 나, 다
- ④ 나, 르 ⑤ 다, 르

7. ㉠의 원인으로 옳은 것은? [3점]

○○기업은 2008년 상반기 실적 발표를 통해 매출 10조165억 원, 영업이익 6,638억 원, 당기순이익 5,368억 원을 각각 기록했다고 밝혔다. 전년 같은 기간에 비해 매출은 13.7%, ㉠영업이익은 6.2% 증가했으나 당기순이익은 10.4% 감소한 것으로 나타났다.
 - (이하 생략) -
 - ○○일보 -

- ① 신제품 개발을 위한 연구비의 증가
- ② 판매 촉진을 위한 광고선전비의 증가
- ③ 종업원의 임금 인상으로 영업비의 증가
- ④ 원자재 가격 상승으로 인한 매출원가의 증가
- ⑤ 주식의 공정가액 하락으로 평가손실의 증가

8. CD(양도성 예금증서) 금리 변동 추이가 (주)○○의 2007년도 말 재무제표에 미치는 영향으로 적절한 것은?(단, 은행 대출 금리 인상은 CD 금리 변동에 비례함) [3점]



- ① 매출원가의 감소 ② 영업이익의 증가
- ③ 당기순이익의 증가 ④ 영업외 비용의 증가
- ⑤ 판매비와 관리비의 감소

9. 다음 계정의 기입 내용에 대한 설명으로 옳은 것은?(단, 사채발행비는 없음)

당좌예금	
7/9 사채	9,500,000
사 채	
	7/9 채좌 10,000,000
사채할인발행차금	
7/9 사채	500,000

- ① 사채의 발행 방법은 평가발행이다.
- ② 사채 발행은 유동부채를 증가시킨다.
- ③ 사채할인발행차금은 영업외 비용이다.
- ④ 사채 발행 대금은 전액 수표로 받았다.
- ⑤ 사채의 액면 가액이 발행 가액보다 높다.

10. (주)○○의 회계 감사 결과 보고서이다. 오류 사항을 2007년도 말에 수정하여 회계 처리하였다면 ㉠에 기입될 금액으로 옳은 것은? [3점]

감사 보고서

(주)○○ 귀중
 귀사의 2007년도 회계 장부를 기업회계기준에 의거하여 분석한 결과 다음과 같은 오류 사항이 발견되었습니다.

[오류 사항]
 ○ 기말상품재고액 ₩3,000 과소 계상
 ○ 세금과공과 ₩10,000을 이자 비용으로 처리
 ○ 보험료 미경과분 ₩5,000에 대한 결산 정리 누락

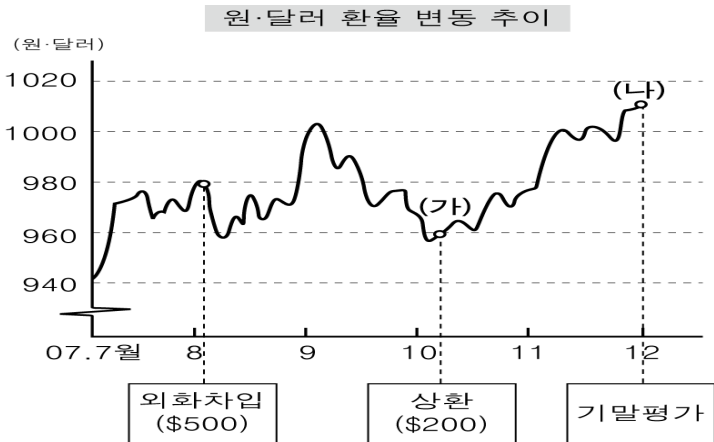
2008. 2. 13
 ○○세무법인 공인회계사 △△△ 인

(순손익 계산)

과 목	수정 전 금액	수정 후 금액
매출액	2,300,000	2,300,000
매출원가	1,500,000	XXX
매출충이익	800,000	XXX
판매비와관리비	500,000	XXX
영업이익	300,000	(㉠)
영업외수익	XXX	XXX
:	:	:

- ① ₩290,000 ② ₩298,000 ③ ₩308,000
- ④ ₩313,000 ⑤ ₩315,000

16. (가), (나)의 시점에서 회계 처리했을 때 발생하는 계정과목을 바르게 짝지은 것은? [3점]



- | | |
|----------|--------|
| (가) | (나) |
| ① 외환차손 | 외화환산이익 |
| ② 외환차익 | 외화환산손실 |
| ③ 외환차익 | 외화환산이익 |
| ④ 외화환산손실 | 외환차익 |
| ⑤ 외화환산이익 | 외환차손 |

17. ㉠에 들어갈 수 있는 계정과목만을 <보기>에서 고른 것은?

(㉠)	
6/22 현금 50,000	12/31 손익 50,000

< 보기 >	
㉠. 급여	㉡. 대손상각비
㉢. 수도광열비	㉣. 유형자산처분손실

- | | | |
|--------|--------|--------|
| ① ㉠, ㉡ | ② ㉠, ㉢ | ③ ㉡, ㉣ |
| ④ ㉢, ㉣ | ⑤ ㉢, ㉣ | |

18. 다음 자료를 바탕으로 계산한 매출총이익으로 옳은 것은?

매입장		
2008년	적요	금액
10 2	(명동상사) 외상 갑상품 30개 @₩3,000	90,000
31	총매입액	700,000
"	환출 및 에누리액	50,000
"	순매입액	650,000
매출장		
2008년	적요	금액
10 6	(충무상사) 현금 갑상품 20개 @₩5,000	100,000
31	총매출액	900,000
"	환입 및 에누리액	30,000
"	순매출액	870,000

○ 월초상품재고액 ₩50,000 ○ 월말상품재고액 ₩40,000

- | | | |
|------------|------------|------------|
| ① ₩160,000 | ② ₩170,000 | ③ ₩190,000 |
| ④ ₩200,000 | ⑤ ₩210,000 | |

19. 다음 대화를 바탕으로 분개한 내용으로 옳은 것은?(단, 현금 부족액은 결산일에 발견됨)



- | | | |
|-------------------|-----------------|-----------|
| ① (차)현금 20,000 | (대)현금과부족 15,000 | 잡이익 5,000 |
| ② (차)현금과부족 20,000 | (대)현금 15,000 | 잡이익 5,000 |
| ③ (차)현금 15,000 | (대)현금과부족 20,000 | 잡손실 5,000 |
| ④ (차)이자비용 15,000 | (대)현금 20,000 | 잡손실 5,000 |
| ⑤ (차)이자비용 15,000 | (대)현금과부족 20,000 | 잡손실 5,000 |

20. ㉠, ㉡에 들어갈 내용으로 바르게 짝지은 것은?(단, 3전표제 채택, 잔액은 현금으로 반환받음) [3점]

출장비 정산서	
2008년 6월 22일	
○ 수령액 : ₩300,000	
○ 지출액 : ₩280,000	
- 교통요금	80,000
- 식대 및 숙박요금	200,000
₩280,000	
○ 잔액 : ₩20,000	

(㉠)		대체 전표	
2008년 6월 23일		2008년 6월 23일	
계정 과목	금 액	계정 과목	대 변
가지급금	20,000	(㉡) 280,000	가지급금 280,000

- | | |
|--------|-------|
| ㉠ | ㉡ |
| ① 입금전표 | 현금 |
| ② 입금전표 | 여비교통비 |
| ③ 출금전표 | 현금 |
| ④ 출금전표 | 여비교통비 |
| ⑤ 대체전표 | 여비교통비 |

※ 확인사항

○ 문제지와 답안지의 해당란을 정확히 기입(표기)했는지 확인 하시오.