

2012학년도 6월 고1 전국연합학력평가 문제지

제 4 교시 탐구 영역(사회-일반 사회)

성명  수험 번호           1

1

- 자신이 선택한 과목의 문제지인지 확인하시오.
- 문제지의 해당란에 성명과 수험 번호를 정확히 쓰시오.
- 답안지의 해당란에 성명과 수험 번호를 쓰고, 또 수험 번호와 답을 정확히 표시하시오.
- 선택한 과목 순서대로 문제를 풀고, 답을 표시하시오.
- 문항에 따라 배점이 다르니, 각 물음의 끝에 표시된 배점을 참고하시오. 3점 문항에만 점수가 표시되어 있습니다. 점수 표시가 없는 문항은 모두 2점입니다.

1. 자료에 대한 설명으로 옳지 않은 것은?

구분	(가) 사회	(나) 사회
생산 방식	규격화된 대량 생산	㉠
부가 가치 원천	㉡	지식, 정보
대중 매체	㉢	쌍방향성 뉴미디어



18세기 산업 혁명으로 농경 사회에서 (가) 사회로 발전하였고, 정보 통신 기술의 발달로 (나) 사회로 변화하고 있습니다. (가), (나) 사회를 비교해 볼까요?

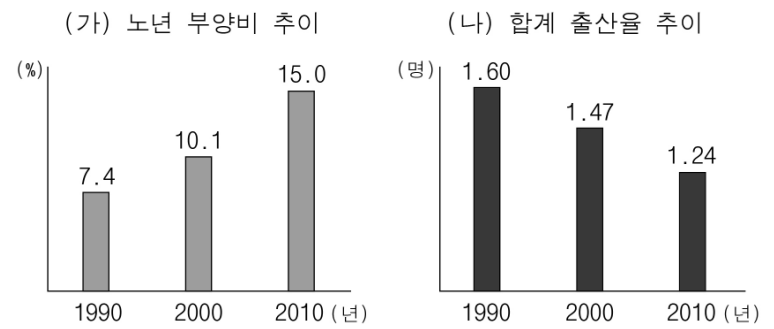
- ① ㉠에는 다품종 소량 생산이 해당한다.
- ② ㉡에는 노동과 자본이 해당한다.
- ③ ㉢은 문화의 획일화를 초래할 수 있다.
- ④ (나) 사회는 제조업 중심의 산업 구조를 가진다.
- ⑤ (가) 사회에 비해 (나) 사회에서는 의사 소통의 시·공간적 제약이 줄어든다.

2. 다음은 교사가 제시한 자료이다. 이를 통해 다루고자 한 수업 주제로 가장 적절한 것은?

국가 인권 위원회에 따르면 인종이나 출신 국가, 민족, 종교, 피부색 등을 이유로 제기된 진정 사건은 2005년 32건에서 2010년 64건으로 5년간 2배 늘었다. 2002년 이후 누적 통계로는 출신 국가 때문에 차별받았다는 내용이 213건으로 가장 많았고, 종교로 인한 차별 진정도 103건이었다. 또 2010년에 국내 다문화 가정 아동 186명을 대상으로 조사한 결과에 따르면, 응답자의 41.9%는 발음 때문에 따돌림을 당한 경험이 있고 25.3%는 피부색이 달라 놀림을 당했다.

- ① 외부적 요인에 의한 문화 변동
- ② 다문화 사회의 문화 갈등 양상
- ③ 사회 변동에 따른 가치관의 혼란
- ④ 민족 문화의 정체성 강화 필요성
- ⑤ 이념적 차이에 따른 갈등 해결 방안

3. (가), (나)와 관련된 진술로 옳지 않은 것은? [3점]



\* 노년 부양비: (65세 이상 인구 / 15~64세 인구) × 100  
\* 합계 출산율: 여성 1명이 평생 동안 낳는 자녀 수의 평균

- ① (가)로 인해 정부의 재정 부담이 증가할 수 있다.
- ② (가)로 인해 노인들의 정치적 영향력이 확대될 수 있다.
- ③ (나)로 인해 평균 수명이 늘어나게 될 것이다.
- ④ (나)는 장기적으로 인구 감소를 초래할 것이다.
- ⑤ (나)는 (가)를 심화시키는 요인이 될 수 있다.

4. 다음에서 설명하고 있는 사회 변동 양상을 탐구하기 위한 적절한 자료로 볼 수 없는 것은?

오늘날 인류는 정치, 경제, 사회, 문화의 전 영역에서 민족과 국가의 경계를 넘어, 전 세계를 하나의 생활 단위로 하는 시대를 살아가고 있다. 우리나라에서도 이러한 흐름이 나타나고 있다.

- ① 여행자 입출국 추이
- ② 수출입액 규모 변화
- ③ 산업별 종사자 비율 변화
- ④ 자유 무역 협정 체결 현황
- ⑤ 국내 체류 외국인 수 변화

5. 밑줄 친 ㉠~㉣에 대한 설명으로 옳은 것은? [3점]

◊◊ 시민 연대는 유권자의 정치적 표현의 자유 확대와 참정권 보장을 촉구하며 공직 선거법 개정안을 ㉠ 입법 청원했다.  
△△ 지방 법원은 국민 참여 재판을 민사 재판까지 확대 실시하기로 하였다. △△ 지방 법원은 지금까지 11건의 ㉡ 국민 참여 재판을 형사 재판에서만 실시했다.  
주유소 협회는 “신용 카드 수수료가 세금을 포함한 주유소 판매 금액을 기준으로 하고 있어 주유소 업주들의 기본권을 침해한다.”라며 ㉢ 헌법 소원 심판 청구를 추진하였다.

- ① ㉠은 국민이 직접 법률안을 발의하는 것이다.
- ② ㉡은 범죄 피해자의 구조를 목적으로 한다.
- ③ ㉢은 입법 과정에 대한 국민의 참여이다.
- ④ ㉠과 달리 ㉡은 국민 주권주의에 바탕을 둔 참여이다.
- ⑤ ㉠, ㉡, ㉢ 모두 국민의 자유와 권리 보장을 목적으로 한다.

# 탐구 영역(사회-일반 사회)

6. 그림은 저출산 문제와 관련된 대화이다. 을의 입장과 부합하는 방안을 <보기>에서 고른 것은?



- <보 기>
- ㄱ. 가족 문화 개선 캠페인 전개
  - ㄴ. 양성평등주의적 가치관 정립
  - ㄷ. 출산 및 육아 지원 서비스 확대
  - ㄹ. 모성 보호를 위한 복지 법안 입법

- ① ㄱ, ㄴ    ② ㄱ, ㄷ    ③ ㄴ, ㄷ    ④ ㄴ, ㄹ    ⑤ ㄷ, ㄹ

7. (가), (나)에 대한 설명으로 옳지 않은 것은? [3점]

(가) 모든 국민은 인간으로서의 존엄과 가치를 가지며, 행복을 추구할 권리를 가진다. 국가는 개인이 가지는 불가침의 기본적 인권을 확인하고 이를 보장할 의무를 진다. (헌법 제10조)

(나) 국민의 모든 자유와 권리는 국가 안전 보장·질서 유지 또는 공공복리를 위하여 필요한 경우에 한하여 법률로써 제한할 수 있으며, 제한하는 경우에도 자유와 권리의 본질적인 내용을 침해할 수 없다. (헌법 제37조 ②)

- ① (가)는 국가 권력을 통제하는 효력을 가진다.
- ② (나)는 기본권 제한의 기본 원칙을 밝히고 있다.
- ③ (나)는 공권력에 의한 자의적인 기본권 제한을 금지한다.
- ④ (가)와 달리 (나)는 기본권을 절대적 권리로 보고 있다.
- ⑤ (가), (나) 모두 국민의 기본권 보장을 지향한다.

8. 밑줄 친 권리들의 공통적인 성격으로 옳은 것은? [3점]

- ○○ 사이트 해킹 사건의 피해자 500여 명은 “개인 정보가 도용되어 인격권과 재산권이 침해당했다.”라며 S사를 상대로 소송을 냈다.
- 살인 사건의 용의자로 경찰에 연행되어 조사를 받았던 A씨는 “경찰이 정당한 이유와 절차 없이 연행하여 신체의 자유를 침해했다.”라며 국가를 상대로 소송을 냈다.

- ① 국가 성립 이전의 천부적인 권리로 인정된다.
- ② 다른 기본권을 보장하기 위한 수단적 권리이다.
- ③ 국내에 거주하는 외국인에게는 보장되지 않는다.
- ④ 개인이 지닌 선천적, 후천적 차이가 적극 고려된다.
- ⑤ 개인 생활에 대한 국가의 적극적 개입을 통해 실현된다.

9. 밑줄 친 단체의 입장과 부합하는 진술을 <보기>에서 고른 것은?

○○ 신문

**‘SNS 규제 위한’ 판결, △△ 단체 ‘당연한 결과’**

헌법 재판소는 페이스북, 트위터 등 SNS(사회 관계망 서비스)를 통해 일반 국민 간에 선거 정보를 공유하고 특정 후보를 지지 혹은 비방하는 등의 선거 운동을 규제하는 근거였던 공직 선거법 조항에 대해 위헌 결정을 내렸다.

- <보 기>
- ㄱ. 표현의 자유는 최대한 보장되어야 한다.
  - ㄴ. SNS는 유권자 간 의사 소통을 활성화한다.
  - ㄷ. 정치적 표현은 ‘금지를 원칙으로, 허용을 예외로’ 해야 한다.
  - ㄹ. 불확실한 정보의 유통은 후보자에 대한 합리적 판단을 저해한다.

- ① ㄱ, ㄴ    ② ㄱ, ㄷ    ③ ㄴ, ㄷ    ④ ㄴ, ㄹ    ⑤ ㄷ, ㄹ

10. 자료에 대한 옳은 분석 및 추론을 <보기>에서 고른 것은?

[3점]

<다문화 가정 자녀의 취학 현황>

(단위: 명, %)

연도	다문화 가정의 취학 학생 수			전체 취학 학생 대비 비율
	국제 결혼 가정	외국인 근로자 가정	계	
2006	7,998	836	8,834	0.11
2007	13,445	1,209	14,654	0.19
2008	18,778	1,402	20,180	0.26
2009	24,745	1,270	26,015	0.35
2010	30,040	1,748	31,788	0.44

\* 국제 결혼 가정은 한국인 배우자와 외국인 배우자로 구성된 가정을, 외국인 근로자 가정은 취업을 위해 일시적으로 국내에 거주하는 외국인으로 구성된 가정을 의미함.

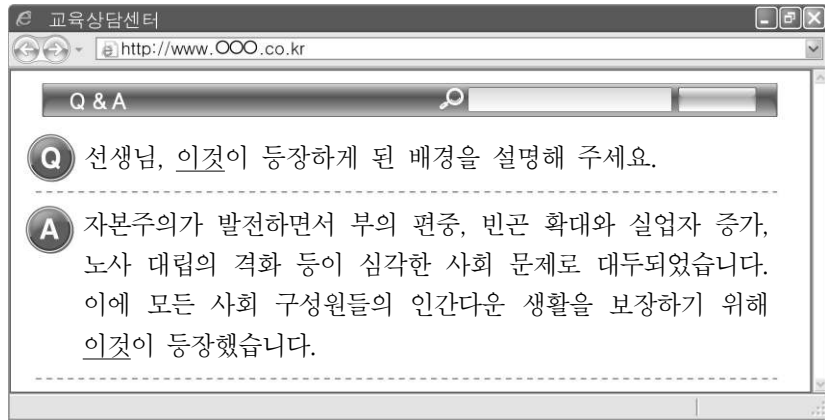
- <보 기>
- ㄱ. 2006년보다 2010년의 전체 취학 학생 수가 더 적다.
  - ㄴ. 다문화 가정 자녀의 교육에 대한 지원 필요성이 증가했을 것이다.
  - ㄷ. 2009년에 비해 2010년에 다문화 가정의 취학 학생 수는 0.09% 증가하였다.
  - ㄹ. 다문화 가정의 자녀 취학에서 외국인 근로자 가정의 자녀 취학이 차지하는 비중은 지속적으로 증가하였다.

- ① ㄱ, ㄴ    ② ㄱ, ㄷ    ③ ㄴ, ㄷ    ④ ㄴ, ㄹ    ⑤ ㄷ, ㄹ

# 탐구 영역(사회-일반 사회)

사회-일반 사회

11. 밑줄 친 '이것'에 해당하는 기본권에 대한 옳은 설명을 <보기>에서 고른 것은?



<보 기>

- ㄱ. 청원권과 국가 배상 청구권이 해당한다.
- ㄴ. 사회적 약자에 대한 우선적인 배려를 강조한다.
- ㄷ. 복지를 위한 국가의 역할을 요구할 수 있는 근거가 된다.
- ㄹ. 국민이 주권자로서 정치 과정에 참여할 수 있는 권리이다.

- ① ㄱ, ㄴ    ② ㄱ, ㄷ    ③ ㄴ, ㄷ    ④ ㄴ, ㄹ    ⑤ ㄷ, ㄹ

12. 자료에 대한 옳은 분석 및 추론을 <보기>에서 고른 것은? [3점]

A는 자신이 저작권을 가진 작품 사진을 무단으로 유포시킨 B의 행위로 인해 정신적·경제적 손해를 보았다. 이에 A는 다음과 같은 두 가지 법적 구제 방안을 고려하고 있다.  
1안: 수사 기관을 찾아가 B를 고소한다.  
2안: B를 상대로 배상을 요구하는 소송을 법원에 제기한다.

<보 기>

- ㄱ. 1안을 선택할 경우 소송 제기 주체는 검사이다.
- ㄴ. 2안을 선택하려면 법원의 조정 절차를 거쳐야 한다.
- ㄷ. B에 대해 형벌 부과를 원할 경우 1안을 선택할 것이다.
- ㄹ. 2안을 선택할 경우 정신적 피해에 대한 배상은 요구할 수 없다.

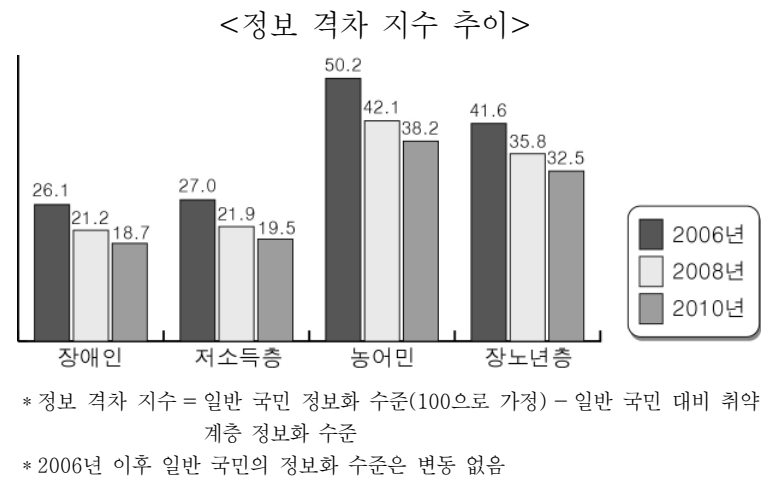
- ① ㄱ, ㄴ    ② ㄱ, ㄷ    ③ ㄴ, ㄷ    ④ ㄴ, ㄹ    ⑤ ㄷ, ㄹ

13. 다음 사례를 종합하여 파악할 수 있는 내용으로 가장 적절한 것은?

- 1789년 프랑스 혁명 시 발표된 '인간과 시민의 권리 선언'의 내용은 1791년에 제정된 프랑스 헌법에 반영되었다.
- 1838년 노동자들의 선거권을 요구한 차티스트 운동 이후 영국은 수차례의 선거법 개정을 통해 보통 선거 제도를 확립하였다.
- 제1차 세계 대전에서 패배한 독일은 국민들의 인간다운 생활을 보장하기 위해 최초의 복지 헌법인 바이마르 헌법을 제정하였다.

- ① 인권은 천부적으로 가지는 권리이다.
- ② 인권의 내용은 시공을 초월하여 동일하다.
- ③ 국가 권력의 축소는 인권의 확대를 가져온다.
- ④ 법의 제정을 통해 인권의 내용이 구체화된다.
- ⑤ 인권은 모든 인간에게 적용되는 보편적 권리이다.

14. 그림에 대한 옳은 분석을 <보기>에서 고른 것은? [3점]



<보 기>

- ㄱ. 전체적으로 정보 격차가 계속 감소하였다.
- ㄴ. 장애인의 정보화 수준은 지속적으로 높아졌다.
- ㄷ. 소득 계층 간 격차가 세대 간 격차보다 더 크다.
- ㄹ. 2006년에 농어민의 정보화 수준은 일반 국민보다 높았다.

- ① ㄱ, ㄴ    ② ㄱ, ㄷ    ③ ㄴ, ㄷ    ④ ㄴ, ㄹ    ⑤ ㄷ, ㄹ

15. 그림의 ㉠~㉤에 해당하는 적절한 사례를 제시한 학생만을 <보기>에서 있는 대로 고른 것은? [3점]

수행 과제

과제: 사회 정의와 관련된 사회적 쟁점을 다양한 측면에서 조사하시오.

쟁점	측면	사례
인터넷 실명제 도입	법적 측면	㉠
범죄 예방 CCTV 확대 설치	경제적 측면	㉡
최저 생계비 기준 상향 조정	정치적 측면	㉢
사형 제도 폐지	사회·문화적 측면	㉣

<보 기>

- 갑: ㉠ - 헌법에 보장된 표현의 자유를 침해하는지 조사해 본다.  
을: ㉡ - 지방 자치 단체의 재정 상태에 미칠 영향을 알아본다.  
병: ㉢ - 저소득층의 자활 의지 개선에 미칠 영향을 파악한다.  
정: ㉣ - 중범죄자에 대한 일반 국민들의 인식을 살펴본다.

- ① 갑, 병                      ② 갑, 정                      ③ 을, 병
- ④ 갑, 을, 정                ⑤ 을, 병, 정

# 탐구 영역(사회-일반 사회)

16. 밑줄 친 두 기관의 활동에 대한 공통적인 설명으로 옳은 것은? [3점]



환경 분쟁 조정 위원회는 환경오염의 피해로 인한 분쟁을 조정함으로써 신속·공정하게 환경 분쟁을 해결하여 환경을 보전하고 국민의 건강을 증진하며 재산상의 피해를 구제하고자 합니다.



국가 인권 위원회는 공공 기관, 기업, 단체 등에서 벌어지는 인권 침해 및 차별 실태 또는 민원을 조사하여 관계 기관에 시정을 권고함으로써 국민의 침해된 권리를 구제하고자 합니다.

- ① 분쟁 해결 비용을 감소시키는 사법적 절차이다.
- ② 재판 외의 방법을 통해 국민의 권익을 보호한다.
- ③ 정부 정책을 신속하고 효율적으로 집행하고자 한다.
- ④ 국가 기관에 의한 국민의 권익 침해를 예방하고자 한다.
- ⑤ 법적 구제 절차가 마련되어 있지 않을 경우에만 활용된다.

17. (가)~(다)에 해당하는 문화 변동 양상의 연결이 옳은 것은?

- (가) 청을 건국한 만주족은 월등하게 많은 인구나 높은 수준의 문화를 가진 한쪽에 흡수되어 자기들의 고유한 풍속과 언어를 잃게 되었다.
- (나) 라틴 아메리카에서는 유럽의 가톨릭 문화와 여신을 중시하는 토착 신앙이 결합되어 독특한 신앙 체계가 형성되었다.
- (다) 미국의 지배를 받았던 필리핀에서는 토속어인 따갈로그 어와 영어가 공용어로 사용되고 있다.

- |   |       |       |       |
|---|-------|-------|-------|
|   | (가)   | (나)   | (다)   |
| ① | 문화 병존 | 문화 융합 | 문화 동화 |
| ② | 문화 병존 | 문화 동화 | 문화 융합 |
| ③ | 문화 동화 | 문화 융합 | 문화 병존 |
| ④ | 문화 동화 | 문화 병존 | 문화 융합 |
| ⑤ | 문화 융합 | 문화 동화 | 문화 병존 |

18. 다음 글에 대한 옳은 분석이나 추론을 <보기>에서 고른 것은?

고려 시대에 서민층의 겨울나기는 매우 혹독하였다. 삼베 옷이나 모시옷을 여러 벌 겹쳐 입으면 추위를 다소 면할 수는 있었지만, 그나마 형편이 허락하는 경우에만 가능하였다. 그러나 문익점을 통해 원나라에서 목화를 도입한 이후, 목화에서 뽑은 실로 만든 무명은 손질이 쉽고 천이 부드러워 전국적으로 보급되었다. 또한 목화솜을 누벼 만든 무명옷은 치마, 저고리, 바지, 버선, 토시, 방한모 등 다양한 방식으로 변용되면서 서민층의 의복 문화가 발달하였다.

<보 기>

- ㄱ. 직접 전파에 의해 문화 변동이 이루어졌다.
- ㄴ. 외부로부터 강제적으로 문화 요소가 유입되었다.
- ㄷ. 문화 교류의 확대를 주장하는 근거로 제시될 수 있다.
- ㄹ. 외래 문화의 도입으로 기존 문화는 정체성을 상실하였다.

- ① ㄱ, ㄴ    ② ㄱ, ㄷ    ③ ㄴ, ㄷ    ④ ㄴ, ㄹ    ⑤ ㄷ, ㄹ

19. 표는 우리나라 주요 사회 지표의 추세를 나타낸 것이다. 이에 대한 옳은 분석을 <보기>에서 고른 것은?

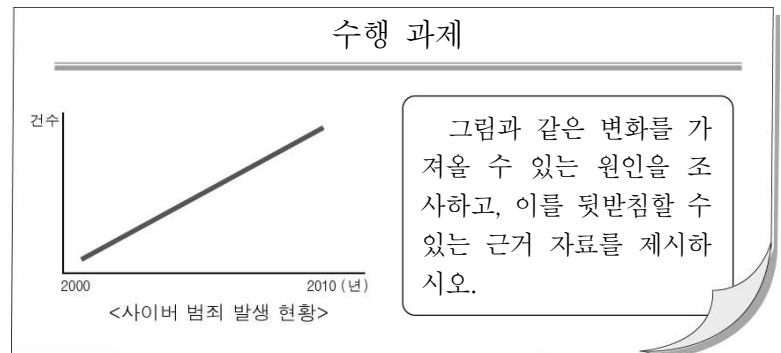
구 분	1980년	1990년	2000년	2009년
1인당 국민 총소득(달러)	1,598	5,886	9,770	19,231
인구 성장률(%)	1.6	1.0	0.8	0.3
도시 인구 비율(%)	57.3	74.4	79.9	82.0
3세대 이상 가족 구성비(%)	18.4	13.9	10.1	6.3

<보 기>

- ㄱ. 총인구 수가 지속적으로 감소하였다.
- ㄴ. 평균 가구원 수가 지속적으로 증가하였다.
- ㄷ. 국민들의 평균적인 생활 수준이 높아졌다.
- ㄹ. 도시 인구의 증가 속도가 점차 둔화되었다.

- ① ㄱ, ㄴ    ② ㄱ, ㄷ    ③ ㄴ, ㄷ    ④ ㄴ, ㄹ    ⑤ ㄷ, ㄹ

20. 자료에서 제시한 수행 과제를 적절하게 계획한 모듬은? [3점]



모듬	원인	근거 자료
갑	해킹 기술의 발달	인터넷 서비스 가입자 추이
을	정보 규범 의식 부족	정보 윤리 교육 현황
병	정보 관련 법제화 미비	연도별 법률 제정 건수
정	정보 보안 시스템 미비	전자 상거래 규모 변화
무	정보의 경제적 가치 하락	인터넷 बैं킹 가입자 추이

- ① 갑    ② 을    ③ 병    ④ 정    ⑤ 무

※ 확인 사항

- 답안지의 해당란에 필요한 내용을 정확히 기입(표기)했는지 확인하시오.