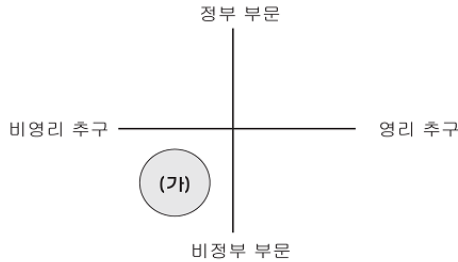


2

사회탐구 영역(정치)

5. 다음은 영리성과 공공성을 기준으로 사회 집단을 구분한 것이다. (가) 집단에 대한 설명으로 적절하지 않은 것은? [3점]



- ① 사회의 공공성 실현을 위해 노력한다.
- ② 다원주의 사회의 가속화로 등장하였다.
- ③ 권력 행사에 대한 감시와 비판 기능을 수행한다.
- ④ 여론을 형성하고 주도함으로써 정치적 영향력을 발휘한다.
- ⑤ 입법 과정에 영향력을 행사하여 자기 집단의 이익을 실현하고자 한다.

6. 다음을 통해 실현하고자 하는 목적으로 알맞은 것은?

- 정당·후보자측이 투·개표 참관 등 선거 관리 과정에 참여한다.
- 투표 용지의 인쇄·송부 과정에 정당·후보자 대리인이 입회하여 확인한다.
- 시·군·구 정당 추천 위원은 선거 공고일로부터 개표가 끝날 때까지 선거 관리 업무를 처리한다.

- ① 선거 참여의 확대
- ② 국민 직선제의 실현
- ③ 선거의 공정성 확보
- ④ 선거 비용의 최소화
- ⑤ 사표(死票) 발생의 방지

7. 다음 글에 부합되는 내용으로 적절한 것을 <보기>에서 모두 고르면?

[3점]

민주 정치 과정에서 '가장 민주적인 것이 가장 비민주적이 될 수 있다'라는 말이 있다. 이는 정치 발전을 위한 참여에 있어서 시민들의 다양한 참여가 필요함과 동시에 과도하고 무분별한 참여를 경계하는 의미이기도 하다. 정책을 수립하고 실천하는 과정에서 때로는 전문가가 아니면 전혀 의도하지 않은 결과가 초래되는 경우가 있어 더욱 그렇다.

< 보기 >

- ㄱ. 유능한 소수에 의해 행해지는 정치는 비민주적이다.
- ㄴ. 다수의 맹목적인 정치 참여는 중우정치가 될 수 있다.
- ㄷ. 정치의 효율성보다 다수 국민의 정치 참여가 더욱 중요하다.
- ㄹ. 선거 참여율이 높다고 하여 민주주의가 성숙되었다고 단정할 수는 없다.

- ① ㄱ, ㄴ
- ② ㄴ, ㄹ
- ③ ㄷ, ㄹ
- ④ ㄱ, ㄴ, ㄷ
- ⑤ ㄱ, ㄴ, ㄹ

8. A국과 같은 정부 형태의 전형적인 특징을 <보기>에서 모두 고른 것은?

A국에서는 이번 총선거에서 ○○당이 과반수의 의석을 확보하였으며, 국민 직선제에 의해 선출된 행정 수반 역시 ○○당 소속이어서 비교적 안정된 국정 운영이 예상된다.

< 보기 >

- ㄱ. 행정 수반은 의회에 대해 책임을 진다.
- ㄴ. 국회의원은 행정 각료를 결직할 수 없다.
- ㄷ. 행정부의 법률안 제출권 인정 및 단독 내각을 구성한다.
- ㄹ. 엄격한 권력 분립의 형태로 견제와 균형을 원리에 충실하다.

- ① ㄱ, ㄴ
- ② ㄱ, ㄷ
- ③ ㄴ, ㄹ
- ④ ㄴ, ㄹ
- ⑤ ㄷ, ㄹ

9. 다음에 대한 설명으로 옳은 것을 <보기>에서 모두 고르면?

[3점]

영화진흥법 제21조 제4항은 행정 기관인 영상물 등급 위원회가 상영 등급을 분류함에 있어서 당해 영화가 민주적 기본 질서에 위배되는 등의 사유에 해당한다고 인정되는 경우에는 상영 등급의 분류를 보류할 수 있도록 규정하고 있다. 이 법률 조항은 사전 검열 제도를 채택한 것으로 언론·출판에 대한 검열 금지의 원칙을 규정한 헌법 제21조 제2항에 위반된다고 결정되었다.

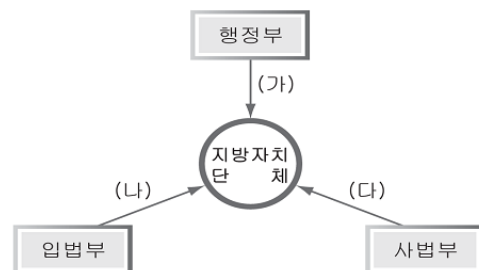
< 보기 >

- ㄱ. 최고의 헌법 보장 기관이 이 결정을 담당하였다.
- ㄴ. 결정을 담당한 이 기관은 헌법소원 심판권을 갖는다.
- ㄷ. 상고 사건에 대해 최고 법원인 대법원이 결정한 내용이다.
- ㄹ. 이 결정으로 인하여 영화진흥법은 모두 효력이 상실된다.

- ① ㄱ, ㄴ
- ② ㄱ, ㄷ
- ③ ㄴ, ㄹ
- ④ ㄴ, ㄹ
- ⑤ ㄷ, ㄹ

10. 다음은 지방 자치 단체에 대한 국가 기관의 감독을 도식화한 것이다.

(가)~(다)에 대한 설명으로 옳은 것은?



- ① (가)는 국무 회의에서 지방 행정의 주요 사항을 결정한다.
- ② (나)는 조례를 제정하거나 개정한다.
- ③ (나)는 지방 의회의 조직과 권한을 규정한다.
- ④ (다)는 주민 소환제를 실시하여 지방 자치 단체장을 심판한다.
- ⑤ (가)~(다)를 통하여 지방 자치 단체의 자율권을 신장한다.

사회탐구 영역(정치)

3

11. 다음 글을 통해 기대할 수 있는 정치적 효과로 적절할 것을 <보기>에서 모두 고르면?

이번 △△대 국회에 들어서 홈페이지와 팬클럽에 이어 또 다른 사이버 정치의 무대로 주목받기 시작한 것이 바로 블로그와 미니홈페이지이다. 블로그와 미니홈페이지는 기존에 네티즌들의 활동 공간이던 홈페이지와 게시판이 제공하던 정보 교류의 기능, 그리고 커뮤니티를 통해 형성되던 인적 교류의 기능이 종합적으로 구현되는 공간이다. 따라서 제대로만 활용한다면 그 어떤 공간보다도 유용하게 쓰일 수 있다는 점에서 주목해 볼 만한 일이다.
-○○일보-

< 보기 >

- ㄱ. 정보통신 매체를 통한 정치 권력의 감시가 가능하다.
- ㄴ. 정치 참여에 대한 개인적·사회적 비용을 절감할 수 있다.
- ㄷ. 국회의원의 대표성 시비와 관련한 논란을 해결할 수 있다.
- ㄹ. 하향식 의사 결정으로 정책 결정의 효율성을 높일 수 있다.

- ① ㄱ, ㄴ ② ㄱ, ㄷ ③ ㄴ, ㄷ
- ④ ㄴ, ㄹ ⑤ ㄷ, ㄹ

12. 표는 민주주의의 핵심 가치인 자유와 평등을 구분한 것이다. (가)~(라)에 대한 설명으로 옳은 것을 <보기>에서 모두 고르면? [3점]

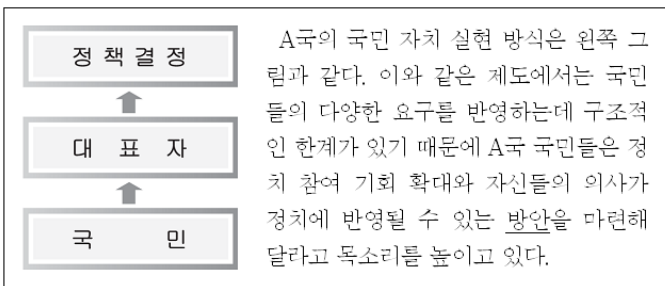
구분	자유		평등	
유형	(가)소극적	(나)적극적	(다)절대적	(라)상대적

< 보기 >

- ㄱ. (가)는 '국가에 의한 자유' 실현을 강조한다.
- ㄴ. (나)는 참정권과 사회권의 형태로 보장된다.
- ㄷ. (다)는 남녀고용 평등법 등을 통해 실현된다.
- ㄹ. (라)는 성과급 지급, 누진세 부과 등에 적용된다.

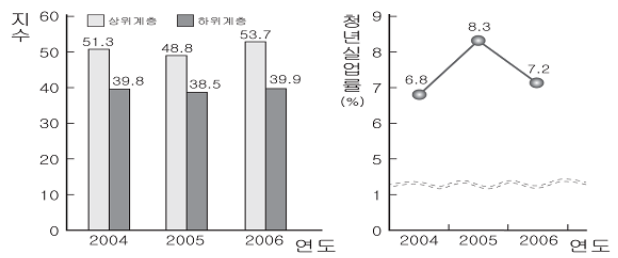
- ① ㄱ, ㄴ ② ㄴ, ㄹ ③ ㄷ, ㄹ
- ④ ㄱ, ㄴ, ㄷ ⑤ ㄱ, ㄷ, ㄹ

13. 밑줄 친 '방안'으로 적절하지 않은 것은?



- ① 국민이 법률안이나 헌법 개정안을 직접 발의한다.
- ② 국가의 중요 정책은 국민이 투표를 통해 결정한다.
- ③ 주민 자치체를 통하여 지역 문제를 주민 스스로 처리한다.
- ④ 국가가 선거를 관리함으로써 선거 과정의 공정성을 확보한다.
- ⑤ 선출직 공무원을 임기 중이라도 국민 투표를 통하여 파면시킬 수 있다.

14. 그래프는 어느 나라의 소득 계층별 생활 형편 지수와 청년 실업률을 나타낸 것이다. 이를 추론한 내용으로 적절할 것은? [3점]



* 소득 계층별 생활 형편 지수는 소비자들이 느끼는 생활 형편을 나타내는 지수로 50이상이면 1년 전보다 나아진 것이고, 50미만이면 1년 전보다 나빠졌음을 의미한다.

- ① 2004년도는 하위 계층의 생활 형편이 크게 나아졌을 것이다.
- ② 2005년도는 하위 계층에서 더 많은 수의 실업자가 발생하였을 것이다.
- ③ 2006년도의 경우 계층 간 상대적 박탈감이 크게 줄어들었을 것이다.
- ④ 청년실업률의 변화는 상위 계층의 생활 형편 지수 변화와 비례한다.
- ⑤ 계층 간 빈부 격차를 줄일 수 있는 정부의 대책 마련이 필요할 것이다.

15. 밑줄 친 '기본권'에 대한 설명으로 적절할 것을 <보기>에서 모두 고르면? [3점]

단계	교수-학습 활동
도입	자유권, 환경권 등 여러분들의 기본권이 침해된다면 헌법에 보장된 어떤 <u>기본권</u> 을 통해 구제 받을 수 있을까요?
전개	1. 침해된 기본권 구제 수단으로서의 기본권 성격을 설명한다. 가. 다른 권리를 확보하기 위한 수단적 성격을 지닌다. 나. 행사 절차에 관한 구체적인 입법이 있어야 행사할 수 있다. - 중략 -
정리	다른 기본권과의 관계 요약 및 정리

< 보기 >

- ㄱ. 청원권, 재판 청구권, 형사 보상 청구권 등이 있다.
- ㄴ. 교육을 받을 권리, 근로의 권리, 환경권 등이 있다.
- ㄷ. 국가의 일정한 행위를 요구하는 적극적 성질의 기본권이다.
- ㄹ. 주권자로서 국가의 정치 과정에 참여하는 능동적 권리이다.

- ① ㄱ, ㄴ ② ㄱ, ㄷ ③ ㄴ, ㄹ
- ④ ㄴ, ㄹ ⑤ ㄷ, ㄹ

4

사회탐구 영역(정치)

16. 다음 (가), (나)에 들어갈 내용을 옳게 짝지은 것은? [3점]

교사 : 오늘은 권력간 상호 견제와 균형의 원리에 대해 알아보도록 하겠습니다. A는 법률을 집행하고 국가 목적이나 공익을 실현해 나가는 헌법 기관이며, B는 법을 해석·적용하여 분쟁을 해결하고, 국민의 권리를 보호하는 등 국가 작용을 담당하는 헌법 기관입니다. A가 B를 견제하는 수단에는 어떤 것이 있습니까?

학생 : _____ (가) _____ 이 있습니다.

교사 : B가 A를 견제하는 수단에는 어떤 것이 있습니까?

학생 : _____ (나) _____ 이 있습니다.

(가)

- ① 법률안 제출권
- ② 국무총리 임명 동의권
- ③ 국정 감사·조사권
- ④ 사면·감형·복권권
- ⑤ 대법원장·대법관 임명권

(나)

- 계엄 해제 요구권
- 행정 재판권
- 위헌법률 심판 제청권
- 명령·규칙·처분 심사권
- 탄핵소추, 예산·결산 심사권

17. 다음은 학생이 작성한 보고서의 일부이다. 이를 작성하기 위한 조사 항목으로 적절하지 않은 것은?

보 고 서	
주 제	의회주의의 위기
개 념	의회가 입법 활동을 통해 국가 정책 결정 과정에 적극적으로 참여하지 못하는 현상
원 인	정당 정치의 발달, 행정 국가화 현상

- ① 의회의 형태
- ② 정부의 기능 변화
- ③ 의원의 법률안 제출 건수
- ④ 정부의 법률안 제출 건수
- ⑤ 의원 제출 법률안의 가결 건수

18. 다음을 통해 알 수 있는 민주주의의 의미로 가장 적절한 것은?

현대 사회는 정치적으로 추구하는 목적이나 이념, 사회적 가치가 다양한 가운데 상호 대립과 갈등이 빈번하게 발생하게 된다. 이는 역사적 사실을 통해 볼 때, '나' 혹은 인간 중심의 사고에서 비롯된 것이라고 할 수 있으며, 이러한 사회적 갈등 상황을 슬기롭게 해결해 나가기 위해서는 나의 이익이 소중한 만큼 타인의 이익도 소중히 배려하는 자세가 필요하다. 또한 상호간의 차이와 다양성을 인정하는 태도가 뒷받침될 때 원만하게 해결될 것이며, 이러한 사회를 진정한 민주주의 사회라고 할 수 있다.

- ① 생활 양식으로의 민주주의를 의미한다.
- ② 정치 형태로서의 민주주의를 의미한다.
- ③ 이념과 사상으로의 민주주의를 의미한다.
- ④ 사회 구성 원리로서의 민주주의를 의미한다.
- ⑤ 국민 자치의 실현 원리로서의 민주주의를 의미한다.

[19-20] 다음은 어느 나라의 국회의원 선거에 관한 자료이다. 물음에 답하십시오.

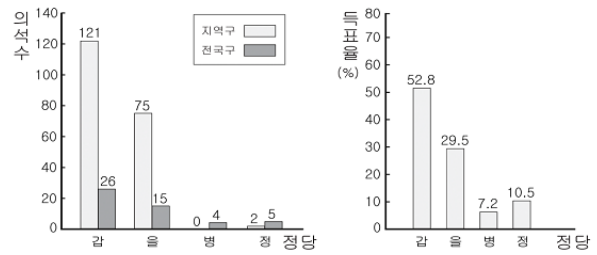
(가) 입후보 현황

- 갑, 을, 병, 정 4개의 정당단이 각 지역 선거구별로 한 명씩 후보자를 공천하고 무소속 입후보자는 없다.

(나) 투표 방식

- 1인 1표제 : 지역구 후보자에 대하여 1표 투표

(다) 선거 결과



19. 위 자료를 통해 알 수 있는 선거 제도에 대한 추론으로 가장 적절한 것은? [3점]

- ① 이 나라의 선거구는 총 248개일 것이다.
- ② 국민의 의사가 제대로 반영되는 선거 제도일 것이다.
- ③ 지역구 선거에서는 소선거구제를 채택하였을 것이다.
- ④ 지역구의원 선출은 소수 대표제 방식을 적용하였을 것이다.
- ⑤ 정당별 의석수에 비례하여 전국구 의석을 배분하였을 것이다.

20. 위 선거 결과에 대한 분석으로 옳은 것을 <보기>에서 모두 고르면? [3점]

< 보기 >

- ㄱ. 정당 간 정책 연합이 시도될 정치 여건이 조성되었다.
- ㄴ. 정당별 득표율은 지역 연고에 따른 집중화 현상을 나타낸다.
- ㄷ. 병당을 지지한 표는 지역구 선거에서 모두 사표가 되었다.
- ㄹ. 갑, 을당을 중심으로 양대 정당 중심의 정치 구도가 뚜렷해졌다.

- ① ㄱ, ㄴ
- ② ㄱ, ㄷ
- ③ ㄴ, ㄹ
- ④ ㄴ, ㄹ
- ⑤ ㄷ, ㄹ

※ 확인사항

- 문제지와 답안지의 해당란을 정확히 기입(표기)했는지 확인하십시오.