

2

사회탐구 영역(경제지리)

6. 표는 우리나라의 시기별 3대 수출 품목과 그 비율을 나타낸 것이다. 이에 대한 분석으로 옳은 것을 <보기>에서 고르면?

순위 \ 연도	1970	1980	1990	2000
1	섬유류	의류	의류	반도체
2	합판	철강판	반도체	컴퓨터
3	가발	선박	가죽신발	자동차
비율(%)	62.7	23.5	23.3	31.2

*비율 : 상위 3대 품목이 총수출에서 차지하는 비율

< 보기 >

ㄱ. 1970년에는 1차 산업 상품의 수출 비중이 높다.
 ㄴ. 1970년에 비해 1980년 이후 우리나라 수출 품목은 다변화되고 있다.
 ㄷ. 1990년 이후 주요 수출 품목이 고부가 가치 산업으로 변하고 있다.
 ㄹ. 2000년으로 갈수록 입지자유형 산업에서 노동지향형 산업으로 대체되고 있다.

- ① ㄱ, ㄴ ② ㄱ, ㄷ ③ ㄴ, ㄷ
 ④ ㄴ, ㄹ ⑤ ㄷ, ㄹ

7. 지도에 표시된 지역의 삼림 자원에 대한 설명으로 옳은 것을 <보기>에서 모두 고르면?



< 보기 >

ㄱ. 수종이 다양하고 삼림 밀도가 높다.
 ㄴ. 침엽수가 주종을 이루는 경계림이 분포한다.
 ㄷ. 재질이 단단해서 가구를 만드는 목재로 이용된다.
 ㄹ. 농지나 목장으로 개발함으로써 삼림 지역이 줄어들고 있다.

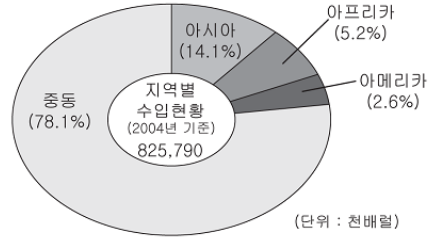
- ① ㄱ ② ㄴ, ㄷ
 ③ ㄴ, ㄹ ④ ㄱ, ㄴ, ㄷ
 ⑤ ㄱ, ㄴ, ㄹ

8. 다음 자료의 ㉠, ㉡에 대한 설명으로 옳지 않은 것은? [3점]

사회가 발전함에 따라 서비스 산업의 비중이 커지는 것은 풍부한 문화생활과 지적인 활동을 높여나가고자 하는 인간 욕망 때문이다. 경제 활동과 소비 생활에서 서비스 산업이 차지하는 비중은 매우 높다. 서비스 산업은 수요의 주체에 따라 금융, 보험, 부동산, 광고, 법률과 같은 (㉠)와(과) 소매업, 음식·숙박업, 오락과 같은 (㉡) (으)로 분류할 수 있다.

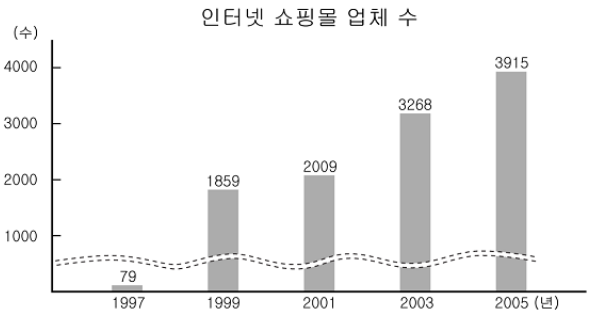
- ① ㉠은 사업체의 경제 활동을 지원한다.
 ② ㉠은 서비스에 대한 수요가 많은 대도시에서 집중한다.
 ③ ㉡은 개인 소비 활동과 밀접하게 관련된 산업이다.
 ④ ㉡은 최종 소비자에게 분산 입지하여 서비스를 제공한다.
 ⑤ 선진국으로 갈수록 ㉠의 생산액 비중은 ㉡보다 낮아진다.

9. 그래프는 우리나라 어떤 자원의 수입 현황을 나타낸 것이다. 이 자원의 가격 상승에 따른 업종별 영향을 분석한 것으로 옳지 않은 것은? [3점]



	업종	영향
①	운송	물류비 상승으로 인하여 경제성이 악화될
②	전기전자	이 자원에 대한 의존도가 높아 제조 원가에 영향이 큼
③	섬유	국내 섬유 산업은 이 자원의 경제품을 원료로 사용하므로 영향이 큼
④	철강	가스, 전력 등을 에너지원으로 사용하고 있어 간접 영향을 받음
⑤	석유화학	주원료인 나프타를 이 자원에서 추출하므로 가격이 동반 상승하는 경향이 있음

10. 그래프와 같은 현상이 지속될 때, 나라의 생활 변화에 대한 추론으로 적절한 것을 <보기>에서 고르면?



< 보기 >

ㄱ. 무점포 상점의 상권이 축소될 것이다.
 ㄴ. 상품 관련 택배 산업이 크게 성장할 것이다.
 ㄷ. 상품 구매를 위한 시·공간적 제약이 줄어들 것이다.
 ㄹ. 상품 유통 단계가 복잡해져 유통 비용이 늘어날 것이다.

- ① ㄱ, ㄴ ② ㄱ, ㄷ ③ ㄴ, ㄷ
 ④ ㄴ, ㄹ ⑤ ㄷ, ㄹ

4

사회탐구 영역(경제지리)

16. 다음을 통해 알 수 있는 자원의 특성을 <보기>에서 고르면?

심해저에 분포하고 있는 망간단괴를 채굴하기 위한 실험이 성공되어 채굴시스템 개발 전망이 밝아졌다. 동태평양 황구의 추정 매장량은 약 5억 천만 톤으로, 실용화되면 연간 15억불의 수입대체 효과가 있어 새로운 산업 성장 동력을 창출할 중요한 기회가 된다. 채굴시스템이 2015년경에 완성되면 본격적으로 상업적인 채굴이 가능해진다.

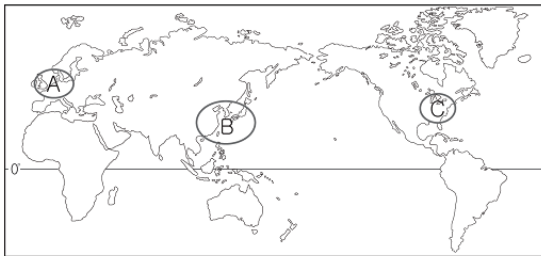
- ○ ○ 일보 -

< 보기 >

- ㄱ. 자원의 가치는 문화적 배경에 따라 달라진다.
- ㄴ. 자원의 이용은 매장량과 소비량에 의해 제한 받는다.
- ㄷ. 자원의 부존량은 채굴 기술의 발달에 따라 달라진다.
- ㄹ. 자원은 채산성이 있어야 비로소 자원으로서의 가치를 지닌다.

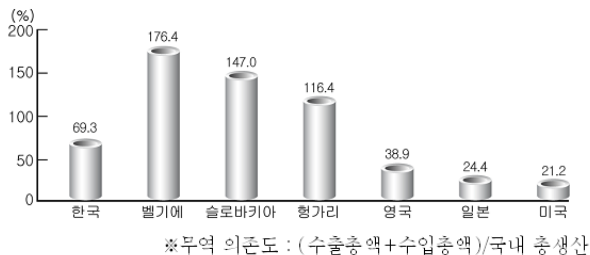
- ① ㄱ, ㄴ ② ㄱ, ㄹ ③ ㄴ, ㄷ
- ④ ㄴ, ㄹ ⑤ ㄷ, ㄹ

17. 지도는 세계의 주요 공업 지역을 나타낸 것이다. A~C에 대한 설명으로 옳은 것은? [3점]



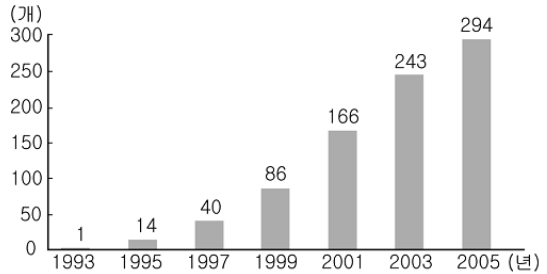
- ① 근대 공업의 발달 순서는 A → B → C이다.
- ② A의 공업은 초기에 석탄 산지에서 발달하였으나 차츰 해안지역으로 옮겨가고 있다.
- ③ B에서는 자원이 풍부하여 해안지역보다는 내륙의 원료산지에 공업이 발달하고 있다.
- ④ C에서는 개방화 정책에 힘입어 외국 자본을 끌어들이는 데 주력하고 있다.
- ⑤ A~C에서는 자본과 기술보다는 노동지향성 공업의 부가가치가 크다.

18. 다음은 세계 여러 국가의 무역 의존도를 나타낸 것이다. 이를 통해 추론한 내용으로 적절할 것은? [3점]



- ① 무역 의존도가 낮은 국가에서는 무역 수지 적자가 발생할 것이다.
- ② 미국은 내수 산업의 비중이 대외 무역의 비중보다 낮을 것이다.
- ③ 우리나라는 미국, 일본에 비해 대외 경제 의존도가 높을 것이다.
- ④ 무역 의존도가 가장 높은 국가의 제조업은 내륙지역에 입지할 것이다.
- ⑤ 벨기에, 슬로바키아는 우리나라보다 수출·수입액이 많을 것이다.

19. 그래프와 같은 대형 할인점의 점포수 변화에 영향을 미친 요인을 탐구하고자 할 때, 조사 항목으로 적절할 것을 <보기>에서 고르면?

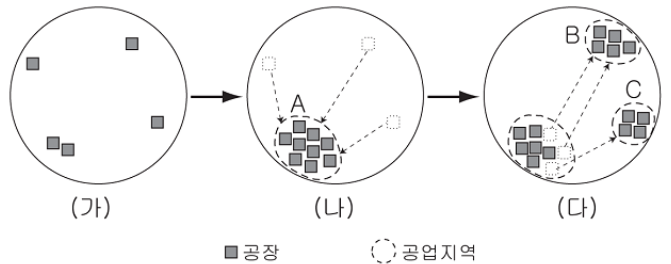


< 보기 >

- ㄱ. 도시의 인구 공동화 현상 심화
- ㄴ. 유통산업에 대한 정부의 각종 규제 강화
- ㄷ. 자동차 보급의 확대에 따른 소비패턴의 변화
- ㄹ. 유통시장의 개방에 따른 해외 업체의 국내 진출 증가

- ① ㄱ, ㄴ ② ㄱ, ㄷ ③ ㄴ, ㄹ
- ④ ㄴ, ㄹ ⑤ ㄷ, ㄹ

20. 그림은 어느 국가의 공업 집적과 분산을 모식화한 것이다. 이에 대한 설명으로 옳지 않은 것은? [3점]



- ① (가)에서 (나)로의 변화는 A 지역의 편리한 교통과 정보 획득의 용이성 때문이다.
- ② (나)에서 (다)로의 변화는 A 지역의 지가 상승, 환경오염 때문이다.
- ③ (다)에서 B, C 지역의 출현은 새로운 도시 형성을 가능하게 한다.
- ④ (가)에서 (다)로 갈수록 공업 발달의 지역 간 불균형이 심화된다.
- ⑤ 산업화의 성장 속도가 빠른 국가는 (가)에서 (다)까지 이르는 시간이 짧다.

※ 확인사항

○ 문제지와 답안지의 해당란을 정확히 기입(표기)했는지 확인하십시오.