

# 사회탐구 영역(세계지리)

제 4 교시

성명

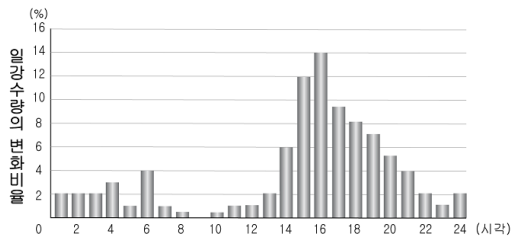
수험번호

2

1

- 먼저 수험생이 선택한 과목의 문제지인지 확인하시오.
- 반드시 자신이 선택한 과목의 문제지를 풀어야 합니다.
- 문제지에 성명과 수험 번호를 정확히 기입하시오.
- 답안지에 수험 번호, 선택 과목, 답을 표기할 때에는 반드시 '수험생이 지켜야 할 일'에 따라 표기하시오.
- 문항에 따라 배점이 다르니, 각 물음의 끝에 표시된 배점을 참고하시오. 3점 문항에만 점수가 표시되어 있습니다. 점수 표시가 없는 문항은 모두 2점씩입니다.

1. 그래프와 같은 시간대별 강수 분포가 연중 나타나는 지역에 대한 설명으로 옳은 것을 <보기>에서 고르면?

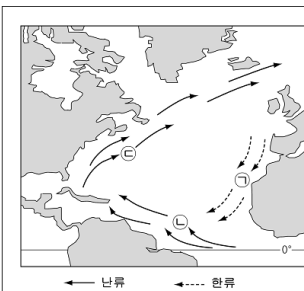


< 보기 >

- ㄱ. 동물의 가죽을 이용한 두꺼운 의복을 입는다.
- ㄴ. 계절에 따라 산지를 오르내리며 가죽을 사육한다.
- ㄷ. 숲을 태워 경지를 개간하는 이동식 화전 농업이 행해진다.
- ㄹ. 지붕의 경사가 급하고 바닥이 높은 고상식 가옥이 나타난다.

- ① ㄱ, ㄴ                      ② ㄱ, ㄷ                      ③ ㄴ, ㄷ
- ④ ㄴ, ㄹ                      ⑤ ㄷ, ㄹ

2. 자료의 ㉠~㉣ 해류에 대한 설명으로 적절한 것은? [3점]

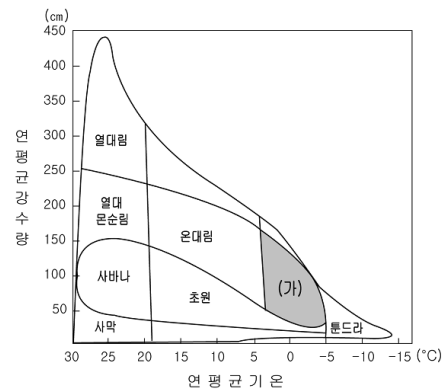


신대륙으로 떠나는 무역 선단은 리스본을 출발하여 ㉠ 해류를 타고 계속 남하한 후 아프리카 해안에 들러 노예들을 사서 배에 싣고는 남적도 해류에 배를 맡겨 남미 브라질 해안에 이르게 된다. 이곳에서 노예들을 팔아넘기고는 사탕수수 등을 사서 ㉡ 해류를 타고 북상하면 서인도 제도에 이른다. 여기에서 물자를 멕시코 산 은과 교환한 후 다시 북상하여 뉴욕에 있는 네덜란드 회사에서 럼주를 사서 싣고 ㉢ 해류에 배를 맡기면 그대로 유럽으로 돌아 올 수 있다.

- 『베니스의 개성상인』 중에서 -

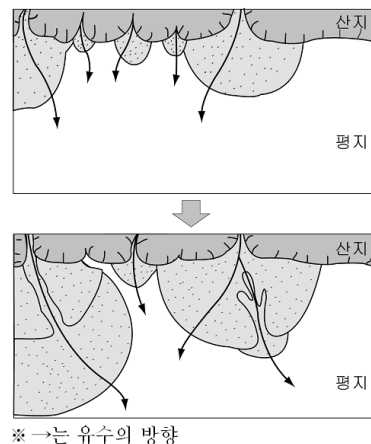
- ① ㉠을 따라 빙하의 일부가 흘러 내려오기도 한다.
- ② ㉡은 편서풍의 영향으로 형성된다.
- ③ ㉢의 영향으로 북서 유럽의 겨울 기온이 온화하다.
- ④ ㉠과 ㉡으로 인해 엘니뇨와 라니냐 현상이 발생한다.
- ⑤ ㉡과 ㉢의 영향을 받는 해안 지역에는 사막이 발달한다.

3. 그래프는 기후 특성에 따른 식생 분포의 범위를 나타낸 것이다. (가) 식생이 나타나는 지역에 분포하는 토양에 대한 설명으로 옳은 것은?



- ① 유기물이 집적된 비옥한 토양으로 검은색을 띤다.
- ② 청회색의 점토질 토양으로 토양층 발달이 미약하다.
- ③ 유기질은 적으나 탄산칼슘이 풍부하여 밤색을 띤다.
- ④ 표층은 회백색을 띠며 미생물의 활동이 활발하지 않다.
- ⑤ 화학적 풍화작용으로 산화물이 집적되어 붉은색을 띤다.

4. 그림과 같은 발달 과정을 통해 형성된 지형에 대한 설명으로 옳은 것을 <보기>에서 고르면? [3점]



< 보기 >

- ㄱ. 유수에 의한 퇴적 작용으로 만들어진다.
- ㄴ. 하천의 중·하류 지역에서 주로 발달한다.
- ㄷ. 산지의 식생 밀도가 낮은 곳에서 잘 발달한다.
- ㄹ. 대륙 내부의 구조평야 지역에서 주로 발달한다.

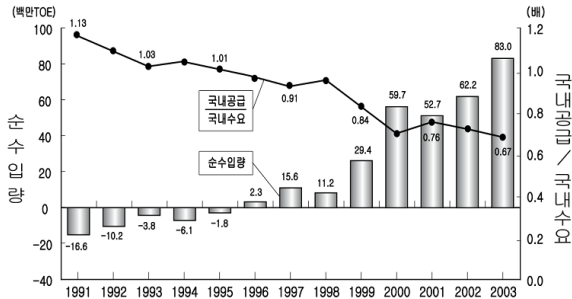
- ① ㄱ, ㄴ                      ② ㄱ, ㄷ                      ③ ㄴ, ㄷ
- ④ ㄴ, ㄹ                      ⑤ ㄷ, ㄹ

2

사회탐구 영역(세계지리)

5. 다음 수업 장면에서 선생님의 질문에 바르게 대답한 학생은? [3점]

선생님 : 그래프는 중국의 석유자급도와 순수입의 변화를 나타낸 것입니다. 이를 보고 알 수 있는 중국의 자원과 산업 활동의 변화는 무엇일까요?



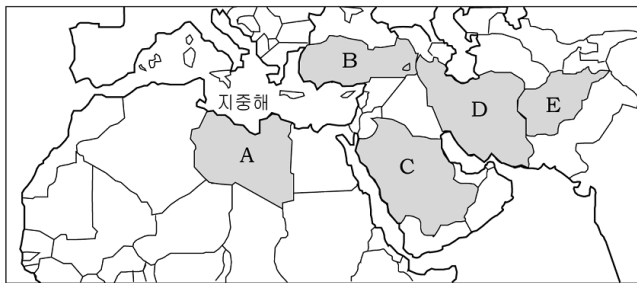
세진 : 자원의 해외의존도가 낮아지고 있어요.  
 승현 : 에너지 소비량이 크게 증가하고 있어요.  
 지후 : 빠른 속도로 공업화가 진행되고 있어요.  
 민수 : 1990년대 말에 석유가 고갈되어 버렸어요.

- ① 세진, 승현      ② 세진, 지후      ③ 승현, 지후
- ④ 민수, 세진      ⑤ 지후, 민수

6. (가), (나)에 해당하는 국가를 아래 지도에서 골라 바르게 짝지은 것은? [3점]

(가) 주민의 대부분이 이슬람교를 믿는 국가로서 최근 EU와 가입 협상을 본격적으로 추진하고 있다. 유럽 대륙과 아시아 대륙 사이에 위치하여 지중해 연안의 온난한 기후가 나타나기도 하고 국토의 대부분이 산악지대이다.

(나) 국토의 대부분이 고원과 구릉으로 형성되어 있으며 과거부터 부족 중심의 생활을 통하여 결속력이 강하다. 구소련의 침공 이후 계속되는 내전으로 '탈레반'과 같은 이슬람 무장 세력이 활동하는 분쟁지역이다.



- |     |     |     |     |
|-----|-----|-----|-----|
| (가) | (나) | (가) | (나) |
| ① A | C   | ② A | E   |
| ③ B | D   | ④ B | E   |
| ⑤ C | D   |     |     |

7. 다음은 선우가 배낭여행 중에 기록한 메모이다. 밑줄 친 '이곳'에서 볼 수 있는 두 해안지형의 공통된 형성 원인으로 가장 옳은 것은?

< 메모 1 >

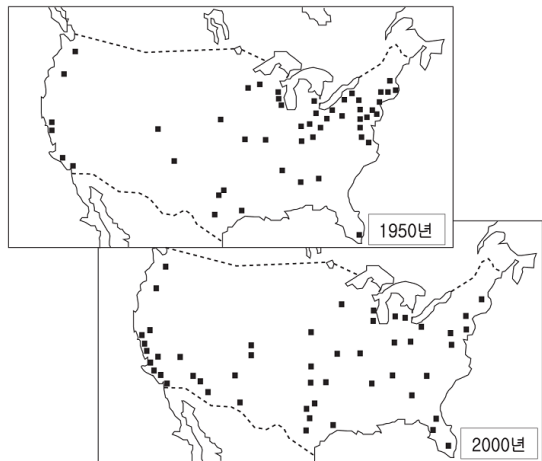
'이곳'의 해안선은 만 안쪽으로 하천이 흘러들고 깊은 골짜기가 연결되어 좁은 모양의 복잡한 굴곡을 이룬다. 또한 많은 해안과 갯이 다리와 해저 터널로 연결 되어 있다.

< 메모 2 >

'이곳'은 바다와 산을 한꺼번에 볼 수 있다. 푸른 바다가 깊어 패인 나자 모양의 계곡사이로 들어와 있고, 크고 작은 폭포들이 바다로 흘러들고 있다.



- ① 해수면 상승      ② 과량의 침식
- ③ 육지의 융기      ④ 조류의 퇴적
- ⑤ 빙하의 침식

8. 다음은 미국의 50대 도시의 분포 변화를 나타낸 것이다. 이러한 변화에 영향을 미친 요인으로 적절하지 않은 것은? [3점]



- ① 남서부 지역의 온화한 기후
- ② 유럽 국가들과의 교역 비중 증대
- ③ 멕시코 만 연안의 석유 자원 개발
- ④ 전자통신, 우주, 항공 등 첨단 산업의 발달
- ⑤ 북동부 공업 지역의 설비 노후화와 임금 상승

9. (가), (나) 지형에 대한 설명으로 옳은 것을 <보기>에서 고르면?



(가)

(나)

< 보기 >

ㄱ. (가)는 지구 내부 에너지의 작용에 의해 형성된다.  
 ㄴ. (나)는 온난 습윤한 기후 환경에서 잘 발달한다.  
 ㄷ. (가)와 (나)는 지각판의 경계를 따라 발달한다.  
 ㄹ. (가)와 (나)는 기반암의 차별침식으로 형성된다.

- ① ㄱ, ㄴ      ② ㄱ, ㄷ      ③ ㄴ, ㄹ
- ④ ㄴ, ㄹ      ⑤ ㄷ, ㄹ



4

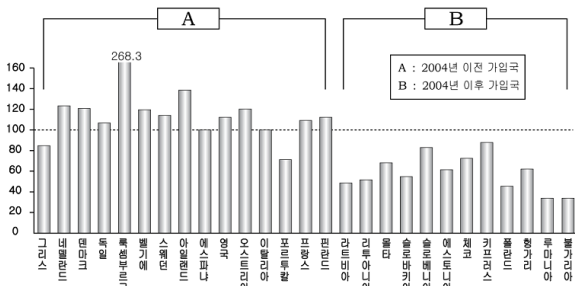
사회탐구 영역(세계지리)

16. 지도의 표시된 지역에 공업이 발달하게 된 공통적인 배경으로 가장 적절한 것은?



- ① 저렴한 노동력
- ② 풍부한 지하자원
- ③ 인접한 대규모 소비 시장
- ④ 기존 공업지역의 집적불이익 발생
- ⑤ 외국인의 투자 확대를 위해 신설된 경제 특구

17. 그래프는 EU회원국의 GDP지수를 나타낸 것이다. 이와 관련된 설명으로 옳은 것을 <보기>에서 고르면? [3점]



\* GDP지수 : EU회원국의 1인당GDP 평균을 100으로 보았을 때 구매력 기준에 의한 1인당GDP

< 보기 >

- ㄱ. 세계 경제에서 EU의 영향력이 커졌다.
- ㄴ. EU회원국들의 역내 교역 비중이 감소하였다.
- ㄷ. B는 주로 동부 유럽에 위치한 국가들이다.
- ㄹ. A보다 B에서 먼저 산업혁명이 시작되었다.

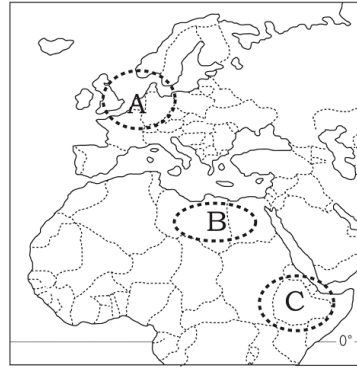
- ① ㄱ, ㄴ                      ② ㄱ, ㄷ                      ③ ㄴ, ㄷ
- ④ ㄴ, ㄹ                      ⑤ ㄷ, ㄹ

18. 지도의 검게 표시된 지역에 대한 설명으로 옳은 것은? [3점]




- ① 기온이 높아 벼의 2기작이 가능하다.
- ② 삼림이 울창하여 임업이 발달해 있다.
- ③ 전력 수요의 증가로 대규모 댐이 건설되고 있다.
- ④ 개방도시의 지경으로 인구가 급속히 유입되고 있다.
- ⑤ 지역 개발이 이루어지면서 전통 문화가 사라지고 있다.

(19 ~ 20) 다음 지도를 보고 물음에 답하십시오.



19. A, B 지역에서 볼 수 있는 대표적인 농목업 경관을 <보기>에서 찾아 바르게 짝지은 것은?

< 보기 >



- |   |   |   |   |   |   |
|---|---|---|---|---|---|
|   | A | B |   | A | B |
| ① | 가 | 나 | ② | 가 | 다 |
| ③ | 나 | 다 | ④ | 나 | 라 |
| ⑤ | 다 | 라 |   |   |   |

20. C 지역에 대해 조사한 내용으로 옳지 않은 것은?

㉠ 오랫동안 이어져온 종족 간의 분쟁으로 이곳 주민들이 고통 받고 있다. 이 분쟁은 ㉡ 과거 식민지 시대에 지배국들의 종족 간 경계를 무시한 국경선 설정에서부터 비롯되었다. ㉢ 가족 계획 정책과 교육 수준 향상으로 출생률은 급격히 감소했으나 젊은 사람들은 생계를 유지하기보다 전쟁터를 지키고 있는 실정이고, ㉣ 사막화와 가뭄으로 농경지가 황폐화되고 있어 식량 부족 문제는 갈수록 심화되고 있다. 오랜 기간에다 ㉤ 에이즈, 말라리아 등의 질병이 주민들의 생명을 위협하고 있다. 이들에 대한 국제적인 관심과 원조가 절실히 요구되고 있다.

- ① ㉠                      ② ㉡                      ③ ㉢                      ④ ㉣                      ⑤ ㉤

※ 확인사항

○ 문제지와 답안지의 해당란을 정확히 기입(표기)했는지 확인하십시오.