

2007학년도 9월 고2 전국연합학력평가 문제지

제 4 교시

사회탐구영역(세계사)

성명

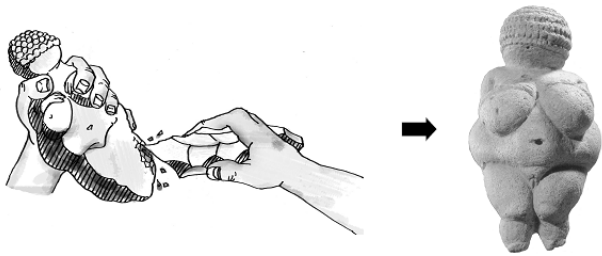
수험번호

2

1

- 먼저 수험생이 선택한 과목의 문제지인지 확인하시오.
- 문제지에 성명과 수험 번호를 정확히 기입하시오.
- 답안지에 수험 번호, 선택 과목, 답을 표기할 때는 반드시 '수험생이 지켜야 할 일'에 따라 표기하시오.
- 문항에 따라 배점이 다르니, 각 물음의 끝에 표시된 배점을 참고하시오. 3점 문항에만 점수가 표시되어 있습니다. 점수 표시가 없는 문항은 모두 2점씩입니다.

1. 다음 유물이 제작된 시기의 생활 모습으로 옳은 것은?



- ① 문자를 사용하기 시작하였다.
- ② 펜석기로 수렵과 채집을 하였다.
- ③ 농경과 목축으로 식량을 얻었다.
- ④ 움집을 짓고 정착 생활을 하였다.
- ⑤ 토기를 만들어 곡물을 저장하였다.

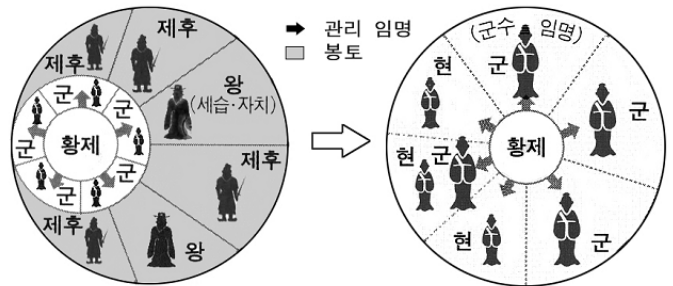
2. (가), (나)와 관련된 설명으로 옳지 않은 것은?

(가) 여인은 길가메시에게, “부질없이 영생을 찾아 헤매는 일을 그만두고, 먹고 마시고 즐겁게 지내라.”고 권했다. 결국 길가메시는 “신들이 사람을 창조할 때 죽음은 인간의 것으로 하고 삶은 자신의 것으로 하였다.”고 결론을 내렸다.

(나) 오시리스가 피살된 후 그의 아들은 아버지의 원수를 죽이고 여기저기 흩어져 묻혀 있던 시체를 찾아 미라를 만들었다. 오시리스는 후에 신의 도움으로 저승의 파라오로 되살아나 죽은 사람을 재판하였다.

- ① (가)의 이야기는 책기 문자로 기록되어 있다.
- ② (가)에는 현세를 중시하는 인생관이 나타나 있다.
- ③ (가)의 신을 섬기기 위해 지구라트가 건설되었다.
- ④ (나)에는 이단족의 침략이 갖았던 사실이 반영되어 있다.
- ⑤ (나)의 영혼 불멸에 대한 믿음은 사자의 서에서 볼 수 있다.

3. 표와 같이 통치 체제를 변화시킨 황제의 정책으로 옳은 것은? [3점]



- ① 과거 제도로 관리를 선발하였다.
- ② 화폐, 도량형, 문자를 통일하였다.
- ③ 주요 교통로에 역참을 설치하였다.
- ④ 유가 사상을 치국의 이념으로 삼았다.
- ⑤ 중법에 기초한 봉건 제도를 실시하였다.

4. 다음 정책으로 나타난 사회 모습에 대한 탐구 활동으로 적절한 것은?

894년 견당사절로 임명된 스가와라노 미치자네가 당의 쇠퇴와 항해의 위험을 이유로 파견 중지를 건의하였다. 이리하여 7세기 이래 사절 임명 19회, 항해 16회에 달하는 견당사는 폐지되었다.

- ① 야마토 정권의 성립 과정을 조사한다.
- ② 쇼토쿠 태자의 불교 진흥책을 살펴본다.
- ③ 국풍 문화의 형성 과정 및 특징을 파악한다.
- ④ 다이카 개신과 율령 체계의 관계를 연구한다.
- ⑤ 「일본서기」와 「고사기」의 편찬 배경을 알아본다.

5. 연표의 (가), (나) 시기에 나타난 사실을 <보기>에서 모두 고른 것은? [3점]

B.C. 264	B.C. 60	B.C. 27
(가)	(나)	
포에니 전쟁 시작	제1차 삼두 정치	로마 제정 성립

< 보 기 >
 가. (가) - 그라쿠스 형제가 토지 개혁을 추진하였다.
 나. (가) - 성산 사건을 계기로 호민관 제도가 시행되었다.
 다. (나) - 옥타비아누스가 악티온 해전에서 승리하였다.
 르. (나) - 라티퐁디움이 붕괴되고 콜로나투스가 나타났다.

- ① 가, 나 ② 가, 다 ③ 나, 다 ④ 나, 르 ⑤ 다, 르

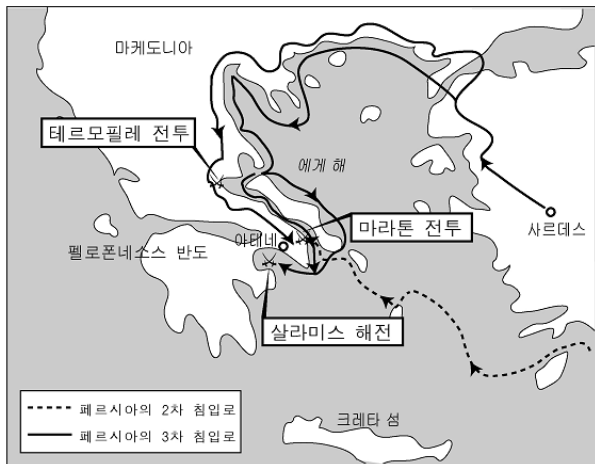
6. 표를 통해 파악할 수 있는 시대 상황을 <보기>에서 모두 고른 것은? [3점]

1.5%(약 100만 명)	양반	주요 관직 독점
1.5%(약 100만 명)	색부	재정 담당
14%(약 1,000만 명)	한인	하급 관리로 기용
83%(약 6,000만 명)	남인	주로 생산 활동에 종사

< 보 기 >
 가. 서역인이 관리로 중용되었다.
 나. 옛 남송인들이 심한 차별을 받았다.
 다. 한화 정책이 적극적으로 추진되었다.
 르. 한족 통치를 위해 남면관계가 실시되었다.

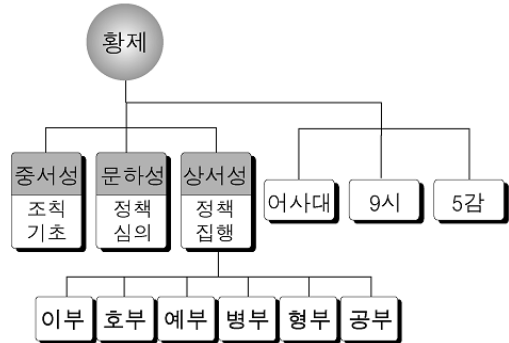
- ① 가, 나 ② 가, 다 ③ 나, 다 ④ 나, 르 ⑤ 다, 르

7. 지도의 전쟁이 그리스 사회에 끼친 영향으로 옳은 것은? [3점]



- ① 북부 아프리카에 카르타고 건설되었다.
 ② 솔론의 개혁으로 금권 정치가 시행되었다.
 ③ 아테네가 델로스 동맹의 맹주국이 되었다.
 ④ 클레이스테네스가 도편 추방제를 마련하였다.
 ⑤ 그리스 인과 페르시아 인의 혼인이 장려되었다.

8. 표의 중앙 행정 조직을 갖춘 왕조의 정책으로 옳은 것은?



- ① 율령 체제를 확립하였다.
 ② 균수·평준법을 실시하였다.
 ③ 문치주의로 황제권을 강화하였다.
 ④ 구품 중정계로 관리를 선발하였다.
 ⑤ 주현제와 맹안·모곡제를 병행하였다.

9. (가) 학파를 계승한 인물들이 활동으로 옳은 것은?

음양가, (가), 목가, 명가, 법가, 도가의 6개 학파는 모두 좋은 정치를 지향한다. 다만 주장하는 학설이 다르고, 학자들이 충분히 잘 성찰했느냐 못했느냐 하는 차이가 있을 뿐이다. (가)의 학문은 지나치게 방대하여 심신을 피로하게 하고 효과가 적다. 그러나 군신·부자의 예(禮)를 정하고 부부·장유 간에 차이를 둔 점은 무엇과도 바꿀 수 없다.
 - 사마천, 「사기」 -

- ① 세속에서 벗어나 청담을 즐겼다.
 ② 인도를 왕래하며 불경을 들여왔다.
 ③ 5경을 정리하여 훈고학을 발전시켰다.
 ④ 태평도와 오두미도를 민간에 전파하였다.
 ⑤ 법과 형벌에 의한 사회 질서 유지를 강조하였다.

10. 그림의 질문에 대한 답으로 적절할 것은? [3점]



- ① 마누 법전의 조항들을 알리기 위한 거야.
 ② 비슈누 신과 시바 신을 숭배하기 위한 거야.
 ③ 싯다르타의 가르침을 널리 알리기 위한 거야.
 ④ 아리아 인의 태양 숭배를 상징하기 위한 거야.
 ⑤ 이슬람 세력을 물리친 것을 기념하기 위한 거야.

사회탐구영역

세계사

11. 자료와 같은 현상이 나타날 수 있었던 배경을 <보기>에서 모두 고른 것은? [3점]

- 모든 가호는 영주에게 매년 지대 2실링과 수탉 4마리를 바치되 성 스테파노 순교일과 성 요한 축일에 분할하여 지불하였다.
- 샤프트르의 성 페레 수도원장은 수도사의 동의를 얻어 수도원의 농노를 해방시켰다. 그 대가로 농노는 수도원에서 받은 토지를 돌려 주고 10파운드의 돈을 덧붙여 지불하였다.

< 보 기 >


- ㄱ. 영주 직영지의 확대 ㄴ. 은대지 제도의 도입
- ㄷ. 도시와 길드의 발달 ㄹ. 상품 화폐 경제의 발달

- ① ㄱ, ㄴ ② ㄱ, ㄷ ③ ㄴ, ㄷ ④ ㄴ, ㄹ ⑤ ㄷ, ㄹ

12. (가)에 들어갈 내용으로 적절한 것은? [3점]

민재야, 안녕!

엑스파냐를 여행하다 오늘은 특이한 엽서를 샀어.
엽서의 그림을 봐. 그림처럼 보이지만 쿠란의 구절
을 형상화해서 만든 글씨라고 하더라. 이런 엽서를
팔게 된 배경을 알아보니 예전에 이곳은 (가)
고 하더라. 가톨릭 국가에서 이런 경험을 하더니
참 놀라웠어.
내일 또 새로운 볼거리를 기대하며 이만 쏜다.
2007. 8. 형준이가



- ① 서고트 왕국의 영역이었다.
- ② 후움디아드 왕조의 지배를 받았다.
- ③ 카스티야와 아라곤이 건국된 곳이었다.
- ④ 셀주크 투르크족이 활동하던 지역이었다.
- ⑤ 아바스 왕조가 동서 교역의 중심으로 삼았다.

13. 다음 사실을 연극으로 재구성한 장면으로 가장 적절한 것은?

오도아케르는 470년경 부족민들과 함께 이탈리아로 들어가 로마의 용병이 되었다. 그는 자기 휘하 군대의 추대를 받아 왕이 되었고 어린 황제를 폐위시켰다. 그는 로마 원로원의 지지를 얻어 추종자들에게 토지를 분배하였다.


- ① 카이사르가 살해당하는 모습
- ② 로마 군단이 갈리아 원정을 떠나는 모습
- ③ 노르만 인이 시칠리아 섬을 정복하는 장면
- ④ 시민들이 서로마 제국의 멸망을 애통해 하는 장면
- ⑤ 스파르타쿠스가 노예를 이끌고 반란을 일으키는 장면

14. (가) 교역로에 대한 탐구 활동으로 옳은 것은?



- ① 장건의 서역 파견으로 개척된 길을 알아본다.
- ② 스키타이 인의 이동 경로를 지도에 표시한다.
- ③ 몽골인들이 유럽 원정에 이용한 길을 파악한다.
- ④ 마르코 폴로가 이탈리아로 돌아온 길을 조사한다.
- ⑤ 동남아시아에 이슬람 교가 전파된 경로를 찾아본다.

15. 어느 위인전의 목차이다. 이 인물의 업적을 <보기>에서 모두 고른 것은? [3점]



추천사 : 부활한 유럽 통합의 영웅

1. 부친 피핀의 왕조 개장	10
2. 프랑크 왕국의 통치자로 등극	42
3. 활발한 대외 정복 활동	67
4. 로마 교황정과의 유대관계	125
5. 800년 축복받은 크리스마스	201

< 보 기 >

- ㄱ. 중정 학교를 세우고 라틴 문화를 장려하였다.
- ㄴ. 서로마 황제로서 로마 교회의 보호자가 되었다.
- ㄷ. 이탈리아 내전을 진압하여 신성 로마 황제가 되었다.
- ㄹ. 톰바르트 왕국을 정벌하고 라벤나 지방을 교황에게 기증하였다.

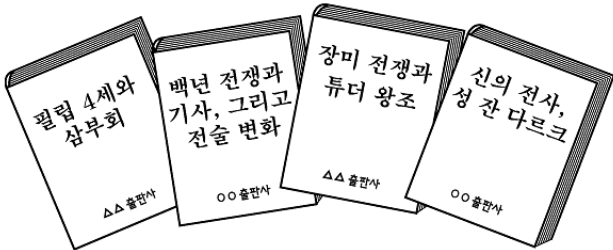
- ① ㄱ, ㄴ ② ㄱ, ㄷ ③ ㄴ, ㄷ ④ ㄴ, ㄹ ⑤ ㄷ, ㄹ

16 밑줄 친 '제국'에 대한 설명으로 옳지 않은 것은? [3점]

이 제국이 없었다면 우리 크리스트 교 세계는 7세기에 페르시아 왕의 군대를 어찌 막았을 것이며, 8세기에 바그다드 칼리프의 군대를 어찌 당해 낼 수 있었을까? 제국의 학자들과 필경사가 아니었다면, 지금 우리가 고전이라고 아는 것의 대부분 - 특히 그리스 지역에 보존되어 온 라틴 문학과 로마법 - 은 전해지지 않았을 것이다.

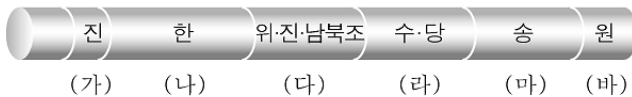
- ① 유스티니아누스 법전을 편찬하였다.
- ② 군관구제와 둔전병제를 실시하였다.
- ③ 수도인 콘스탄티노플에서는 무역이 발달하였다.
- ④ 주종 제도를 토대로 한 봉건 제도를 유지하였다.
- ⑤ 이슬람 제국의 침입으로 많은 영토를 상실하였다.

17. 다음은 보고서를 작성하기 위하여 구입한 책들이다. 보고서의 제목으로 적절할 것은? [3점]



- ① 프랑크 왕국의 분열
- ② 봉건제의 성립과 특징
- ③ 카롤링거 르네상스의 성격
- ④ 슬라브 문화권의 형성과 발전
- ⑤ 중세 기사의 몰락과 양권 강화


18 학생들이 공부해야 할 시험 범위를 연표에서 옳게 찾은 것은?



- ① (가)~(다) ② (가)~(라) ③ (가)~(마)
- ④ (나)~(라) ⑤ (나)~(바)

19 자료의 건축 양식이 반영된 건물들 <보기>에서 모두 고른 것은?

- 채색 유리화와 중릉(穹窿)*이 폭넓게 사용되어 로마네스크 양식의 교회와는 달리 성당 내부가 현란한 빛깔로 채워졌다.
 - 천국에 좀더 가까이 가려는 당시 사람들의 염원이 반영되어 성당 정면에 높은 첨탑이 세워졌다.
- *중릉: 활이나 무지개같이 굽은 형상, 또는 그렇게 만든 천장이나 지붕



- ① 가, 나 ② 가, 다 ③ 나, 다 ④ 나, 라 ⑤ 다, 라

20. 다음 상황이 나타나게 된 배경으로 옳은 것은?

하인리히 4세 : 나의 주장이 잘못됐다는 것을 깨닫고 이곳 카노사까지 왔으니, 교황 그레고리우스 7세에게 말씀드려 과문을 취소하도록 해주시오.
 들뤼니 수도원장 : 왜 그렇게 교황과 반목하였습니까? 황제의 잘못이 너무 큼니다.

- ① 황제가 교황의 지위를 겸하게 되었다.
- ② 교회의 대부분으로 교황권이 실추되었다.
- ③ 프랑스 국왕이 교황청을 아버지용으로 옮겼다.
- ④ 서민권을 둘러싸고 교황과 황제가 대립하였다.
- ⑤ 교회가 로마 가톨릭과 그리스 정교로 분리되었다.

※ 확인 사항

문제지와 답안지의 해당란을 정확히 기입(표기)했는지 확인하십시오.