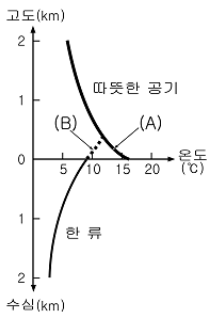
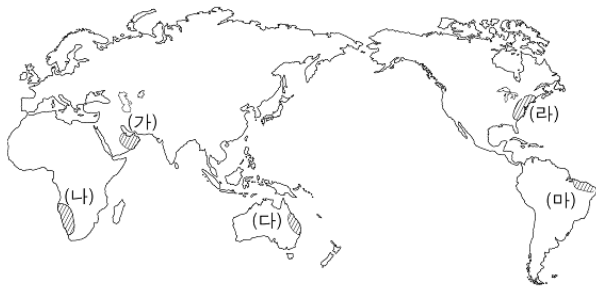


5. 자료의 ㉠에 해당하는 지역을 지도에서 옳게 고른 것은? [3점]

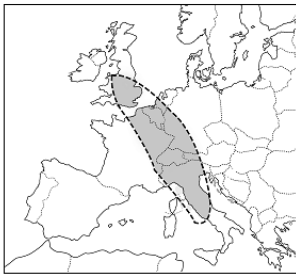


따뜻한 공기의 고도에 따른 기온 분포는 일반적으로 그래프의 (A)와 같습니다. 그런데, 이러한 공기가 한류가 흐르는 바다 위를 지나가게 되면 해수면과 접한 공기층이 냉각되면서 그래프의 (B)와 같은 기온 분포가 나타나게 됩니다. ㉠ 이와 같은 현상이 잘 나타나는 지역에서는 구름이나 안개는 발생하지만 대기가 안정되어 연중 비가 거의 내리지 않습니다.



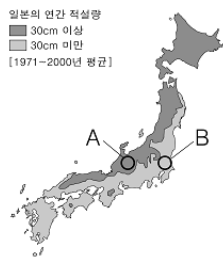
- ① (가) ② (나) ③ (다) ④ (라) ⑤ (마)

6. 지도에 표시된 지역에서 두드러지게 나타나는 특징으로 옳은 것은?



- ① 인구 유출이 현저하여 인구밀도가 낮다.
- ② 경작지 면적이 넓어 농업 인구 비율이 높다.
- ③ 산업의 중심지로 대도시들이 집중되어 있다.
- ④ 지하자원이 풍부하여 광산물 수출 비중이 높다.
- ⑤ 지가가 저렴하여 조방적인 토지 이용이 행해지고 있다.


7. 지도는 일본의 적설량을 나타낸 것이다. A, B 지역의 적설량 차이가 나타나는 원인에 대해 탐구하고자 할 때 조사 항목으로 적절한 것을 <보기>에서 모두 고른 것은?



- < 보 기 >
- ㉠. 위도의 차이 ㉡. 해류의 영향
 - ㉢. 산맥의 배열 ㉣. 계절풍의 방향

- ① ㉠, ㉡ ② ㉠, ㉢ ③ ㉡, ㉢ ④ ㉡, ㉣ ⑤ ㉢, ㉣

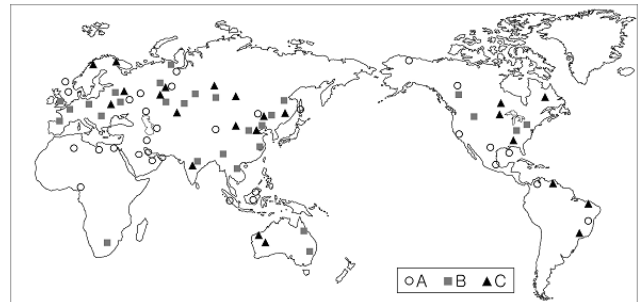
8. 자료는 사진과 같은 경관이 나타나는 지역에 대해 기록한 것이다. (가)에 들어갈 내용으로 옳은 것은? [3점]



식생: 나무가 많이 자라지 않으며 키 큰 풀들이 많다.
 동물: 먹이를 찾아 계절에 따라 장거리 이동을 한다.
 토양: 철산화물이 정적되어 있어 색깔이 붉다.
 기후: _____ (가)
 농업:

- ① 우계와 건계가 뚜렷하다.
- ② 연교차가 일교차보다 크다.
- ③ 사계절의 변화가 뚜렷하다.
- ④ 연중 아열대 고압대의 영향을 받는다.
- ⑤ 볼과 같은 기온이 일년 내내 나타난다.

9. 지도는 A~C 자원의 주요 생산 지역을 나타낸 것이다. 이를 분석한 내용으로 옳은 것은? [3점]



자원의 특색	자원의 종류		
	A	B	C
(가) 제철 공업의 원료로 이용된다.	✓		✓
(나) 최근에 수요가 감소하고 있다.	✓	✓	✓
(다) 신기 습곡 산지 주변에 많이 매장되어 있다.		✓	✓
(라) 산업 혁명기에 주 에너지원으로 이용되었다.	✓		
(마) 대기 오염 물질 배출량이 많은 화석 연료이다.	✓	✓	


※ 해당되는 항목에 '✓'표 한 것임

- ① (가) ② (나) ③ (다) ④ (라) ⑤ (마)

사회탐구영역

세계지리

10. (가), (나)는 서로 다른 지역의 경관을 나타낸 것이다. (가) 지역에 비해 (나) 지역에서 뚜렷이 나타나는 특징으로 옳은 것은?



- ① 강수량이 많다.
- ② 생물 종이 다양하다.
- ③ 낮과 밤의 기온 차가 크다.
- ④ 화학적 풍화 작용이 활발하다.
- ⑤ 유기물의 분해 속도가 빠르다.

11. 지도의 표시된 지역에 대해 공통적으로 탐구할 수 있는 조사 주제로 적절한 것은? [3점]



- ① 기후 조건이 유목의 발달에 미친 영향
- ② 도시화와 교통 발달이 낙농업에 미친 영향
- ③ 토양의 비옥도가 혼합 농업 발달에 미친 영향
- ④ 세계 육류 소비량 증가가 기업적 방목에 미친 영향
- ⑤ 관개 시설의 확충이 곡물 농업 지역 확대에 미친 영향

12. 자료는 '유럽 연합의 형성과 그 영향'에 대한 역할 놀이 내용의 일부이다. 옳은 것을 모두 고른 것은? [3점]

(가) - 우리도 신규 회원국으로 가입했으니 경제 성장이 가속화될 거야.

프랑스 공무원

(나) - 외국인 노동자가 많이 유입되어 국내 실업률이 높아졌어.

폴란드 노동자

(다) - 관세 없이 농산물을 다른 국가에 더 많이 판매할 수 있어 좋아.

에스파냐 농민

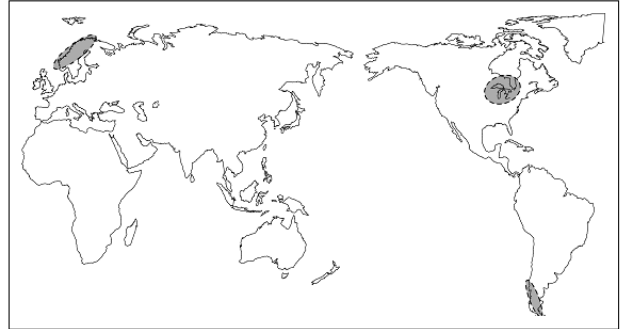
(라) - 자본 이동이 자유로워 우리 노동비가 싼 곳으로 공장을 옮겨야겠네.

독일 사업가

- ① (가), (나)
- ② (가), (다)
- ③ (나), (다)
- ④ (나), (라)
- ⑤ (다), (라)

13. 다음은 수업 내용의 일부이다. 밑줄 친 (가)에 들어갈 내용으로 가장 적절한 것은?

우리 모둠은 지도의 표시된 지역에 공통적으로 발달해 있는 지형의 형성 원인을 알아보기 위해 (가)에 대해 조사하였습니다.



- ① 기반암의 특성과 용식 작용
- ② 지각 판의 이동과 화산 활동
- ③ 기후 변동과 빙하의 분포 범위
- ④ 폭우성 강우의 빈도와 하천 범람
- ⑤ 식생 밀도와 바람에 의한 침식 작용

14. 자료는 중국에서 실시한 인구 정책에 대한 것이다. (가)에 들어갈 내용으로 적절한 것을 <보기>에서 모두 고른 것은? [3점]

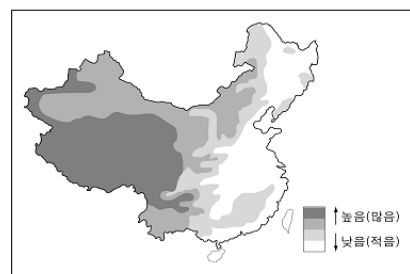
우리 어머니는 자녀를 다섯이나 낳았지만, 저는 '한 자녀 낳기' 정책 때문에 자녀를 한 명만 두었습니다. 그래서 개인적으로는 자녀 교육에 훨씬 더 많이 투자할 수 있어 좋고, 국가적으로는 인구 성장이 안정되어 경제에 도움이 되었다고 생각합니다.

하지만, '한 자녀 낳기' 정책이 지속되면 장래 (가) 과(와) 같은 사회 문제가 발생할 수 있습니다.

- < 보 기 >
- | | |
|-------------|----------------|
| ㉠. 노동력 부족 | ㉡. 도시 인구 급증 |
| ㉢. 여초 현상 심화 | ㉣. 노인 부양 부담 증가 |

- ① ㉠, ㉡
- ② ㉠, ㉢
- ③ ㉡, ㉣
- ④ ㉡, ㉣
- ⑤ ㉢, ㉣

15. 영수는 수행평가 과제로 중국을 지도와 같이 지역 구분하여 나타내었다. 이때 사용된 기준으로 적절한 것은?



- ① 경지율
- ② 인구 밀도
- ③ 연 강수량
- ④ 해발 고도
- ⑤ 1인당 주민 소득

사회탐구영역

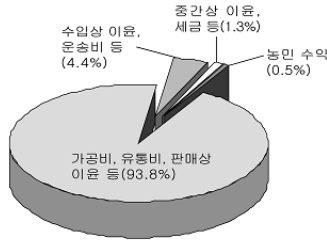
16 자료는 어떤 작물에 관한 것이다. 이에 대한 설명으로 옳지 않은 것은? [3점]

<주요 생산국과 소비국>

생산국	비율 (%)	소비국	비율 (%)
브라질	36.0	미국	18.6
베트남	10.2	독일	7.8
콜롬비아	9.8	일본	6.3
인도네시아	4.9	이탈리아	4.7
인도	4.1	프랑스	4.6
멕시코	3.8	러시아	2.4
에티오피아	3.4	스페인	2.3
과테말라	3.1	영국	1.9
기타	24.7	기타	51.4
합계	100	합계	100

(자료 : 2004, ICO)

<상품 가격의 구성 비율>



* 2001~2002년 아프리카산 상품이 영국으로 수입·판매된 것 기준

- ① 주로 열대 기후 지역에서 재배된다.
- ② 소득 수준이 높은 국가들의 소비량이 많다.
- ③ 다른 대륙에 비해 아메리카 대륙의 생산 비중이 높다.
- ④ 생산국보다 소비국이 가격 구성에 미치는 영향이 크다.
- ⑤ 소비가 늘어난다면 재배 농민의 수입이 가장 크게 증가한다.

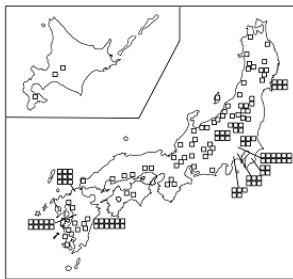
17 자료는 일본의 공업에 관한 것이다. 이를 토대로 (가), (나) 공업의 특징을 바르게 추론한 학생은 <보기>에서 모두 고른 것은? [3점]

일본은 제2차 세계 대전 이후 섬유 공업 중심의 경공업이 발달하였다. 그런데 1960년대부터는 (가)를 중심으로, 1980년대 이후에는 (나)를 중심으로 높은 성장을 이룩하였다.

(가) 공업의 분포



(나) 공업의 분포



< 보 기 >

- 철수 : (가)는 (나)보다 원료의 해외 의존도가 높을 거야.
 영희 : (가)는 (나)보다 생산비에서 연구 개발비 비중이 높을 거야.
 민정 : (나)는 (가)보다 제품의 수명 주기가 짧을 거야.
 경준 : (나)는 (가)보다 대기 오염 물질을 많이 배출할 거야.

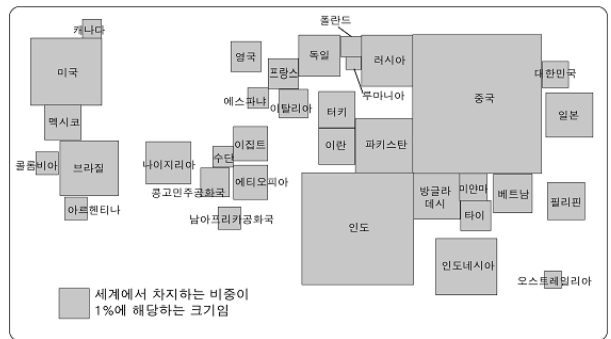
- ① 철수, 영희 ② 철수, 민정 ③ 영희, 민정
- ④ 영희, 경준 ⑤ 민정, 경준

18 다음 글의 '마지노선' 과 관련 깊은 지형으로 옳은 것은?

마지노선(Maginot Line)은 제1차 세계대전 후 프랑스가 독일군의 공격을 저지하기 위해 만든 대규모의 근대적 요새선(要塞線)이다. 그 길이는 북서부 쪽의 벨기에 국경에서 남동부 쪽의 스위스 국경까지 약 750km에 이르며, 이는 경암과 연암의 차별 침식으로 형성된 구릉에 요새를 구축하여 만든 것이다. 그러나 1940년 5월 독일군의 기습 공격으로 벨기에 방면이 돌파되면서 충분한 기능을 수행하지 못했다.

- ① 권곡 ② 케스타 ③ 선상지
- ④ 모레인 ⑤ 페디먼트

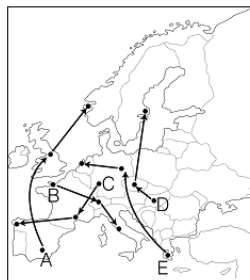
19 지도는 어떤 지표를 기준으로 국가별 비중을 나타낸 것이다. 이에 해당하는 지표로 옳은 것은?



- ① 인구 ② 무역량 ③ 곡물 수출량
- ④ 에너지 소비량 ⑤ 국내총생산(GDP)

20 다음 글은 유럽을 여행하면서 쓴 답사기의 일부이다. (가)→(나)→(다)의 경로로 옳은 것은?

(가) - 끝없이 펼쳐진 올리브 나무들 그리고 저녁 식탁에 오른 올리브 샐러드... 이곳의 백미는 단연 올리브였다.
 (나) - 유로화를 현지 화폐로 바꾸어야 하는 불편함이 있었지만, 세계적으로 유명한 프로축구 리그에서 뛰고 있는 태극 전사의 모습을 볼 수 있어 좋았다.
 (다) - 가장 기억에 남는 것은 유람선을 타고 피오르(Fjord) 해안을 본 것이다. 산과 산 사이에 바닷물이 들어와 생긴 커다란 협단은 정말 깨끗하고 아름다웠다.



- ① A
- ② B
- ③ C
- ④ D
- ⑤ E

※ 확인 사항

문제지와 답안지의 해당란을 정확히 기입(표기)했는지 확인하십시오.