

# 직업탐구 영역 (회계원리)

제 4 교시

성명

수험번호

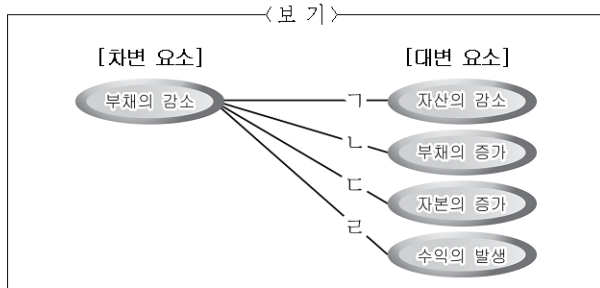
2

1

- 먼저 수험생이 선택한 과목의 문제지인지 확인하시오.
- 반드시 자신이 선택한 과목의 문제지를 풀어야 합니다.
- 문제지에 성명과 수험 번호를 정확히 기입하시오.
- 답안지에 수험 번호, 선택 과목, 답을 표기할 때에는 반드시 '수험생이 지켜야 할 일' 에 따라 표기하시오.
- 문항에 따라 배점이 다르니, 각 물음의 끝에 표시된 배점을 참고하시오. 3점 문항에만 점수가 표시되어 있습니다. 점수 표시가 없는 문항은 모두 2점씩입니다.

1. 다음 거래를 분개할 때 (가)~(다)에 해당하는 거래 요소의 결합 관계를 <보기>에서 골라 바르게 짝지은 것은?

- (가) 거래처로부터 차입금의 일부를 먼저 받다.  
 (나) 거래처에 대한 차입금을 현금으로 상환하다.  
 (다) 거래처에 대한 차입금을 지급하기 위하여 약속어음을 발행하여 교부하다.



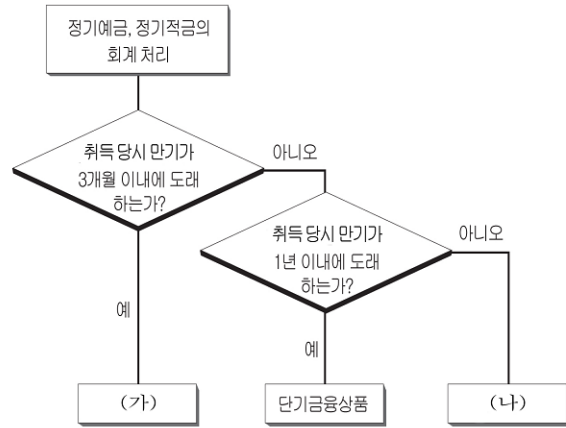
- | (가) | (나) | (다) |
|-----|-----|-----|
| ① ㄱ | ㄴ   | ㄷ   |
| ② ㄱ | ㄷ   | ㄴ   |
| ③ ㄴ | ㄷ   | ㄹ   |
| ④ ㄹ | ㄱ   | ㄴ   |
| ⑤ ㄹ | ㄱ   | ㄷ   |

2. 다음은 주식회사의 증자 방법에 대한 대화 내용이다. 밑줄 친 부분에 해당하는 사례로 적절한 것은? [3점]

선생님 : 증자의 방법에는 실질적 증자와 형식적 증자가 있어요.  
 철 수 : 선생님, 두 가지 방법의 차이점이 무엇인지 설명해 주세요.  
 선생님 : 실질적 증자는 회사의 순자산이 증가하는 증자 방법이고, 형식적 증자는 순자산의 증감 변화가 발생하지 않는 증자 방법입니다.

- ① 사업 확장을 위하여 주식을 발행하다.
- ② 운영자금을 조달하기 위하여 사채를 발행하다.
- ③ 이익준비금을 자본에 전입하기 위하여 주식을 발행하다.
- ④ 이익잉여금의 일부를 배당하기 위하여 주식을 발행하다.
- ⑤ 주식발행초과금을 자본에 전입하기 위하여 주식을 발행하다.

3. 그림의 금융 상품을 분류하여 회계 처리할 때 (가), (나)에 해당하는 계정과목을 바르게 짝지은 것은?



- | (가)     | (나)    |
|---------|--------|
| ① 당좌예금  | 만기보유증권 |
| ② 당좌예금  | 장기금융상품 |
| ③ 현금등가물 | 당좌예금   |
| ④ 현금등가물 | 만기보유증권 |
| ⑤ 현금등가물 | 장기금융상품 |

4. 그림에서 회계상의 거래를 바르게 이해하고 있는 학생을 모두 고르면?



- ① 영희
- ② 철수
- ③ 영희, 철수
- ④ 철수, 지희
- ⑤ 영희, 철수, 지희



# 직업탐구 영역 (회계원리)

회계원리

10. 다음은 기말 결산 정리 사항을 분류한 것의 일부이다. (가)에 해당하는 거래를 회계 처리할 때 그 결과를 바르게 추정한 것은? [3점]



- ① 부채가 증가한다.
- ② 비용이 감소한다.
- ③ 수익이 감소한다.
- ④ 자본이 증가한다.
- ⑤ 자산이 감소한다.

[11 ~ 12] 다음은 매입·매출 계정을 마감한 결과이다. 물음에 답하십시오.

매 입		매 출	
외 상 매 입 금	150,000	외 상 매 출 금	60,000
현 금	170,000	( 가 )	400,000
이 월 상 품	100,000		460,000
	<u>420,000</u>		
외 상 매 입 금	40,000	외 상 매 출 금	340,000
이 월 상 품	120,000	당 좌 예 금	120,000
손 익	260,000		460,000
	<u>420,000</u>		

11. 위 계정에서 사용한 매출손익 산출 방법으로 알맞은 것은?  
 ① 분기법      ② 순액법      ③ 정률법  
 ④ 정액법      ⑤ 총액법

12. 매출 계정의 (가)와 그 금액에 대한 내용으로 옳은 것을 <보기>에서 모두 고르면? [3점]

< 보 기 >

ㄱ. 기입되는 계정과목은 '손익'이다.  
 ㄴ. 금액은 당기의 매출원가이다.  
 ㄷ. 금액을 계산하는 식은 '기초상품재고액 + 당기순매입액 - 기말상품재고액'이다.

- ① ㄱ                      ② ㄴ                      ③ ㄱ, ㄷ
- ④ ㄴ, ㄷ                ⑤ ㄱ, ㄴ, ㄷ

13. 다음 자료를 바탕으로 (가)에 해당하는 계정과목의 금액을 바르게 계산한 것은?

순매출액	₩450,000	매출원가	₩200,000
여비교통비	₩50,000	운반비	₩10,000
외환차손	₩20,000	사채상환손실	₩40,000
소모품비	₩15,000		

매출총이익 - ( 가 ) = 영업이익

- ① ₩60,000              ② ₩70,000              ③ ₩75,000
- ④ ₩95,000              ⑤ ₩115,000

14. 다음 계정의 (가)에 기입될 거래에 해당하는 것을 <보기>에서 모두 고르면?

미지급금	
지 급 액	전기이월액
차기이월액	( 가 )

< 보 기 >

ㄱ. 건물을 구입하고 대금은 월말에 지급하기로 하다.  
 ㄴ. 상품을 매입하고 대금은 1개월 후에 지급하기로 하다.  
 ㄷ. 업무용 승용차를 구입하고 대금은 월말에 지급하기로 하다.

- ① ㄱ                      ② ㄴ                      ③ ㄱ, ㄷ
- ④ ㄴ, ㄷ                ⑤ ㄱ, ㄴ, ㄷ

15. 다음에서 은행의 대출 금리가 콜 금리의 변동에 따라 연동된다고 할 때, 2006년 상반기에 OO(주)에게 끼친 영향을 바르게 추정한 것은? [3점]

장단기 시장 금리의 기준이 되는 콜 금리를 한국은행의 금융통화위원회에서 4.25%로 동결했다.

- 중 략 -

콜금리 변동 추이

- OO일보 -

잔 액 시 산 표

OO(주) 2005년 12월 31일 (단위: 원)			
현 금	800,000	외상매입금	400,000
상 품	200,000	장기차입금	600,000
건 물	1,300,000	자 본 금	1,000,000
매 입	700,000	매 출	1,500,000
금 여	300,000		
이자비용	200,000		
	<u>3,500,000</u>		<u>3,500,000</u>

※ 2006년 상반기에는 차입금과 자본금의 변화가 없었음.

- ① 자본금의 증가                      ② 매입액의 증가
- ③ 당좌자산의 증가                    ④ 이자비용의 증가
- ⑤ 이자수익의 증가

16. 다음 거래를 회계 처리하였을 때 공통으로 나타날 수 있는 결과를 <보기>에서 모두 고르면?

- 10월분 전화 요금 ₩100,000을 현금으로 지급하다.
- 분사 건물의 재산세 ₩500,000을 수표를 발행하여 납부하다.

< 보 기 >

ㄱ. 자산이 감소한다.                      ㄴ. 채무가 감소한다.  
 ㄷ. 채권이 증가한다.                      ㄹ. 영업비용이 증가한다.

- ① ㄱ, ㄷ                      ② ㄱ, ㄹ                      ③ ㄴ, ㄹ  
 ④ ㄱ, ㄴ, ㄷ                ⑤ ㄴ, ㄷ, ㄹ

17. 다음과 같이 잔액이 일치하지 않을 때 회계 처리하는 방법으로 옳은 것은? [3점]

금고 잔액		현금출납장			
월	일	적요	수입	지출	잔액
10	1	전월이월	500,000		500,000
	8	어음대금지급		300,000	200,000
	20	당좌예금인출	100,000		300,000
	31	차월이월		300,000	
			600,000	600,000	
11	1	전월이월	300,000		300,000

W280,000  
 -10월 31일 현재-

- ① 현금 계정 차변에 분개한다.  
 ② 잡이익 계정 대변에 분개한다.  
 ③ 당좌차월 계정 대변에 분개한다.  
 ④ 소액현금 계정 차변에 분개한다.  
 ⑤ 현금과부족 계정 차변에 분개한다.

18. 다음 일기를 쓴 사람이 의사 결정에 참고한 재무제표를 <보기>에서 모두 고르면?

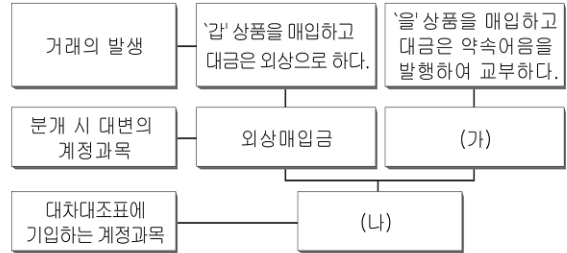
2006년 8월 15일(화) 날씨 : 맑음  
 그동안 남았었던 적금이 곧 만기가 된다.  
 적금을 찾으면 평소에 관심이 많았던 주식에 투자하고 싶어서 OO 증권 회사의 김과장을 만나 상담을 받았다.  
 김과장은 주식 투자를 할 때는 회사의 재무상태와 경영 성과를 고려해야 한다면서 A, B 두 회사를 추천하였다. 이 두 회사를 비교하고 나서 A회사의 주식에 투자하기로 결정했다.

< 보 기 >

ㄱ. 대차대조표                              ㄴ. 손익계산서  
 ㄷ. 현금흐름표                            ㄹ. 이익잉여금처분계산서

- ① ㄱ, ㄴ                      ② ㄱ, ㄹ                      ③ ㄷ, ㄹ  
 ④ ㄱ, ㄴ, ㄹ                ⑤ ㄴ, ㄷ, ㄹ

19. 그림에서 (가), (나)에 들어갈 계정과목을 바르게 짝지은 것은?



- (가)                      (나)  
 ① 받을어음              매입채무  
 ② 받을어음              약속어음  
 ③ 지급어음              매입채무  
 ④ 지급어음              매출채권  
 ⑤ 지급어음              약속어음

20. 다음 손익 계정과 대차대조표를 바탕으로 바르게 계산한 것은? [3점]

손 익			
매 입	600,000	매 출	1,200,000
급 여	200,000	임 대 료	300,000
기 부 금	80,000	수수료수익	100,000
외화환산손실	20,000		
자 본 금	700,000		
	<u>1,600,000</u>		<u>1,600,000</u>

대차대조표			
OO회사	200×년 12월 31일	(단위:원)	
현금및현금성가물	900,000	매 입 채 무	500,000
매 출 채 권	200,000	단 기 차 입 금	300,000
상 품	300,000	자 본 금	2,000,000
비 품	400,000	(당기순이익700,000)	
건 물	1,000,000		
	<u>2,800,000</u>		<u>2,800,000</u>

- ① 재고자산은 ₩700,000이다.  
 ② 영업외수익은 ₩300,000이다.  
 ③ 기초 자본금은 ₩1,300,000이다.  
 ④ 고정자산의 합계 금액은 ₩1,700,000이다.  
 ⑤ 당좌자산의 합계 금액은 ₩1,200,000이다.

※ 확인사항  
 ○ 문제지와 답안지의 해당란을 정확히 기입(표기) 했는지 확인하십시오.